



Правила и Безопасность Дорожного Движения ЭКЗАМЕНАЦИОННЫЕ БИЛЕТЫ

официальное четырнадцатое издание



АВ



Украина

УДК 656.13.052.8 (075.4)

ББК 39.808.я7

Я 11

АВ

АВТОРЫ:



ГУСАРОВ Сергей Николаевич —
Ректор Харьковского национального
университета внутренних дел,
член-корреспондент Национальной
академии правовых наук,
доктор юридических наук,
заслуженный юрист Украины,
генерал-полковник милиции;



Астапкович Владимир Иванович —
начальник Департамента ГАИ МВД
Украины, полковник милиции;



БУДНИК Сергей Иванович —
начальник ЦБДД и АС при МВД Украины,
генерал-майор милиции;



ДЕМЯНКО Александр Николаевич —
первый заместитель начальника ДГАИ МВД
Украины, полковник милиции;



БЕРЁЗКО Николай Михайлович —
заведующий отделом образования и науки
Главного управления по вопросам
гуманитарного развития Администрации
Президента Украины, заслуженный
работник образования Украины;



КОЛЧИНСКИЙ Юрий Иосифович —
директор НПП «Светофор»,
преподаватель-методист
высшей категории;

Утверждено приказом Департамента ГАИ МВД Украины № 76 от 17.05.2013 г.

Согласовано с ЦБДД и АС при МВД Украины.

Рекомендовано Министерством образования и науки Украины.

Разрешение № 1/11-6793 от 22.07.2010 г.

Свидетельство о Государственной регистрации авторского права на произведение
№ 34089 от 13.07.2010 г. Государственного Департамента интеллектуальной
собственности Министерства образования и науки Украины.

Исключительное право на использование произведения принадлежит НПП «Светофор»
61024, Украина, г. Харьков, ул. Лермонтовская, 12.
(решение № 1331 от 13.07.2010 г. ГДИС МОНУ).

ПБДД — Экзаменационные билеты: учеб. метод. пособ./ С. Н. Гусаров,
Я11 В. И. Астапкович, С. И. Будник, А.Н. Демянко, Н.М. Берёзко, Ю. И. Колчинский.—
14-тое изд. — Х.: Светофор. — 2013. — 166 с.

ISBN 978-966-7877-53-8

Содержание и состав «ПБДД — Экзаменационные билеты» соответствуют ныне действующим Правилам дорожного движения и другим нормативно-правовым актам Украины. Билеты разработаны для сдачи теоретического экзамена на право управления транспортными средствами, а также для обучения широкого круга лиц, которые готовятся стать водителями транспортных средств.

Пособие предназначено для кандидатов в водители и для водителей со стажем, преподавателей автошкол и руководителей автопредприятий, специалистов, занимающихся обеспечением безопасности дорожного движения, а также для всех участников дорожного движения.

УДК 656.13.052.8 (075.4)

ББК 39.808.я7

Идентификационный номер
в международной системе кодирования
EAN International 9789667877538

© Колчинский Ю. И., 1987 - 2013
© Гусаров С. Н., Астапкович В. И., Будник С. И.,
Демянко А. Н., Берёзко Н. М., 2013
© Научно-производственное
предприятие «Светофор», 2013


ISBN 978-966-7877-53-8

Утверждено Департаментом ГАИ МВД Украины
Рекомендовано Министерством образования и науки Украины

Правила и **Б**езопасность **Д**орожного **Д**вижения

ЭКЗАМЕНАЦИОННЫЕ БИЛЕТЫ

официальное четырнадцатое издание



Украина



2013

ВНИМАНИЕ!

Экзаменационные билеты составлены в соответствии с Правилами дорожного движения, введенными в действие с 1 января 2002 года, с изменениями и дополнениями по настоящее время. Каждый билет состоит из двадцати заданий. На вопрос каждого задания предлагается от двух до пяти ответов, правильным может быть только один.

Чтобы убедиться в том, что Вы успешно решили задачу, необходимо воспользоваться кодом правильных ответов. Если Вам непонятно, почему ответ должен быть именно таким, как указано в коде, посмотрите в правый нижний угол рамки задания. Здесь указан номер пункта Правил дорожного движения, на основании которого задача составлена.

Обратите внимание, что **при решении задач по проезду перекрёстков отсутствуют понятия «одновременно», «попутно», «под прикрытием».** Объясняется это тем, что в Правилах дорожного движения такие понятия тоже отсутствуют, а также необходимостью **повышения персональной ответственности водителей.**

Учитывая, что билеты имеют тематическую структуру распределения заданий, рекомендуется при приеме экзаменов разрезать их по вертикали или по горизонтали и менять местами их части. При этом общее содержание и требования билетов не нарушаются.

Литература, рекомендуемая для работы с учебно-методическим пособием «Правила и безопасность дорожного движения — ЭКЗАМЕНАЦИОННЫЕ БИЛЕТЫ»:

- «Правила дорожного движения Украины». Официальное издание. НПП «Светофор», 2013г. (ПДД);
- «Кодекс Украины об административных правонарушениях» (КУоАП);
- Закон Украины «О милиции» (ЗУМ);
- В. И. Коноплянко. «Основы безопасности дорожного движения» (ОБД);
- Н. В. Колчинская. «Оказание первой медицинской помощи участникам дорожного движения». Официальное издание. НПП «Светофор», 2013 г. (ОПМП);
- С.Н. Гусаров, С.Г. Коломиец, В.Н. Зайченко, ответственный за выпуск Ю. И. Колчинский. «Комментарии к Правилам дорожного движения Украины». Издание 3-е, переработанное и дополненное. НПП «Светофор», 2013 г.

Учебно-методическое пособие состоит из четырёх книг:

- ***«Я — водитель»***
- ***«ПДД — Экзаменационные билеты»***
- ***«Оказание первой медицинской помощи участникам дорожного движения» с кратким практическим пособием***
- ***«Ответственность за нарушение Правил дорожного движения»***

1 Что означает, по Правилам дорожного движения, термин «остановка»?

1. Только прекращение движения транспортного средства для посадки (высадки) пассажиров либо погрузки (разгрузки) груза, а также для выполнения требований Правил.
2. Прекращение движения транспортного средства на время до 5 минут или более, если это необходимо для посадки (высадки) пассажиров либо погрузки (разгрузки) груза, выполнения требований Правил.
3. Оба ответа дополняют друг друга и поэтому верны.

1.10

2 Как должен поступить водитель мотоцикла без бокового прицепа, если он услышал специальный звуковой сигнал и увидел, что его догоняет автомобиль с включённым проблесковым маячком синего цвета?

1. Увеличить скорость, чтобы не столкнуться с догоняющим автомобилем.
2. Подать звуковой сигнал, чтобы привлечь внимание других участников дорожного движения.
3. Уступить дорогу такому транспортному средству и обеспечить ему беспрепятственный проезд.

3.2

3 Как должен поступить водитель, если его транспортное средство не может продолжать движение на подъеме со скоростью равной или более 40 км/ч?



1. Продолжать движение по основной полосе, если за ним нет других транспортных средств.
2. Перестроиться на дополнительную полосу.
3. Продолжать движение по основной полосе, если длина подъема не превышает 300 м.

Прил. 1: 5.20.2

4 Данный дорожный знак обозначает:



1. Участок дороги, на котором нет тротуара или пешеходной дорожки.
2. Участок дороги, на котором имеется тротуар или пешеходная дорожка.
3. Приближение к нерегулируемому пешеходному переходу, обозначенному соответствующими дорожными знаками или дорожной разметкой.

Прил. 1: 1.32

5 Данным дорожным знаком:



1. Запрещается разворот, поворот налево разрешается.
2. Запрещается поворот налево, разворот разрешается.
3. Запрещаются поворот налево и разворот.

Прил. 1: 3.23

6 Разрешается ли пересекать узкую сплошную белую линию дорожной разметки, обозначающую край проезжей части дороги, смежный с обочиной?



1. Разрешается.
2. Запрещается.

Прил. 2: 1.1

7 Данным дорожным знаком:



1. Разрешено движение на трёхколёсных и других механических транспортных средствах, разрешённая максимальная масса которых не превышает 400 кг.
2. Запрещено движение только на мотоциклах с боковым прицепом.
3. Разрешено движение на мотороллерах и велосипедах.
4. Запрещается движение на мотоциклах. Действие знака не распространяется на водителей, обслуживающих граждан, которые работают в обозначенной зоне.
5. Информация, заложенная в ответах 1, 3 и 4.

Прил. 1: 3.6;
1.10 «мотоцикл»

8 Чем должен руководствоваться водитель, когда требования временных дорожных знаков и линий разметки противоречат друг другу?

1. Временными дорожными знаками.
2. Линиями разметки.


8.2

9 На каком расстоянии от пешеходных переходов запрещаются остановка и стоянка транспортных средств?

1. Остановка и стоянка запрещены на самих пешеходных переходах и ближе 25 м от них с обеих сторон.
2. Остановка и стоянка запрещены на самих пешеходных переходах и ближе 15 м от них с обеих сторон.
3. Остановка и стоянка запрещены на самих пешеходных переходах и ближе 10 м от них с обеих сторон.

15.9 «Г»

10 Как должен поступить водитель легкового автомобиля в показанной ситуации?



1. При выезде из двора уступить дорогу пешеходу и транспортным средствам.
2. Остановиться у края проезжей части, уступая дорогу транспортным средствам.
3. Быстрее завершить поворот, чтобы не создавать помехи транспортным средствам.

10.2

11 Каким способом разрешается буксировка легкового автомобиля с неисправным двигателем? Дайте полный ответ.

- 1. Способом частичной погрузки.
- 2. На жёсткой сцепке.
- 3. На гибкой сцепке.
- 4. На жёсткой или гибкой сцепке.
- 5. Любым вышеуказанным способом.

23.4

12 Разрешается ли двигаться без необходимости с очень малой скоростью?

- 1. Разрешается при утомлённом состоянии водителя.
- 2. Запрещается, если это препятствует другим транспортным средствам.
- 3. Разрешается при проезде перекрёстков.

12.9 «В»

13 Водитель какого транспортного средства должен уступить дорогу при встречном разъезде на участках дорог, обозначенных знаком «Крутой спуск»?

- 1. Водитель легкового автомобиля — водителю автобуса.
- 2. Водитель транспортного средства, движущегося на подъём.
- 3. Водитель транспортного средства, движущегося на спуск.

13.4

14 Данным опознавательным знаком обозначаются транспортные средства:



- 1. Перевозящие медикаменты.
- 2. Принадлежащие водителям-врачам.
- 3. Управляемые глухими или глухонемыми водителями.

30.3 «Ж»

15 Разрешаются ли остановка и стоянка легковых автомобилей на левой стороне дороги с односторонним движением?

- 1. Разрешаются только легковым автомобилям скорой медицинской помощи при оказании помощи больному.
- 2. Запрещаются всем легковым автомобилям.
- 3. Разрешаются всем легковым автомобилям на дорогах в населённых пунктах.

15.3

16 Если водитель нерельсового транспортного средства приближается к перекрёстку, к которому приближается справа и другое транспортное средство, то:

- 1. На перекрёстке равнозначных дорог преимущественное право предоставляется тому, кто приближается справа.
- 2. На неравнозначном перекрёстке преимущественное право предоставляется тому, кто приближается справа.
- 3. На перекрёстке любой конфигурации преимущественное право предоставляется тому, кто приближается справа.

16.11; 16.12

17 Какие факторы должен учитывать водитель для принятия мер безопасности при повороте с хорошо освещенной улицы на неосвещенную? Дайте полный ответ.

- 1. Интенсивность движения на неосвещённой дороге ниже, поэтому, включив дальний свет, можно двигаться с высокой скоростью.
- 2. Для адаптации зрения необходимо определённое время.
- 3. Автомобиль сначала повернёт, и только потом фары высветят имеющиеся препятствия на неосвещённой дороге.
- 4. Факторы, указанные в ответах 2 и 3.
- 5. Факторы, указанные в ответах 1, 2 и 3.

ОБД


18 Вы приближаетесь к нерегулируемому пешеходному переходу. Как вы должны поступить в данной ситуации?



- 1. Снизить скорость, а в случае необходимости остановиться, чтобы уступить дорогу пешеходам, для которых может быть создано препятствие или опасность.
- 2. Увидив, что пешеходы заметили Вас, несколько увеличить скорость и побыстрее проехать пешеходный переход.

18.1

19 Как следует двигаться по горным дорогам?



- 1. С работающим двигателем, с включёнными сцеплением и передачей.
- 2. С неработающим двигателем, но с включёнными сцеплением и передачей.
- 3. С неработающим двигателем и выключенными сцеплением или передачей.

28.3 «А»

20 Вторым проедет перекрёсток:



- 1. Красный автомобиль.
- 2. Зелёный автомобиль.
- 3. Синий автомобиль.

16.11; 16.14

1 По определению Правил дорожного движения, «пешеходная дорожка» — это:

1. Элемент дороги, предназначенный для движения пешеходов и транспортных средств со специальными сигналами.
2. Дорожка с покрытием, предназначенная для движения пешеходов и лиц в инвалидных колясках, выполненная в пределах дороги или вне её и обозначенная знаком «Дорожка для пешеходов».
3. Любая дорожка, предназначенная для движения пешеходов и водителей-инвалидов, управляющих мотоколяской и обозначенная знаком «Дорожка для пешеходов».

1.10


2 Водителю какого автомобиля разрешается остановка в зоне действия данного дорожного знака с табличкой?



1. Водителю красного автомобиля.
2. Водителю жёлтого автомобиля, обозначенного опознавательным знаком «Инвалид».
3. Обоим водителям.
4. Ни одному водителю.

2.8

3 Данный дорожный знак означает, что:



1. Впереди участок дороги, на который запрещается въезд всех механических транспортных средств.
2. Впереди участок дороги, на который запрещён въезд всех транспортных средств, кроме маршрутных.
3. Впереди участок дороги, на который запрещается въезд всех транспортных средств, кроме мотоциклов и велосипедов.
4. Информация, заложенная в ответах 2 и 3.

Прил. 1: 3.21

4 Данный дорожный знак с табличкой:



1. Запрещает разворот только грузовых автомобилей с прицепом.
2. Запрещает разворот только легковых автомобилей с прицепом.
3. Запрещает разворот только тракторов с прицепом.
4. Запрещает разворот всех транспортных средств с прицепом.
5. Запрещает разворот только тракторов и грузовых автомобилей.

Прил. 1: 7.5.2

5 Разрешается ли выполнить обгон в данном месте населённого пункта?



1. Разрешается, если обгон завершится до железнодорожного переезда.
2. Запрещается.
3. Разрешается при скорости обгоняемого менее 30 км/ч.

Прил. 1: 1.28; 14.6 «Б»


6 Перед Вами две сплошные линии разметки — слева и справа. Разрешается ли их пересекать?



1. Запрещается пересекать только левую линию. Правую разрешается пересекать, так как она обозначает край проезжей части и смежна с обочиной.
2. Запрещается пересекать обе линии.

Прил. 2: 1.1

7 Какая информация заложена в данном дорожном знаке?



1. Обозначает выезд на дорогу с полосой для маршрутных транспортных средств.
2. Обозначает выезд на главную дорогу.
3. Обозначает выезд на дорогу с реверсивным движением.
4. Информация, заложенная в ответах 2 и 3.

Прил. 1: 5.15

8 В каком ответе названы транспортные средства, которым разрешено движение?



1. Легковой автомобиль.
2. Грузовой автомобиль.
3. Мотоцикл.
4. Легковой и грузовой автомобили.
5. Автобус.


8.8 «А»

9 В каких случаях разрешается использовать звуковой сигнал в населённых пунктах?

1. Для предотвращения дорожно-транспортного происшествия.
2. При обгоне.
3. В случаях, указанных в ответах 1 и 2.

9.5

10 Разрешается ли учебная езда на участках дорог, обозначенных данным дорожным знаком?



1. Разрешается только на легковом автомобиле при достаточных навыках у обучаемого.
2. Запрещается.
3. Разрешается при движении по первой полосе проезжей части.

24.9



11 Дорога с двусторонним движением имеет по три полосы для движения в каждом направлении. В каком из перечисленных случаев водителю легкового автомобиля разрешается выезжать на крайнюю левую полосу?

1. Только для обгона.
2. Только для движения прямо, если заняты правые полосы, поворота налево или разворота.
3. Во всех перечисленных случаях.

11.5

12 Какие из перечисленных действий запрещаются водителю при выборе скорости движения?

1. Только превышать максимальную скорость движения, определённую технической характеристикой данного транспортного средства.
2. Только препятствовать другим транспортным средствам, двигаясь без необходимости с очень малой скоростью.
3. Действия, перечисленные в ответах 1 и 2, запрещены.

12.9 «А», «В»

13 Какую дистанцию на дорогах вне населённых пунктов должны соблюдать водители транспортных средств, скорость движения которых не превышает 40 км/ч?

1. Дистанция должна быть такая, чтобы транспортные средства, осуществляющие обгон, имели возможность беспрепятственно вернуться на ранее занимаемую полосу движения. Это требование не действует, если водитель тихоходного транспортного средства готовится к выполнению обгона или объезда и подаёт предупреждающий сигнал.
2. Дистанция должна быть не менее 50 м.
3. Дистанция должна быть не менее 100 м.

13.2

14 Разрешается ли обогнать транспортное средство, которое обгоняет другое транспортное средство?

1. Разрешается, если скорость движения при обгоне не превышает установленную скорость движения для данного участка дороги.
2. Запрещается.
3. Разрешается всем транспортным средствам, кроме автобусов.
4. Разрешается в случаях, указанных в ответах 1 и 3.

14.6 «Г»

15 В каких местах из перечисленных запрещена остановка транспортных средств?

1. Под мостами и на них.
2. На берегу водоёма.
3. Ближе 20 м от перекрёстка.
4. По всех указанных местах.


15.9 «В»

16 Вы поворачиваете налево при основном зелёном сигнале светофора. Каким транспортным средствам необходимо уступить дорогу?

1. Всем транспортным средствам, движущимся с других направлений.
2. Только трамваю попутного направления, а также транспортным средствам, движущимся во встречном направлении прямо или поворачивающим направо.
3. Только транспортным средствам, приближающимся справа.

16.6

17 При движении на повороте автомобиль более устойчив, если движение осуществляется:



1. С увеличением скорости.
2. С выключенной передачей.
3. С включённой передачей.

ОБД

18 Запрещается эксплуатация транспортного средства путём доставки его на специальную площадку или стоянку ГАИ:

1. В случае нарушения Правил дорожного движения, повлекшего создание аварийной обстановки.
2. В случаях, предусмотренных законодательством.
3. В случаях, указанных в ответах 1 и 2.

31.7

19 Разрешается ли установка шин с разными рисунками протектора на одну ось легкового автомобиля?

1. Разрешается.
2. Разрешается только на заднюю ось переднеприводного автомобиля.
3. Запрещается.

31.4.5 «Г»

20 Первым проедет перекрёсток:



1. Синий автомобиль.
2. Красный автомобиль.
3. Зелёный автомобиль.
4. Жёлтый автомобиль.

16.11; 16.13

1 По определению Правил дорожного движения, при каком минимальном расстоянии наступают условия «недостаточной видимости» в сумерках, в условиях тумана, дождя, снегопада и т. п.?



1. Менее 500 м.
2. Менее 400 м.
3. Менее 300 м.

1.10

2 Какого цвета должны быть проблесковые маячки транспортного средства, замыкающего колонну транспортных средств? Дайте полный ответ.

1. Зелёного цвета.
2. Зелёного и синего цвета.
3. Цвет проблесковых маячков должен соответствовать ответам 1 или 2.
4. Синего и красного цвета.
5. Красного цвета.

3.3



3 Какая информация заложена в данном дорожном знаке?



1. Впереди участок дороги, на котором запрещается остановка всех транспортных средств.
2. Впереди участок дороги, на котором остановка грузовых автомобилей запрещена.
3. Впереди участок дороги, на котором разрешается остановка только транспортных средств, которые движутся по установленным маршрутам.
4. Впереди участок дороги, на котором разрешается стоянка транспортных средств.
5. Информация заложена в ответах 2 и 3.

Прил. 1: 5.38

4 Какой из данных дорожных знаков разрешает движение грузового автомобиля с общей фактической массой 6 т?

1. Только знак 
2. Только знак 
3. Оба знака разрешают движение.

Прил. 1: 3.3, 3.15

5 Данный дорожный знак предупреждает, что:



1. Встречный разъезд в туннеле затруднён из-за сужения проезжей части.
2. Порядок движения в туннеле регулируется светофором.
3. На подъезде к туннелю сужена проезжая часть.

4. Информация, заложенная в ответах 1 и 3.


Прил. 1: 1.9

6 Широкая жёлтая прерывистая линия дорожной разметки на проезжей части обозначает:

1. Место остановки маршрутных транспортных средств.
2. Место, где на полосу маршрутных транспортных средств разрешён заезд других транспортных средств.
3. Место, где на полосу маршрутных транспортных средств разрешены заезд и дальнейшее движение по ней других транспортных средств.

Прил. 2: 1.2

7 Данный дорожный знак с табличкой:



1. Информировывает водителя о том, что он находится в конце зоны действия знака «Стоянка запрещена».
2. Информировывает водителя о том, что он находится в начале зоны действия знака «Стоянка запрещена».
3. Информировывает водителя о том, что он находится в зоне действия знака «Стоянка запрещена».

Прил. 1: 3.35, 7.2.4

8 Разрешается ли занимать место для постоянного движения в колонне другим транспортным средствам?

1. Запрещается.
2. Разрешается только в светлое время суток.
3. Разрешается на время до 30 секунд.
4. Разрешается при наличии безопасной дистанции.
5. Разрешается при выполнении всех вышеуказанных условий.

25.6

9 Дайте полный ответ, когда водитель должен подавать сигналы световыми указателями поворотов соответствующего направления?

1. Перед началом движения.
2. Перед остановкой.
3. Перед перестроением, поворотом или разворотом.
4. В случаях, указанных в ответах 1, 2, 3.
5. В случаях, указанных в ответах 1 и 3.

9.2

10 При каких перечисленных условиях учебная езда на автомобиле на дорогах разрешается? Дайте полный ответ.

1. Если лицу, обучающемуся вождению автомобиля, не менее 16 лет и при наличии у него достаточных начальных навыков вождения.
2. В присутствии специалиста по подготовке водителей.
3. При условиях, указанных в ответах 1 и 2, а также если водительский стаж обучающего не менее пяти лет.
4. При условиях, указанных в ответах 1 и 2.

24.2; 24.5

11 Движение по проезжей части на велосипедах разрешается только в один ряд по правой крайней полосе как можно правее. В каких случаях разрешается выезд из данной полосы?

1. Только когда выполняется обезд.
2. Для поворота налево и разворота в разрешённых Правилами дорожного движения случаях.
3. В случаях, указанных в ответах 1 и 2.
4. В случаях, указанных в ответах 1 и 2, а также при наличии не более двух полос для движения в данном направлении.

11.14

12 С какой максимальной скоростью разрешается движение транспортных средств, управляемых водителями со стажем до двух лет, на автомагистралях?

- | | | | | |
|---------|---------|---------|---------|----------|
| 1 | 2 | 3 | 4 | 5 |
| 60 км/ч | 70 км/ч | 80 км/ч | 90 км/ч | 100 км/ч |

12.6 «Б»

13 Дайте полный ответ. Чтобы не создавать опасности для дорожного движения, безопасный интервал необходимо выбирать:

1. Во время стоянки на площадке, обозначенной табличкой «Способ постановки транспортного средства на стоянку».
2. При обгоне, опережении, объезде препятствия.
3. При встречном разъезде.
4. В случаях, перечисленных в ответах 2 и 3.


13.3

14 В каких случаях перерегистрируются в ГАИ транспортные средства?

1. В случаях указанных в ответах 2,3 и 4.
2. Только если изменяется цвет автомобиля.
3. Только если изменяется адрес владельца транспортного средства.
4. Если необходимо внести изменения в регистрационные документы.

30.1

15 На каком расстоянии от железнодорожных переездов запрещается остановка транспортных средств?



1. На расстоянии не более 20 м.
2. На расстоянии не менее 20 м.
3. Остановка запрещена только на самом железнодорожном переезде.

15.9 «А»

16 Красный автомобиль проедет перекрёсток:



1. Третьим, после зелёного и жёлтого.
2. Вторым.
3. Вторым, после жёлтого.

16.12

17 Как следует поступить, если во время движения произошёл прокол шины колеса?

1. Резко затормозить и остановиться.
2. Крепко держать рулевое колесо и плавно остановиться.
3. Повернуть рулевое колесо в сторону повреждённой шины и затормозить.

ОБД

18 Разрешается ли эксплуатация автомобиля, если на нём отсутствует один болт (гайка) крепления колеса?

1. Разрешается со скоростью до 30 км/ч.
2. Разрешается, если исправна тормозная система автомобиля.
3. Разрешается, если болт (гайка) отсутствует на заднем колесе.
4. Запрещается.

31.4.5 «Є»

19 В каких из перечисленных случаев следует переключить дальний свет фар на ближний?

1. При въезде в населённый пункт.
2. При движении с небольшой скоростью.
3. При въезде на перекрёсток.
4. Перед встречным, а также при движении за попутным транспортным средством.

19.2

20 Последним проедет перекрёсток:



1. Жёлтый автомобиль.
2. Зелёный автомобиль.
3. Красный автомобиль.
4. Синий автомобиль.

16.11; 16.13

1 С Госавтоинспекцией согласовываются:

1. Порядок буксировки двух и более транспортных средств.
2. Порядок буксировки двух и более механических транспортных средств.
3. Порядок буксировки транспортных средств не требует согласований.


32.1 «Д»

2 Что из перечисленных действий обязан выполнить водитель перед выездом с места постоянной стоянки и началом движения? Дайте полный ответ.

1. Подать сигнал световыми указателями поворота соответствующего направления.
2. Проверить и обеспечить технически исправное состояние и комплектность транспортного средства, правильность размещения и крепления груза.
3. Убедиться, что начало движения будет безопасным и он не создаст препятствий или опасности другим участникам движения.
4. Выполнить все перечисленные действия.

2.3 «А»;
9.2; 10.1


3 Данный дорожный знак:



1. Информировать о выезде на дорогу, на которой движение маршрутных транспортных средств осуществляется по специально выделенной полосе навстречу общему потоку транспортных средств.
2. Информировать о приближении к узкому участку дороги, во время движения по которому водитель имеет преимущество относительно встречных транспортных средств.
3. Информировать о приближении к узкому участку дороги, на который запрещается въезд, если это затруднит встречное движение транспортных средств.

Прил. 1: 2.6

4 Разрешается ли водителю такси в зоне действия данных дорожных знаков выполнить выгрузку или погрузку груза?



1. Разрешается при знаках «Остановка запрещена» и «Стоянка запрещена».
2. Разрешается только при знаке «Стоянка запрещена».
3. Запрещается во всех случаях.

Прил. 1: 3.34

5 В каких направлениях разрешается движение грузового автомобиля с разрешённой максимальной массой менее 3,5 т?



1. Только налево.
2. Только направо.
3. Во всех направлениях.
4. Только налево или направо.
5. Только прямо.


Прил. 1: 4.11,
7.3.3

6 Какой водитель нарушил требования Правил дорожного движения?

1. Водитель, который пересёк сплошную узкую линию разметки, обозначающую край проезжей части дороги, смежный с обочиной.
2. Водитель, который двигался в жилой зоне со скоростью 30 км/ч.
3. Никто не нарушил.
4. Оба нарушили.

Прил. 2: 1.1;
12.5

7 Данный дорожный знак предупреждает, что:



1. Впереди дорога имеет подъём, величина которого указана на знаке.
2. Впереди дорога имеет спуск, величина которого указана на знаке.
3. Впереди дорога имеет поперечный уклон, величина которого указана на знаке.

Прил. 1: 1.6

8 Данный сигнал регулировщика означает, что:



1. Разрешено движение красному, зелёному автомобилям. Запрещено жёлтому, белому.
2. Разрешено движение зелёному автомобилю. Запрещено красному, жёлтому, белому.

8.8 «Б»

9 Какое количество пассажиров разрешается перевозить на мотороллере?

1. До 2 человек.
2. Перевозка пассажиров запрещена.
3. Количество перевозимых пассажиров должно соответствовать технической характеристике транспортного средства.

21.1

10 По требованию Правил дорожного движения, поворот направо следует выполнить:

1. С крайней правой полосы или со второй полосы для движения, а повернув, — следует двигаться ближе к правому краю проезжей части.
2. С крайней правой полосы для движения, а повернув, — следует двигаться ближе к правому краю проезжей части.
3. С крайней правой полосы для движения, а повернув, — разрешается двигаться по любой полосе, свободной от транспортных средств.

10.4; 10.5



11 Когда разрешается транспортному средству, скорость движения которого не превышает 40 км/ч, выезжать в крайнее левое положение на проезжей части для движения в этом же направлении?

1. Только при перестроении перед поворотом налево или разворотом.
2. Только при обгоне, опережении или объезде.
3. Во всех вышеперечисленных случаях.
4. Во всех перечисленных случаях, а также если имеются три полосы и более для движения в одном направлении.

11.7

12 Резкое торможение во время движения:

1. Запрещается, кроме случаев, когда без этого невозможно предотвратить дорожно-транспортное происшествие.
2. Разрешается, только если транспортное средство оборудовано антиблокировочной системой.
3. Разрешается, только если скорость движения и остановочный путь транспортного средства небольшие.
4. Разрешается при условиях, указанных в ответах 1, 2 и 3.

12.9 «Г»

13 На каком рисунке правильно показан метод определения, жив или мертв пострадавший?



1. На рисунке 1.
2. На рисунке 2.
3. На рисунке 3.
4. На рисунках 1, 2, 3.

Не задумываясь оживляйте пострадавшего, если сомневаетесь — жив он или мертв!!!

ОПМП стр.50


14 Разрешён ли обгон водителю красного автомобиля Мотоциклист выполняет объезд.



1. Запрещён.
2. Разрешён.

14.6 «Г»


15 Разрешается ли стоянка вне населённых пунктов, где видимость или обзорность дороги менее 100 м только в одном направлении?



1. Запрещается.
2. Запрещается только в тёмное время суток или в условиях недостаточной видимости.
3. Разрешается, если включена аварийная световая сигнализация.

15.10 «Г»

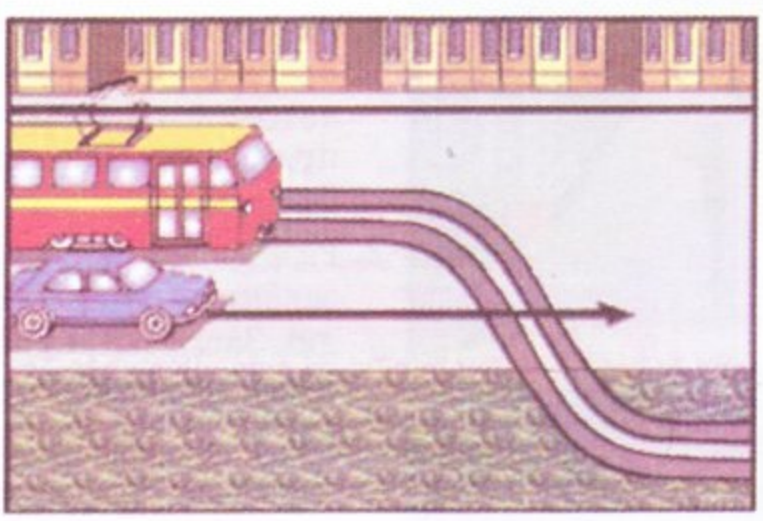
16 Третьим проедет перекрёсток:



1. Красный автомобиль.
2. Зелёный автомобиль.
3. Жёлтый автомобиль.
4. Синий автомобиль.

16.11; 16.14

17 Водитель какого транспортного средства должен уступить дорогу?



1. Водитель трамвая.
2. Водитель автомобиля.

17.3

18 При каких из перечисленных условий запрещается эксплуатация транспортных средств? Дайте полный ответ.

1. На рассеивателях световых приборов нанесена тонировка или покрытие, что уменьшает их прозрачность либо светопропускание.
2. Отсутствуют грязезащитные фартуки и брызговики.
3. При условиях, указанных в ответах 1 и 2.

31.4.3 «Г»; 31.4.7 «Ж»

19 При каких условиях запрещается эксплуатация транспортных средств? Дайте полный ответ.

1. В световых приборах используются лампы, не соответствующие типу данных световых приборов.
2. Только нарушена регулировка фар.
3. Не горит лампа левой фары в режиме ближнего света.
4. При всех перечисленных условиях.

31.4.3

20 Сигналом остановки поезда служит:

1. Вытянутая вперёд рука.
2. Покачивание вверх и вниз вытянутой вперёд рукой.
3. Круговое движение руки (в светлое время — с лоскутом яркой ткани или любым хорошо заметным предметом, в тёмное время суток и в условиях недостаточной видимости — с факелом или фонарем).
4. Поднятая над головой рука с жезлом или красным флагом.


20.9

1 По определению Правил дорожного движения, «перекрёсток» — это:

1. Участок пересечения двух дорог.
2. Пересечение дорог на разных уровнях вместе с дорогами, их соединяющими.
3. Место пересечения, примыкания или разветвления дорог на одном уровне, границей которого являются воображаемые линии между началом закруглений краёв проезжей части каждой из дорог. Не считается перекрёстком место примыкания к дороге выезда с примыкающей территории.

1.10

2 Где должен двигаться пешеход вне населённого пункта?



1. Только по обочине в любом направлении.
2. По обочине, а в случае её отсутствия, — по краю проезжей части навстречу движению транспортных средств.

4.1; 4.3

3 Данный дорожный знак обозначает:



1. Конец дополнительной полосы на подъеме или полосы разгона.
2. Дорогу, не имеющую сквозного проезда.
3. Направление движения к объекту в населенном пункте.

Прил. 1: 5.29.1


4 На какие транспортные средства распространяется действие данного дорожного знака с табличкой?



1. Только на легковые автомобили.
2. На легковые автомобили и мотоциклы.
3. На легковые автомобили, а также грузовые автомобили с разрешённой максимальной массой до 3,5 т.

Прил. 1: 4.2, 7.5.3

5 Разрешена ли остановка автомобиля в данном месте?



1. Запрещена по четным числам месяца.
2. Разрешена.
3. Запрещена, так как расстояние между прерывистой линией разметки и остановившимся автомобилем менее 3 м.

Прил. 1: 3.35

6 Каким участникам дорожного движения запрещается двигаться по автомагистралям и дорогам для автомобилей? Дайте полный ответ.

1. Велосипедистам.
2. Лицам, обучающимся вождению автомобиля.
3. Водителям тракторов, самоходных машин и механизмов.
4. Водителям транспортных средств, указанных в ответах 1, 2, 3.
5. Водителям транспортных средств, указанных в ответах 1 и 2.

6.6 «Б»; 24.9; 27.2 «А»

7 Данный дорожный знак: Дайте полный ответ.



1. Применяется для запрещения движения всех без исключения пользователей дорог, улиц, железнодорожных переездов только в связи с дорожно-транспортным происшествием.
2. Применяется для запрещения движения транспортных средств только в связи с аварией, проявлением стихийного бедствия или иной опасностью для движения.
3. Применяется для запрещения движения транспортных средств только в связи с падением камней, сильным снегопадом, наводнением, оползнем.
4. Применяется в ответах 1, 2, 3.

Прил. 1: 3.43

8 Что означает зелёный сигнал светофора в форме стрелки, направленной вниз?

1. Движение разрешено без обгона.
2. Движение разрешено только прямо.
3. Движение разрешено только по одной полосе.
4. Движение разрешено по реверсивной полосе, над которой этот сигнал расположен.

8.7.4

9 Когда должен быть подан предупреждающий сигнал перед перестроением в населённом пункте?

1. За 150—200 м до начала выполнения манёвра.
2. Заблаговременно до начала выполнения манёвра, но не менее чем за 50—100 м.
3. Непосредственно перед началом выполнения манёвра.
4. Сразу после начала выполнения манёвра.

9.4

10 В каких из перечисленных мест запрещается остановка транспортных средств?

1. Ближе 100 м перед железнодорожным переездом.
2. Ближе 10 м от обозначенного места выполнения дорожных работ и в зоне их выполнения, где это создаст препятствия технологическим транспортным средствам, что работают.
3. В местах, перечисленных в ответах 1 и 2.

15.9 «Є»



11 Где могут находиться пассажиры при буксировке автомобилей способом частичной погрузки?

- 1. В кабине буксирующего автомобиля.
- 2. В кабине буксируемого автомобиля.
- 3. В кабинах обоих автомобилей.
- 4. В кузове буксирующего автомобиля.

23.9

12 Разрешается ли движение задним ходом на участках дорог, обозначенных данным дорожным знаком?



- 1. Запрещается.
- 2. Разрешается при отсутствии других транспортных средств.
- 3. Разрешается в любом случае с соблюдением мер безопасности.

27.2 «Г»

13 Какой водитель нарушил требования Правил дорожного движения?

- 1. Водитель, который пересёк сплошную узкую линию разметки, обозначающую край проезжей части дороги, смежный с обочиной.
- 2. Водитель, который двигался в жилой зоне со скоростью 30 км/ч.
- 3. Оба нарушили.
- 4. Никто не нарушил.

12.5;
прил. 2: 1.1

14 Каким опознавательным знаком обозначается транспортное средство при перевозке организованных групп детей?



1




2



3

30.3 «В»


15 На каком расстоянии от железнодорожных переездов запрещается стоянка транспортных средств?



- 1. На расстоянии не более 100 м.
- 2. На расстоянии не менее 100 м.
- 3. Ближе 50 м от железнодорожных переездов.

15.10 «Г»

16 Преимущество в движении имеет:



- 1. Водитель автобуса, въезжающий на перекрёсток по главной дороге.
- 2. Водитель легкового автомобиля, завершающий разворот на перекрёстке.
- 3. Водитель автобуса, въезжающий на перекрёсток при разрешающем сигнале светофора.

16.5

17 Для предотвращения опасных последствий заноса заднеприводного автомобиля водитель должен:

- 1. Прекратить начатое торможение.
- 2. Резко нажать на педаль тормоза.
- 3. Нажать на педаль сцепления.

ОБД

18 Запрещается эксплуатация транспортных средств согласно законодательству при наличии следующих технических неисправностей и условий: Дайте полный ответ.

- 1. Не работают стеклоочистители.
- 2. Отсутствуют подголовники, где их установка предусмотрена конструкцией.
- 3. Не горит лампа левой фары в режиме ближнего света.
- 4. При всех перечисленных неисправностях и условиях.

31.4.3 «В»;
31.4.4 «А»;
31.4.7 «Ж»

19 При каких из перечисленных условий запрещается эксплуатация транспортных средств? Дайте полный ответ.

- 1. На одну ось транспортного средства установлены шины ошипованные и неошипованные.
- 2. Не работает запор горловины топливного бака.
- 3. При условиях, указанных в ответах 1 и 2.

31.4.5 «Г»;
31.4.7 «Г»

20 Что должен выполнить водитель немедленно в случае вынужденной остановки транспортного средства на железнодорожном переезде?

- 1. Подавать сигнал общей тревоги — серии из одного длинного и трёх коротких звуковых сигналов.
- 2. Высадить людей и принять меры для освобождения переезда.
- 3. Бежать навстречу поезду, подавая сигнал остановки, — круговое движение руки.
- 4. Выполнить действия, указанные в ответах 1, 2 и 3.

20.8

1 Разрешается ли установка на транспортных средствах специальных звуковых сигналов?

1. Разрешается, если звук не резкий.
2. Разрешается по согласованию с ГАИ МВД.
3. Разрешается, если они используются только при выполнении неотложного служебного задания.


32.1 «Е»

2 Какой документ, кроме регистрационного, подтверждает право водителя управлять данным транспортным средством, если в автомобиле отсутствует его владелец?

1. Только доверенность, выданная владельцем.
2. Регистрационный документ на транспортное средство, другой документ не нужен.
3. Свидетельство о праве совместной собственности.

2.1 «Б»

3 Данный дорожный знак предупреждает, что:



1. Впереди железнодорожный переезд. До него осталось 50—100 м.
2. Впереди железнодорожный переезд. До него осталось 150—300 м.
3. Впереди железнодорожный переезд с тремя путями.
4. Впереди железнодорожный переезд с одним путём.
5. Информация, заложенная в ответах 2 и 3.

Прил. 1: 1.31.1

4 Какой дорожный знак разрешает поворот налево?







1 2 3 4 5

Прил. 1: 3.24


5 В каком направлении разрешено движение?



1. А и Б.
2. А.
3. Б.

Прил. 1: 1.4.2


6 Где наносится сплошная жёлтая линия дорожной разметки, обозначающая места, в которых запрещена остановка? Дайте полный ответ.



1. На проезжей части.
2. У края проезжей части.
3. По верху бордюра тротуара.
4. У края проезжей части или по верху бордюра тротуара.

Прил. 2: 1.4

7 Данный дорожный знак:



1. Устанавливается на всех дорогах перед пересечением равных по значению дорог.
2. Устанавливается перед пересечением главной дороги с второстепенной.
3. Устанавливается перед пересечением, на котором водитель обязан уступить дорогу всем транспортным средствам, движущимся по пересекаемой дороге.

Прил. 1: 1.21

8 Красный автомобиль проедет перекресток:



1. Вторым.
2. Первым.

8.3; 16.6

9 Разрешается ли пользоваться дальним светом фар в качестве предупреждающего сигнала при обгоне?

1. Запрещается.
2. Разрешается на дорогах вне населённых пунктов.
3. Разрешается, когда это не может вызвать ослепления других водителей, в том числе и через зеркало заднего вида.
4. Разрешается в любом случае.

9.6; 9.7

10 На автомагистрали запрещены:

1. Только остановка вне специальных площадок для стоянки, обозначенных знаком «Место для стоянки» или «Место отдыха».
2. Только разворот и въезд в технологические разрывы разделительной полосы.
3. Только движение задним ходом.
4. Все перечисленные действия.

27.2

11 Разрешается ли буксировка более одного транспортного средства?

1. Разрешается любым способом, если за рулём буксируемого транспортного средства находится водитель.
2. Запрещается.
3. Разрешается только на жёсткой сцепке.

23.10 «Г»

12 Если на транспортном средстве установлен опознавательный знак «Ограничение максимальной скорости», то водителю этого транспортного средства:

1. Запрещается превышать указанную на знаке скорость.
2. Разрешается превышать указанную на знаке скорость только на участках дорог, где скорость движения повышена установкой соответствующего дорожного знака.
3. Разрешается превышать указанную на знаке скорость, если движение осуществляется на автомагистралях.

12.9 «Б»

13 По каким полосам разрешено движение легковых автомобилей и мотоциклов в населённых пунктах при интенсивном движении на четырёхполосной проезжей части в одном направлении?

1. Только по крайней правой полосе.
2. По любым полосам.
3. По любой полосе, кроме крайней левой полосы.

11.6

14 Белая прерывистая линия разделяет транспортные потоки противоположных направлений. На данном участке дороги обгон:



1. Разрешён только вне населённого пункта.
2. Разрешён.
3. Запрещён.

14.6 «Е»; прил. 2: 1.5

15 В каких местах Правила дорожного движения запрещают остановку транспортных средств?

1. На железнодорожных переездах, в тоннелях и под эстакадами, мостами и путепроводами.
2. Вне населённых пунктов ближе 100 м от железнодорожных переездов.
3. В местах выезда из дворов и ближе 15 м от них.
4. Во всех перечисленных местах.

15.9 «А», «В»

16 Водители каких транспортных средств проедут перекрёсток первыми?



1. Водитель трамвая.
2. Водители автомобиля и автобуса.

16.9

17 В населённом пункте водитель автобуса, микроавтобуса или троллейбуса начинает движение от обозначенной остановки, которая расположена в заездном «кармане». Он должен:

1. Уступить дорогу объезжающему его транспортному средству.
2. Принять меры для предотвращения дорожно-транспортного происшествия.
3. Используя преимущество, начать движение в намеченном направлении.

17.5

18 При каких условиях запрещается эксплуатация механических транспортных средств?

1. Не прошедших обязательный государственный технический контроль (для транспортных средств, подлежащих такому контролю).
2. Перебои в работе двигателя.
3. Шум в коробке передач.
4. При условиях, перечисленных в ответах 1, 2, 3.

31.3 «Б»

19 Данный дорожный знак называется:



1. «Изменение направления движения на дороге с разделительной полосой».
2. «Предварительный указатель въезда на полосу встречного движения».
3. «Предварительный указатель объезда препятствий».

Прил. 1: 5.24.1

20 Если шлагбаум на железнодорожном переезде начал опускаться, то водитель нерельсового транспортного средства должен:



1. Проехать переезд, если шлагбаум ещё высоко и можно под ним проехать.
2. Проехать переезд, если не видно приближающегося поезда.
3. Остановиться. Движение через переезд запрещается.

20.5 «Б»

1 Что называется «тормозным путём»?

1. Расстояние, пройденное транспортным средством с момента обнаружения водителем опасности до полной остановки.
2. Расстояние, которое проходит транспортное средство во время экстренного торможения с начала воздействия на механизм управления тормозной системой (педаль, рукоятку) до места его остановки.

ОБД; 1.10

2 Разрешается ли водителю обычного транспортного средства пользоваться мобильным телефоном во время движения?

1. Разрешается любым способом при выполнении неотложного служебного задания.
2. Разрешается во всех случаях.
3. Разрешается, не держа его в руке.
4. Запрещается во всех случаях.

2.9 «Д»


3 Какая информация заложена в данном дорожном знаке?



1. Впереди участок дороги с подземным или надземным пешеходным переходом.
2. Впереди обозначенное место на дороге, специально выделенное для организованного перехода пешеходами проезжей части.
3. Впереди участок дороги, на котором отсутствуют обозначенные пешеходные переходы.

Прил. 1: 5.35.1

4 Какой дорожный знак запрещает стоянку только по чётным числам месяца?



Прил. 1: 3.37

5 На данный сигнал регулировщика водителю легкового автомобиля разрешается движение:



1. Прямо, налево, на разворот.
2. Только прямо.
3. Только направо.
4. Во всех направлениях.

Прил. 1: 3.22; 8.8 «Б»

6 При каких условиях велосипедисты обязаны уступить дорогу другим транспортным средствам? Дайте полный ответ.

1. Если велосипедная дорожка, по которой они движутся, пересекает дорогу вне перекрёстка.
2. При приближении транспортного средства, которое движется справа на равнозначном нерегулируемом перекрестке.
3. При возникновении условий, указанных в ответах 1 и 2.

6.5; 6.7

7 Разворот разрешается:

1. На участке дороги, перед которым установлен дорожный знак «Поворот налево запрещён».
2. На участке дороги, перед которым установлен дорожный знак «Дорога с полосой для движения маршрутных транспортных средств».
3. На участках дорог, указанных в ответах 1 и 2.

Прил. 1: 3.23, 5.8

8 При движении в колонне:

1. Водители всех транспортных средств должны договориться между собой о дистанции движения.
2. На каждом транспортном средстве включается дальний свет фар.
3. Колонна, движущаяся без сопровождения оперативными транспортными средствами, должна быть разделена на группы не более пяти транспортных средств в каждой, дистанция между которыми должна обеспечить возможность обгона группы другими транспортными средствами.
4. Водители всех транспортных средств должны договориться между собой о скорости движения.
5. Выполнить все вышеуказанные действия.


25.4

9 Всегда ли водитель должен подавать сигналы световыми указателями поворотов при изменении направления своего движения?

1. Должен всегда. Сигнал запрещается подавать, если он может быть непонятным для других участников движения.
2. Сигнал разрешается не подавать, если отсутствуют другие участники дорожного движения.
3. Обязательно должен подавать сигналы только в условиях недостаточной видимости, в сумерки и в тёмное время суток.

9.2; 9.4

10 При какой минимальной видимости дороги вперед разрешается разворот? (Видимость назад не ограничена).



1. 250 м.
2. 200 м.
3. 150 м.
4. 100 м.
5. 50 м.

10.7 «Г»



11 В каких из перечисленных случаев разрешается выезд на полосу встречного движения на дороге с двусторонним движением, имеющей по одной полосе для движения в каждом направлении?

1. В населённых пунктах для остановки или для стоянки у левого края проезжей части в разрешённых случаях.
2. Вне населённых пунктов, если на дороге отсутствуют специально отведённые места для длительной стоянки.
3. В случаях, указанных в ответах 1 и 2.

11.3

12 С какой максимальной скоростью разрешается движение на велосипеде или мопеде в жилой или пешеходной зоне?

1. 40 км/ч.
2. 20 км/ч.
3. Со скоростью более 30 км/ч при отсутствии людей.
4. 30 км/ч.


12.5

13 Как должен поступить водитель транспортного средства, если он движется по дороге с двусторонним движением и на его полосе имеется препятствие?

1. Уступить дорогу встречному транспортному средству, если разъезд затруднён.
2. Включить ближний свет фар и проехать узкое место первым.
3. Поступить так, как сказано в ответах 1 или 2.

13.4

14 Разрешается ли выполнить обгон в данной обстановке?



1. Разрешается.
2. Разрешается, если обгоняемое транспортное средство движется со скоростью менее 30 км/ч.
3. Разрешается, если обгоняемое транспортное средство движется со скоростью менее 10 км/ч.
4. Запрещается.


14.6 «Е»; прил. 2: 1.3

15 Если дорога имеет бульвар или разделительную полосу, то остановка и стоянка транспортных средств возле них:

1. Запрещаются.
2. Запрещаются. Разрешаются, как исключение, с 21.00.
3. Разрешаются только в рабочие дни недели.
4. Разрешаются только в воскресные и праздничные дни.

15.3

16 Разрешается ли движение водителю легкового автомобиля?



1. Запрещается.
2. Разрешается.
3. Разрешается после проезда трамвая.

16.9

17 Смещается ли прицеп автопоезда при движении на повороте?

1. Смещается от центра поворота.
2. Смещается к центру поворота.
3. Не смещается.

ОБД

18 В каких из перечисленных случаев запрещается эксплуатация транспортных средств согласно законодательству?

1. В случае оборудования их без разрешения ГАИ специальными звуковыми и световыми сигналами.
2. В случае, если стояночная тормозная система обеспечивает неподвижное положение легкового автомобиля в снаряжённом состоянии на уклоне 25%.
3. В случаях, указанных в ответах 1 и 2.


31.3 «Г»

19 Разрешается ли на легковом автомобиле двигаться с включёнными только габаритными фонарями в тёмное время суток?

1. Запрещается. Разрешается только с включенными фарами ближнего (дальнего) света.
2. Разрешается.
3. Разрешается на хорошо освещённых улицах.

19.1

20 Транспортные средства проедут перекрёсток в следующем порядке:



1. Мотоцикл, синий автомобиль, красный автомобиль.
2. Синий автомобиль, мотоцикл, красный автомобиль.
3. Синий автомобиль, красный автомобиль, мотоцикл.

16.11; 16.13

1 Если водитель движущегося впереди транспортного средства включил указатель поворота с левой стороны, то его:

1. Можно обогнать, подав кратковременный звуковой сигнал.
2. Можно опередить с правой стороны, если это безопасно.
3. Обгонять и опережать запрещено.

1.10; ОБД

2 Разрешается ли водителю управлять транспортным средством под воздействием лекарственных препаратов, снижающих быстроту реакции и внимание?

1. Запрещается.
2. Разрешается.
3. Разрешается водителям со стажем не менее трёх лет при условии, что лекарственный препарат будет принят в минимальной дозе с 8.00 до 18.00.

2.9 «Б»

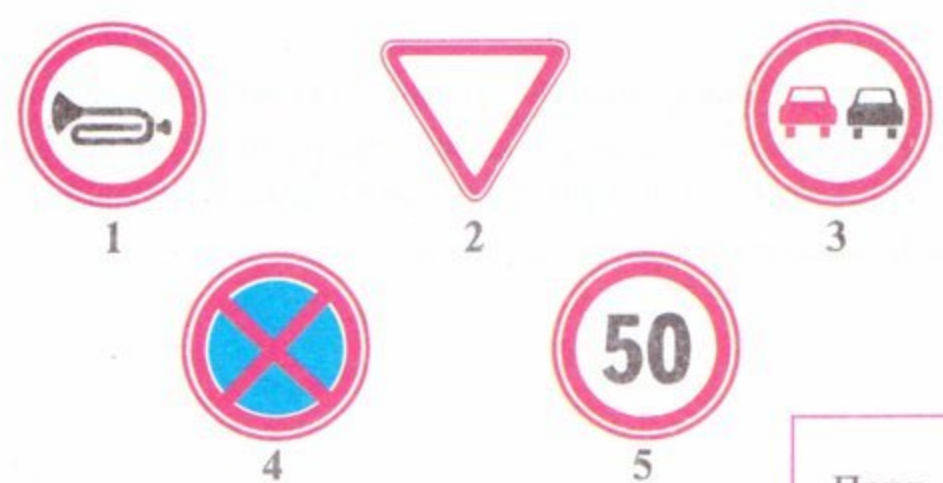
3 Если перед нерегулированным железнодорожным переездом установлен данный дорожный знак, то водитель должен:



1. Остановиться перед переездом и заглушить двигатель.
2. Притормозить, осмотреться и, убедившись в отсутствии приближающегося поезда, продолжить движение без остановки.
3. Остановиться перед разметкой «стоп-линия», а если она отсутствует, — перед знаком, убедиться в том, что не приближается поезд, и лишь после этого продолжить движение.

20.2; 20.3; прил. 1: 2.2

4 Действие какого из данных дорожных знаков не распространяется на транспортные средства, которые движутся по установленным маршрутам?



Прил. 1: 3.34

5 Водитель приближается к участку горной дороги, перед которым установлен данный дорожный знак. Запрещается ли на данном подъеме буксировка в гололедицу?



1. Запрещается в любом случае.
2. Запрещается буксировка на гибкой сцепке.
3. Разрешается буксировка в любом случае при соблюдении повышенных мер безопасности.

Прил. 1: 1.6; 28.3 «В»

6 Что означает данная дорожная разметка.



1. Обозначает полосу для движения маршрутных транспортных средств.
2. Обозначает границы полос движения, на которых осуществляется реверсивное регулирование.
3. Обозначает полосу для движения автомобилей специального назначения.
4. Информация, заложенная в ответах 1 и 3.

Прил. 2: 1.9


7 Что означает данный дорожный знак?



1. Разрешается движение направо или налево, или на разворот.
2. Запрещается движение направо или налево, или на разворот.
3. Впереди Т-образный перекрёсток.

Прил. 1: 4.6

8 В каком случае водитель мотоцикла повернул налево правильно?



1. При данном жесте регулировщика повернул налево безостановочно.
2. Выехал на перекресток, пропустил грузовой автомобиль, закончил поворот.


8.8 «Б»

9 Какое максимальное количество пассажиров разрешается перевозить в транспортном средстве?

1. В легковом автомобиле — до 4 человек, а в грузовом — до 20 человек.
2. В легковом и грузовом автомобилях — в том количестве, которое предусмотрено технической характеристикой транспортного средства.
3. Количество перевозимых пассажиров должно соответствовать техническому состоянию транспортного средства.

21.1

10 Водители каких транспортных средств нарушают Правила дорожного движения?



1. Водители учебного автомобиля, трактора и легкового автомобиля.
2. Только водители учебного автомобиля и трактора.
3. Только водитель легкового автомобиля.
4. Водители всех транспортных средств.

27.2 «А», «Г», «Д»; 24.9

11 Движущийся впереди Вас автомобиль начал увеличивать скорость. Какую дистанцию Вы должны соблюдать?

1. Дистанция должна быть безопасной.
2. Дистанция должна быть увеличена в два раза.
3. Дистанция должна остаться неизменной.

13.1

12 Что запрещено в жилой зоне населённого пункта?

1. Остановка транспортного средства.
2. Движение со скоростью более 20 км/ч.
3. Все вышеуказанные действия.

12.5

13 Разрешается ли водителю транспортного средства выехать на трамвайный путь встречного направления?

1. Разрешается только водителю легкового автомобиля.
2. Разрешается водителям всех транспортных средств, если впереди по ходу движения образовался затор.
3. Запрещается во всех случаях.

11.9

14 Дайте полный ответ. В соответствии с Правилами дорожного движения опознавательный знак «Автопоезд» устанавливается:

1. На грузовых автомобилях с прицепами.
2. На колёсных тракторах класса 1,4 т и выше с прицепами.
3. На сочленённых автобусах и троллейбусах.
4. На транспортных средствах, указанных в ответах 1 и 2.
5. На транспортных средствах, указанных в ответах 1, 2, 3.

30.3 «А»

15 Где на перечисленных участках дорог запрещается остановка транспортных средств?

1. На подъёмах и спусках.
2. В местах, где транспортное средство закроет от других водителей сигналы светофора или дорожные знаки.
3. В местах с интенсивным движением транспортных средств и пешеходов.
4. Во всех перечисленных местах.

15.9 «3»

16 К нерегулируемому перекрёстку приближаются водитель автомобиля, перед которым установлен дорожный знак «Уступить дорогу», и водитель велосипеда. Кто имеет преимущество в движении?



1. Водитель автомобиля.
2. Водитель велосипеда.

16.11

17 Разрешается ли стоянка транспортных средств на правой полосе дороги, отделённой сплошной жёлтой линией разметки и обозначенной дорожным знаком «Полоса для движения маршрутных транспортных средств»?

1. Разрешается только автомобилям, которые обслуживают предприятия, находящиеся в этой зоне, или принадлежат гражданам, проживающим в ближайших домах.
2. Разрешается, если нет знака, запрещающего стоянку.
3. Запрещается.


17.1

18 Разрешается ли следовать к месту стоянки или ремонта в тёмное время суток, а также в условиях недостаточной видимости с негорящими задними габаритными фонарями?

1. Разрешается с особой осторожностью.
2. Запрещается.
3. Разрешается только на дорогах с искусственным освещением.

31.6 «Б»

19 На горных дорогах запрещены:



1. Только буксировка на гибкой сцепке.
2. Только любая буксировка во время гололеда.
3. Действия, указанные в ответах 1 и 2.

28.3 «Б», «В»

20 Синий автомобиль проедет перекрёсток:



1. Последним.
2. Четвёртым.
3. Третьим.
4. Вторым.
5. Первым.

16.11; 16.13

1 Какие из перечисленных вопросов, в соответствии с требованиями Правил дорожного движения, подлежат согласованию в Госавтоинспекции?

1. Только переоборудование транспортного средства.
2. Только нанесение белых полос под наклоном на внешних боковых поверхностях транспортных средств.
3. Во всех вышеперечисленных случаях.

32.1 «Д,Е,Є»

2 С какого возраста предоставляется право на управление автомобилями всех типов (категории В1, В, С1, С) (за исключением автобусов, трамваев и троллейбусов)?

1. С 20-летнего возраста.
2. С 19-летнего возраста.
3. С 18-летнего возраста.

2.13

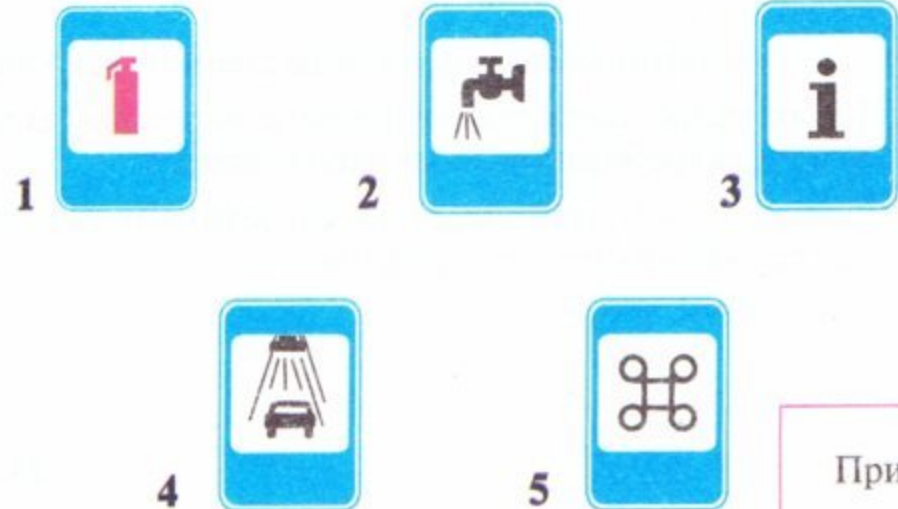
3 Данный дорожный знак запрещает движение:



1. Всех транспортных средств.
2. Всех механических транспортных средств, за исключением маршрутных транспортных средств, обслуживающих предприятия, находящиеся в обозначенной зоне, а также обслуживающих или принадлежащих гражданам, проживающим или работающим в обозначенной зоне.


Прил. 1: 3.2

4 Какой из данных дорожных знаков информирует о месте расположения пункта для мойки автомобилей?



Прил. 1: 6.6

5 Транзитное движение прямо разрешено:



1. Только водителям автомобиля и автобуса.
2. Только водителям автомобиля и мотоцикла.
3. Только водителю автомобиля.
4. Водителям всех транспортных средств.

Прил. 1: 4.11

6 Что обозначает такая дорожная разметка?



1. Обозначает полосу, предназначенную только для движения маршрутных транспортных средств.
2. Обозначает полосу, предназначенную только для движения троллейбусов.
3. Обозначает полосу, предназначенную только для движения автобусов.

Прил. 2: 1.24


7 При данном дорожном знаке:



1. Запрещается стоянка транспортных средств в два ряда.
2. Запрещаются остановка и стоянка транспортных средств.
3. Запрещается стоянка транспортных средств по чётным числам месяца.

Прил. 1: 3.37


8 Каким транспортным средствам разрешено движение?



1. Зелёному, синему и красному автомобилям. Красный должен дать возможность пешеходам закончить переход.
2. Красному, жёлтому и зелёному автомобилям.
3. Зелёному, синему и чёрному автомобилям.

8.8 «Б»;
18.2

9 На каком рисунке водитель подает сигнал предупреждения о повороте налево?



1

2

3

9.3

10 Разрешается ли движение задним ходом на дорогах с односторонним движением?

1. Разрешается только с целью погрузки или разгрузки груза.
2. Разрешается при условии, что водитель не создаёт опасности или препятствий другим участникам дорожного движения, и при невозможности подъехать к объекту иным способом.
3. Запрещается.

10.9; 10.10

11 Разрешается ли пешеходам двигаться в жилой зоне по проезжей части?



1. Разрешается только по тротуарам.
2. Разрешается как по тротуарам, так и по проезжей части.

26.1

12 Как должен поступить водитель, если в условиях недостаточной видимости на проезжей части внезапно появились животные?

1. Продолжить движение с повышенным вниманием.
2. Включить звуковой сигнал, снизить скорость и объехать животных.
3. Немедленно принять меры к снижению скорости и остановить транспортное средство в пределах видимости дороги.

12.2; 12.3

13 С каким автомобилем разрешается эксплуатация прицепа?

1. С любым автомобилем, имеющим сцепное устройство.
2. При условии соответствия прицепа автомобилю и выполнения требования по их эксплуатации.
3. С автомобилем, грузоподъёмность которого соответствует грузоподъёмности прицепа.

23.11

14 Разрешается ли водителю синего автомобиля приступить к обгону в данной ситуации?



1. Запрещается.
2. Разрешается.

14.2 «А»

15 В каких местах разрешается ставить транспортное средство под углом к краю проезжей части?

1. Только на дорогах с односторонним движением.
2. Там, где это не будет препятствовать движению других транспортных средств.
3. Только на дорогах с двумя полосами движения.
4. Только на дорогах с тремя и более полосами движения.
5. Во всех перечисленных местах.

15.5

16 Автомобили проедут перекрёсток в следующем порядке:



1. Синий, красный, зелёный.
2. Синий, зелёный, красный.
3. Красный, зелёный, синий.
4. Красный, синий, зелёный.

16.11; 16.14

17 В каком случае увеличивается центробежная сила, действующая на автомобиль на поворотах дороги?

1. С увеличением скорости движения.
2. С уменьшением скорости движения.
3. С увеличением радиуса поворота.

ОБД

18 Приближаясь к автобусу с опознавательным знаком «Дети», остановившемуся с включённой аварийной световой сигнализацией, водитель легкового автомобиля должен:



1. Не увеличивая скорость движения, объехать автобус, ожидая возможное внезапное появление детей из-за передней части автобуса.
2. Снизить скорость, а при необходимости остановиться, чтобы избежать наезда на детей.

3. В зависимости от реальной обстановки, поступить так, как указано в ответах 1 или 2.


18.9

19 Разрешается ли пользоваться дальним светом фар на дорогах в населённых пунктах?

1. Запрещается.
2. Разрешается только на слабоосвещённых участках дорог.
3. Запрещается только на дорогах с интенсивным движением.
4. Разрешается.

19.1

20 Автомобили проедут перекрёсток в следующем порядке:



1. Синий, зелёный, красный, жёлтый.
2. Синий, красный, зелёный, жёлтый.
3. Красный, синий, жёлтый, зелёный.

16.11; 16.13

1 Кто из перечисленных лиц обязательно должен знать и неукоснительно выполнять Правила дорожного движения?

1. Только водители всех транспортных средств.
2. Только водители и пешеходы.
3. Все, без исключения, участники дорожного движения.
4. Только лица, указанные в ответах 1 и 2.

1.3; 1.10


2 Водитель какого транспортного средства должен уступить дорогу?



1. Водитель легкового автомобиля.
2. Водитель автомобиля скорой помощи.

3.2



3 Данный дорожный знак предупреждает, что:



1. Впереди участок дороги, на котором часто возникают дорожно-транспортные происшествия.
2. Впереди участок дороги, на котором будет запрещён обгон.
3. Впереди участок дороги, на котором следует снизить скорость движения, так как начинается жилая зона.
4. Впереди узкий участок дороги, на котором встречный разъезд затруднён.
5. Информация, заложенная в ответах 3 и 4.

Прил. 1: 1.39


4 Различаются ли между собой требования данных дорожных знаков?

1. Различаются тем, что в зоне действия знака А разрешается выполнить разворот для движения в обратном направлении, а на дорогах, обозначенных знаком Б, разворот запрещён.
2. Различаются тем, что при знаке А разрешено движение только прямо, а также поворот направо во дворы и на другие примыкающие к дороге территории, в то время как при знаке Б повороты в указанные места разрешены направо и налево.
3. Не различаются, так как в зоне действия обоих знаков разрешается движение прямо, а также повороты направо и налево в любой проезд.

Прил. 1: 4.1, 5.5

5 Данный дорожный знак:



1. Запрещает движение транспортных средств, перевозящих опасные грузы.
2. Запрещает движение транспортных средств, перевозящих взрывчатку.
3. Запрещает движение транспортных средств, перевозящих вещества, загрязняющие воду.

Прил. 1: 3.13

6 Разрешается ли буксировка велосипедов?

1. Запрещается.
2. Разрешается.
3. Разрешается только в светлое время суток по дорогам, не имеющим твердого покрытия.

6.6 «Е»

7 Сплошная жёлтая линия горизонтальной разметки в сочетании с дорожным знаком «Остановка запрещена» разрешает остановку:

1. Автобусам и троллейбусам.
2. Автобусам, троллейбусам и автомобилям такси.
3. Только маршрутным транспортным средствам и такси, которое осуществляет посадку или высадку пассажиров.
4. Всем транспортным средствам, производящим высадку пассажиров.

Прил. 1: 3.34; прил. 2: 1.4

8 Разрешается ли выполнить разворот при данном сигнале светофора?



1. Запрещается.
2. Разрешается.

8.7.3 «Б», «Е»

9 Каким жестом руки водитель автомобиля должен подать предупреждающий сигнал о повороте направо?

1. Сигнал подаётся левой рукой, вытянутой в сторону и согнутой в локте под прямым углом вверх.
2. Круговыми движениями по часовой стрелке левой руки, вытянутой вперёд.
3. Покачиванием левой руки вверх и вниз.

9.3

10 По какому пути из числа обозначенных стрелками Вам разрешается выполнить поворот налево?



1. По любому из указанных путей.
2. Только по пути А, так как это кратчайший путь, и он сократит время проезда перекрёстка.
3. Только по пути Б, так как при выезде Вы не окажетесь на полосе встречного движения.

10.5

11 Допускается ли движение транспортных средств по тротуарам и пешеходным дорожкам при отсутствии других подъездов?

1. Допускается при обслуживании торговых и других предприятий, расположенных непосредственно у этих тротуаров или дорожек, при условии выполнения требований правил движения в жилой и пешеходной зоне.
2. Допускается для объезда стоящего у тротуара другого транспортного средства.
3. Допускается, если это не затруднит движение пешеходов.
4. Не допускается, так как это может поставить под угрозу безопасность пешеходов.

11.13

12 При установке какого из данных дорожных знаков на обозначенном участке дороги запрещается движение задним ходом?



27.2 «Г»

13 Разрешается ли буксировка мотоциклов с боковым прицепом?

1. Разрешается только на жёсткой сцепке.
2. Запрещается.
3. Разрешается.

23.10 «Г»

14 На механических транспортных средствах, прицепах, за исключением трамваев и троллейбусов, по Правилам дорожного движения, устанавливается:

1. Оознавательный и номерной знаки.
2. Оознавательный знак о принадлежности транспортного средства.
3. Номерной знак соответствующего образца.


30.2

15 Разрешаются ли остановка и стоянка транспортных средств вне населённых пунктов на левой стороне дороги, имеющей по одной полосе для движения в каждом направлении и не разделённой сплошной линией разметки?

1. Разрешаются остановка и стоянка легковых автомобилей и мотоциклов.
2. Разрешаются только водителям-инвалидам, управляющим мотоколяской или автомобилем, обозначенным опознавательным знаком «Инвалид».
3. Разрешаются в случаях, указанных в ответах 1 и 2.
4. Запрещаются.
5. Запрещается стоянка. Разрешается только остановка.

15.3


16 Транспортные средства проедут перекрёсток в следующем порядке:



1. Трамвай, мотоцикл, автомобиль.
2. Трамвай, автомобиль, мотоцикл.
3. Мотоцикл, трамвай, автомобиль.

16.11; 16.14

17 Если Вы приближаетесь к повороту дороги налево и он оказался более крутым, чем предполагалось, Вы должны:



1. Увеличить скорость, чтобы быстрее преодолеть поворот.
2. Продолжить движение, не изменяя скорости и придерживаясь левого края проезжей части дороги.
3. Снизить скорость движения.

ОБД

18 Дальнейшее движение транспортных средств запрещается, если:

1. Не работают в установленном режиме или загрязнены внешние световые приборы или световозвращатели.
2. Не действует стеклоочиститель со стороны расположения руля во время дождя или снегопада.
3. Не работают предусмотренные конструкцией транспортных средств стеклоомыватели.
4. Во всех перечисленных случаях.

31.6

19 В каком ответе наиболее точно указан разрешённый способ буксировки на горных дорогах?

1. Буксировка только путем частичной погрузки буксируемого транспортного средства.
2. Буксировка только на жёсткой сцепке.
3. Буксировка способами, указанными в первом и втором ответах.
4. Буксировка на гибкой сцепке при наличии исправных органов управления в буксируемом транспортном средстве.
5. Буксировка любым из указанных способов.

28.3

20 Вторым проедет перекрёсток:



1. Зелёный автомобиль.
2. Синий автомобиль.
3. Жёлтый автомобиль.
4. Красный автомобиль.

16.11; 16.13

1 Для чего предназначена полоса торможения?

1. Эта полоса движения предназначена для соединения автомагистрали с обычной дорогой.
2. Эта полоса предназначена для движения тихоходных транспортных средств.
3. Это переходно-скоростная полоса. При наличии полосы торможения выполнение поворота с других полос запрещается, а снижать скорость разрешается только на ней.


10.8

2 Остановка считается «вынужденной», если прекращается движение транспортного средства в связи:

1. С желанием водителя уточнить направление движения при отсутствии информационно-указательного знака «Предварительный указатель направлений».
2. С его технической неисправностью или опасностью, вызванной грузом который перевозится, состоянием участника дорожного движения, появлением препятствия для движения.
3. С остановкой его работниками милиции.
4. Со всеми причинами, указанными в ответах 1, 2, 3.

1.10

3 Если установлен данный дорожный знак, то кто из водителей имеет преимущество в движении?



1. Водитель, перед которым данный дорожный знак установлен.
2. Водитель встречного транспортного средства.
3. Водитель транспортного средства, приближающегося справа.
4. Водитель транспортного средства, движущегося быстрее.

Прил. 1: 2.5

4 Какой из данных дорожных знаков определяет одновременно конец действия всех запретов и ограничений, введённых запрещающими дорожными знаками?



Прил. 1: 3.42

5 Укажите разрешённые направления движения (Направления А и В — въезды во дворы).



1. Только А.
2. Только Б.
3. А и Б.
4. Б и В.
5. Только В.


Прил. 1: 4.1, 3.42

6 Каким участникам дорожного движения запрещается двигаться по автомагистралям и дорогам для автомобилей? Дайте полный ответ.

1. Водителям тракторов, самоходных машин и механизмов.
2. Лицам, обучающимся вождению автомобиля.
3. Велосипедистам.
4. Водителям транспортных средств, указанных в ответах 1, 2, 3.
5. Только водителям транспортных средств, указанных в ответах 1 и 3.

27.2 «А»;
6.6 «Б»;
24.9

7 О чём информирует данный дорожный знак?



1. Движение разрешено только прямо, повороты направо или налево запрещены.
2. Остановка и стоянка на участке дороги, обозначенном знаком, запрещены.
3. Дорога или отдельная проезжая часть, по которой движение транспортных средств по всей ширине осуществляется только в одном направлении.
4. Информация, заложенная в ответах 1 и 3.

Прил. 1: 5.5

8 Каким транспортным средствам разрешается движение?



1. Только автобусу и зелёному автомобилю.
2. Только автобусу.
3. Только зелёному автомобилю.
4. Автобусу, красному и зелёному автомобилям.

8.8 «Б»

9 Как следует обозначить буксируемый автомобиль во время буксировки?

1. В светлое время суток — включением габаритных фонарей, а тёмное время — включением аварийной световой сигнализации.
2. В любое время суток — включением габаритных фонарей.
3. В любое время суток — включением аварийной световой сигнализации.


9.9 «Г»

10 Если транспортное средство из-за габаритов или по другим причинам не может выполнить поворот из крайнего положения, допускается ли производить его с отступлением от этого правила?

1. Допускается, если это не противоречит требованиям запрещающих или предписывающих дорожных знаков и дорожной разметки, не создаст опасности или препятствий другим участникам движения. При необходимости для обеспечения безопасности движения следует обратиться за помощью к другим лицам.
2. Допускается на дорогах вне населённых пунктов.
3. Не допускается.

10.6

11 Какой из данных автомобилей правильно остановился?



1. Легковой — в ожидании пассажиров.
2. Грузовой — с целью погрузки.
3. Оба остановились неправильно.
4. Оба остановились правильно.

11.6; 15.3

12 Разрешается ли движение по автомагистралям транспортных средств, скорость которых по технической характеристике менее 40 км/ч?

1. Разрешается при отсутствии знака «Ограничение минимальной скорости».
2. Разрешается только по крайней правой полосе.
3. Разрешается в случаях, предусмотренных в ответах 1 и 2.
4. Запрещается.

27.3

13 Какие предупреждающие сигналы подаются всеми транспортными средствами в случае остановки колонны на дороге?

1. Включается ближний свет фар в светлое время суток.
2. Включается фонарь заднего хода.
3. Включается аварийная световая сигнализация.
4. Включается один из вышеперечисленных сигналов.

25.5

14 Водитель обгоняемого транспортного средства должен:



1. Перестроится как можно ближе к правому краю проезжей части и снизить скорость своего движения.
2. Не препятствовать обгону повышением скорости или иными действиями.
3. Выполнить действия, указанные в ответах 1 и 2.

14.3

15 Где разрешаются остановка и стоянка транспортных средств вне населённого пункта? Дайте полный ответ.

1. В специально отведённых местах.
2. На правой обочине дороги при отсутствии специально отведённых мест.
3. На правой стороне проезжей части дороги, как можно правее, чтобы не препятствовать движению других транспортных средств, если отсутствует правая обочина.
4. На левой стороне дороги, но с соблюдением мер по безопасности движения.
5. В местах, указанных в ответах 1, 2, 3.

15.1; 15.2

16 Автомобили проедут перекрёсток в следующем порядке:



1. Зелёный, красный, синий.
2. Синий, зелёный, красный.
3. Красный, синий, зелёный.

16.11; 16.13

17 С какой скоростью разрешается движение на легковом автомобиле по заснеженной дороге при условии, что на нём установлены «зимние» покрышки?

1. 80 км/ч вне населённого пункта.
2. 30 км/ч в населённом пункте.
3. Со скоростью, указанной в ответах 1 и 2.
4. Со скоростью, обеспечивающей безопасность движения.

ОБД;
12.1

18 При каких из перечисленных условий запрещается эксплуатация транспортных средств? Дайте полный ответ.

1. Подтекает жидкость из системы охлаждения двигателя.
2. Содержание вредных веществ в отработанных газах или их дымность превышают установленные стандартами нормы.
3. Не работает указатель уровня топлива.

31.4.6 «А»


19 В зоне действия данного дорожного знака:



1. Ограничивается продолжительность стоянки транспортных средств.
2. Запрещается стоянка транспортных средств без оплаты.
3. Запрещается остановка транспортных средств.

Прил. 1: 3.38

20 Синий автомобиль проедет перекрёсток:



1. Первым.
2. Вторым.

16.6; 8.3

1 Должен ли водитель обязательно остановить транспортное средство, если, согласно Правилам дорожного движения, он должен выполнить требование «уступить дорогу»?

1. Остановка обязательна.
2. Остановка необязательна. Достаточно снизить скорость и тем самым не вынуждать других участников дорожного движения, имеющих преимущество, изменить своё направление движения или скорость.

1.10

2 Кто из участников дорожного движения нарушает Правила?



1. Никто не нарушает.
2. Нарушают водители всех транспортных средств.
3. Нарушает водитель красного легкового автомобиля и пешеходы.
4. Нарушает водитель грузового автомобиля.

4.14 «Д»;
27.2 «Б»


3 Перед перекрёстком, перед которым установлен данный дорожный знак, остановились одно за другим два транспортных средства. Как правильно должен продолжить движение второй водитель?



1. После того, как продолжит движение первый водитель, второй поедет вслед за ним без остановки.
2. После того, как продолжит движение первый водитель, второй поедет вслед за ним, уступая дорогу транспортным средствам, приближающимся справа.
3. После того, как продолжит движение первый водитель, второй поедет вслед за ним и остановится перед данным дорожным знаком, а потом продолжит движение.

Прил. 1: 2.2

4 Данный дорожный знак с табличками обозначает:



1. Место стоянки в зоне 30 м для транспортных средств, кроме мотоциклов.
2. Место стоянки в зоне 30 м для мотоциклов и автомобилей с опознавательным знаком «Инвалид».
3. Место стоянки через 30 м для автомобилей с опознавательным знаком «Инвалид».

Прил. 1: 5.38,
7.2.1, 7.17

5 Разрешается ли обогнать автобус на данном участке дороги?



1. Разрешается в любом случае.
2. Запрещается.
3. Разрешается только в том случае, если автобус движется со скоростью менее 30 км/ч.

Прил. 1:
1.27, 1.31.4;
14.6 «Б»

6 Данная дорожная разметка разрешает:



1. Движение прямо и поворот налево на дорогу, которая ведёт в тупик.
2. Движение на перекрёстке только прямо.
3. Движение прямо и поворот налево во второй проезд.

Прил. 2: 1.18

7 Какие дорожные знаки имеют только круглую форму?

1. Запрещающие знаки.
2. Предписывающие знаки.
3. Знаки приоритета.
4. Знаки, указанные в ответах 1 и 2.

ДСТУ
4100-2002

8 Движение разрешено:



1. Всем транспортным средствам.
2. Трамваю, легковому автомобилю.
3. Легковому и грузовому автомобилям, мотоциклу.
4. Грузовому автомобилю и мотоциклу.

8.8 «А»

9 В случае вынужденной остановки в месте, где остановка запрещена, и при невозможности убрать транспортное средство с данного места при ограниченной обзорности дороги хотя бы в одном направлении менее 100 м, водитель должен:

1. Только включить аварийную световую сигнализацию.
2. Только установить знак аварийной остановки.
3. Кроме действий, указанных в ответах 1 и 2, включить дальний свет фар и задние противотуманные фонари.
4. Выполнить действия, указанные в ответах 1 и 2.

9.9 «А»;
9.10 «Б»; 15.14

10 Выезжая на дорогу с полосы разгона на легковом автомобиле, Вы:



1. Имеете преимущество перед грузовым автомобилем.
2. Обязаны двигаться по полосе разгона, влиться в транспортный поток, уступая дорогу грузовому автомобилю.

10.8



11 Разрешается ли буксировка на гибкой сцепке транспортного средства с неисправным рабочим тормозом?

1. Запрещается.
2. Разрешается со скоростью до 15 км/ч, если исправен стояночный тормоз.
3. Разрешается со скоростью до 30 км/ч.

23.4

12 Какие меры, по Правилам дорожного движения, должен принять водитель при возникновении препятствия или опасности для движения, которые он объективно способен обнаружить? Дайте полный ответ.

1. Сообщить о случившемся в милицию.
2. Прибыть на ближайший пост ГАИ или в органы милиции и сообщить о возникшем препятствии или опасности.
3. Немедленно принять меры к снижению скорости вплоть до остановки транспортного средства либо безопасного для других участников движения объезда препятствия.
4. Снизить скорость и проехать опасный участок, соблюдая меры безопасности.

12.3

13 Водитель должен соблюдать безопасную дистанцию: Дайте полный ответ.

1. В зависимости от скорости движения и дорожной обстановки.
2. Во время стоянки на площадке, обозначенной дорожным знаком «Место отдыха».
3. В зависимости от особенностей перевозимого груза и состояния транспортного средства.
4. В зависимости от условий, перечисленных в ответах 1 и 3.

13.1

14 Разрешается ли обогнать транспортное средство, которое перед перекрёстком начало снижать скорость?

1. Разрешается, если отсутствуют пешеходы, которые переходят проезжую часть.
2. Разрешается, если позволяет обзорность перекрёстка.
3. Запрещается.

14.6 «А»; 18.4

15 На дороге, имеющей по одной полосе движения в каждом направлении, имеется сплошная осевая линия дорожной разметки. Разрешается ли остановка или стоянка в данном месте?



1. Запрещается.
2. Запрещается, если между остановившимся транспортным средством и сплошной линией менее трёх метров.
3. Запрещается водителям всех транспортных средств, кроме маршрутных.

15.9 «Д»

16 Водитель какого транспортного средства проедет перекрёсток вторым?



1. Водитель автомобиля.
2. Водитель мотоцикла.

16.11; 16.14

17 Уменьшение тормозного пути заднеприводного автомобиля достигается:

1. Торможением путём блокировки колёс.
2. Прерывистым торможением с выключением сцепления.
3. Прерывистым торможением без выключения сцепления.

ОБД

18 Кто из водителей обязан остановиться?



1. Водитель автобуса.
2. Оба водителя.
3. Водитель легкового автомобиля.

18.1

19 В каких из перечисленных случаев разрешается использовать задние противотуманные фонари?

1. В условиях недостаточной видимости только в тёмное время суток.
2. В условиях недостаточной видимости только в светлое время суток.
3. В условиях, указанных в ответах 1 и 2.
4. В условиях, указанных в ответах 1 и 2, а также на буксируемом транспортном средстве во время буксировки.

19.9

20 Какие из перечисленных действий должен выполнить водитель транспортного средства, подъезжая к регулируемому железнодорожному переезду? Дайте полный ответ.

1. Притормозить и быть готовым остановиться.
2. Обязательно увеличить скорость, чтобы проехать переезд побыстрее.
3. Руководствоваться только указаниями и сигналами дежурного по переезду.
4. Выполнить действия, указанные в ответах 1 и 3.

20.2

1 По определению Правил дорожного движения, «разделительная полоса» — это:

1. Декоративные постройки, расположенные вдоль дороги.
2. Выделенный конструктивно или при помощи сплошных линий дорожной разметки элемент автодороги, который разделяет смежные проезжие части и не предназначенный для движения или стоянки транспортных средств.
3. Участок дороги, озеленённый травой или цветами, разделяющий дорогу по длине, предназначенный для движения пешеходов.

1.10

2 Автомобиль оборудован ремнями безопасности. В каких случаях разрешается не пристёгиваться ими?

1. Если автомобиль движется со скоростью не более 40 км/ч.
2. Разрешается при перевозке работников милиции.
3. Разрешается не пристёгиваться лицу, обучающему вождению, если за рулём ученик, а в населённых пунктах, кроме того, водителям-инвалидам, водителям и пассажирам оперативных и специальных транспортных средств и такси.
4. Разрешается в случаях, указанных в ответах 2 и 3.

2.3 «В»

3 Какая информация заложена в данном дорожном знаке?



1. За знаком заканчивается жилая зона, особые условия дорожного движения перестают действовать.
2. На участке дороги за знаком запрещается движение пешеходов.
3. На участке дороги за знаком запрещаются спортивные соревнования и игры детей.
4. На участке дороги за знаком запрещается движение автомобилей.
5. Информация, заложенная в ответах 2, 3, 4.

Прил. 1: 5.32


4 Что означает данный дорожный знак с табличкой?



1. Разрешает стоянку только легковых автомобилей и мотоциклов указанным на табличке способом.
2. Разрешает стоянку только легковых автомобилей, мотоциклов и грузовых автомобилей, разрешённая максимальная масса которых до 3,5 т, указанным на табличке способом.
3. Разрешает стоянку всех транспортных средств способом, указанным на табличке.

Прил. 1: 5.38, 7.6.1

5 Разрешается ли выполнить обгон в зоне действия знака, если буксируемый автомобиль движется со скоростью менее 30 км/ч?



1. Запрещается.
2. Разрешается.

Прил. 1: 3.25; прил. 2: 1.11

6 В каком минимальном возрасте разрешается двигаться по дороге на велосипедах?

- | | | | |
|--------|--------|--------|--------|
| 1 | 2 | 3 | 4 |
| 12 лет | 14 лет | 16 лет | 18 лет |

6.1


7 Разрешается ли обгон транспортных средств на участке дороги за данным дорожным знаком?



1. Разрешается обогнать только автопоезд, движущийся со скоростью менее 30 км/ч.
2. Разрешается обогнать только буксирующее транспортное средство в сцепке с буксируемым, движущиеся со скоростью менее 30 км/ч.
3. Разрешается обогнать только одиночное транспортное средство, движущееся со скоростью менее 30 км/ч.
4. Разрешается обогнать мотоцикл без бокового прицепа.
5. Разрешается обогнать транспортные средства, указанные в ответах 1, 2 и 3.

Прил. 1: 3.25

8 В каком ответе правильно названы все транспортные средства, которым разрешено движение?



1. Автомобили и мотоцикл.
2. Все транспортные средства.
3. Автомобили и трамвай.


8.8 «Б»

9 Для перевозки каких пассажиров необходимо использовать специальные средства, дающие возможность пристегнуть ребёнка с помощью ремней безопасности, на переднем сиденье легкового автомобиля? Дайте полный ответ.

1. Для перевозки пассажиров, пострадавших в ДТП.
2. Для перевозки детей ростом менее 145 см.
3. Для перевозки детей, не достигших 12-летнего возраста.
4. Для пассажиров, указанных в ответах 2 и 3.

21.11 «Б»

10 В каком направлении разрешено движение легкового автомобиля?



1. Только в обратном направлении.
2. Только налево и в обратном направлении.
3. Прямо, налево и в обратном направлении.
4. Во всех направлениях.

10.4

11 Дайте полный ответ.
В жилой зоне запрещается:

1. Только стоянка транспортных средств вне специально отведенных мест.
2. Только стоянка с работающим двигателем.
3. Только движение грузовых автомобилей, тракторов, самоходных машин и механизмов, кроме обслуживающих объекты и население, выполняющих технологические работы или принадлежащих гражданам, которые проживают в этой зоне.
4. Все вышеуказанные действия.

26.2

12 Разрешается ли движение грузовых автомобилей по автомагистралям и дорогам для автомобилей далее второй полосы?

1. Запрещается.
2. Разрешается, если их разрешенная максимальная масса более 3,5 т.
3. Разрешается, если их разрешенная максимальная масса не превышает 3,5 т.

27.2 «Б»

13 Разрешается ли повернуть во двор на данном участке дороги?



1. Запрещается.
2. Разрешается.

Прил. 2: 1.2

14 В каких из перечисленных случаев обгон запрещен?
Дайте полный ответ.

1. В конце подъема.
2. На мостах, эстакадах, путепроводах.
3. На крутых поворотах и других участках дорог с ограниченной обзорностью.
4. В условиях недостаточной видимости.
5. В случаях, указанных в ответах 1, 2, 3, 4.


14.6 «Г»

15 Разрешаются ли остановка и стоянка с левой стороны на дороге с двусторонним движением?

1. Разрешаются в населенных пунктах и вне их.
2. Запрещаются на дорогах в населенных пунктах, имеющих по одной полосе для движения в каждом направлении, без трамвайных путей посередине и не разделенных сплошной линией разметки.
3. Разрешаются на дорогах в населенных пунктах, имеющих по одной полосе для движения в каждом направлении, без трамвайных путей посередине и не разделенных сплошной линией разметки.

15.3

16 Автомобили проедут перекресток в следующем порядке:



1. Синий, зелёный, красный.
2. Зелёный, синий, красный.
3. Синий, красный, зелёный.

16.12

17 К чему приводит пониженное давление воздуха в шинах передних колес автомобиля?

1. К затруднению управления автомобилем.
2. К увеличению тормозного пути.
3. К увеличению скорости движения.


ОБД

18 При каких из перечисленных условий запрещается эксплуатация транспортных средств?
Дайте полный ответ.

1. Не горят лампы подсветки щитка приборов.
2. На передней оси автобуса, выполняющего междугородные перевозки, установлены шины с восстановленным протектором.
3. При условиях, указанных в ответах 1 и 2.

31.4.5 «Д»


19 Водитель какого транспортного средства должен уступить дорогу?



1. Водитель автобуса-водителю автомобиля.
2. Водитель автомобиля-водителю автобуса.

16.12

20 Синий автомобиль проедет перекресток:



1. Первым.
2. Вторым.
3. Третьим.
4. Последним.

16.11; 16.14; 3.2

1 Данный дорожный знак:



1. Запрещает движение только на мотоциклах с боковым прицепом.
2. Разрешает движение на мотороллерах и велосипедах.
3. Разрешает движение на трёхколёсных и других механических транспортных средствах, разрешённая максимальная масса которых не превышает 400 кг.
4. Запрещает движение на мотоциклах. Действие знака не распространяется на водителей, обслуживающих граждан, которые работают в обозначенной зоне.
5. Информация, заложенная в ответах 2, 3 и 4.

1.10 «мотоцикл»; прил. 1: 3.6

4.7; 4.8

2 В каком месте разрешается пешеходам пересекать проезжую часть при отсутствии пешеходного перехода?

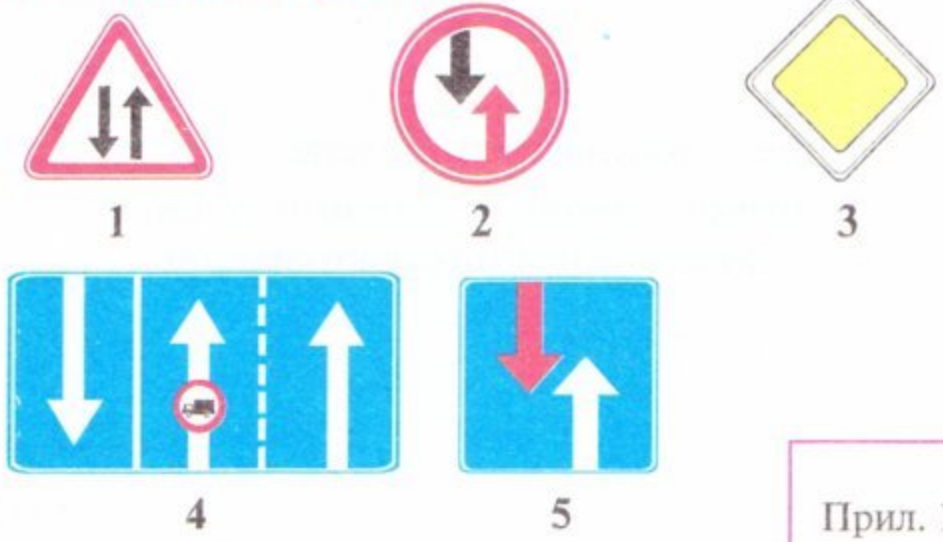
1. Только на дорогах, имеющих не более трех полос для движения в обоих направлениях, где дорога хорошо видна в обе стороны, под прямым углом к краю проезжей части.
2. Только на перекрестках по линии тротуаров или обочин.
3. Во всех перечисленных местах.

3 Дайте полный ответ. С Госавтоинспекцией согласовываются:

1. Размещение рекламы на транспортном средстве.
2. Нанесение белых полос под наклоном на внешних боковых поверхностях транспортных средств.
3. Установка проблесковых маячков.
4. Во всех вышеперечисленных случаях.
5. В случаях, указанных в ответах 2 и 3.

32.1 «Е»

4 Какой дорожный знак предоставляет водителю преимущество по отношению к встречным транспортным средствам?



Прил. 1: 2.6


5 Разрешается ли повернуть направо на данном перекрёстке?



1. Запрещается. Разрешается только водителям легковых автомобилей, выполняющим неотложное служебное задание.
2. Запрещается. Разрешается только водителям маршрутных транспортных средств.
3. Запрещается в любом случае.

Прил. 1: 4.5

6 Каким транспортным средствам разрешено движение по правой полосе проезжей части?



1. Всем механическим транспортным средствам.
2. Только маршрутным транспортным средствам.
3. Маршрутным транспортным средствам и такси.
4. Только велосипедам.

Прил. 2: 1.24


7 Данный дорожный знак:



1. Определяет конец зоны действия только знака «Обгон запрещён».
2. Определяет одновременно конец действия всех запретов и ограничений, введённых некоторыми запрещающими дорожными знаками.
3. Снимает все запреты и ограничения, введённые всеми дорожными знаками.

Прил. 1: 3.42

8 Движение разрешено:



1. Прямо.
2. Направо в первый и второй проезды.
3. Направо в первый проезд.
4. Направо во второй проезд.

8.8 «Б»

9 Каким образом разрешается привлечь внимание водителя обгоняемого транспортного средства на дороге вне населённого пункта?

1. Включением аварийной световой сигнализации.
2. Переключением света фар и звуковым сигналом.
3. Только частым включением звукового сигнала.

9.6

10 Для чего предназначена полоса торможения?

1. Эта полоса предназначена для поворота на другую дорогу, на эту полосу водитель должен своевременно перестроиться и снижать скорость только на ней.
2. На дороге с крутым затяжным подъёмом на этой полосе разрешается в случае необходимости остановиться.
3. На дороге с крутым затяжным подъёмом эта полоса предназначена для транспортных средств, движущихся со скоростью до 30 км/ч.

10.8

11 Буксировка запрещена:

1. При общей длине сцепленных транспортных средств 20 м (маршрутных транспортных средств — 22 м).
2. Мотоциклов с боковым прицепом.
3. Мотоциклами с боковым прицепом.
4. В гололедицу на гибкой сцепке.

23.10 «Б»

12 С какой максимальной скоростью разрешается движение всех транспортных средств в зоне, обозначенной данным дорожным знаком?



1. 5 км/ч.
2. 10 км/ч.
3. 20 км/ч.
4. 30 км/ч.
5. Со скоростью, обеспечивающей безопасность движения.

12.5

13 Для обеспечения в пути безопасности дорожного движения водитель обязан следить за техническим состоянием:

1. Всего транспортного средства.
2. Только тормозной системы и рулевого управления транспортного средства.

2.3 «Б»

14 Разрешается ли обгон транспортного средства на данном участке?


1. Разрешается.
2. Запрещается.
3. Разрешается при отсутствии встречного транспортного средства.

14.6 «Г»

15 В каких местах запрещается остановка транспортных средств?

1. На железнодорожных переездах.
2. На площадях.
3. Ближе 15 м от края пересекаемой проезжей части.
4. На дорогах с трамвайными путями.
5. Во всех перечисленных местах.

15.9 «А»

16 Синий автомобиль проедет перекрёсток:


1. Третьим.
2. Вторым.
3. Первым.

16.12; 16.13;
3.2
17 Водитель движется по дороге с двусторонним движением, соблюдая соответствующую дистанцию. Его начинает обгонять другое транспортное средство, и внезапно появляется встречное. Как должен поступить водитель обгоняемого транспортного средства?

1. Снизить свою скорость и освободить занимаемую полосу движения.
2. Увеличить свою скорость и освободить занимаемую полосу движения.
3. Подать звуковой сигнал и продолжить движение, не изменяя скоростной режим.

ОБД

18 Какое из перечисленного оборудования применяется для регулирования дорожного движения? Дайте полный ответ.

1. Вставки разметочные дорожные для улучшения зрительной ориентации водителей на проезжей части.
2. Дорожные ограждения на насыпях.
3. Оборудование, перечисленное в ответах 1 и 2.

8.6 «Г», «Е»

19 При движении в тёмное время суток на освещённых участках дороги на механическом транспортном средстве должен быть включён:


1. Дальний свет фар или габаритные фонари.
2. Ближний или дальний свет фар.
3. Ближний свет фар (противотуманные фары) или габаритные фонари.

19.1 «А»

20 Какое из перечисленных действий следует выполнить водителю, приближающемуся к железнодорожному переезду?

1. Снизить скорость и остановиться в любом случае.
2. Не менее чем за 100 м до переезда прекратить или завершить обгон.
3. Убедиться в том, что к переезду не приближается поезд.
4. Выполнить действия, указанные в ответах 1, 2, 3.
5. Выполнить действия, указанные в ответах 2 и 3.

14.6 «Б»;
20.2

1 Как должны поступить водители попутных и встречных транспортных средств, если при движении по дороге, на которой отсутствует разделительная полоса, приближается специальное транспортное средство, на котором включены проблесковые маячки красного цвета?

1. Продолжить движение по своей полосе.
2. Остановиться у правого края проезжей части (на правой обочине) и возобновить движение лишь после проезда замыкающего колонну транспортного средства с включёнными проблесковыми маячками зелёного или синего и зелёного цвета.
3. Снизить скорость и принять вправо.

3.2; 3.3

2 Дайте полный ответ. По определению Правил дорожного движения «Велосипедист» - это:

1. Лицо, управляющее велосипедом.
2. Лицо, управляющее мопедом, имеющим двигатель с рабочим объёмом до 50 куб. см.
3. Лицо, управляющее велосипедом и вышеуказанным мопедом.

1.10


3 Данный дорожный знак предупреждает, что:



1. Впереди извилистый участок дороги.
2. Впереди начало участка дороги со встречным движением после одно-стороннего.
3. Впереди участок дороги, на котором следует обязательно уступить дорогу встречному транспортному средству.
4. Данный знак должен применяться только одновременно со знаком «Конец дороги с односторонним движением».
5. Информация, заложенная в ответах 3 и 4.

Прил. 1: 1.26


4 Данный дорожный знак с табличкой:



1. Запрещает остановку и стоянку транспортных средств по нечётным числам месяца.
2. Запрещает остановку и стоянку транспортных средств на полосе движения, на которую указывает табличка.
3. Указывают конец зоны действия данного знака.

Прил. 1: 3.34, 7.2.3

5 В каком направлении запрещено движение?



1. Направо в первый и второй проезды.
2. Направо в первый проезд.
3. Направо во второй проезд.

Прил. 1: 3.22

6 Каким транспортным средствам запрещается движение по автомагистралям?

1. Только велосипедам.
2. Только транспортным средствам, на которых обучают вождению.
3. Только тракторам, самоходным машинам и механизмам.
4. Транспортным средствам, указанным в ответах 1, 2, 3.

6.6 «Б»; 24.9; 27.2 «А»


7 Данный дорожный знак:



1. Запрещает движение со скоростью 50 км/ч и менее.
2. Запрещает движение со скоростью, превышающей указанную на знаке.
3. Разрешает движение только с указанной скоростью или большей.

Прил. 1: 3.29

8 Синий автомобиль проедет перекресток:



1. Вторым.
2. Первым.

8.3; 16.6

9 Как обозначить транспортные средства, которые являются участниками дорожно-транспортного происшествия?

1. Только включением аварийной световой сигнализации.
2. Включением аварийной световой сигнализации и установкой знака аварийной остановки либо мигающего красного фонаря.
3. Включением всех осветительных приборов, имеющихся на транспортном средстве.

9.10 «А»

10 Разворот запрещается:

1. На пешеходных переходах и ближе 10 м от них с обеих сторон, кроме случая разрешённого разворота на перекрёстке.
2. Ближе 15 м от перекрёстка.
3. На нерегулируемых перекрёстках, если на пересекаемой дороге организовано одностороннее движение.
4. Во всех перечисленных случаях.

10.7 «Г»

11 Буксировка на жёсткой сцепке должна осуществляться при наличии водителя за рулём:

1. Буксирующего и буксируемого транспортных средств.
2. Только буксирующего транспортного средства, когда конструкция жёсткой сцепки обеспечивает буксируемому транспортному средству повторение траектории движения буксирующего транспортного средства независимо от величины поворотов.
3. В обоих случаях.

23.5

12 Разрешается ли резко тормозить?

1. Разрешается, если автомобиль оборудован современной тормозной системой.
2. Разрешается, если расстояние до полной остановки невелико.
3. Разрешается, когда без этого невозможно предотвратить дорожно-транспортное происшествие.
4. Разрешается в случаях, указанных в ответах 1, 2, 3.

12.9 «Г»

13 Разрешаются ли остановка и стоянка в местах, где расстояние между остановившимся транспортным средством и противоположным краем проезжей части менее трёх метров?

1. Разрешаются на дорогах с неинтенсивным движением.
2. Разрешаются только в светлое время суток, если водитель не покидает своё место в автомобиле.
3. Запрещаются.


15.9 «Д»

14 В каких из перечисленных мест запрещается обгон?

1. Только ближе чем за 50 м перед пешеходным переходом в населённом пункте.
2. Только ближе чем за 100 м перед пешеходным переходом вне населённого пункта.
3. Только на дорогах с двусторонним движением, имеющих по одной полосе в каждом направлении.
4. В местах, указанных в ответах 1, 2, 3.
5. В местах, указанных в ответах 1 и 2.

14.6 «В»


15 Водители каких транспортных средств правильно остановились для высадки пассажиров?



1. Только водитель легкового автомобиля.
2. Только водитель мотоцикла.
3. Только водитель микроавтобуса.
4. Все водители остановились неправильно.

15.9 «Г»

16 Первым проедет перекрёсток:



1. Чёрный автомобиль.
2. Красный автомобиль.
3. Синий автомобиль.

16.9

17 В каком случае центробежная сила при повороте уменьшается?



1. При уменьшении радиуса поворота.
2. При резком повороте рулевого колеса в сторону поворота.
3. При снижении скорости движения.


ОБД

18 Как должен поступить водитель, если в тёмное время суток на неосвещённых участках дорог на автомобиле не включается ближний свет левой фары?

1. Принять меры к устранению неисправности, а если это сделать невозможно, — двигаться как можно более коротким путём к месту стоянки или ремонта, соблюдая меры предосторожности.
2. Продолжить движение, включив противотуманные фары.
3. Продолжить движение, включив габаритные фонари.

31.5; 19.5


19 Транспортные средства проедут перекрёсток в следующем порядке:



1. Трамвай, легковой автомобиль, автобус.
2. Легковой автомобиль, автобус, трамвай.
3. Трамвай, автобус, легковой автомобиль.

16.12

20 Водитель какого транспортного средства имеет право на первоочередное движение?



1. Велосипедист.
2. Водитель автомобиля.

16.11; 16.14

1 В каком из ответов по Правилам дорожного движения указаны наиболее характерные признаки термина «автомагистраль»?

1. Это дорога, на которой не существует ограничения скорости движения.
2. Это дорога, предназначенная для международного автомобильного движения, имеющая, как минимум, три полосы для движения в каждом направлении.
3. Это автомобильная дорога, которая обозначается соответствующим дорожным знаком, имеет для каждого направления движения отдельные проезжие части, разделённые одна от другой разделительной полосой.


1.10

2 С какой стороны должен садиться пассажир в автомобиль, если автомобиль остановлен у левого края дороги?

1. С правой стороны.
2. С левой или с правой стороны.
3. Со стороны посадочной площадки, а в случае её отсутствия, — с тротуара или обочины.

5.1


3 Данный дорожный знак:




1. Обозначает номер дороги вне населённого пункта.
2. Обозначает номер, присвоенный дороге (маршруту), на автомагистрали.
3. Обозначает расстояние до ближайшего населённого пункта.
4. Обозначает расстояние до ближайшей заправочной станции.

Прил. 1: 5.61.1

4 Разрешается ли остановка с левой стороны на дорогах, обозначенных данными дорожными знаками?



А



Б

1. Запрещается.
2. Разрешается при знаках А и Б.
3. Разрешается при знаке Б.
4. Разрешается при знаке А.

Прил. 1: 5.45, 5.47


5 Водители каких транспортных средств, осуществляя транзитное движение, нарушили требование данного дорожного знака?



1. Водители автомобиля и мотоцикла с боковым прицепом.
2. Водители всех транспортных средств.
3. Только водитель автомобиля.
4. Водители мотоциклов.

Прил. 1: 3.2


6 Сколько полос для движения имеет дорога, где транспортные потоки противоположных направлений разделяются двойной сплошной линией?



1. Три полосы.
2. Четыре и более полос.
3. Две или три полосы.
4. Две полосы.

Прил. 2: 1.3

7 Каким транспортным средствам запрещает обгон данный дорожный знак?



1. Только легковым автомобилям.
2. Только легковым автомобилям, микроавтобусам и автобусам.
3. Всем транспортным средствам.
4. Всем механическим транспортным средствам.

Прил. 1: 3.25

8 Мигающие красные сигналы данного светофора:



1. Предупреждают о предстоящей смене сигналов.
2. Запрещают движение в местах выезда специальных автомобилей.
3. Запрещают движение через железнодорожный переезд.

8.7.6

9 На каком расстоянии до транспортного средства устанавливается знак аварийной остановки или мигающий красный фонарь в светлое время суток?

1. На расстоянии, обеспечивающем безопасность дорожного движения, но не ближе 20 м в населённых пунктах и 40 м вне их.
2. На расстоянии, обеспечивающем безопасность дорожного движения, но не ближе 30 м в населённых пунктах и 50 м вне их.
3. На расстоянии, обеспечивающем безопасность дорожного движения, но не ближе 40 м в населённых пунктах и 100 м вне их.

9.10

10 Как должен поступить водитель автобуса, поворачивая направо?



1. Уступить дорогу движущемуся легковому автомобилю по автомагистрали.
2. Первым выехать на автомагистраль, потому что он перевозит пассажиров

27.1

11 В зависимости от каких факторов выбирается способ буксировки механического транспортного средства?

1. В зависимости от технической неисправности буксируемого транспортного средства.
2. В зависимости от фактического наличия буксира.
3. По усмотрению участвующих в буксировке водителей транспортных средств.
4. В зависимости от факторов, указанных в ответах 2 и 3.

23.4

12 При выборе в установленных пределах безопасной скорости движения водитель должен учитывать:

1. Только дорожную обстановку.
2. Только особенности перевозимого груза.
3. Только состояние транспортного средства.
4. Учитывать все факторы, перечисленные в ответах 1, 2, 3.

12.1

13 Что означает табличка под дорожным знаком?



1. Расстояние от первого поворота до начала второго поворота.
2. Протяженность участка дороги с опасными поворотами.
3. Расстояние от знака до начала первого поворота.


Прил. 1: 7.2.1

14 Как обозначаются в светлое время суток части груза, перевозимого транспортным средством, выступающие более чем на 1 м за его габариты спереди или сзади?

1. Красными флажками.
2. Белыми флажками.
3. Щитками или флажками с нанесёнными по диагонали красными и белыми чередующимися полосами.

30.3 «З»


15 Какой автомобиль правильно поставлен на стоянку?



1. Красный.
2. Жёлто-синий.
3. Оба правильно.
4. Оба неправильно.

15.9 «Г»;
11.6

16 Транспортные средства проедут перекрёсток в следующем порядке:



1. Трамвай, зелёный автомобиль, красный автомобиль.
2. Трамвай, красный, зелёный автомобили.
3. Красный автомобиль, трамвай и зелёный автомобиль.

16.9

17 С какой безопасной скоростью следует выполнить поворот на пересекаемую дорогу?

1. Снизить скорость при въезде в поворот и увеличить её при выезде из поворота.
2. Двигаться, не снижая скорости движения, но соблюдая особую осторожность.
3. Снизить скорость движения лишь в том случае, если дорога скользкая.

ОБД

18 Какое количество противотуманных фар разрешается устанавливать на легковом автомобиле?

1. По усмотрению водителя.
2. Четыре.
3. Две.

31.4.3,
прим. 1

19 Разрешается ли установка шин с разными рисунками протектора на одну ось легкового автомобиля?

1. Разрешается только на заднюю ось переднеприводного автомобиля.
2. Запрещается.
3. Разрешается только на переднюю ось.

31.4.5 «Г»

20 Данная дорожная разметка обозначает:



1. Приближение к сужению проезжей части или к сплошной линии разметки, разделяющей транспортные потоки противоположных направлений.
2. Приближение к полосе проезжей части, предназначенной для движения только маршрутных транспортных средств.
3. Зону, в которой запрещается обгонять все транспортные средства, кроме одиночных, движущихся со скоростью менее 30 км/ч, двухколёсных мотоциклов, велосипедов.

Прил. 2: 1.19

1 Что означает термин «уступить дорогу»? Дайте полный ответ.

1. Это требование, обязывающее водителя только притормозить или остановиться.
2. Это требование к участнику дорожного движения не продолжать или не возобновлять движение, не осуществлять каких-либо манёвров (за исключением требования освободить занимаемую полосу движения), если это может вынудить других участников дорожного движения, имеющих преимущество, изменить направление движения или скорость.
3. Это требование к участнику дорожного движения только снизить скорость движения.

1.10

2 Где должен двигаться пешеход, если на дороге нет тротуара и пешеходной дорожки?

1. По обочине с правой стороны.
2. По проезжей части с правой стороны.
3. По обочине, а если её нет, — по краю проезжей части навстречу движению транспортных средств.

4.1

3 Данный дорожный знак с табличкой:



1. Запрещает движение всех транспортных средств на участке дороги протяжённостью 300 м.
2. Запрещает въезд всех транспортных средств на участке дороги протяжённостью 300 м.
3. Въезд всех транспортных средств (кроме маршрутных) будет запрещён через 300 м.

Прил. 1: 3.21, 7.1.1

4 Какой дорожный знак обозначает гостиницу или мотель?



Прил. 1: 6.16

5 В доме при дворе слева проживает владелец данного автомобиля. По какому из указанных маршрутов разрешается водителю проехать к себе во двор?



1. По маршруту А, после разворота на следующем перекрёстке.
2. По маршруту Б.
3. По маршрутам А и Б.

Прил. 1: 4.1

6 Водители каких транспортных средств неправильно остановились для высадки пассажиров?



1. Все водители.
2. Только водитель легкового автомобиля.
3. Только водитель мотоцикла.
4. Только водитель грузового автомобиля.
5. Водители грузового автомобиля и мотоцикла.

Прил. 2: 1.10.1

7 На перекрёстке установлены светофор и предписывающий дорожный знак «Движение прямо». В каком направлении разрешено движение?

1. При зелёном сигнале светофора — только прямо.
2. При зелёном сигнале светофора — во всех направлениях.
3. При красном сигнале светофора в сочетании с жёлтым — только прямо.
4. В направлениях, указанных в ответах 2 и 3.

Прил. 1: 4.1

8 Что означают два одновременно включённых сигнала светофора — красный и жёлтый?



1. Запрещается движение, вскоре будет включён зелёный сигнал.
2. Необходимо уступить дорогу пешеходам.
3. Разрешается закончить поворот направо.

8.7.3 «Е»

9 В каком из перечисленных случаев устанавливается вместе с включенной аварийной световой сигнализацией знак аварийной остановки или мигающий красный фонарь?

1. Если водителю необходимо оставить неисправное транспортное средство для доставки к нему вышедшей из строя запасной части.
2. В случае вынужденной остановки в местах с ограниченной обзорностью дороги хотя бы в одном направлении менее 100 м.
3. В случае длительной вынужденной остановки в местах с ограниченной обзорностью дороги в обоих направлениях менее 200 м.

9.10 «Б»

10 С какого минимального возраста разрешается обучаться вождению на легковом автомобиле, принадлежащем физическому лицу?

1	2	3	4
с 15 лет	с 16 лет	с 17 лет	с 18 лет

24.2

- 11** По какой полосе на дороге с двусторонним движением, имеющей по три полосы для движения в каждом направлении, разрешается движение прямо грузовых автомобилей с разрешённой максимальной массой 4 т?
Дайте полный ответ.

1. По крайней правой полосе.
2. По крайней правой и средней полосе.
3. По любой полосе, если правые полосы для движения заняты другими транспортными средствами.

11.6

- 12** С какой максимальной скоростью может осуществляться буксировка в данных условиях?



1. 80 км/ч.
2. 70 км/ч.
3. 50 км/ч.
4. 30 км/ч.

12.7

- 13** Если встречный разъезд затруднён, дорогу должен уступить:
Дайте полный ответ.

1. Только водитель легкового автомобиля водителю маршрутного транспортного средства.
2. Только водитель, на полосе движения которого имеется препятствие.
3. Только водитель транспортного средства, габариты которого мешают встречному движению.
4. Водители, указанные в ответах 2 и 3.
5. Только водитель грузового автомобиля водителю маршрутного транспортного средства.

13.4

- 14** В каких случаях разрешается обгон на перекрёстке?

1. Обгон на перекрёстке запрещён.
2. Обгон разрешается, если имеются две и более полос для движения в каждом направлении.
3. Разрешается, если водитель обгоняемого транспортного средства не включил световой указатель поворота налево и продолжит движение через перекрёсток в прямом направлении.


14.6 «А»

- 15** Остановка и стоянка транспортных средств запрещаются:

1. На перекрёстках и ближе 10 м от края пересекаемой проезжей части при отсутствии на них пешеходного перехода.
2. На пешеходных переходах и ближе 10 м только перед ними.
3. Ближе 20 м за пешеходным переходом.
4. Запрещаются в местах, перечисленных в ответах 1, 2 и 3.

15.9 «Г»

- 16** Третим проедет перекрёсток:



1. Красный автомобиль.
2. Синий автомобиль.
3. Зелёный автомобиль.
4. Жёлтый автомобиль.

16.11; 16.14

- 17** Уменьшение тормозного пути на скользкой дороге для заднеприводного автомобиля достигается:



1. Прерывистым торможением с выключенным сцеплением.
2. Прерывистым торможением без выключения сцепления и передачи.

ОБД

- 18** При каких из перечисленных условий запрещается эксплуатация транспортных средств?
Дайте полный ответ.

1. Нарушена герметичность гидравлического тормозного привода.
2. Не горит лампа заднего противотуманного фонаря.
3. При условиях, указанных в ответах 1 и 2.

31.4.1 «В»

- 19** Разрешается ли движение механических транспортных средств с дальним светом фар на освещённых участках дороги в темное время суток?

1. Разрешается только при выполнении неотложного служебного задания.
2. Разрешается только при движении с большой скоростью.
3. Разрешается.

19.1

- 20** При запрещающем сигнале светофора и открытом шлагбауме на железнодорожном переезде водитель должен:

1. Проехать через переезд, руководствуясь положением шлагбаума.
2. Остановиться не ближе 5 м от шлагбаума.
3. Остановиться перед дорожной разметкой «стоп-линия», дорожным знаком «Проезд без остановки запрещён», шлагбаумом или светофором так, чтобы видеть сигналы, а если средства организации дорожного движения отсутствуют — не ближе 10 м до ближайшего рельса.
4. Лично убедиться в отсутствии приближающегося поезда и проехать через переезд.

20.3

1 Транспортное средство должно быть временно зарегистрировано в ГАИ, если оно находится в международном движении на территории Украины более:

1. Двух месяцев.
2. Одного месяца.
3. В обоих случаях.

29.2

2 Могут ли пешеходы двигаться по велосипедным дорожкам при отсутствии тротуара или пешеходной дорожки?

1. Не могут.
2. Могут.
3. Могут, держась правой стороны, не затрудняя движение на велосипедах.

4.1

3 Данный дорожный знак:



1. Применяется для обозначения мест, специально выделенных для организованного перехода пешеходами проезжей части дороги.
2. Предупреждает о наличии впереди надземного пешеходного перехода.
3. Предупреждает об участке дороги, на котором имеется не обозначенный дорожной разметкой и регулируемый светофором пешеходный переход.


Прил. 1: 5.35.1

4 Есть ли среди данных дорожных знаков такой, который бы не распространял своё действие на маршрутные транспортные средства?

1. Только знак 
2. Только знак 
3. Только знак 
4. Только знак 
5. Своё действие не распространяют на маршрутные транспортные средства все перечисленные знаки.

Прил. 1: 3.1, 3.2, 3.34, 4.1

5 В каких направлениях, обозначенных стрелками, разрешено движение?



1. А и Б
2. А
3. Б.

Прил. 1: 5.26

6 Что означает данная дорожная разметка?



1. Указывает разрешённые на перекрёстке направления движения по полосам.
2. Запрещает перестраиваться с полосы на полосу.
3. Разрешает перестраиваться с полосы на полосу до въезда на перекрёсток.

Прил. 2: 1.18

7 В каком ответе указаны все дорожные знаки, имеющие прямоугольную форму. Дайте полный ответ.

1. Знаки сервиса.
2. Информационно-указательные знаки.
3. Таблички к дорожным знакам.
4. Знаки, указанные в ответах 1 и 3.
5. Знаки, указанные в ответах 1, 2 и 3.

ДСТУ 4100-2002

8 Является ли выполнение требований горизонтальной дорожной разметки обязательным?

1. Строго обязательной является только горизонтальная разметка, выполненная жёлтым цветом.
2. Не всегда, а только в том случае, когда она выполнена белым цветом.
3. Является, так как горизонтальная дорожная разметка устанавливает определённый режим и порядок движения.

8.5.1

9 Когда, в соответствии с Правилами дорожного движения, следует закончить подачу предупреждающего сигнала рукой?

1. Немедленно после завершения манёвра.
2. Во время выполнения манёвра.
3. Непосредственно перед началом выполнения манёвра.

9.4

10 Для чего предназначена полоса разгона?

1. Эта полоса движения предназначена для соединения автомагистрали с обычной дорогой.
2. Эта полоса предназначена для движения быстроходных транспортных средств.
3. При наличии полосы разгона водитель должен двигаться только по ней, вливаясь в транспортный поток и уступая дорогу транспортным средствам, движущимся по дороге, на которую он въезжает.

10.8

- 11** Каким способом разрешается буксировка транспортного средства с неисправной тормозной системой?
1. На гибкой или жёсткой сцепке.
 2. Только на жёсткой сцепке.
 3. На жёсткой сцепке или способом частичной погрузки.
 4. Только способом частичной погрузки.
 5. Любым способом, соблюдая меры безопасности.

23.4

- 12** С какой максимальной скоростью разрешается движение легковых автомобилей на участках дорог, обозначенных данным дорожным знаком?



1. 130 км/ч.
2. 100 км/ч.
3. 90 км/ч.
4. 80 км/ч.
5. 70 км/ч.

12.6 «Г»

- 13** Допускается ли переключение света фар и применение звукового сигнала для привлечения внимания обгоняемого водителя на дороге вне населённого пункта?

1. Допускается в условиях, когда это не может привести к ослеплению других водителей, в том числе через зеркало заднего вида.
2. Не допускается.

9.6; 9.7

- 14** Разрешается ли перевозить груз, по ширине выступающий за внешние края габаритных фонарей транспортного средства?

1. Разрешается, если не нарушена устойчивость транспортного средства.
2. Разрешается на автомобилях со специальными кузовами.
3. Запрещается.
4. Разрешается, но если груз выступает по ширине более чем на 0,4 м, — он должен быть обозначен в соответствии с требованиями Правил дорожного движения.

22.4

- 15** Разрешается ли стоянка транспортных средств на тротуарах?

1. Запрещается стоянка всех транспортных средств.
2. Разрешается стоянка легковых автомобилей и мотоциклов на краю тротуара, где для движения пешеходов остаётся не менее двух метров.
3. Разрешается стоянка на краю тротуара всех автомобилей и мотоциклов.

15.10 «В»

- 16** Водитель какого транспортного средства должен уступить дорогу?



1. Водитель мотоцикла, водителю автомобиля
2. Водитель автомобиля — мотоциклисту.

16.12

- 17** Как рекомендуется двигаться по участку дороги, который залит водой?

1. Перед въездом на участок ускорить движение и не снижать скорости до выезда с него.
2. Перед въездом на участок снизить скорость движения и проехать его не ускоряясь.
3. Перед въездом на участок снизить скорость движения, а на самом участке увеличить её.

ОБД

- 18** При каких из перечисленных условий запрещается эксплуатация транспортных средств? Дайте полный ответ.

1. На световых приборах нет рассеивателей.
2. Неисправна система выпуска отработанных газов.
3. При условиях, указанных в ответах 1 и 2.


31.4.3 «Г»;
31.4.6 «В»

- 19** Разрешается ли управлять автомобилем в тёмное время суток или в условиях недостаточной видимости, если включены только габаритные фонари?

1. Разрешается на освещённой дороге в населённых пунктах.
2. Запрещается. Должен быть включён ближний или дальний свет фар.
3. Разрешается при скорости движения не более 50 км/ч.

19.1 «А»

- 20** Водитель красного автомобиля:



1. Имеет преимущество, так как движется по дороге, имеющей продолжение в оба направления, а жёлтый автомобиль движется по примыкающей дороге.
2. Должен уступить дорогу.

16.9; 8.7.3 «Е»

1 Относится ли к термину «островок безопасности» часть разделительной полосы, через которую пролегает пешеходный переход?

1. Относится.
 2. Не относится.


1.10

2 Где могут двигаться пешеходы в населённых пунктах, если нет тротуаров, пешеходных и велосипедных дорожек?

1. В один ряд по обочине, держась как можно правее, а при её отсутствии, — по краю проезжей части дороги навстречу движению транспортных средств. При этом следует быть осторожным и не мешать другим участникам дорожного движения.
 2. В один ряд по обочине, держась как можно правее, а при её отсутствии, — по краю проезжей части дороги по ходу движения.
 3. В обоих случаях правильно.

4.1

3 Данные дорожные знаки предупреждают, что:



1. Впереди железнодорожный переезд со шлагбаумом, до которого не более 50 м.
 2. Впереди железнодорожный переезд без шлагбаума, до которого не более 300 м.
 3. Впереди железнодорожный переезд без шлагбаума, до которого не менее 50 м.

Прил. 1: 1.28, 1.31.6

4 Какой дорожный знак разрешает объезд препятствия только справа?



Прил. 1: 4.7


5 Данная табличка применяется:



1. Только с данным дорожным знаком. Цифра на табличке указывает количество полос движения для разворота.
 2. Только с данными дорожными знаками. Цифра на табличке указывает количество поворотов.
 3. Только с данным дорожным знаком. Цифра на табличке указывает количество полос, примыкающих к основной полосе.

Прил. 1: 7.10

6 С каким дорожным знаком применяется данная разметка?



1. С предупреждающим знаком «Пересечение равнозначных дорог».
 2. Со знаком «Уступить дорогу».
 3. Со знаком «Проезд без остановки запрещён».
 4. Со всеми перечисленными знаками.

Прил. 2: 1.13

7 Данный дорожный знак означает, что:



1. Впереди участок дороги, на котором запрещается пользование звуковыми сигналами вне населенных пунктов, кроме случаев, когда без этого невозможно избежать ДТП.
 2. Впереди участок дороги в населенном пункте, на котором запрещается пользоваться звуковыми сигналами.
 3. Впереди участок дороги, на котором водителям всех транспортных средств и даже транспортных средств со специальными сигналами пользоваться звуковыми сигналами запрещено.
 4. Информация и требования, изложенные в ответах 1, 2, 3.

Прил. 1: 3.33

8 Всегда ли Правила дорожного движения требуют выполнять требования горизонтальной дорожной разметки?

1. Обязательным является выполнение требований горизонтальной дорожной разметки, выполненной только белым цветом.
 2. Всегда.
 3. Обязательным является выполнение требований горизонтальной дорожной разметки, выполненной только жёлтым цветом.

8.1; 8.5

9 Каким образом должно быть обозначено буксируемое механическое транспортное средство, если его аварийная световая сигнализация неисправна или отсутствует?

1. Знаком аварийной остановки или мигающим красным фонарём, укрепленным на нём сзади.
 2. Впереди фонарями белого, а сзади красного цвета.
 3. Сигнальными флажками.

9.9 «Г»;
9.11 «А»

10 Разрешается ли водителю автобуса выезжать на перекрёсток в данной ситуации?



1. Разрешается.
 2. Разрешается, если автобус движется по установленному маршруту.
 3. Запрещается.

16.4

11 При интенсивном движении, когда все полосы проезжей части заняты равномерно, водителю разрешается:

1. Менять полосу движения только для объезда препятствия, поворота, разворота или остановки.
2. Двигаться по свободной полосе встречного движения, включив при этом ближний свет фар.
3. Выбрать любую полосу для движения с учётом возможности выполнения обгона.

11.11

12 Что запрещается водителю при выборе скорости движения? Дайте полный ответ.

1. Препятствовать другим транспортным средствам, двигаясь без необходимости со слишком малой скоростью.
2. Превышать максимальную скорость, определённую технической характеристикой данного транспортного средства.
3. Запрещаются оба названных действия.

12.9

13 В каких из перечисленных случаев водитель транспортного средства должен уступить дорогу?

1. Выезжая на дорогу из дворов — только пешеходам и транспортным средствам.
2. Съезжая с дороги во дворы — только велосипедистам и пешеходам.
3. Только выезжая с дороги с односторонним движением — на дорогу с двусторонним движением.
4. В случаях, указанных в ответах 1, 2, 3.
5. В случаях, указанных в ответах 1 и 2.

10.2

14 Разрешён ли обгон в данной ситуации вне населённого пункта?



1. Запрещён.
2. Разрешён только одиночным транспортным средствам, движущимся со скоростью менее 30 км/час.
3. Разрешён во всех случаях.

14.6 «Б»

15 Какие транспортные средства поставлены на стоянку вне населённых пунктов с нарушением Правил дорожного движения?



1. Только А.
2. Только Б.
3. А и Б.
4. Только В.
5. Б и В.

15.2; 15.3


16 Водитель какого транспортного средства имеет право на первоочередное движение?



1. Синего автомобиля, так как он едет по дороге с круговым движением.
2. Красного автомобиля, так как он выезжает на перекрёсток справа от синего автомобиля.

16.12


17 Как пользоваться тормозами на покрытой листьями, скользкой дороге?



1. Выключить сцепление и плавно тормозить.
2. Тормозить плавно, прерывистыми нажатиями на педаль тормоза, не выключая сцепления и не производя резких поворотов рулевого колеса.

ОБД

18 Что должен сделать водитель в данной ситуации?



1. Снизить скорость и при необходимости остановиться, чтобы избежать наезда на детей.
2. объехать стоящее транспортное средство на минимальной скорости, заблаговременно включив ближний свет фар и периодически подавая звуковой сигнал.

18.9

19 В случае обнаружения негерметичности топливной системы водитель обязан:

1. Принять меры к устранению неисправности, а если это невозможно, — двигаться как можно более коротким путём к месту стоянки или ремонта, соблюдая меры предосторожности.
2. Продолжить намеченную поездку.
3. Прекратить дальнейшее движение.

31.5

20 На каком расстоянии от дорожной разметки «стоп-линия» или дорожного знака «Проезд без остановки запрещён» должен остановиться водитель для пропуска приближающегося поезда?

1. Непосредственно перед дорожной разметкой «стоп-линия» и (или) знаком.
2. 1,5 м.
3. 2,5 м.
4. 5 м.
5. 15 м.

20.3

1 Что означает термин «разрешённая максимальная масса»?

1. Фактическая масса транспортного средства.
2. Грузоподъёмность транспортного средства.
3. Масса груза, перевозимого транспортным средством, которая устанавливается в качестве допустимой технической характеристикой предприятия-изготовителя.
4. Масса снаряжённого транспортного средства с грузом, водителем и пассажирами, которая установлена технической характеристикой транспортного средства как максимально допустимая.

1.10

2 Во время движения на транспортном средстве пассажиром:

1. Запрещается только препятствовать закрытию дверей.
2. Разрешается использовать во время движения подножки, если они расположены внутри транспортного средства.
3. Запрещается только использовать во время движения подножки и выступы транспортных средств.
4. Запрещаются действия, указанные в ответах 1 и 3.

5.3 «В»




3 На какие транспортные средства распространяется действие данной таблички?



1. На легковые автомобили, а также грузовые автомобили с разрешённой максимальной массой до 3,5 т.
2. На легковые автомобили, а также грузовые автомобили грузоподъёмностью до 3,5 т.
3. Только на легковые автомобили.

Прил. 1: 7.5.3

4 За каким из данных дорожных знаков разрешается движение со скоростью выше, чем указана на них?

1. Только за знаком 
2. Только за знаком 
3. Только за знаком 
4. За знаками, указанными в ответах 1 и 2.


Прил. 1: 5.30, 4.16

5 В каком из перечисленных случаев, приближаясь к нерегулируемому перекрёстку, водитель имеет преимущественное право движения?

1. Если перекрёсток равнозначных дорог, и с правой стороны на пересекаемой дороге отсутствуют транспортные средства.
2. Если на пересекаемой дороге установлен знак «Уступить дорогу».
3. В любом случае, если водитель подъехал к перекрёстку первым.
4. В случаях, указанных в ответах 1, 2.
5. В случаях, указанных в ответах 1, 2, 3.

Прил. 1: 2.1; 16.12


6 Данная горизонтальная дорожная разметка обозначает:



1. Место, где водитель должен при необходимости остановиться, уступая дорогу транспортным средствам, движущимся по пересекаемой дороге.
2. Приближение к месту, где запрещена остановка.
3. Сужение проезжей части, где уменьшается количество полос движения в данном направлении.

Прил. 2: 1.13

7 Данный дорожный знак:



1. Обозначает участок дороги, на котором имеются опасности, информация о которых не заложена в других дорожных знаках.
2. Обозначает направление поворота с ограниченной обзорностью.
3. Обозначает участок дороги, на котором возможен сильный боковой ветер.

Прил. 1: 1.4.2

8 Кто из водителей имеет право двигаться в прямом направлении?



1. Водители легкового и грузового автомобилей.
2. Водитель легкового автомобиля.
3. Водители автобуса и мотоцикла.

8.8 «Б»

9 Разрешается ли перевозить детей, не достигших 12-летнего возраста, на заднем сидении мопеда.

1. Разрешается, обеспечив их безопасность.
2. Запрещается.

21.11 «Б»

10 Лицам, обучающимся вождению на легковом автомобиле, должно быть не менее:

1	2	3	4
15 лет	16 лет	17 лет	18 лет

24.2

11 При интенсивном движении разрешается ли менять полосу, по которой Вы движетесь?



1. Разрешается только на перекрестках.
2. Разрешается только для объезда препятствия, поворота, разворота или остановки.
3. Запрещается.

11.11

12 С какой максимальной скоростью разрешается движение легковых автомобилей в зоне, обозначенной данным дорожным знаком?



1. 30 км/ч.
2. 20 км/ч.
3. 15 км/ч.
4. 10 км/ч.
5. По усмотрению водителя, обеспечив безопасность движения.

12.5

13 Для остановки кровотечения используют:

1. Капроновую нить, леску или мягкую проволоку.
2. Резиновый жгут.
3. Предметы, указанные в ответах 1 или 2.

ОПМП
стр. 49

14 Какое из перечисленных действий следует выполнить водителю, приближающемуся к железнодорожному переезду?

1. Снизить скорость и остановиться в любом случае.
2. Не менее чем за 100 м до переезда прекратить или завершить обгон.
3. Убедиться в том, что к переезду не приближается поезд.
4. Выполнить действия, указанные в ответах 1, 2, 3.
5. Выполнить действия, указанные в ответах 2 и 3.

14.6 «Б»;
20.2

15 Дайте полный ответ, где запрещена стоянка легковых автомобилей и мотоциклов:

1. На тротуарах, кроме мест, обозначенных соответствующими дорожными знаками, установленными с табличками.
2. Вне населённых пунктов в зоне опасных поворотов и выпуклых переломов продольного профиля дороги с её видимостью или обзорностью менее 100 м хотя бы в одном направлении движения.
3. Во всех перечисленных случаях.
4. Во всех перечисленных случаях, а также на тротуарах, где для движения пешеходов остаётся менее двух метров.

15.10 «Б», «В»,
«Г»; 15.8

16 Кто из водителей имеет право на первоочередное движение?



1. Водитель автомобиля.
2. Водитель мотоцикла.

16.12

17 Что рекомендуется предпринять водителю, если при движении в тёмное время суток встречное транспортное средство ослепляет его?

1. Прищурить глаза.
2. Переводить взгляд периодически то влево, то вправо.
3. Переводить взгляд периодически вправо, ориентируясь на белую линию дорожной разметки, обозначающую край проезжей части.

ОБД

18 В каком из перечисленных случаев запрещается дальнейшее движение транспортных средств?

1. Во время дождя или снегопада не работает стеклоочиститель со стороны расположения руля.
2. Нарушена регулировка фар.
3. При условиях, указанных в ответах 1 и 2.

31.6 «В»

19 Разрешается ли высадка пассажиров на участке дороги за данным дорожным знаком?



1. Разрешается только водителям маршрутных транспортных средств.
2. Разрешается водителям всех транспортных средств только посадка или высадка пассажиров.
3. Разрешается водителям всех транспортных средств только посадка пассажиров.

Прил. 1: 3.34

20 Выезжая с грунтовой дороги на асфальтированную, водитель обязан уступить дорогу:

1. Только тем транспортным средствам, которые приближаются справа.
2. Всем транспортным средствам.
3. Только механическим транспортным средствам.

16.11

1 Что должен учитывать водитель при определении наибольшей ширины полосы движения автопоезда?

1. Габариты транспортного средства по ширине, а также влияние прицепа и смещение его к центру поворота.
2. Только габариты автопоезда по ширине.


1.10; 11.1

2 Кому водитель обязан предоставить транспортное средство независимо от направления своего движения?

1. Работникам дорожно-эксплуатационной службы.
2. Дружинникам.
3. Работникам милиции и здравоохранения для доставки в ближайшее лечебное учреждение лиц, нуждающихся в неотложной медицинской помощи.
4. Всем вышеперечисленным лицам.

2.7 «А»


3 На дороге установлен данный дорожный знак. Водитель какого транспортного средства имеет преимущество в движении?



1. Водитель, перед которым установлен данный дорожный знак.
2. Водитель, который приближается по дороге слева от знака.
3. Водитель, который подъехал к месту пересечения дорог первым.

Прил. 1: 1.23.2

4 Данный дорожный знак обозначает:



1. Не оборудованный шлагбаумом переезд через железную дорогу с двумя и более путями.
2. Не оборудованный шлагбаумом переезд через железную дорогу с одним путём.
3. Оборудованный шлагбаумом переезд через железную дорогу с одним путём.

Прил. 1: 1.30


5 В каком ответе указаны все направления, в которых разрешено транзитное движение водителю мотоцикла?



1. Только В.
2. Во всех направлениях.
3. А и В.
4. А и Б.

Прил. 1: 3.3, 7.3.2

6 Разрешается ли пересекать сплошную белую линию дорожной разметки, обозначающую край проезжей части, смежный с обочиной, на автомагистрали?



1. Запрещается.
2. Запрещается лишь тогда, когда на автомагистрали очень интенсивное движение.
3. Разрешается при вынужденной остановке.

Прил. 2: 1.2

7 Ближе какого расстояния запрещается остановка от посадочных площадок, а при их отсутствии — от дорожного знака остановки маршрутных транспортных средств?

1	2	3	4	5
30 м	35 м	40 м	45 м	50 м

15.9 «Е»

8 Имеют ли преимущество дополнительные требования регулировщика перед требованиями дорожных знаков и дорожной разметки?

1. Имеют преимущество только с 06.00 до 19.00.
2. Водители и пешеходы должны выполнять дополнительные требования регулировщика, даже если они противоречат требованиям дорожных знаков и разметки.
3. Имеют преимущество только перед требованиями дорожных знаков приоритета.

8.3

9 Какие внешние световые приборы должны быть включены на транспортных средствах при буксировке? Дайте полный ответ.

1. Вне населённых пунктов ближний свет фар на буксирующем и габаритные фонари на буксируемом транспортных средствах.
2. В населённых пунктах ближний свет фар на буксирующем и аварийная световая сигнализация на буксируемом транспортных средствах.
3. Ближний свет фар на буксирующем и аварийная световая сигнализация на буксируемом механических транспортных средствах.

9.8 «Г», 9.9 «Г»

10 На перекрёстке организовано круговое движение. Проезжая часть, по которой Вы подъезжаете к перекрёстку, имеет две полосы для движения в данном направлении. Какую полосу Вам разрешается занять для поворота при въезде на перекрёсток?

1. Правую или левую полосу.
2. Правую полосу.
3. Левую полосу.

10.4

11 Правильно ли остановился перед перекрёстком на запрещающий сигнал светофора водитель грузового автомобиля, если на перекрестке он должен продолжить движение в прямом направлении?



1. Не правильно.
2. Правильно, т.к движение в прямом направлении разрешается из любой полосы.

11.6

12 Если на транспортном средстве установлен опознавательный знак «Ограничение максимальной скорости», то водителю этого транспортного средства:

1. Разрешается превышать установленную на знаке скорость только на участках дорог, на которых скорость движения повышена, о чём свидетельствуют установленные дорожные знаки.
2. Разрешается превышать указанную на знаке скорость только при обгоне транспортных средств, движущихся со скоростью до 30 км/ч.
3. Запрещается превышать указанную на знаке скорость движения.

12.9 «Б»

13 Если встречный разъезд затруднён, водитель какого транспортного средства должен уступить дорогу?

1. Который первым подъехал к узкому участку дороги.
2. Габариты которого не мешают встречному движению, но которое перевозит металлоконструкции.
3. На полосе движения которого имеется препятствие.

13.4

14 Разрешается ли выполнить обгон в данной ситуации?



1. Разрешается, если стеклоочиститель со стороны расположения руля исправен.
2. Разрешается в любом случае, соблюдая меры безопасности.
3. Запрещается, так как данный участок дороги с недостаточной видимостью.

14.6 «Г»

15 Водитель может покинуть своё место или оставлять транспортное средство, если:

1. Он заглушил двигатель и поставил автомобиль на стояночный тормоз.
2. Он принял необходимые меры, исключая самопроизвольное движение транспортного средства, проникновения в него и (или) незаконное завладение им.
3. Он заглушил двигатель и установил задние противоткатные упоры.

15.12

16 Зелёный автомобиль проедет перекрёсток:



1. Первым.
2. После красного, синего.
3. После синего, красного.
4. После синего, перед красным.

16.12; 16.13

17 Для безопасности дорожного движения в условиях сильного тумана водителю рекомендуется:

1. Включить задние противотуманные фонари и сократить дистанцию, чтобы ориентироваться по габаритным фонарям впереди движущегося транспортного средства.
2. Включить задние противотуманные фонари и увеличить дистанцию движения.
3. Рекомендуется любое из указанных в ответах 1 и 2 действий.

ОБД

18 Разрешается ли двигаться к месту стоянки или ремонта с недействующим рулевым управлением?

1. Запрещается.
2. Разрешается с соблюдением мер предосторожности.
3. Разрешается на минимальной скорости с соблюдением особых мер предосторожности.


31.6 «А»

19 Дайте полный ответ, когда разрешается пользоваться фарой-прожектором?

1. В любых местах, если в этом есть необходимость.
2. Водителям оперативных транспортных средств во время выполнения служебных заданий, приняв меры к тому, чтобы не ослеплять других участников дорожного движения.
3. В условиях недостаточной видимости.
4. Во всех перечисленных случаях.
5. В случаях, указанных в ответах 2 и 3.

19.6

20 Если движение через железнодорожный переезд запрещено, а средства организации дорожного движения отсутствуют, то водитель должен остановиться до первого рельса не ближе чем за:



1. 10 м.
2. 5 м.
3. 15 м.
4. 20 м.


20.3

1 Что означает, по Правилам дорожного движения, термин «стоянка»?

1. Остановку транспортного средства на время более 10 минут.
2. Прекращение движения транспортного средства по иным причинам, нежели необходимость выполнения требований Правил дорожного движения, либо на большее время, чем это требуется для посадки (высадки) пассажиров, погрузки (разгрузки) груза.
3. Прекращение движения транспортного средства на время более 5 минут по причинам, не связанным с необходимостью выполнения требований Правил дорожного движения, посадкой (высадкой) пассажиров, погрузкой (разгрузкой) груза.
4. Все ответы дополняют друг друга и поэтому верны.

1.10


2 На какие транспортные средства действие данного дорожного знака не распространяется? Дайте полный ответ.



1. Маршрутное такси.
2. Такси с включённым таксометром.
3. Автомобиль, управляемый инвалидом, который обозначен опознавательным знаком «Инвалид».
4. Транспортные средства, указанные в ответах 2 и 3.
5. Маршрутные транспортные средства.

2.8; прил. 1: 3.35

3 Данный дорожный знак:



1. Применяется для обозначения конца населённого пункта, с которого на данной дороге утрачивают силу требования Правил дорожного движения, определяющие порядок движения в населённых пунктах.
2. Применяется для обозначения конца населённого пункта, с которого на данной дороге не действуют требования Правил дорожного движения, регламентирующие порядок движения вне населённых пунктов.

Прил. 1: 5.46

4 Данный дорожный знак с табличкой:



1. Запрещает въезд всех транспортных средств на полосу движения, указанную табличкой.
2. Запрещает въезд всех транспортных средств на все полосы движения, кроме той полосы, на которую указывает табличка.
3. Запрещает въезд всех транспортных средств по всей ширине проезжей части.

Прил. 1: 3.21, 7.9


5 В каком направлении разрешается движение легкового автомобиля?



1. Только прямо.
2. Во всех направлениях движение разрешено.
3. Только налево и направо.


Прил. 1: 4.11, 7.3.3

6 На каком из рисунков показана разметка пешеходного перехода, где движение регулируется светофором?



Прил. 2: 1.14.2

7 Данный дорожный знак показывает, что:



1. Впереди участок дороги, на котором водитель имеет преимущественное право проезда перекрестков неравнозначных дорог.
2. Впереди участок дороги, на котором водитель имеет преимущественное право проезда на регулируемом перекрестке.
3. Данный знак, установленный перед первым перекрестком, дает преимущественное право проезда на всех последующих перекрестках.
4. Информация и требования, изложенные в ответах 1 и 3.

Прил. 1: 2.3

8 В каком ответе правильно указано разрешённое направление движения?



1. Прямо и разворот.
2. Только прямо.
3. Только разворот.

8.2

9 Разрешается ли перевозить детей на мотоцикле без бокового прицепа?

1. Запрещается.
2. Разрешается.
3. Разрешается при наличии взрослого пассажира.
4. Разрешается — детей старше 12-летнего возраста и ростом более 145 см.

21.11 «Б»

10 Как правильно, согласно требованиям Правил дорожного движения, выполнить поворот налево с дороги с двусторонним движением на дорогу с односторонним двуполосным движением?

1. С крайней левой полосы для движения только на крайнюю левую полосу.
2. С любой полосы для движения только на крайнюю правую полосу.
3. С крайней левой полосы для движения на крайнюю правую, а если она занята, то на вторую полосу.

10.4; 10.5

11 Какое из указанных действий запрещено в жилой зоне?

1. Стоянка более одного часа.
2. Движение со скоростью более 15 км/ч.
3. Транзитное движение транспортных средств.
4. Все вышеуказанные действия.

26.2 «А»

12 Разрешается ли буксировка на автомагистрали?

1. Разрешается только на жёсткой сцепке со скоростью от 40 км/ч до 50 км/ч.
2. Разрешается любая буксировка со скоростью от 40 км/ч до 50 км/ч.
3. Разрешается только на гибкой сцепке со скоростью от 40 км/ч до 50 км/ч.

27.3; 12.7

13 Как оказать первую медицинскую помощь при пищевом отравлении в пути?

1. Остановиться. Выйти на свежий воздух, принять валериановые капли и при возможности выпить горячий чай или кофе.
2. Остановиться. Принять обильное питьё, вызвать искусственно рвоту, принять активированный уголь.
3. Выполнить действия, указанные в ответе 1 или 2.

ОПМП
стр. 52,59


14 Разрешается ли обгон автобуса в данном месте?



1. Запрещается.
2. Разрешается.

14.6 «Б»

15 Водитель какого транспортного средства нарушил правила стоянки?



1. Водитель красного автомобиля.
2. Водитель синего автомобиля.
3. Оба водителя не нарушили.
4. Оба водителя нарушили.

15.10 «Д»

16 Как должен поступить водитель, если включился разрешающий сигнал светофора, а в направлении его движения находятся пешеходы, не успевшие перейти проезжую часть?



1. Проехать пешеходный переход на минимальной скорости, соблюдая меры безопасности.
2. Подать звуковой сигнал и проехать пешеходный переход.
3. Уступить дорогу пешеходам, заканчивающим переход.

16.5

17 Водители транспортных средств должны уступить дорогу автобусу или троллейбусу:

1. В населённом пункте, если он начинает двигаться от обозначенной остановки, которая расположена в заездном «кармане».
2. Если он начинает движение от места своей остановки.

17.4

18 При каких из перечисленных условий запрещается эксплуатация транспортных средств? Дайте полный ответ.

1. Расслоение каркаса шин, отслоение протектора и боковины.
2. Загрязнены габаритные фонари.
3. При условиях, указанных в ответах 1 и 2.

31.4.5 «Б»

19 На крутом спуске, где встречный разъезд затруднён, водитель транспортного средства, движущегося на спуск, должен уступить дорогу:

1. Только тому транспортному средству, у которого разрешённая максимальная масса более 3,5 т.
2. Транспортным средствам, движущимся вверх.
3. В населённых пунктах — транспортным средствам, движущимся вверх.

28.1

20 Красный автомобиль проедет перекрёсток:



1. Вторым.
2. Первым.
3. Последним.

16.11; 16.14

1 Что называется «тормозным путём»?

1. Расстояние, которое проходит транспортное средство во время экстренного торможения с начала воздействия на механизм управления тормозной системой (педаль, рукоятку) до места его остановки.
2. Расстояние, пройденное транспортным средством с момента обнаружения водителем опасности до полной остановки.

1.10; ОБД

2 Разрешается ли пассажирам во время движения отвлекать внимание водителя от управления транспортным средством?

1. Разрешается.
2. Запрещается.
3. Разрешается только для покупки билетов в маршрутных транспортных средствах.

5.3 «А»

3 Данный дорожный знак с табличкой предупреждает, что:



1. Требования знака и таблички действуют постоянно.
2. Действие знака распространяется только на тот период времени, когда покрытие проезжей части является влажным.
3. Действие знака не распространяется на тот период, когда покрытие проезжей части является влажным.

Прил. 1: 1.38, 7.13


4 Данный дорожный знак с табличкой предупреждает, что:



1. Впереди участок дороги, который выходит на набережную.
2. Впереди участок дороги, который выходит на берег водоёма.
3. Впереди въезде на паромную переправу.
4. Информация, заложенная в ответах 1, 2, 3.

Прил. 1: 1.8, 7.11

5 Действует ли запрещающий дорожный знак на тот участок дороги, где остановился водитель?



1. Не действует.
2. Действует.

Прил. 1: 3.34

6 Кто из водителей правильно остановился для высадки пассажиров?



1. Только водитель синего автомобиля.
2. Водители синего и красного автомобилей.
3. Только водитель мотоцикла.
4. Все водители.


Прил. 2: 1.10.1, 1.17

7 На каком расстоянии до начала опасного участка устанавливаются предупреждающие дорожные знаки вне населённых пунктов?

1	2	3
150—300 м	400—500 м	50—100 м

Прил. 1

8 В каком направлении разрешено движение?



1. Направо в первый и второй проезды.
2. Направо во второй проезд.
3. Направо в первый проезд.
4. Прямо и направо в первый проезд.

8.7.3 «Е»

9 Всегда ли водитель должен подавать сигналы световыми указателями поворотов при изменении направления своего движения?

1. Только на дороге с интенсивным движением.
2. Только в том случае, если сзади него движется другое транспортное средство.
3. Должен всегда. Сигнал запрещается подавать, если он может быть непонятным для других участников движения.

9.2; 9.4

10 На всех ли мостах Правилами дорожного движения запрещён разворот?

1. Разворот запрещён только на узких мостах.
2. Разворот запрещён только на мостах с трамвайными путями.
3. Разворот запрещён на всех мостах.


10.7 «Б»

11 Разрешается ли движение по трамвайному пути при проезде перекрестка?

1. Разрешается только по трамвайному пути попутного направления.
2. Разрешается по трамвайному пути попутного направления, если количество полос и направление движения по ним не определены дорожным знаком.
3. Разрешается, только если не создаются препятствия трамваю.
4. Запрещается.

11.8

12 С какой минимальной скоростью разрешается движение механических транспортных средств на автомагистрали?



1. 40 км/ч.
2. 45 км/ч.
3. 50 км/ч.
4. 60 км/ч.

27.3

13 Разрешается ли транспортным средствам обслужить граждан или объекты, расположенные в пешеходной зоне?

1. Запрещается.
2. Разрешается, если к объектам не имеются другие подъезды.
3. Разрешается в любом случае.

26.3

14 На каком минимальном расстоянии перед железнодорожным переездом запрещается обгон?

1. На железнодорожных переездах и ближе чем за 20 м перед ними.
2. На железнодорожных переездах и ближе чем за 50 м перед ними.
3. Обгон разрешается вплоть до самого переезда, если за переездом проезжая часть свободна от транспортных средств.
4. На железнодорожных переездах и ближе чем за 100 м перед ними.

«14.6 «Б»

15 Как должен поступить водитель нерельсового транспортного средства в случае вынужденной остановки на трамвайных путях и невозможности убрать его?

1. Включить только аварийную световую сигнализацию.
2. Установить только знак аварийной остановки согласно требованиям Правил дорожного движения.
3. Выполнить действия, указанные в ответах 1 или 2.
4. Выполнить действия, указанные в ответах 1 и 2 только в условиях недостаточной видимости.

15.9 «Б»
15.14

16 В каком ответе правильно указана очередность проезда перекрестка?



1. Велосипед, автобус, автомобиль.
2. Автобус, автомобиль, велосипед.
3. Автомобиль, автобус, велосипед.

16.12

17 Разрешается ли заезжать на полосу, обозначенную данным дорожным знаком, при выполнении правого поворота?



1. Запрещается.
2. Разрешается, если полоса не отделена от остальной проезжей части сплошной линией разметки.
3. Разрешается во всех случаях.


17.2

18 Если во время торможения транспортное средство занимает полосу движения большую, чем предусмотрено нормативом, водитель должен:

1. Двигаться как можно более коротким путём к месту стоянки или ремонта, соблюдая меры предосторожности.
2. Прекратить дальнейшее движение.
3. Продолжить движение без резкого торможения.

31.4.1 «Б»,
прим. 1; 31.5


19 Последним проедет перекресток:



1. Зеленый автомобиль.
2. Красный автомобиль.
3. Синий автомобиль.

16.12

20 Транспортные средства проедут перекресток в следующем порядке:



1. Трамвай, синий автомобиль, белый автомобиль.
2. Трамвай, белый, а за ним — синий автомобиль.
3. Синий автомобиль, трамвай, а за ним — белый автомобиль.

16.11; 16.14

1 В каком случае разрешаются посадка и высадка пассажиров с крайней полосы проезжей части?

1. По усмотрению водителя при условии, что это будет безопасно и не создаст препятствий другим участникам движения.
2. При вынужденной остановке транспортного средства.
3. На дорогах с односторонним движением, имеющих две полосы или более.
4. Если это невозможно сделать со стороны тротуара или обочины и при условии, что это будет не со стороны смежной полосы движения, безопасно и не создаст препятствий другим участникам движения.

5.1

2 Дайте полный ответ. Водитель и пассажир транспортного средства, оборудованного ремнями безопасности, обязаны быть пристёгнуты:

1. При движении по автомагистралям.
2. При движении по горным дорогам.
3. При движении вне населенных пунктов.
4. Во всех случаях при движении транспортного средства.

2.3 «В»

3 Данный дорожный знак показывает, что:



1. Впереди участок дороги, на котором запрещается движение на велосипедах.
2. Впереди участок дороги, на котором запрещается движение на инвалидных колясках.
3. Впереди участок дороги, на котором разрешается движение на велосипедах и мопедах.
4. Информация, заложенная в ответах 1 и 2.

Прил. 1: 3.8

4 За каким из данных дорожных знаков разрешается движение со скоростью ниже, чем указана на них? Дайте полный ответ.

1. За знаком 
2. За знаком 
3. За знаком 
4. За знаками, указанными в ответах 1 и 3.

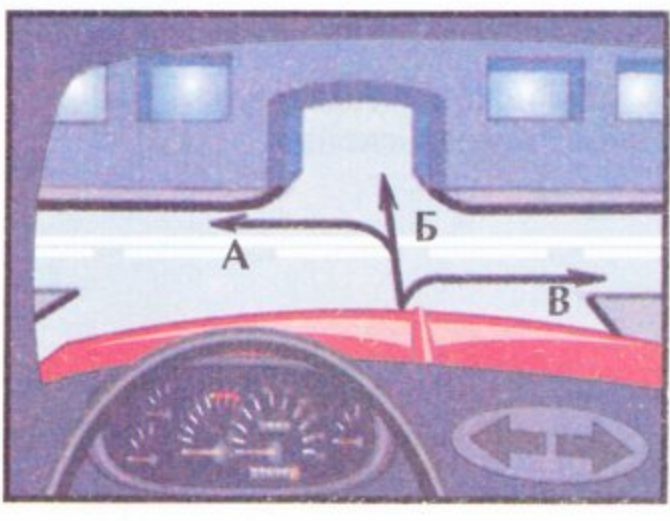
Прил. 1: 5.30, 3.31

5 Какой дорожный знак разрешает разворот?



Прил. 1: 3.23

6 В каких направлениях разрешается движение?



1. В направлениях А, Б и В.
2. В направлениях Б и В.
3. Только в направлении А.
4. Только в направлении Б.
5. Только в направлении В.

Прил. 2: 1.11

7 Что означает дорожный знак круглой формы, на синем фоне которого изображены окантовка и наклонная полоса красного цвета?

1. Запрещается стоянка всех транспортных средств.
2. Запрещается въезд всех транспортных средств.
3. Запрещается пользование звуковыми сигналами, за исключением случаев, когда без этого невозможно предотвратить дорожно-транспортное происшествие.
4. Запрещаются остановка и стоянка транспортных средств.

Прил. 1: 3.35

8 Жезл применяется:

1. Только работниками подразделений ГАИ.
2. Работниками подразделений ГАИ и военной инспекции безопасности дорожного движения.
3. Работниками милиции, дежурными на железнодорожных переездах.
4. Работниками подразделений ГАИ и дежурными на паромных переправах.
5. Всеми перечисленными регулировщиками.

8.8

9 На каком из нижеперечисленных транспортных средств должен быть включён ближний свет фар при движении в светлое время суток?

1. На маршрутных транспортных средствах.
2. На автобусах (микроавтобусах), осуществляющих перевозки организованных групп детей.
3. На транспортных средствах, указанных в ответах 1 и 2.

9.8 «В»

10 Перед началом перестроения Вы должны убедиться:

1. Что манёвр будет безопасным и не создаст препятствий или опасности другим участникам движения.
2. Что Ваш манёвр будет понятен пешеходам, и они воздержатся от перехода.
3. В отсутствии запрещающих знаков.

10.1

11 В каком из перечисленных случаев транспортные средства должны двигаться как можно ближе к правому краю проезжей части?
Дайте полный ответ.

1. При перевозках опасных грузов.
2. При перевозках крупногабаритных грузов.
3. При движении со скоростью не более 40 км/ч.
4. В случаях, указанных в ответах 1, 2, 3.

11.7

12 Что обозначает данный дорожный знак?



1. Дорожка, предназначенные для движения пешеходов и велосипедистов.
2. Дорожка, предназначенные для движения только пешеходов.
3. Место пешеходного перехода.

Прил. 1: 4.14

13 Дайте полный ответ, как остановить кровотечение.

1. С помощью давящей повязки или закрутки.
2. С помощью жгута или сгибанием конечности.
3. Способами, указанными в ответах 1 и 2.

ОПМП
стр. 49

14 Данным опознавательным знаком обозначаются автомобили:



1. Управляемые водителями, имеющими водительский стаж до 2 лет.
2. Перевозящие опасные грузы.
3. Управляемые инвалидами.
4. Управляемые глухонемыми или глухими водителями.


30.3 «Б»

15 На каком расстоянии от тротуара разрешается остановить транспортное средство?

1. Как можно правее, чтобы не препятствовать другим участникам дорожного движения.
2. Не более 15 см.
3. Не более 30 см.

15.2

16 Автомобили проедут перекрёсток в следующем порядке:



1. Зелёный, красный, синий автомобили.
2. Красный, синий, зелёный автомобили.
3. Красный, зелёный, синий автомобили.

16.11; 16.14

17 В каком из перечисленных случаев водителю можно убрать одну руку с рулевого колеса во время движения?

1. Только для включения одного из рычагов органов управления транспортным средством.
2. Только во время курения.
3. В случаях, указанных в ответах 1 и 2.

ОБД

18 При каких из перечисленных условий запрещается эксплуатация транспортных средств?
Дайте полный ответ.

1. Имеются люфты в соединениях рамы мотоцикла с рамой бокового прицепа.
2. Разрушен коренной лист или центральный болт рессоры.
3. При условиях, указанных в ответах 1 и 2.

31.4.7 «Г», «Д»

19 Во время остановки на дороге в тёмное время суток на транспортном средстве должны быть включены:

1. Ближний свет фар или противотуманные фары.
2. Габаритные или стояночные фонари.
3. Дальний свет фар.

19.4

20 Данная дорожная разметка:



1. Обозначает приближение к пересечению дорог, на котором движение разрешается во всех направлениях.
2. Запрещает движение в указанных направлениях.
3. Указывает разрешённые на перекрёстке направления движения по полосам.

Прил. 2: 1.18

1 По определению Правил дорожного движения, «полоса движения» — это:

1. Продольная полоса на дороге с односторонним движением шириной не менее 3 м.
2. Продольная полоса для движения на автомагистрали шириной не менее 3 м.
3. Продольная полоса на проезжей части шириной не менее 2,75 м, обозначенная или не обозначенная дорожной разметкой и предназначенная для движения нерельсовых транспортных средств.


1.10

2 Как можно определить, что водитель оперативного транспортного средства выполняет неотложное служебное задание?

1. Если водитель такого автомобиля подаст звуковой сигнал, включит дальний свет фар и проехал на запрещающий сигнал светофора.
2. Если водитель включил проблесковые маячки синего или красного цвета и подаёт специальные звуковые сигналы.
3. Водители оперативных транспортных средств всегда выполняют неотложные служебные задания, и потому всегда следует уступать им дорогу.

3.1


3 Каким из перечисленных транспортных средств разрешено движение по дороге, на которой установлен данный дорожный знак?



1. Всем транспортным средствам.
2. Только механическим транспортным средствам.
3. Только транспортным средствам, максимальная скорость которых не менее 40 км/ч.
4. Автомобилям, автобусам, микроавтобусам и мотоциклам.

Прил. 1: 5.3

4 Данный дорожный знак с табличкой предупреждает, что:



1. Впереди участок дороги, на котором могут быть падение камней, обвалы, оползни. Табличка указывает протяжённость опасного участка.
2. Впереди участок дороги, на котором возможен выброс гравия. Табличка указывает расстояние до опасного участка.
3. Впереди участок дороги, имеющий неровности на проезжей части. Табличка указывает протяжённость опасного участка.

Прил. 1: 1.16, 7.2.1

5 В каком ответе правильно указаны все разрешённые направления движения автомобиля?



1. Только прямо.
2. Только направо.
3. Только налево.
4. Во всех направлениях.
5. Налево и направо.

Прил. 1: 3.6

6 По какому из обозначенных стрелками направлений разрешено движение?



1. Налево и в обратном направлении.
2. Прямо, налево и в обратном направлении.
3. Только прямо.

Прил. 2: 1.11

7 Данный дорожный знак предупреждает, что:



1. Впереди участок дороги с повышенной скользкостью проезжей части.
2. Впереди участок дороги с двумя и более расположенными один за другим опасными поворотами.
3. Впереди участок дороги, на котором ширина проезжей части уменьшается на одну полосу.
4. Информация, заложенная в ответах 1 и 3.

Прил. 1: 1.3.1

8 Водителю какого транспортного средства предоставляется преимущественное право движения на перекрёстке равнозначных дорог с круговым движением?

1. Транспортному средству, приближающемуся справа.
2. Транспортному средству, движущемуся по кругу на перекрёстке.
3. Транспортному средству, приближающемуся к перекрёстку с более высокой скоростью.

16.12

9 Является ли включение ближнего света фар в светлое время суток предупреждающим сигналом?

1. Не является.
2. Является.

9.1 «Г»

10 Из какой полосы разрешается движение прямо?



1. Только из левой полосы.
2. Только из правой полосы.
3. Из правой или левой полосы.
4. Из любой полосы.

10.4



11 Механическое транспортное средство с недействующим рулевым управлением должно буксироваться:

1. На жёсткой сцепке, если фактическая масса буксирующего вдвое превышает фактическую массу буксируемого.
2. Способом его частичной погрузки или на жёсткой сцепке.
3. На жёсткой сцепке.
4. Способом его частичной погрузки.

23.7

12 В каких из перечисленных случаев рекомендуется снизить скорость движения? Дайте полный ответ.

1. На участках дорог с опасными поворотами.
2. На участках дорог, на которых возможно появление диких животных или скота.
3. На участках дорог, указанных в ответах 1 и 2.
4. На участках дорог, указанных в ответах 1 и 2, а также на участках с затяжными спусками.


12.1

13 Как правильно снять с пострадавшего одежду при ранении руки?

1. Одежду снять с больной руки, а затем освободить здоровую.
2. Одежду снимать с обеих рук одновременно.
3. Одежду снять со здоровой руки, а затем освободить больную.

ОПМП

14 Дайте полный ответ, где размещается данный опознавательный знак?



1. На транспортном средстве, имеющем особую форму, — обязательно.
2. На транспортном средстве, используемом для дорожных работ, — обязательно.
3. На иных транспортных средствах — по желанию их владельцев.
4. В случаях, перечисленных в ответах 1, 2, 3.

30.3 «І»

15 Разрешается ли водителю транспортного средства остановка на полосе движения, обозначенной дорожной разметкой «А»? Дайте полный ответ.



1. Разрешается остановиться у правого края проезжей части только водителю маршрутного транспортного средства для посадки либо высадки пассажиров.
2. Разрешается остановиться у правого края проезжей части водителю любого транспортного средства для посадки либо высадки пассажиров.
3. Запрещается в любом случае на полосе для движения маршрутных транспортных средств.

17.2


16 Красный автомобиль проедет перекрёсток:



1. После чёрного.
2. После чёрного, синего.
3. Первым.

16.9

17 Какая информация заложена в данном дорожном знаке?



1. Запрещается движение со скоростью, превышающей величину, указанную на знаке.
2. Запрещается движение со скоростью, превышающей величину, указанную на знаке, только маршрутным транспортным средствам.
3. На автомагистрали скорость движения ограничена до 50 км/ч только для грузовых автомобилей.
4. Запрещается движение со скоростью ниже, указанной на знаке.

Прил. 1: 3.29

18 При каких из перечисленных условий запрещается эксплуатация транспортных средств? Дайте полный ответ.

1. Свободный ход педали сцепления не соответствует требованиям предприятия-изготовителя.
2. Не работает спидометр.
3. При условиях, указанных в ответах 1 и 2.

31.4.7 «Г»

19 Водитель должен переключить дальний свет фар на ближний, если он может ослепить других водителей на расстоянии не менее чем:

1. За 100 м до встречного транспортного средства.
2. За 150 м до встречного транспортного средства.
3. За 250 м до встречного транспортного средства, а также тогда, когда он может ослепить других водителей, в частности тех, которые движутся в попутном направлении.
4. За 300 м до встречного транспортного средства.

19.2

20 Вторым проедет перекрёсток:



1. Зелёный автомобиль.
2. Жёлтый автомобиль.
3. Белый автомобиль.
4. Красный автомобиль.

16.11; 16.13

1 Если ширина проезжей части недостаточна для разворота из крайнего левого положения, разрешается ли выполнять его от правого края проезжей части?

1. Запрещается.
2. Разрешается в любом случае.
3. Разрешается, если это не противоречит требованиям запрещающих или предписывающих дорожных знаков, дорожной разметки и не создаст опасности или препятствий другим участникам движения.

10.6

2 Разрешается ли водителю легкового автомобиля занять место в колонне, которую сопровождают транспортные средства с включёнными проблесковыми маячками?

1. Запрещается только тогда, когда включены проблесковые маячки синего и красного цвета.
2. Запрещается только тогда, когда включены проблесковые маячки красного цвета.
3. Запрещается только тогда, когда включены проблесковые маячки оранжевого цвета.
4. Разрешается, если колонна движется со скоростью до 30 км/ч.
5. Запрещается в случаях, указанных в ответах 1 и 2.

3.4

3 О чём предупреждает данный дорожный знак?



1. Впереди навстречу движению возможно появление колонны туристов-детей.
2. Впереди участок дороги, на котором возможно появление детей с территории детского учреждения, примыкающей непосредственно к дороге.
3. Впереди идут спортивные соревнования детей.

Прил. 1: 1.33

4 Какой из знаков указывает протяжённость опасного участка дороги, обозначенного предупреждающими дорожными знаками?







- 1
- 2
- 3
- 4
- 5

Прил. 1: 7.2.1

5 На каком рисунке водитель выполнил манёвр, не нарушая требования Правил дорожного движения?





- 1
- 2
- 3


Прил. 1: 4.1, 5.5

6 На автомагистралях запрещено:

1. Опережение транспортных средств, движущихся со скоростью 90 км/ч.
2. Движение велосипедов, тракторов, самоходных машин и механизмов.
3. Все перечисленные действия.

6.6 «Б»; 27.2 «А»

7 Каким транспортным средствам запрещается движение по участку дороги, перед которым установлен данный дорожный знак? Дайте полный ответ.



1. Только маршрутным транспортным средствам.
2. Только грузовым автомобилям с разрешённой максимальной массой более 7 т.
3. Любым транспортным средствам, которые не могут развивать скорость, указанную на знаке, или Правилами дорожного движения им запрещено движение с указанной скоростью.
4. Транспортным средствам, указанным в ответах 1, 2, 3.

Прил. 1: 4.16

8 При запрещающем сигнале светофора или жесте регулировщика водители перед перекрестком обязаны остановиться:

1. Только перед дорожной разметкой «стоп-линия», дорожным знаком «Место остановки», а если их нет, — перед светофором, пешеходным переходом.
2. Если отсутствуют разметка, знак, светофор и пешеходный переход, — перед пересекаемой проезжей частью, не создавая препятствий для движения пешеходов.
3. В местах, указанных в ответах 1 или 2.

8.10

9 Когда на буксируемом механическом транспортном средстве должна быть включена аварийная световая сигнализация? Дайте полный ответ.

1. Когда на буксируемом транспортном средстве неисправно рулевое управление.
2. Когда на буксируемом транспортном средстве неисправна тормозная система.
3. В тёмное время суток и в условиях недостаточной видимости.
4. В тёмное время суток.
5. Всегда должна быть включена при буксировке.

9.9 «Г»

10 Кто имеет право обучать вождению транспортного средства в учебных организациях?

1. Специалист по подготовке водителей, имеющий при себе документ на право обучения вождению и удостоверение на право управления транспортным средством соответствующей категории.
2. Опытный водитель со стажем не менее пяти лет, имеющий при себе документ на право обучения вождению и удостоверение на право управления транспортным средством соответствующей категории.
3. Водители, указанные в ответах 1 или 2.

24.5

11 В каких из перечисленных случаев запрещается обгон на дорогах с двусторонним движением? Дайте полный ответ.

1. На дорогах, имеющих по одной полосе для движения в каждом направлении.
2. На дорогах, имеющих только по две полосы для движения в каждом направлении.
3. На дорогах, имеющих только по три полосы для движения в каждом направлении.
4. В случаях, указанных в ответах 1, 2, 3.
5. В случаях, указанных в ответах 2, 3.

11.4; 11.5;
14.6 «Е»

12 На транспортном средстве установлен опознавательный знак «Ограничение максимальной скорости». Разрешается ли превышать указанную на знаке скорость?

1. Разрешается превышать указанную на знаке скорость только при обгоне транспортных средств, движущихся со скоростью менее 30 км/ч.
2. Запрещается превышать указанную на знаке скорость.
3. Разрешается превышать указанную на знаке скорость только на участках дорог, где скорость движения повышена установкой соответствующего дорожного знака.

12.9 «Б»

13 Какие транспортные средства разрешается ставить на проезжей части в два ряда на стоянку?

1. Мотоциклы без бокового прицепа.
2. Легковые малолитражные автомобили.
3. Транспортные средства, указанные в ответах 1 и 2.

15.4

14 Как должен действовать водитель автомобиля при обгоне его другим транспортным средством?

1. Снизить скорость движения, подать звуковой сигнал.
2. Не изменяя полосы движения, подать сигнал указателем правого поворота.
3. Не препятствовать обгону повышением скорости движения или иными действиями.

14.3


15 Остановка запрещена:



1. На пешеходных переходах и ближе 10 м от них с обеих сторон.
2. За пешеходным переходом остановка разрешена.
3. Только перед пешеходным переходом за 5 м.

15.9 «Г»

16 Водитель какого транспортного средства должен уступить дорогу?



1. Водитель автомобиля — водителю мотоцикла.
2. Водитель мотоцикла.

16.9

17 Двигаясь со скоростью около 60 км/ч, Вы внезапно попали на небольшой участок дороги с гололедицей. Что следует предпринять в данной ситуации?



1. Не меняя положения рулевого колеса, выключить передачу и двигаться накатом.
2. Не меняя положения рулевого колеса и скорости движения, проехать скользкий участок дороги.

ОБД

18 Если за пешеходным переходом образовался затор, который вынудит водителя остановиться на пешеходном переходе, водитель обязан:



1. Остановиться на пешеходном переходе, соблюдая необходимую дистанцию от впереди стоящего транспортного средства.
2. Остановиться и не въезжать на пешеходный переход, так как это создаст препятствие для движения пешеходов.

18.6

19 При каких из перечисленных условий запрещается эксплуатация транспортных средств? Дайте полный ответ.

1. Неисправен или отсутствует предусмотренный конструкцией усилитель рулевого управления или рулевой демпфер на мотоциклах.
2. Отсутствует огнетушитель на мотоцикле с боковым прицепом.
3. При условиях, указанных в ответах 1 и 2.

31.4.2 «В»

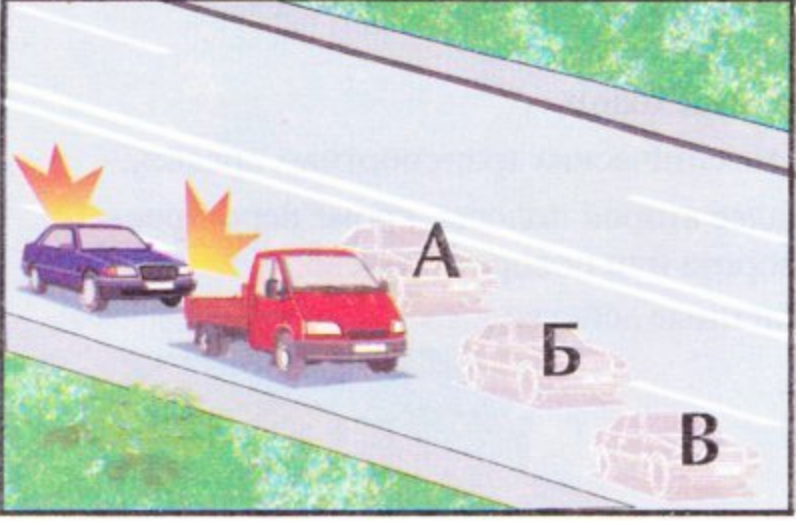
20 Вторым проедет перекрёсток:



1. Жёлтый автомобиль.
2. Синий автомобиль.
3. Зелёный автомобиль.
4. Красный автомобиль.

16.11; 16.13

1 В каком положении должен быть выключен предупреждающий сигнал указателя поворота налево по требованию Правил дорожного движения?



- 1. В положении В.
- 2. В положении Б.
- 3. В положении А.

9.4

2 Разрешается ли пешеходам внезапно выходить на пешеходный переход?

- 1. Разрешается в любое время суток, так как на пешеходном переходе пешеходы имеют преимущество.
- 2. Разрешается только в светлое время суток, так как на пешеходном переходе пешеходы имеют преимущество.
- 3. Запрещается.

4.14 «Б»

3 Данный дорожный знак предупреждает, что:



- 1. Впереди участок дороги с опасными поворотами.
- 2. Впереди участок дороги, имеющий неровности проезжей части — волнистости, наплывы, вспучивания.
- 3. Впереди участок дороги, где имеются неплавные сопряжения с мостами.
- 4. Впереди участок дороги с выбоинами на проезжей части.
- 5. Информация, заложенная в ответах 3 и 4.

Прил. 1: 1.10

4 Если перед участком дороги установлен данный дорожный знак, то какой устанавливается знак с противоположной стороны данного участка?



Прил. 1: 2.6


5 Какая из данных табличек распространяет действие дорожного знака «Место для стоянки» на легковые автомобили, а также на грузовые автомобили с разрешенной максимальной массой до 3,5 т?



- 1. Обе таблички.
- 2. Табличка А.
- 3. Табличка Б.

Прил. 1: 7.5.3, 7.6.3

6 Такая дорожная разметка применяется для обозначения:



- 1. Торцевых частей искусственных сооружений.
- 2. Дорожной развязки на разных уровнях.
- 3. Участка дороги, на котором скорость движения ограничена до 40 км/ч.

Прил. 2: 2.1


7 Какие транспортные средства запрещает обгонять данный дорожный знак?



- 1. Только легковые автомобили, мотоциклы и грузовые автомобили с разрешенной максимальной массой менее 3,5 т.
- 2. Только грузовые автомобили с разрешенной максимальной массой более 3,5 т.
- 3. Все, кроме одиночных, движущихся со скоростью менее 30 км/ч.
- 4. Все.

Прил. 1: 3.25

8 Как должен поступить водитель, если регулировщик направляет его на дорогу, въезд на которую запрещает дорожный знак?



- 1. Остановиться, переспросить регулировщика и убедиться в том, что действительно следует двигаться в направлении, указанном им.
- 2. Выполнить требование регулировщика.

8.3

9 Какие световые приборы должны быть включены на маршрутном транспортном средстве при движении по специально выделенной полосе навстречу общему потоку транспортных средств в светлое время суток?

- 1. Габаритные фонари.
- 2. Аварийная световая сигнализация.
- 3. Ближний свет фар.
- 4. Дальний свет фар.

9.8 «Б»

10 Разворот запрещается:

- 1. За 15 м до железнодорожных переездов.
- 2. Не менее 15 м за железнодорожными переездами.
- 3. На железнодорожных переездах.
- 4. В местах, указанных в ответах 1, 2, 3.

10.7 «А»

11 Разрешается ли водителю красного автомобиля двигаться, занимая одновременно две полосы?



1. Запрещается. Наезжать на прерывистые линии разметки разрешается только при перестроении.
2. Разрешается, если обе полосы свободны.

11.10

12 Что запрещено на автомагистралях водителям грузовых автомобилей, разрешенная максимальная масса которых менее 3,5 т?

1. Движение задним ходом.
2. Буксировка механических транспортных средств.
3. Движение далее второй полосы, кроме перестроения для разворота или поворота налево.
4. Все перечисленные действия.

27.2 «Г»

13 Какую безопасную дистанцию между движущимися транспортными средствами должен выбрать водитель?

1. Дистанция выбирается из расчёта 1 м на каждые 10 км/ч скорости движения.
2. Дистанция выбирается в зависимости от скорости движения, дорожной обстановки, особенностей перевозимого груза и состояния транспортного средства.
3. Дистанция выбирается не менее 10 м до движущихся впереди легкового автомобиля и 15 м до грузового автомобиля.

13.1

14 Дайте полный ответ: в чём должен убедиться водитель, прежде чем начать обгон?

1. Ни один из водителей транспортных средств, которые движутся за ним и которым может быть создано препятствие, не начал обгона.
2. Водитель транспортного средства, движущегося впереди по той же полосе, не подал сигнал о намерении поворота (перестроения) налево.
3. Полоса встречного движения, на которую он будет выезжать, свободна от транспортных средств на достаточном для обгона расстоянии.
4. После обгона он сможет, не создавая препятствия обгоняемому им транспортному средству, вернуться на занимаемую полосу.
5. Убедиться во всём перечисленном.


14.2

15 Стоянка запрещена:

1. В пределах действия дорожных знаков, обозначающих железнодорожный переезд.
2. Ближе 50 м от железнодорожных переездов.
3. Ближе 15 м за пешеходным переходом.
4. Ближе 20 м от края пересекаемых проезжих частей.
5. Во всех перечисленных случаях.

15.10 «Г»

16 Поворачивая направо, водитель автомобиля:



1. Не должен уступать дорогу велосипедисту.
2. Должен уступить дорогу велосипедисту.

16.2

17 Вы остановились на подъёме в ожидании разрешающего сигнала светофора. При этом удерживать автомобиль на месте лучше всего:

1. За счет пробуксовки сцепления при включённой первой передаче.
2. Выключенным двигателем с установленной пониженной передачей.
3. Рабочим тормозом.
4. Стояночным тормозом.

ОБД

18 При каких из перечисленных условий запрещается эксплуатация транспортных средств? Дайте полный ответ.

1. Замедлена частота перемещения щёток стеклоочистителя.
2. На мотоцикле нет предусмотренных конструкцией дуг безопасности.
3. При условиях, указанных в ответах 1 и 2.


31.4.7 «И»

19 Водитель какого транспортного средства имеет преимущество на горных дорогах и крутых спусках, обозначенных соответствующими дорожными знаками в случаях, когда встречный разъезд затруднён?

1. Водитель транспортного средства, перевозящего крупногабаритный или тяжеловесный груз.
2. Водитель автопоезда.
3. Водители, указанные в ответах 1 и 2.
4. Водитель транспортного средства, движущегося на подъём.
5. Все вышеуказанные водители.

28.1

20 Синий автомобиль проедет перекрёсток:



1. Первым.
2. Вторым.
3. Третьим.
4. Последним.

16.11; 16.14; 3.2

1 Водитель, приближаясь к перекрёстку двух асфальтированных дорог, перед которым не установлены знаки приоритета:

1. Имеет преимущество, так как приближается к перекрёстку быстрее других транспортных средств.
2. Имеет преимущество в том случае, если водитель транспортного средства, приближающегося слева, должен уступить ему дорогу.
3. Имеет преимущество в любом случае перед всеми механическими транспортными средствами, движущимися на пересекаемой дороге.


16.12

2 Что в первую очередь должен сделать водитель, причастный к дорожно-транспортному происшествию?

1. Немедленно остановить транспортное средство и оставаться на месте происшествия, включить аварийную световую сигнализацию и установить знак аварийной остановки.
2. Остановиться на месте происшествия, записать фамилии и адреса очевидцев, сообщить о случившемся в милицию, принять меры для оказания доврачебной медицинской помощи пострадавшим.
3. Остановиться и принять все возможные меры к сохранению следов происшествия, ограждению их и организации объезда места происшествия, сообщить о случившемся в милицию и принять меры для оказания доврачебной медицинской помощи

2.10 «А», «Б»;
9.10


3 Разрешается ли остановиться для посадки или высадки пассажиров водителям обычных транспортных средств на полосе движения, обозначенной данным дорожным знаком?



1. Разрешается, если полоса расположена у правого края проезжей части и отделена от неё прерывистой жёлтой линией дорожной разметки.
2. Запрещается.
3. Разрешается

17.2;
прил. 1: 5.11

4 Какие из данных дорожных знаков дают преимущество в движении?

1. Только знак 
2. Только знак 
3. Только знак 
4. Знаки, указанные в ответах 2 и 3.
5. Знаки, указанные в ответах 1, 2, 3.

Прил. 1: 1.22,
1.23.2, 1.23.4


5 Разрешается ли водителю остановить транспортное средство на данном участке дороги?



1. Запрещается с левой и с правой стороны.
2. Разрешается только с левой стороны.

Прил. 1: 3.34


6 С каким дорожным знаком может быть применена данная дорожная разметка?



1. «Стоянка запрещена».
2. «Стоянка запрещена по нечётным числам месяца».
3. «Остановка запрещена».

Прил. 2: 1.10.1

7 Данный дорожный знак:



1. Предупреждает, что впереди участок дороги с поперечным уклоном проезжей части.
2. Предупреждает, что впереди участок дороги с опасными поворотами, в данном случае — с первым поворотом налево.
3. Предупреждает, что впереди участок дороги с повышенной скользкостью проезжей части.

Прил. 1: 1.13

8 Водитель красного автомобиля:



1. Должен уступить дорогу.
2. Имеет преимущество, так как движется по дороге, имеющей продолжение в оба направления, а жёлтый автомобиль движется по прилегающей дороге.

8.7.3 «Е»; 16.9

9 Дайте полный ответ. Мигающий красный свет, излучаемый фонарём, который применяется в соответствии с требованиями Правил дорожного движения, должен быть хорошо виден:

1. В тёмное время суток.
2. В условиях недостаточной видимости.
3. Днём при солнечной погоде.
4. В случаях, указанных в ответах 1, 2, 3.
5. В случаях, указанных в ответах 1 и 2.

9.12

10 Водителю какого транспортного средства разрешено движение задним ходом?



1. Водителям обоих автомобилей.
2. Водителю грузового автомобиля.
3. Водителю легкового автомобиля.
4. Водителям обоих автомобилей движение задним ходом запрещено.

10.10

11 Когда разрешается транспортному средству, скорость движения которого не превышает 40 км/ч, выезжать в крайнее левое положение на проезжей части для движения в этом же направлении? Дайте полный ответ.

1. При обгоне или объезде.
2. При перестроении перед поворотом налево или разворотом.
3. Во всех перечисленных случаях, а также на проезжей части с односторонним движением.
4. В случаях, указанных в ответах 1 и 2.

11.7


12 Водителям грузовых автомобилей с разрешённой максимальной массой менее 3,5 т на автомагистралях запрещается:



1. Движение далее второй полосы, кроме перестроения для поворота налево или разворота.
2. Движение задним ходом.
3. Буксировать механические транспортные средства.
4. Выполнять действия, указанные в ответах 1, 2, 3.

27.2 «Г»

13 Как должен поступить водитель, если на перекрёстке, на котором он имеет преимущество в движении, образовался затор?



1. Въехать на перекрёсток, соблюдая меры безопасности.
2. Запрещается въезжать на перекрёсток.
3. Въехать на перекрёсток, подавая прерывистый звуковой сигнал.

16.4

14 Обгон запрещён:

1. На перекрётках.
2. На перекрётках, за исключением тех случаев, когда обгон совершается по дороге, являющейся главной по отношению к пересекаемой.
3. На перекрётках, за исключением случаев обгона на регулируемых перекрётках.
4. Во всех перечисленных случаях.

14.6 «А»

15 Разрешаются ли остановка и стоянка на проезжей части во втором ряду возле уже стоящего автомобиля?



1. Разрешаются только легковым микролитражным автомобилям.
2. Разрешаются только велосипедам и мопедам.
3. Запрещаются всем транспортным средствам.

15.4

16 Вторым проедет перекрёсток:



1. Красный и синий автомобили.
2. Жёлтый автомобиль.
3. Зелёный автомобиль.

16.12; 16.13

17 В чем опасность длительного торможения автомобиля с выключенной передачей на крутых затяжных спусках?

1. Повышенный износ деталей сцепления.
2. Перегрев тормозных механизмов и отказ их в работе.
3. Повышенный износ шин.


ОБД

18 При каких из перечисленных условий запрещается эксплуатация транспортных средств? Дайте полный ответ.

1. Нарушена герметичность пневматического или пневмогидравлического тормозного привода.
2. Не горит лампа левой фары в режиме ближнего света.
3. При условиях, указанных в ответах 1 и 2.

31.4.1 «Г»;
31.4.3 «В»

19 На каком минимальном расстоянии от впереди движущегося в попутном направлении транспортного средства следует переключить дальний свет фар на ближний в тёмное время суток?



1. Не менее чем за 150 м.
2. Не менее чем за 200 м.
3. Не менее чем за 250 м.
4. Не менее чем за 300 м.

19.2

20 Водитель какого транспортного средства должен уступить дорогу?



1. Водитель красного автомобиля.
2. Вы — водитель синего автомобиля.


16.12

1 Какую дорогу, по определению Правил дорожного движения, следует считать «главной дорогой»?

1. Дорогу с трамвайными путями по отношению к дороге без трамвайных путей.
2. Дорогу с продолжением в обе стороны по отношению к примыкающей на трехстороннем перекрестке.
3. Дорогу с многополосной проезжей частью по отношению к дороге с одной полосой для движения в каждом направлении.
4. Дорогу с покрытием по отношению к грунтовой или обозначаемую соответствующими знаками.
5. Дороги, указанные в ответах 1—4.

1.10

2 Зелёный автомобиль проедет перекрёсток:



1. Первым.
2. Вторым.
3. Третьим.
4. Последним.

3.2;
16.11; 16.14

3 С какой максимальной скоростью разрешается движение транспортных средств на участках дорог, обозначенных данным дорожным знаком?



1. Со скоростью не больше, чем предусмотрено Правилами дорожного движения для конкретного участка дороги.
2. Более 50 км/ч.
3. Не более 50 км/ч.

Прил. 1: 5.30

4 Какой из данных дорожных знаков указывает направление движения для возвращения на проезжую часть справа?



Прил. 1: 5.24.2

5 В каких направлениях разрешается движение грузового автомобиля с разрешённой максимальной массой менее 3,5 т?



1. Только налево.
2. Только направо.
3. Только прямо.
4. Налево и направо.
5. Во всех направлениях.

Прил. 1: 4.11,
7.3.3

6 Данной дорожной разметкой обозначаются:



1. Боковые поверхности ограждений дорог на закруглениях малого радиуса, крутых спусках, других опасных участках.
2. Участки дорог, на которых перестроение и маневрирование на проезжей части запрещены.
3. Участки дорог, на которых выезд на полосу встречного движения запрещён.
4. Участки дорог, на которых остановка и стоянка запрещены.
5. Участки дорог, на которых все запрещения изложены в ответах 2, 3, 4.


Прил. 2: 2.5

7 Что означает дорожный знак круглой формы, на белом фоне которого изображены окантовка и наклонные полосы чёрного цвета?

1. Отменяет запрещение для движения всех грузовых автомобилей.
2. Определяет одновременно конец действия всех запретов и ограничений, введённых некоторыми запрещающими дорожными знаками.
3. Отменяет запрещение для движения маршрутных транспортных средств.
4. Отменяет запрещения, указанные в ответах 1 и 3.

Прил. 1: 3.42

8 Движение запрещено:



1. Грузовому автомобилю — налево.
2. Грузовому автомобилю — прямо, легковому автомобилю — прямо и направо.
3. Легковому автомобилю.

8.8 «А»

9 Если требуется включить аварийную световую сигнализацию в населённом пункте, а она неисправна, надо ли выставлять знак аварийной остановки или мигающий красный фонарь?

1. Не надо.
2. Необходимо.

9.11

10 В случае, когда траектории движения транспортных средств пересекаются, а очерёдность проезда не оговорена Правилами дорожного движения, дорогу должен уступить водитель:

1. К которому транспортное средство приближается слева.
2. К которому транспортное средство приближается справа.
3. Движущийся с меньшей скоростью.

10.11

11 Перед началом буксировки водители механических транспортных средств должны:

1. Выбрать способ буксировки в зависимости от наличия буксира.
2. Согласовать порядок подачи сигналов, в частности для остановки транспортных средств.
3. Выполнить требования, указанные в ответах 1 и 2.


23.8

12 Каким транспортным средствам запрещается движение вне населённых пунктов со скоростью более 70 км/ч?

1. Только грузовым автомобилям с разрешённой максимальной массой менее 3,5 т.
2. Легковым автомобилям, управляемым водителями с водительским стажем 3 года.
3. Транспортным средствам, которыми управляют водители со стажем до двух лет.

12.6 «Б»

13 Третьим проедет перекрёсток:



1. Красный автомобиль.
2. Зелёный автомобиль.
3. Синий автомобиль.
4. Жёлтый автомобиль.

16.11; 16.13

14 В каких случаях Правила дорожного движения разрешают обгон на перекрёстке?

1. Когда выполняется обгон по главной дороге.
2. Когда обгоняются двухколесные транспортные средства с боковым прицепом.
3. Когда обгоняются транспортные средства, движущиеся со скоростью до 30 км/ч.
4. Обгон на перекрестке запрещён.
5. В случаях, перечисленных в ответах 1, 2 и 3.


14.6 «А»

15 Стоп-линия указывает место, где водитель должен остановиться при запрещающем сигнале светофора. На каком расстоянии до стоп-линии запрещаются остановка и стоянка транспортных средств?

1. На расстоянии 10 м.
2. На расстоянии 20 м.
3. На расстоянии 50 м.
4. На любом расстоянии, в местах, где транспортное средство закрывает от других водителей сигналы светофора.

15.9 «3»

16 Водитель трамвая:



1. Должен уступить дорогу.
2. Имеет преимущество перед нерельсовыми транспортными средствами и поэтому проедет перекрёсток первым.

16.9

17 От чего зависит протяжённость участка дороги, необходимого для выполнения обгона?

1. Только от скорости движения обгоняющего и обгоняемого транспортных средств.
2. Только от состояния дорожного покрытия.
3. От условий, указанных в ответах 1 и 2.

ОБД

18 Разрешается ли движение без остановки через пешеходный переход, перед которым остановилось транспортное средство?

1. Движение запрещается, остановка перед пешеходным переходом обязательна.
2. Разрешается только на дороге, имеющей не менее двух полос для движения в каждом направлении.
3. Разрешается, если перед пешеходным переходом не установлен знак «Проезд без остановки запрещён».
4. Разрешается, если водитель убедился, что на пешеходном переходе нет пешеходов, для которых может быть создано препятствие либо опасность.

18.4

19 Какая информация заложена в данном дорожном знаке?



1. Впереди участок дороги, на котором запрещается движение со скоростью, превышающей ту, которая указана на знаке.
2. Впереди участок дороги, на котором отменяются все запреты и ограничения.
3. Впереди участок дороги, на котором движение разрешается со скоростью не менее той, которая указана на знаке.
4. Впереди участок дороги, на котором зона действия знака «Ограничение максимальной скорости» закончена.
5. Информация, заложенная в ответах 2 и 4.

Прил. 1: 3.30

20 Сигналом, запрещающим движение через железнодорожный переезд, является положение дежурного, обращённого к водителю:

1. Любым плечом или грудью с поднятым над головой жезлом (красным флажком).
2. Левым или правым плечом с поднятым над головой жезлом (красным флажком).
3. Грудью или спиной с поднятым над головой жезлом (красным флажком) или вытянутыми в стороны руками.

20.5 «А»

1 Дайте полный ответ. Работник милиции, воспользовавшись транспортным средством для выполнения непредвиденных и неотложных служебных обязанностей, должен:

1. Выдать справку об использовании транспортного средства.
2. Сделать запись в путевом листе.
3. Выполнить указанное в ответах 1 или 2.


2.7 «б» прим.2

2 Как должен поступить пешеход при приближении транспортного средства с включёнными проблесковым маячком красного и синего цвета и специальным звуковым сигналом?

1. Как можно скорее перейти проезжую часть.
2. Перейти проезжую часть, если он находится на пешеходном переходе.
3. Воздержаться от перехода проезжей части или немедленно покинуть её.

4.13

3 Данный дорожный знак, установленный на дороге вне населённого пункта, предупреждает, что:



1. Впереди перекрёсток, на котором к главной дороге примыкают второстепенные дороги — справа, а менее чем через 100 м — слева.
2. Впереди перекрёстки, на которых необходимо уступить дорогу транспортным средствам, движущимся по пересекаемым дорогам.
3. Впереди участок дороги со спусками, подъёмами и пересекающими её дорогами.

Прил. 1: 1.23.3

4 Какой дорожный знак обязывает уступить дорогу транспортным средствам при встречном разъезде?







- 1
- 2
- 3
- 4
- 5

Прил. 1: 2.5

5 В каком направлении запрещено транзитное движение через перекрёсток?



1. Во всех направлениях.
2. Прямо и налево.
3. Только направо.
4. Только налево.

Прил. 1: 3.1, 7.3.1


6 С каким дорожным знаком применяется разметка «стоп-линия»?



1. Со знаком «Уступить дорогу» или со знаком «Проезд без остановки запрещён».
2. Со знаком «Уступить дорогу».
3. Со знаком «Проезд без остановки запрещён».

Прил. 2: 1.12

7 Разрешается ли буксировка механических транспортных средств, если на дороге установлен данный дорожный знак?



1. Разрешается на любой сцепке.
2. Разрешается только легковым автомобилям.
3. Разрешается на жёсткой сцепке.
4. Запрещается.

Прил. 1: 3.4

8 Каким транспортным средствам разрешено движение?



1. Мотоциклу, легковому и грузовому автомобилям.
2. Легковому автомобилю и мотоциклу.
3. Легковому и грузовому автомобилям.

8.8 «Б»

9 Какие внешние световые приборы должны быть включены на буксируемом механическом транспортном средстве при буксировке?

1. Габаритные фонари только в тёмное время суток.
2. Габаритные фонари в тёмное время суток и в условиях недостаточной видимости.
3. Аварийная световая сигнализация.
4. Приборы, указанные в ответах 2 и 3.

9.9 «Г»

10 Перед началом движения, перестроением и любым изменением направления движения водитель должен:

1. Убедиться, что это будет безопасно и не создаст препятствий или опасности другим участникам дорожного движения.
2. Подать звуковой сигнал, если стоящие впереди пешеходы создают помехи для движения.
3. Подать сигнал фарами, предупреждая других участников дорожного движения о своих намерениях.

10.1

11 При наличии трамвайного пути посередине проезжей части поворот налево или разворот должны быть выполнены:

1. С трамвайного пути попутного направления, расположенного на одном уровне с проезжей частью для нерельсовых транспортных средств, если иной порядок движения не предусмотрен дорожными знаками.
2. Из крайней левой полосы для движения нерельсовых транспортных средств.
3. Согласно требованиям в ответах 1 или 2.

11.8

12 Разрешена ли буксировка механических транспортных средств грузовыми автомобилями на автомагистралях?

1. Запрещена.
2. Разрешена любым способом со скоростью от 40 до 50 км/ч.
3. Разрешена на гибкой сцепке.
4. Разрешена только способом частичной погрузки или на жесткой сцепке.
5. Разрешена со скоростью 60 км/ч.

12.7; 27.3

13 Разрешается ли самовольно открывать шлагбаум или объезжать его при выполнении служебного задания?

1. Разрешается при отсутствии дежурного по переезду.
2. Разрешается по усмотрению водителя, если вблизи нет приближающегося поезда.
3. Разрешается.
4. Запрещается.

20.7

14 В каких из перечисленных мест запрещается обгон?

1. Только на участках дорог с ограниченной обзорностью.
2. Только на дорогах, на которых имеется прерывистая линия дорожной разметки, разделяющая транспортные потоки противоположных направлений.
3. Только на участках дорог, на которых имеется прерывистая линия дорожной разметки, длина штрихов которой в три раза превышает промежутки между ними.
4. На участках дорог, указанных в ответах 1 и 3.

14.6 «Г»

15 Разрешается ли стоянка на краю тротуара, примыкающего непосредственно к краю проезжей части?



1. Запрещается всем транспортным средствам, кроме мест, обозначенных соответствующими дорожными знаками и табличками.
2. Разрешается только легковым автомобилям и мотоциклам при условии, что это не создаст препятствий движению пешеходов.

15.10 «Б»

16 Транспортные средства проедут перекрёсток в следующем порядке:



1. Трамвай 1, красный автомобиль, зелёный автомобиль, трамвай 2, жёлтый автомобиль, синий автомобиль.
2. Трамваи 1 и 2, красный, зелёный, жёлтый, синий автомобили.

16.11; 16.14

17 Применение торможения двигателем на скользкой дороге для заднеприводного автомобиля:

1. Снижает устойчивость автомобиля.
2. Повышает устойчивость автомобиля.
3. Не оказывает какого-либо влияния на устойчивость автомобиля.

ОБД

18 Дайте полный ответ. В соответствии с Правилами дорожного движения запрещается эксплуатация транспортных средств:

1. Если транспортные средства, подлежащие обязательному техническому контролю, не прошли его.
2. В случае переоборудования транспортных средств на СТО.
3. В случае оборудования транспортного средства специальными звуковыми и световыми сигналами без разрешения Госавтоинспекции.
4. В случаях указанных в ответах 1, 2 и 3.
5. В случаях указанных в ответах 2 и 3.

31.3 «б»

19 Данный дорожный знак предупреждает, что:



1. Впереди участок дороги, на котором ширина проезжей части уменьшается на одну полосу движения.
2. Впереди узкий участок проезжей части, при движении по которому предоставляется преимущество по отношению к встречным транспортным средствам.
3. Впереди начинается участок дороги (проезжей части) со встречным движением после одностороннего движения.

Прил. 1: 1.26

20 Водитель какого транспортного средства должен уступить дорогу?



1. Водитель грузового автомобиля.
2. Водители обоих автомобилей.
3. Водитель трамвая.

16.12

1 Разрешается ли эксплуатация транспортного средства, которое переоборудовано на другой вид топлива?

1. Разрешается, за исключением транспортных средств, принадлежащих индивидуальным владельцам.
2. Запрещается, если такое переоборудование не согласовано с ГАИ.
3. Разрешается, если уровень дымности в отработанных газах не превышает установленной нормы.


32.1 «Є»;
31.3 «А»

2 Разрешается ли лицу, обучающемуся вождению, не пристёгиваться ремнями безопасности во время учебной езды?

1. Разрешается, только если это затрудняет управление автомобилем.
2. Разрешается только на дорогах с некачественным дорожным покрытием.
3. Разрешается в случаях, указанных в ответах 1 и 2.
4. Запрещается.

2.3 «В»

3 Данный дорожный знак предупреждает, что:



1. Впереди на пути движения имеется только паромная переправа.
2. Впереди на пути движения имеется только разводной мост.
3. Впереди ремонтные работы на дороге. Следует объехать данный участок.
4. Информация, заложенная в ответах 1 и 2.

Прил. 1: 1.25

4 Какой дорожный знак называется «Конец дороги с односторонним движением»?



1. 2. 3.
4. 5.

Прил. 1: 5.6

5 В каких направлениях запрещено движение? (Направления А и В — въезды во дворы).



1. Только Г.
2. Только В.
3. Только А, В и Г.
4. Только А и В.
5. Только В и Г.

Прил. 1: 4.1


6 Что обозначает данная дорожная разметка?



1. Место, где велосипедная дорожка пересекает проезжую часть.
2. Место, где пешеходная дорожка пересекает проезжую часть.
3. Пешеходный переход, где движение регулируется светофором.

Прил. 2: 1.14.2

7 Перед какими участками дорог устанавливается данный дорожный знак?



1. Перед наплывами или волнистостью на проезжей части.
2. Перед искусственно создаваемыми буграми в местах, где необходимо принудительно ограничить скорость движения транспортных средств.
3. Перед выбоинами или проседаниями дорожного покрытия на проезжей части.
4. Перед участками дорог, указанными в ответах 1, 2, 3.

Прил. 1: 1.12

8 Разрешается ли выезд на левую полосу на данном участке дороги, где реверсивный светофор выключен?



1. Запрещается.
2. Разрешается.

8.7.4

9 Какие внешние световые приборы должны быть включены на буксируемом механическом транспортном средстве при буксировке?

1. Габаритные фонари, если на буксируемом транспортном средстве неисправно рулевое управление.
2. Аварийная световая сигнализация.
3. Ближний свет фар, если на буксируемом транспортном средстве неисправна тормозная система.

9.9 «Г»

10 Где не должно оказаться транспортное средство при выезде с пересечения проезжих частей во время поворота?

1. На полосе встречного движения.
2. На левой полосе, если имеется не менее трёх свободных полос для движения в одном направлении.
3. На левой полосе, если занята правая полоса.

10.5

11 Какое минимальное расстояние между транспортными средствами должна обеспечивать гибкая сцепка при буксировке?

- 1 2 3 4 5
 4—8 м 4—6 м 3—6 м 2—4 м 1—3 м

23.3

12 С какой максимальной скоростью разрешается движение грузовых автомобилей с разрешенной максимальной массой не более 3,5 т на участках дорог, не отнесенных по условиям движения к «дорогам для автомобилей» и обозначенных данным дорожным знаком?



- 1 2 3 4 5
 60 км/ч 90 км/ч 100 км/ч 110 км/ч 130 км/ч

12.6 «Г»


13 На месте ДТП лежит пострадавший без признаков жизни. Как определить, жив он или мертв? Дайте полный ответ.

1. Наличие дыхания определяется по запотеванию зеркала или по движению ватки, поднесенных к носу.
2. По реакции зрачков на свет.
3. По признакам, перечисленным в ответах 1 и 2.

Оказывайте помощь до тех пор, пока у пострадавшего не появится дыхание или пульс!!!

ОПМП
стр. 50


14 Что означает данный опознавательный знак, установленный на автомобиле?



1. Автомобиль принадлежит водителю-инвалиду.
2. Автомобиль принадлежит водителю-врачу.
3. Автомобиль предназначен для оказания медпомощи на дому.

30.3 «Ж»


15 Водителю какого автомобиля разрешена остановка?



1. Обоим водителям.
2. Водителю легкового автомобиля.
3. Водителю грузового автомобиля.
4. Остановка запрещена водителям обоих транспортных средств.

15.9 «В»

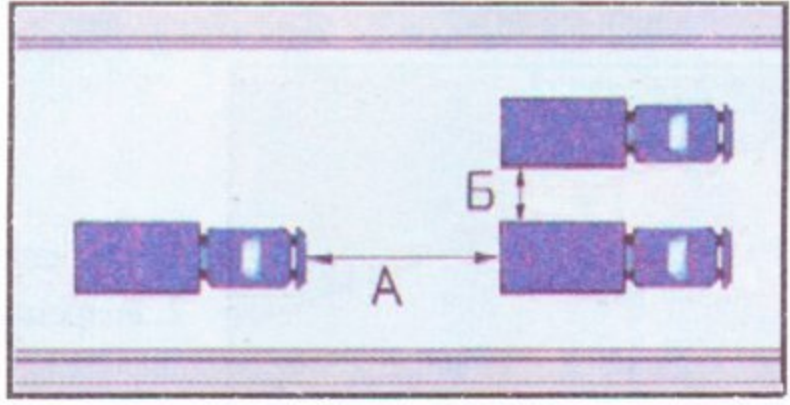
16 Вторым проедет перекрёсток:



1. Синий автомобиль.
2. Зелёный автомобиль.
3. Красный автомобиль.

16.12
16.13

17 Что называется дистанцией?



1. Расстояние Б.
2. Расстояния А и Б.
3. Расстояние А.

ОБД

18 Разрешается ли управлять автомобилем в тёмное время суток, если одна фара не работает?

1. Разрешается только на освещённой дороге.
2. Запрещается в любом случае.
3. Запрещается, если не горит лампа левой фары в режиме ближнего света.

31.4.3 «В»

19 Если нарушена герметичность гидравлического тормозного привода, водитель должен:

1. Прекратить дальнейшее движение.
2. Продолжить намеченную поездку, используя ручной тормоз.
3. Устранить неисправность на месте, а если это не удалось, — двигаться как можно более коротким путём к месту стоянки или ремонта, соблюдая меры предосторожности.

31.5

20 Как должен поступить водитель, если сигнал светофора разрешает ему движение, а пешеходы не успели перейти проезжую часть?



1. Начать движение с особой осторожностью, чтобы не создавать за собой затор.
2. Уступить дорогу пешеходам.
3. Начать движение с особой осторожностью, а пешеходы должны остановиться на островке безопасности.

16.5

1 При каких перечисленных условиях разрешается учебная езда на автомобиле? Дайте полный ответ.

1. Разрешается только в присутствии специалиста по подготовке водителей при наличии опознавательного знака «Учебное транспортное средство».
2. Разрешается только в присутствии специалиста по подготовке водителей при достаточных начальных навыках у обучаемого.
3. Разрешается без присутствия специалиста по подготовке водителей, но при наличии опознавательного знака «Учебное транспортное средство».
4. При условиях, перечисленных в ответах 1, 2, 3.
5. При условиях, перечисленных в ответах 1, 2.


24.5; 24.8

2 Разрешается ли водителю транспортного средства категории «В» управлять легковым автомобилем с прицепом без разрешения управлять транспортными средствами категории «ВЕ»?

1. Разрешается, если разрешённая максимальная масса прицепа не превышает 750 кг.
2. Разрешается, если разрешённая максимальная масса прицепа не превышает 550 кг.
3. Запрещается в любом случае.

2.13


3 Данный дорожный знак:



1. Определяет зону, где в субботние, воскресные и праздничные дни разрешаются игры на проезжей части.
2. Информировывает водителей о въезде на территорию, где действуют особые условия, предусмотренные Правилами дорожного движения.
3. Запрещает играть с мячом детям и взрослым в зоне его действия.

Прил. 1: 5.31

4 Данный дорожный знак с табличкой:



1. Запрещает въезд всех транспортных средств в рабочие дни недели с 8.00 до 17.30.
2. Запрещает въезд всех транспортных средств во все дни недели, за исключением времени суток с 8.00 до 17.30.
3. Запрещает въезд транспортных средств в рабочие дни недели, за исключением времени с 8.00 до 17.30.

Прил. 1: 3.21, 7.4.6

5 В каком направлении разрешено движение?



1. Только прямо.
2. Прямо, направо и налево.
3. Только прямо и направо.
4. Во всех направлениях.

Прил. 1: 5.5

6 В какое время суток разрешается перегонять стадо животных по дороге?

1. Разрешается в любое время суток при наличии необходимого количества погонщиков.
2. Разрешается в светлое время суток при наличии двух погонщиков.
3. Разрешается только в светлое время суток, при этом привлекается такое количество погонщиков, чтобы можно было направлять животных как можно ближе к правому краю дороги.

7.6

7 Что из перечисленных действий обязан выполнить водитель перед выездом с места постоянной стоянки и началом движения?

1. Только убедиться, что начало движения будет безопасным и он не создаст препятствий или опасности другим участникам движения.
2. Только подать сигнал световыми указателями поворота соответствующего направления.
3. Только проверить и обеспечить технически исправное состояние и комплектность транспортного средства, правильность размещения и крепления груза.
4. Выполнить все перечисленные действия.

9.2; 2.3 «А»; 10.1

8 Имеют ли преимущество сигналы регулировщика перед требованиями дорожных знаков?

1. Имеют преимущество перед требованиями всех дорожных знаков и являются обязательными для выполнения.
2. Имеют преимущество перед требованиями дорожных знаков приоритета и являются обязательными для выполнения.
3. Не имеют преимущества перед дорожными знаками.

8.3

9 Разрешается ли водителю открывать двери перед остановкой транспортного средства с целью ускорить высадку пассажиров?

1. Разрешается только в часы пик.
2. Запрещается.
3. Разрешается только в летнее время в часы пик.

21.4

10 Водители каких транспортных средств нарушают Правила дорожного движения?



1. Водители учебного автомобиля, трактора и легкового автомобиля.
2. Только водитель легкового автомобиля.
3. Только водители учебного автомобиля и трактора.
4. Водители всех транспортных средств.

24.9; 27.2 «А», «Г», «Д»

11 Разрешается ли поворот налево или разворот при движении на велосипедах и мопедах по проезжей части?

1. Разрешается на всех дорогах без трамвайного пути посередине.
2. Запрещается на всех дорогах.
3. Разрешается на дорогах с одной полосой для движения в каждом направлении и без трамвайного пути посередине.


11.14

12 Какой должна быть скорость движения транспортного средства в тёмное время суток и в условиях недостаточной видимости?

1. Такой, чтобы водитель имел возможность остановить транспортное средство в пределах видимости дороги.
2. Не более 50 км/ч в населённых пунктах и не более 100 км/ч вне их.
3. Ответы 1 и 2 верны.

12.2

13 На дорогах, имеющих две и более полос для движения в одном направлении, выезд с правых полос:



1. Разрешается в любом случае.
2. Разрешается, если они заняты.
3. Разрешается для выполнения обгона.

11.5; 14.6 «Е»

14 Если необходимо внести изменения в регистрационные документы, владельцы механических транспортных средств должны перерегистрировать их в ГАИ в течение:

1	2	3	4
30 суток	20 суток	15 суток	10 суток


30.1

15 Стоянка запрещается:

1. Ближе 20 м перед пешеходным переходом.
2. Ближе 30 м перед пешеходным переходом.
3. В местах, где стоящее транспортное средство делает невозможным движение других транспортных средств или создаёт препятствие для движения пешеходов.
4. Ближе 20 м от края пересекаемых проезжих частей.
5. Во всех перечисленных случаях.

15.10 «Д»

16 Вторым проедет перекрёсток:



1. Синий автомобиль.
2. Зелёный автомобиль.
3. Красный автомобиль.

16.12; 16.13

17 Двигаясь прямо, Вы внезапно попали на скользкий участок дороги. Что следует предпринять в данной ситуации?

1. Не меняя положения рулевого колеса, выключить передачу и двигаться накатом.
2. Не меняя положения рулевого колеса и скорости движения, проехать скользкий участок дороги.
3. Не меняя положения рулевого колеса, увеличить скорость движения автомобиля на данном участке.
4. Проехать скользкий участок дороги, не меняя положения рулевого колеса, притормаживая, не выключая сцепления.

ОБД

18 При каких из перечисленных условий запрещается эксплуатация транспортных средств? Дайте полный ответ.

1. Во время дорожных испытаний рабочей тормозной системы транспортных средств превышаются значения тормозного пути.
2. На переднюю ось легкового автомобиля установлены диагональные шины.
3. При условиях, указанных в ответах 1 и 2.

31.4.1 «Б»

19 На участке дороги за данным дорожным знаком:



1. Разрешается обгон только грузовым автомобилям.
2. Разрешается обгон всех транспортных средств.
3. Разрешается обгон всем транспортным средствам, кроме микроавтобусов и автобусов.

Прил. 1: 3.28

20 В связи с обильным снегопадом и тёмным временем суток невозможно определить наличие покрытия на дороге. Водитель должен:

1. Уступать дорогу только автобусам.
2. Уступить дорогу только тому транспортному средству, которое приближается к нему слева.
3. Считать, что он находится на второстепенной дороге.

16.15

1 Если на грунтовой дороге, непосредственно перед перекрёстком, имеется участок дороги с покрытием, делает ли это её равной по значению с пересекаемой?

1. Да.
 2. Нет.


1.10

2 Дайте полный ответ. Автомобиль перед пешеходным переходом, на котором находятся пешеходы следует остановить:

1. Если пешеходный переход регулируемый и для водителя включён запрещающий сигнал.
 2. Если пешеходный переход находится в населённом пункте.
 3. Если переходят дорогу два и более человек.
 4. Следует остановить во всех перечисленных случаях.

4.9;
 8.7.3 «Е»

3 Что обозначает данный дорожный знак?



1. Узкий участок дороги, во время движения по которому водитель имеет преимущество относительно встречных транспортных средств.
 2. Впереди дорога с односторонним движением.
 3. Остановка и стоянка запрещаются.

Прил. 1: 2.6

4 Какой дорожный знак указывает направление движения на Т-образном перекрестке?



1 2 3
 4 5

Прил. 1: 1.4.3

5 Разрешена ли стоянка автомобиля в данном месте?



1. Запрещена.
 2. Разрешена.


Прил. 1: 3.35

6 Разметка «стоп-линия» обозначает то место, где водитель должен:

1. Остановиться при наличии знака «Проезд без остановки запрещён» либо при запрещающем сигнале светофора или регулировщика.
 2. Остановиться только в населённом пункте.
 3. Остановиться в местах, указанных в ответах 1 и 2.
 4. Остановиться в любом случае.

Прил. 2: 1.12


7 Разрешается ли движение автобусов на участке дороги за данным дорожным знаком?



1. Разрешается только тем автобусам, которые движутся по установленным маршрутам и имеют определённые места на дороге для посадки (высадки) пассажиров.
 2. Запрещается.
 3. Разрешается.

Прил. 1: 4.11

8 Жёлтый мигающий сигнал светофора:



1. Разрешает движение и информирует о наличии опасного нерегулируемого перекрёстка или пешеходного перехода.
 2. Запрещает движение пешеходов.
 3. Запрещает движение транспортных средств.

8.7.3 «Д»

9 Как обозначаются в светлое время суток движущиеся буксируемый и буксируемый автомобили?

1. На буксирующем автомобиле включают дальний свет фар, а на буксируемом — габаритные фонари.
 2. На буксирующем автомобиле включают ближний свет фар, а на буксируемом — аварийную световую сигнализацию.
 3. На буксирующем и буксируемом автомобилях включают аварийную световую сигнализацию.

9.8 «Г»,
 9.9 «Г»

10 Как должен поступить водитель транспортного средства, который выезжает с места стоянки?

1. Уступить дорогу пешеходам, движущимся по тротуару, и транспортным средствам, движущимся по проезжей части.
 2. Водитель имеет преимущество перед пешеходами, а транспортным средствам должен уступить дорогу.

10.2

11 Разрешается ли водителям велосипедов, мопедов и гужевых повозок поворот налево или разворот на дорогах?

1. Разрешается на любой дороге с двусторонним движением, но без трамвайного пути посередине.
2. Разрешается на дорогах с одной полосой для движения в каждом направлении и без трамвайного пути посередине.
3. Запрещается только разворот на любой дороге с двусторонним движением.
4. Запрещается.

11.14

12 С какой максимальной скоростью разрешается движение легкового автомобиля в тёмное время суток вне населённого пункта?

1. С той же скоростью, что и в светлое время суток.
2. С такой скоростью, чтобы водитель имел возможность остановить транспортное средство в пределах видимости дороги.
3. Со скоростью по усмотрению водителя.

12.2

13 Водитель легкового автомобиля приближается к участку дороги, на котором установлен данный дорожный знак. Впереди движется транспортное средство с более низкой скоростью. Разрешается ли водителю легкового автомобиля выполнить обгон?



1. Разрешается, если транспортное средство впереди движется со скоростью до 30 км/ч.
2. Разрешается в любом случае.
3. Разрешается при выполнении условий, изложенных в ответах 1 или 2.
4. Разрешается, если обгон будет завершён не менее, чем за 50 м до места установки знака.
5. Обгон запрещён в любом случае.

14.6 «Б»;
прил. 1: 1.31.3


14 Водителю обгоняемого транспортного средства:



1. Запрещается препятствовать обгону путём повышения скорости или иными действиями.
2. Разрешается использовать своё преимущество, двигаясь по своему усмотрению.

14.3

15 Ставить транспортные средства под углом к краю проезжей части разрешается:



1. Так, как остановился водитель автомобиля Б.
2. Так, как остановился водитель автомобиля А или Б.
3. В местах, где это не будет препятствовать движению других транспортных средств, так, как остановился водитель автомобиля А.
4. Только там, где имеется соответствующая разметка проезжей части.

15.5

16 Должен ли водитель автомобиля остановиться перед «стоп-линией»?



1. Не должен.
2. Должен обязательно.
3. Ему разрешается не останавливаться, если по пересекаемой дороге не движутся транспортные средства.

16.8

17 Какая информация заложена в данном дорожном знаке?



1. Впереди участок дороги, на котором действуют особые условия дорожного движения, предусмотренные разделом «Движение по автомагистралям и дорогам для автомобилей» Правил дорожного движения.
2. Впереди участок дороги, на котором не запрещается учебная езда.
3. Впереди участок дороги, на котором запрещается буксировка.
4. Впереди участок дороги, на котором только разворот запрещен.
5. Информация и требования, изложенные в ответах 1, 2, 3, 4.

Прил. 1: 5.1

18 Разрешается ли следовать к месту стоянки или ремонта с поврежденным тягово-сцепным устройством автопоезда?

1. Разрешается при буксировке на жёсткой сцепке.
2. Запрещается.
3. Разрешается со скоростью, обеспечивающей безопасность движения.

31.6

19 На горных дорогах буксировка разрешается:

1. С применением жёсткой или гибкой сцепки.
2. С применением гибкой сцепки.
3. С применением любого способа при обеспечении безопасности дорожного движения.
4. С применением жёсткой сцепки или с частичной погрузкой буксируемого транспортного средства на платформу или на специальное опорное приспособление.

28.3 «Б»


20 Приближаясь к железнодорожному переезду, перед которым установлен данный дорожный знак, водитель нерельсового транспортного средства должен:



1. Снизить скорость и в случае отсутствия поезда продолжить движение через переезд.
2. Продолжить движение без снижения скорости и остановки если он убедился в том, что поезд не приближается.
3. Остановиться в любом случае.

20.2;
прил. 1: 2.2

1 Разрешаются ли остановка и стоянка транспортных средств на участке дороги, на котором установлены данный дорожный знак с табличкой?



1. Разрешаются всем транспортным средствам только для посадки и высадки пассажиров.
2. Разрешаются только водителям-инвалидам, которые управляют транспортными средствами, обозначенными опознавательным знаком «Инвалид», а также водителям маршрутных транспортных средств.
3. Разрешаются всем транспортным средствам только в населённых пунктах в условиях недостаточной видимости.


2.8

2 Организованные группы детей разрешается водить только по тротуарам и пешеходным дорожкам, а если их нет, — по обочине дороги:

1. В направлении движения транспортных средств колонной, но только в светлое время суток и только в сопровождении взрослых.
2. В светлое время суток или в сумерки, но только в сопровождении взрослых.
3. В тёмное время суток, но при хорошем освещении дорог, улиц и только в сопровождении взрослых.
4. При условиях, указанных в ответах 2 и 3.

4.6


3 Какая информация заложена в данном дорожном знаке?



1. Запрещается проезд без остановки только тогда, когда на пересекаемой дороге нет движения других транспортных средств.
2. Запрещается проезд без остановки только тогда, когда ограничена обзорность на перекрестке.
3. Запрещается проезд без остановки только водителю маршрутного транспортного средства.
4. Запрещается проезд во всех случаях без остановки перед разметкой «стоп-линия», а если она отсутствует — перед знаком.
5. Информация и требования, изложенные в ответах 1 и 4.

Прил. 1: 2.2

4 Где и на каком расстоянии до железнодорожного переезда устанавливаются данные дорожные знаки?



1. Устанавливаются только вне населённых пунктов со знаком «Железнодорожный переезд со шлагбаумом» за 300 м до переезда.
2. Устанавливаются самостоятельно за 150 м до переезда.
3. Устанавливаются самостоятельно на одинаковом расстоянии между первым и вторым знаками «Железнодорожный переезд со шлагбаумом» или «Железнодорожный переезд без шлагбаума».

Прил. 1: 1.31.2, 1.31.5

5 Должен ли водитель остановиться перед стоп-линией в данном случае?



1. Должен обязательно остановиться в том случае, если на пересекаемой проезжей части появится транспортное средство, которому водитель должен уступить дорогу.
2. Должен обязательно остановиться.
3. Должен проехать перекресток без остановки.

Прил. 1: 2.2; прил. 2: 1.12; 16.1

6 Данная прерывистая линия, у которой длина штрихов в три раза превышает промежутки между ними, обозначает:



1. Приближение к сплошной линии разметки, которая разделяет транспортные потоки противоположных или попутных направлений.
2. Край проезжей части на автомагистралях, где разрешена остановка.

Прил. 2: 1.6

7 Какая информация заложена в данном дорожном знаке?



1. Указывает на начало дополнительной полосы на подъёме.
2. Указывает на конец дополнительной полосы или полосы разгона.
3. Указывает направление объезда препятствия на правой полосе дороги, имеющей две полосы для движения.

Прил. 1: 5.21.1

8 Движение разрешено:



1. Сине-жёлтому автомобилю — прямо, красному автомобилю — прямо и направо.
2. Сине-жёлтому автомобилю — налево.
3. Только красному автомобилю.

8.8 «А»

9 При достижении какого минимального возраста разрешается перевозить людей в кузове любого грузового автомобиля?

1	2	3	4	5
8 лет	10 лет	12 лет	14 лет	16 лет

21.11 «В»

10 Для чего предназначена полоса разгона?

1. Только для перехода с обычной дороги на дорогу для автомобилей.
2. Для въезда на другую дорогу, вливаясь в транспортный поток и уступая дорогу транспортным средствам, движущимся по этой дороге.
3. Для разгона перед затяжным подъёмом.


10.8

11 Каким способом разрешается буксировка транспортного средства с неисправным рулевым управлением?

1. На жёсткой сцепке.
2. Способом частичной погрузки.
3. Обоими вышеуказанными способами.
4. На жёсткой или гибкой сцепке.

23.4

12 Соблюдая безопасную дистанцию до движущегося впереди транспортного средства, водитель красного автомобиля увидел, что его обгоняет другое транспортное средство перед которым внезапно появляется встречное. Он должен:



1. Немедленно принять меры к снижению скорости.
2. Только подать предупреждающий звуковой сигнал.
3. Увеличить скорость и подать предупреждающий звуковой сигнал.

4. Обязательно выполнить действия, указанные в ответах 1 и 2.

12.3

13 К узкому участку дороги приближается встречное транспортное средство. Как Вы должны поступить?

1. Просигналить фарами и продолжить движение.
2. Двигаться посередине дороги, чтобы заставить водителя встречного транспортного средства перестроиться на обочину.
3. Уступить дорогу, если на Вашей полосе движения имеется препятствие.


13.4

14 В каких из указанных мест запрещён обгон?

1. На железнодорожных переездах и ближе чем за 100 м от них вне населённых пунктов, а также 50 м в населённых пунктах.
2. На железнодорожных переездах и ближе чем за 100 м перед ними.
3. На железнодорожных переездах и ближе чем за 100 м от них.

14.6 «Б»


15 Водители каких транспортных средств нарушили правила стоянки вне населённых пунктов?



1. Водитель легкового автомобиля.
2. Водитель грузового автомобиля.
3. Оба водителя.

15.3;
прил. 1: 3.35

16 Белый автомобиль проедет перекрёсток после:



1. Синего автомобиля, трамвая.
2. Трамвая, синего автомобиля.
3. Трамвая, не уступая дорогу синему автомобилю.

16.11; 16.14

17 Как влияет торможение «юзом» на тормозной путь при сухом состоянии дороги?

1. Тормозной путь не изменяется.
2. Тормозной путь увеличивается.
3. Тормозной путь уменьшается.


ОБД

18 Приближаясь к трамваю попутного направления, который стоит на остановке посередине дороги, водитель должен:

1. Уступить дорогу пешеходам, идущим со стороны открытых дверей к трамваю или от него, и продолжить движение только тогда, когда пешеходы покинут проезжую часть и у трамвая закроются двери.
2. Уступить дорогу пешеходам, идущим со стороны открытых дверей к трамваю или от него, и продолжить движение только тогда, когда пешеходы покинут проезжую часть.
3. Проехать трамвайную остановку с особой осторожностью.

18.8

19 Разрешается ли на крутых спусках горных дорог двигаться с неработающим двигателем и выключенным сцеплением или передачей?



1. Разрешается, если автомобиль оборудован гидровакуумным усилителем тормозов.
2. Запрещается.
3. Разрешается, если дорога в хорошем состоянии и просматривается на большое расстояние.

28.3 «А»

20 Имеют ли нерельсовые транспортные средства преимущество в движении перед трамваем, если сигнал светофора разрешает им движение одновременно?

1. Имеют, только если на данном транспортном средстве установлен опознавательный знак «Автопоезд».
2. Имеют, только если перевозят опасные или негабаритные грузы.
3. Имеют, только если это длинномерное транспортное средство.
4. Не имеют.
5. Имеют в случаях, указанных в ответах 1, 2 и 3.

16.7

1 Водитель, выезжающий с дороги без покрытия на асфальтированную:

1. Должен уступить дорогу только транспортным средствам, приближающимся справа.
2. Должен дать преимущество всем транспортным средствам, движущимся по асфальтированной дороге.
3. Должен уступить дорогу только при наличии знака «Уступить дорогу».


1.10; 16.11

2 К Вам приближается транспортное средство, на котором включён проблесковый маячок красного цвета. Как Вы должны поступить, если движетесь навстречу такому транспортному средству по дороге, на которой отсутствует разделительная полоса?

1. Принять вправо и двигаться с особой осторожностью до проезда замыкающего колонну транспортного средства с включённым проблесковым маячком синего цвета.
2. Остановиться у правого края проезжей части (на правой обочине) и возобновить движение после проезда замыкающего колонну транспортного средства с включёнными проблесковыми маячками зелёного или синего и зелёного цвета.
3. Увеличить скорость, чтобы быстрее разминуться с этим транспортным средством.

3.2; 3.3


3 Какая информация заложена в данном дорожном знаке?



1. Указывает направление движения на пересекаемой дороге, если на ней организовано одностороннее движение.
2. Указывает выезд на дорогу, на которой имеется специальная полоса для движения маршрутных транспортных средств.
3. Указывает рекомендуемое направление движения.

Прил. 1: 5.7.2

4 Данный дорожный знак с табличками:



1. Определяет зону, где разрешена стоянка транспортных средств не менее 30 мин с неработающим двигателем.
2. Определяет зону, где стоянка транспортного средства с неработающим двигателем запрещена в любом случае.
3. Определяет зону, где разрешена стоянка транспортных средств с неработающим двигателем не более 30 мин.

Прил. 1: 5.39, 7.7, 7.19

5 В каком направлении запрещено транзитное движение через перекрёсток?



1. Только прямо.
2. Прямо и в обратном направлении.
3. Во всех направлениях.
4. Налево и направо.

Прил. 1: 3.1, 7.3.3


6 Что означают данные стрелки на проезжей части?



1. Предупреждают о приближении к сужению проезжей части.
2. Указывают направление опасного поворота.
3. Предупреждают водителя о приближении к опасному участку дороги.

Прил. 2: 1.19

7 Какая информация заложена в данном дорожном знаке?



1. Разрешается движение только на велосипедах.
2. Разрешается движение только пешеходам, если нет тротуара или пешеходной дорожки.
3. Запрещается движение велосипедистов.
4. Информация, заложенная в ответах 1 и 2.

Прил. 1: 4.12

8 Дайте полный ответ. Водитель должен остановить транспортное средство по требованию работника милиции, который останавливает его при помощи:

1. Громкоговорящего устройства.
2. Жезла.
3. Руки.
4. Жезла и громкоговорящего устройства.
5. Жезла, или громкоговорящего устройства, или руки.

8.9 «А, В»

9 Когда и где должны быть включены дневные ходовые огни на всех механических транспортных средствах? Дайте полный ответ.

1. С 1 октября по 1 мая на всех транспортных средствах.
2. С 1 декабря по 1 мая на всех механических транспортных средствах вне населенных пунктов.
3. С 1 октября по 1 мая на всех механических транспортных средствах вне населённых пунктов, а в случае отсутствия дневных ходовых огней в конструкции транспортного средства – ближний свет фар.

9.8

10 В каком ответе наиболее полно перечислены требования Правил дорожного движения для лиц, обучающихся вождению автомобиля? Дайте полный ответ.

1. Обязаны знать и выполнять требования Правил дорожного движения.
2. Должны иметь возраст не менее 16 лет.
3. При управлении автомобилем обязаны всегда иметь при себе документ, удостоверяющий их возраст.
4. Должны выполнить все вышеперечисленные требования.

24.2; 24.3

11 Разрешается ли стоянка с работающим двигателем в жилой зоне?

1. Запрещается.
2. Разрешается на время до пяти минут в осенне-зимний период.
3. Разрешается на время до пяти минут в любое время года.


26.2 «В»

12 Что должен учитывать водитель при выборе в установленных пределах скорости движения?

1. Только дорожную обстановку.
2. Только особенности перевозимого груза и состояние транспортного средства.
3. Все перечисленные факторы.

12.1

13 Автомобили проедут перекрёсток в следующем порядке:



1. Красный, синий, зелёный.
2. Красный и зелёный, синий.
3. Зелёный, синий с красным.

16.11

14 В каком ответе правильно названо одно из условий, в наличии которого должен убедиться водитель, прежде чем начать обгон?

1. В том, что водитель транспортного средства, движущегося впереди по той же самой полосе, не подал сигнал о намерении поворота (перестроения) налево.
2. В исправности своего транспортного средства.
3. В том, что на проезжей части имеется не менее двух полос для движения в одном направлении.

14.2 «Б»

15 На каких из перечисленных участков дорог разрешается ставить транспортные средства под углом к краю проезжей части?

1. Только на тех участках дорог, на которых имеется не менее двух полос для движения в каждом направлении.
2. Только в тех местах, где это не будет препятствовать движению других транспортных средств.
3. На участках дорог, перечисленных в ответах 1 и 2.


15.5

16 Поворачивая на пересекаемую дорогу на разрешающий сигнал светофора, водитель:

1. Имеет преимущество в движении перед транспортными средствами и пешеходами на пересекаемой проезжей части, так как движется на разрешающий сигнал светофора.
2. Обязан уступить дорогу транспортным средствам, завершающим движение через перекрёсток, а также пешеходам, завершающим переход.
3. Должен увеличить скорость движения, чтобы предотвратить столкновение на перекрёстке.

16.5

17 Если Вы приближаетесь к повороту дороги налево, а он оказался более крутым, чем предполагалось, Вы должны:



1. Снизить скорость движения.
2. Продолжать движение, не изменяя скорости и придерживаясь левого края проезжей части дороги.

ОБД

18 Что обязан выполнить водитель в данной ситуации?

1. Остановиться, чтобы уступить дорогу пешеходам, которые идут к трамваю (или от трамвая). Возобновлять движение разрешается только после того, как пешеходы покинут проезжую часть и у трамвая закроются двери.



2. Проехать трамвайную остановку с особой осторожностью.

18.8

19 Что следует предпринять водителю, если в тёмное время суток его ослепляет водитель встречного транспортного средства?

1. Включить дальний свет фар и ослепить встречного водителя.
2. Переключить несколько раз поочерёдно ближний и дальний свет фар, отвести взгляд в сторону.
3. Остановиться, не меняя полосы движения, и включить аварийную световую сигнализацию.

19.3

20 Если перед железнодорожным переездом нет дорожной разметки или дорожных знаков, определяющих количество полос для движения, движение транспортных средств через переезд разрешается:

1. Только в один ряд крупногабаритным транспортным средствам.
2. Только в один ряд.
3. В несколько рядов по усмотрению водителя, в зависимости от ширины переезда и габаритов транспортных средств.

20.4

1 С Госавтоинспекцией согласовываются

1. Маршруты и перечень дорог, на которых может проводиться обучение вождению транспортных средств только в светлое время суток.
2. Маршруты и перечень дорог, на которых может проводиться обучение вождению транспортных средств.
3. Маршруты и перечень дорог с интенсивным движением, на которых может проводиться обучение вождению транспортных средств только в светлое время суток.

32.1 «Б»

2 Чёрный автомобиль проедет перекрёсток:



1. Последним.
2. Первым.
3. Вторым.

3.2; 16.13

3 Данный дорожный знак предупреждает, что:



1. Впереди железнодорожный переезд без шлагбаума.
2. Впереди участок дороги, на котором производятся ремонтные работы.
3. Впереди железнодорожный переезд со шлагбаумом.
4. Впереди участок дороги, на котором ведутся подземные работы.
5. Информация, заложенная в ответах 2 и 4.

Прил. 1: 1.27

4 Данный дорожный знак с табличкой обозначает:



1. Место и способ постановки легковых автомобилей и мотоциклов на стоянку.
2. Место для стоянки грузовых автомобилей с разрешённой максимальной массой более 3,5 т. Табличка указывает, что у края проезжей части высокий бордюрный камень.
3. Место для стоянки транспортных средств; способ постановки автомобиля, указанный на табличке, запрещается.

Прил. 1: 5.38, 7.6.2

5 Укажите время перестановки транспортных средств с одной стороны дороги на другую.



1. С 6.00 до 24.00.
2. С 19.00 до 24.00.
3. С 24.00 до 6.00.

Прил. 1: 3.36, 3.37

6 Сплошная жёлтая линия горизонтальной разметки в сочетании с дорожным знаком «Остановка запрещена» разрешает остановку:

1. Автобусам, троллейбусам и автомобилям такси.
2. Автобусам и троллейбусам.
3. Только маршрутным транспортным средствам и такси, которое осуществляет посадку или высадку пассажиров.
4. Всем транспортным средствам, производящим высадку пассажиров.

Прил. 2: 1.4; прил. 1: 3.34

7 Что, в первую очередь, должен сделать водитель, причастный к дорожно-транспортному происшествию?

1. Остановиться на месте происшествия, записать фамилии и адреса очевидцев, сообщить о случившемся в милицию, принять меры для оказания доврачебной медицинской помощи пострадавшим.
2. Немедленно остановить транспортное средство и оставить его на месте происшествия, включить аварийную световую сигнализацию и установить знак аварийной остановки.
3. Остановиться и принять все возможные меры к сохранению следов происшествия, ограждению их и организации объезда места происшествия, сообщить о случившемся в милицию и принять меры для оказания доврачебной медицинской помощи пострадавшим.

9.10; 2.10 «А», «Б»

8 Разрешается ли работнику милиции при помощи только громкоговорящего устройства останавливать транспортное средство?

1. Запрещается.
2. Разрешается при наличии жезла.
3. Разрешается только в светлое время суток.
4. Разрешается.
5. Разрешается при выполнении требований, указанных в ответах 2, 3 и 4.

8.9

9 Во время остановки на неосвещённой обочине дороги в тёмное время суток на транспортном средстве должны быть включены:

1. Аварийная световая сигнализация.
2. Ближний или дальний свет фар.
3. Габаритные или стояночные фонари.
4. Все внешние световые приборы.

19.4

10 Разрешается ли обучать вождению на мотоциклах и мопедах без соответствующего опознавательного знака?

1. Разрешается.
2. Запрещается.

24.8

11 Каким способом запрещена буксировка в гололедицу?

1. Только способом частичной погрузки.
2. Только на жесткой сцепке.
3. Только на гибкой сцепке.
4. Всеми перечисленными способами.

23.10 «Б»

12 Разрешается ли движение по автомагистралям транспортных средств, скорость которых по технической характеристике или их состоянию менее 40 км/ч?

1. Запрещается.
2. Разрешается, если не установлен знак «Ограничение минимальной скорости».
3. Разрешается не далее второй полосы.

27.3

13 Как должны поступить водители транспортных средств, приближающихся к участку дороги, который обозначен дорожным знаком «Крутой подъем» и на котором имеется препятствие?

1. Уступить дорогу должен водитель транспортного средства, движущегося на спуск.
2. Уступить дорогу должен водитель транспортного средства, движущегося на подъем.
3. Уступить дорогу должен водитель более тихоходного транспортного средства.

13.4

14 Что означает данный опознавательный знак?



1. На механическом транспортном средстве установлены шины с шипами.
2. Впереди участок дороги, имеющий неровности на проезжей части.
3. Впереди участок дороги с тремя полосами для движения в данном направлении.


30.3 «Л»

15 Запрещается открывать двери транспортного средства, оставлять их открытыми и выходить из него:

1. Если это угрожает безопасности и создаёт препятствия другим участникам дорожного движения.
2. На дорогах с интенсивным движением.
3. На дорогах с двусторонним движением, если в каждом направлении имеется по одной полосе для движения, разделённых сплошной линией дорожной разметки.

15.13

16 Светофор работает в режиме мигания сигнала жёлтого цвета. Разрешается ли Вам проезд перекрёстка без остановки перед знаком «Проезд без остановки запрещён»?



1. Разрешается при отсутствии на пересекавшейся дороге транспортных средств.
2. Запрещается.

16.1;
прил. 1: 2.2

17 Что должен предпринять водитель заднеприводного автомобиля для предотвращения опасных последствий заноса при торможении на скользкой дороге?

1. Прекратить начатое торможение.
2. Увеличить усилие нажатия на педаль тормоза.
3. Выключить сцепление.

ОБД

18 При каких из перечисленных условий запрещается эксплуатация транспортных средств? Дайте полный ответ.

1. Загрязнены габаритные огни и сигналы торможения.
2. Отсутствует болт (гайка) крепления или имеются трещины диска и ободьев колёс.
3. При условиях, указанных в ответах 1 и 2.

31.4.5 «Є»

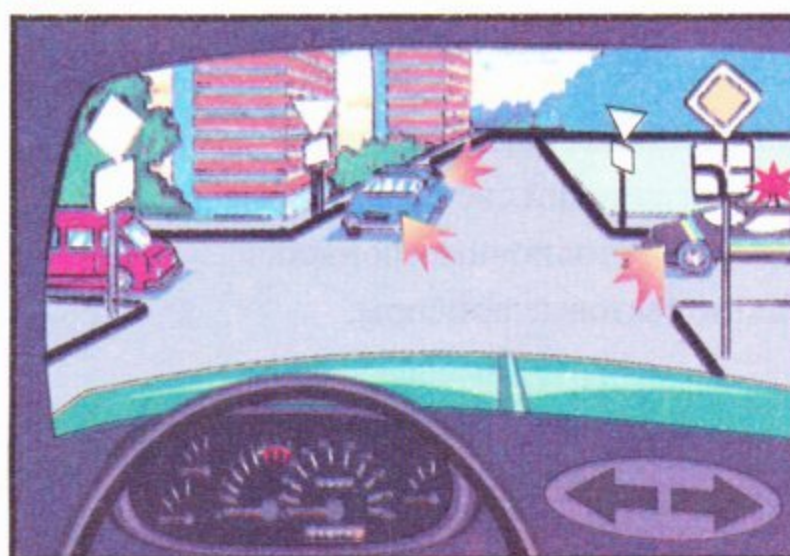
19 Что означает данный дорожный знак?



1. Запрещается обгон всех транспортных средств, кроме одиночных, движущихся со скоростью менее 30 км/ч.
2. Запрещаются опережение и обгон всех транспортных средств.
3. Впереди узкий участок дороги, опережение запрещается.

Прил. 1: 3.25

20 Зелёный автомобиль проедет перекрёсток:



1. Последним.
2. Вторым.
3. Третьим.
4. Первым.

16.11; 16.14;
3.2

1 С Госавтоинспекцией согласовывается движение колонны, если в ней минимальное количество механических транспортных средств более:

1	2	3	4	5
4	5	10	15	20

32.1 «В»

2 В каком из перечисленных случаев водителю запрещается управлять транспортным средством? Дайте полный ответ.

1. У которого номерной знак не соответствует требованиям стандартов.
2. У которого номерной знак закреплён в неустановленном для этого месте.
3. У которого номерной знак не принадлежит данному транспортному средству.
4. В случаях 1, 2, 3.
5. В случаях 1 и 3.

2.9 «В»

3 На какой дороге устанавливается данный дорожный знак?



1. Устанавливается вне населённого пункта на автомагистрали.
2. Устанавливается на дороге вне населённого пункта.
3. Устанавливается на дороге в населённых пунктах и вне их.
4. Устанавливается на любой дороге.

Прил. 1: 5.51

4 Какие из данных дорожных знаков не вводят каких-либо ограничений или требований, а только рекомендуют водителю выполнить определённые действия?



1. Знаки А и Б.
2. Знак В.
3. Знаки В и Г.
4. Знак Г.
5. Знаки В, Г, Д.

Прил. 1: 5.28, 5.30


5 В каком из указанных ответов водитель выполнил обгон в соответствии с требованиями Правил дорожного движения в зоне действия данного дорожного знака?



1. Обогнал легковой автомобиль, двигавшийся со скоростью менее 30 км/ч.
2. Обогнал автопоезд, двигавшийся со скоростью 40 км/ч, после того, как его водитель несколько раз жестом руки показал, что он уступает дорогу для обгона.

Прил. 1: 3.25

6 Разрешается ли пересекать широкую сплошную линию горизонтальной дорожной разметки?



1. Запрещается в любом случае.
2. Разрешается в любом случае, с любой стороны при вынужденной остановке.
3. Разрешается пересекать в случае вынужденной остановки на автомагистрали, если этой линией обозначен край проезжей части, смежный с обочиной.

Прил. 2: 1.2

7 Данный дорожный знак предупреждает, что



1. Впереди участок дороги, который ведёт в тупик.
2. Впереди участок дороги, по краям проезжей части которой ведутся дорожные работы.
3. Впереди участок дороги с крутым подъёмом.
4. Впереди участок дороги, на котором заканчивается двустороннее движение.
5. Впереди участок дороги, на котором она сужается с обеих сторон.

Прил. 1: 1.5.1

8 Если регулировщик указывает рукой на транспортное средство, водитель должен:

1. Увеличить скорость движения.
2. Принять правее и снизить скорость движения.
3. Остановить транспортное средство в месте, на которое укажет регулировщик, с соблюдением правил остановки.

8.9

9 Аварийная световая сигнализация должна быть включена:

1. Только в случае ослепления водителя.
2. Только при вынужденной остановке на дороге.
3. Только при дорожно-транспортном происшествии.
4. Во всех перечисленных случаях.

19.4; 9.9 «А», «Б», «Е»

10 Разрешается ли обучение вождению транспортных средств в жилой зоне?

1. Разрешается.
2. Разрешается только в светлое время суток.
3. Разрешается в любом случае с соблюдением мер безопасности.
4. Запрещается.
5. Разрешается при выполнении условий, перечисленных в ответах 2 и 3.

24.9

11 В каких случаях разрешается пользоваться крайней левой полосой на дорогах с двусторонним движением, имеющих по две полосы в каждом направлении?

1. Для движения, если занята правая полоса, а также для поворота налево или разворота.
2. В любом случае, если так считает нужным водитель.
3. В любом случае, если это не создаёт препятствия для движения другим.
4. В случаях, указанных в ответах 1 и 3.

11.5


12 С какой максимальной скоростью разрешается движение мотоциклов в зоне, обозначенной данным дорожным знаком?



1. 20 км/ч.
2. 15 км/ч.
3. 10 км/ч.
4. 5 км/ч.
5. По усмотрению водителя, обеспечив безопасность движения.

12.5

13 Движение запрещено:



1. Легковому и грузовому автомобилям, мотоциклу.
2. Трамваю и легковому автомобилю.
3. Грузовому автомобилю и мотоциклу.
4. Всем транспортным средствам.

8.8 «А»

14 Осуществить обгон нерельсовых транспортных средств разрешается:

1. Слева или справа.
2. Справа только в том случае, если левая полоса, предназначенная для встречного движения, занята.
3. Только слева, по полосе встречного движения.
4. В случаях, указанных в ответах 1 и 2.


14;1.10

15 В каких местах Правила дорожного движения запрещают остановку транспортных средств? Дайте полный ответ.

1. Вне населённых пунктов ближе 100 м от железнодорожных переездов.
2. На площадях, где организовано круговое движение.
3. На железнодорожных переездах, в тоннелях и под эстакадами, мостами и путепроводами.
4. Во всех перечисленных местах.

15.9 «А», «В»

16 Автомобили проедут перекрёсток в следующем порядке:



1. Зелёный, синий, красный.
2. Синий, красный, зелёный.
3. Синий одновременно с зелёным, красный.

16.12

17 При движении в условиях тумана расстояние до предметов представляется:

1. Менее отдалённым, чем в действительности.
2. Более отдалённым, чем в действительности.
3. Соответствующим действительному.

ОБД

18 Вы приближаетесь к нерегулируемому пешеходному переходу, перед которым на смежной с Вами полосе остановилось транспортное средство. Вы должны:

1. Проехать пешеходный переход безостановочно, но с особой осторожностью.
2. Проехать пешеходный переход безостановочно.
3. Обязательно остановиться. При появлении пешеходов пропустить их.
4. Уменьшить скорость движения, а при необходимости остановиться; продолжить движение, лишь убедившись, что перед остановившимся транспортным средством нет пешеходов.


18.4

19 В каких из перечисленных случаев разрешается использовать задние противотуманные фонари?

1. Только при движении задним ходом.
2. Только в условиях недостаточной видимости.
3. Только при движении по горным дорогам.
4. В случаях, указанных в ответах 1, 2, 3.

19.9

20 Водитель какого транспортного средства имеет преимущество в движении?



1. Водитель велосипеда.
2. Водитель автомобиля.

16.13

1 Каким транспортным средствам разрешено движение по полосе, обозначенной дорожной разметкой «А»?



1. Любым автобусам и троллейбусам.
2. Только автобусам и микроавтобусам.
3. Автобусам, микроавтобусам, троллейбусам и такси, движущимся по установленным маршрутам и имеющим определённые места на дороге для посадки (высадки) пассажиров.

1.10;
 прил. 2: 1.24

2 Должны ли включить специальный звуковой сигнал при движении водителя оперативных транспортных средств, выполняя неотложное служебное задание?

1. Специальный звуковой сигнал может быть включён или выключен по усмотрению водителя, если безопасная обзорность не ограничена.
2. Должны. При отсутствии необходимости дополнительного привлечения внимания участников дорожного движения специальный звуковой сигнал может быть выключен.
3. Не должны — при условии, что включены проблесковые маячки синего и красного цвета и обеспечена безопасность дорожного движения.

3.1

3 Данный дорожный знак предупреждает, что:



1. Впереди аэропорт — запретная зона для въезда всех транспортных средств.
2. Впереди участок дороги, над которым самолёты пролетают на небольшой высоте, издавая повышенный шум, и потому этот участок следует объехать.
3. Участок дороги, проходящий вблизи аэродрома либо над которым самолёты или вертолёты пролетают на небольшой высоте.

Прил. 1: 1.18

4 На каком расстоянии до начала опасного участка устанавливают данные дорожные знаки в населённых пунктах?



1. 25— 50 м.
2. 50—100 м.
3. 100—150 м.
4. 150—300 м.
5. 400—500 м.

Прил. 1

5 Что означает данный дорожный знак с табличкой?



1. Запрещается стоянка грузовых автомобилей с разрешённой максимальной массой до 3,5 т.
2. Запрещается стоянка грузовых автомобилей с разрешённой максимальной массой более 3,5 т.
3. Запрещается стоянка транспортных средств, кроме грузовых автомобилей с разрешённой максимальной массой более 3,5 т.

Прил. 1: 3.35,
 7.5.1

6 Дорожная разметка в виде белых диагональных полос обозначает:



1. Границы участков проезжей части, на которые въезд запрещён.
2. Границы участков проезжей части, на которых разрешается кратковременная остановка.
3. Границы участков проезжей части, на которых разрешаются остановка и стоянка транспортных средств.

Прил. 2: 1.1


7 Что означает данный дорожный знак?



1. На ближайшем пересечении проезжих частей разрешается движение только налево или на разворот.
2. Запрещается разворот в обратном направлении, поворот налево разрешён.
3. Движение разрешается во всех направлениях, кроме поворота налево.
4. Движение разрешается налево только маршрутным транспортным средствам.
5. Движение разрешается при условиях, изложенных в ответах 2 и 4.

Прил. 1: 4.3

8 Каким транспортным средствам запрещено движение?



1. Мотоциклу, легковому автомобилю и грузовому автомобилю.
2. Легковому автомобилю и мотоциклу.
3. Грузовому автомобилю.


8.8 «Б»

9 Если Вы выехали для обгона впереди движущегося автомобиля, то в какой из перечисленных ситуаций наиболее целесообразно подать звуковой сигнал для предотвращения дорожно-транспортного происшествия?

1. Водитель обгоняемого автомобиля включил указатель поворота направо.
2. Водитель обгоняемого автомобиля включил указатель поворота налево.
3. Обгон совершается в ночное время.
4. Водитель обгоняемого автомобиля начал притормаживать.

9.5

10 По какому пути из обозначенных стрелками водителю автопоезда разрешается выполнить поворот направо?



1. Только по пути Б при условии, что водитель автопоезда не создаст опасности или препятствия другим участникам движения, а при необходимости обратится за помощью к другим лицам.
2. Только по пути А.
3. По любому из указанных путей.

10.5
 10.6




11 Нерельсовые транспортные средства на дорогах, имеющих две и более полос для движения в одном направлении, должны двигаться:

1. Как можно ближе к правому краю проезжей части, кроме случаев, когда выполняется опережение, объезд или перестроение перед поворотом налево или разворотом.
2. По любой полосе своего направления движения, если дорога свободна от других транспортных средств.
3. В населённых пунктах по любой полосе своего направления движения, если дорога свободна от других транспортных средств.

11.2

12 С какой максимальной скоростью разрешается движение при буксировке грузовым автомобилем механического транспортного средства?



1. 80 км/ч.
2. 70 км/ч.
3. 60 км/ч.
4. 50 км/ч.
5. 30 км/ч.


12.7

13 Какую дистанцию должны соблюдать водители транспортных средств, скорость движения которых не превышает 40 км/ч, на дорогах вне населённых пунктов?

1. Дистанция должна быть такой, чтобы хорошо просматривалось впереди движущееся транспортное средство.
2. Дистанция должна быть такой, чтобы транспортные средства, осуществляющие обгон, имели возможность беспрепятственно вернуться на ранее занимаемую полосу движения.
3. Дистанция должна быть не менее 40 м при скорости движения до 40 км/ч.

13.2


14 Что должен сделать водитель тягача?



1. Сделать жест рукой, чтобы его обгоняли по встречной полосе.
2. Остановиться на обочине и пропустить транспортные средства, движущиеся за ним.
3. Продолжать движение с той же скоростью.

14.4

15 Разрешается ли остановка легкового автомобиля на трамвайном пути попутного направления,



1. Разрешается на время до 5 минут.
2. Запрещается.
3. Разрешается для посадки или высадки пассажиров.

15.8

16 Какую полосу для движения прямо должен был заранее занять водитель красного автомобиля?



1. Левую или правую.
2. Только левую.
3. Только правую.


16.10

17 В каких из перечисленных случаев водитель может недооценить собственную скорость движения и превысить её? Дайте полный ответ.

1. На дорогах вне населенных пунктов, если водитель длительное время движется с высокой, но разрешенной скоростью.
2. Если вдоль дороги, по которой он движется, отсутствуют деревья, дома, заборы.
3. На улицах с многополосным движением.
4. В случаях, указанных в ответах 1 и 2.
5. Во всех перечисленных случаях.

ОБД

18 Красный автомобиль проедет перекрёсток:



1. Первым.
2. Вторым.


16.6; 8.3

19 В тёмное время суток и в условиях недостаточной видимости на движущемся механическом транспортном средстве должны быть включены:

1. Только фары ближнего света. Разрешается дополнительно использовать противотуманные фары и задние противотуманные фонари.
2. Только фары дальнего света. Разрешается дополнительно использовать противотуманные фары и задние противотуманные фонари.
3. В зависимости от освещённости дороги — дальний или ближний свет фар с дополнительным использованием противотуманных фар и задних противотуманных фар.

19.1 «А»; 19.5; 19.9


20 Первым проедет перекрёсток:



1. Синий автомобиль.
2. Зелёный автомобиль.
3. Красный и синий автомобили.

16.12; 16.13

1 Каким транспортным средствам разрешено движение при данном сигнале светофора?



1. Мотоциклу, легковому и грузовому автомобилям.
2. Легковому и грузовому автомобилям.
3. Трамваю и мотоциклу.
4. Всем транспортным средствам.

8.7.3 «Б»

2 Если автомобиль остановился у правого края дороги, то с какой стороны должен выйти из автомобиля пассажир?

1. Со стороны, которую укажет водитель.
2. Только с правой стороны.
3. С любой стороны, не создавая препятствий другим участникам дорожного движения.

5.1

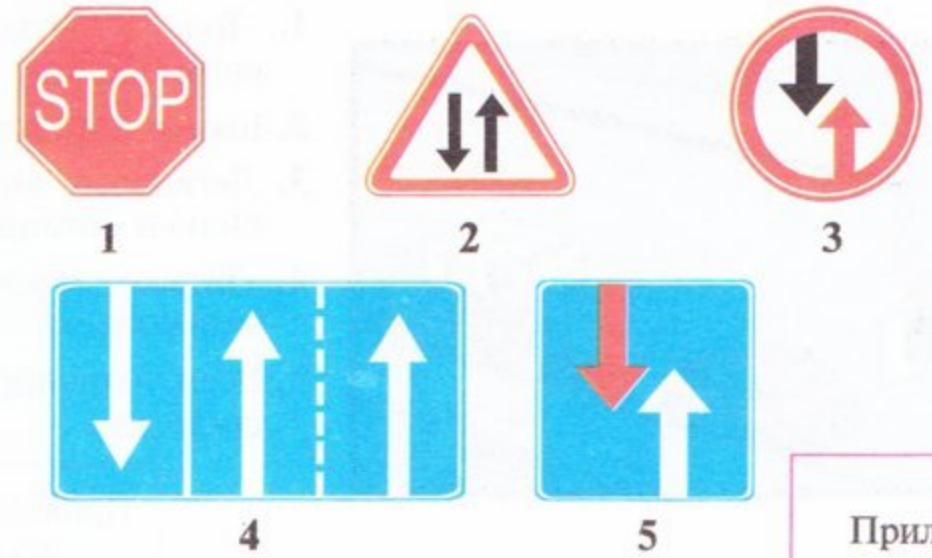
3 Водитель приближается к участку дороги, перед которым установлен запороженный снегом данный дорожный знак. Какой это знак?



1. «Проезд без остановки запрещён».
2. «Уступить дорогу».
3. «Движение запрещено».
4. «Главная дорога».
5. «Обгон запрещён».

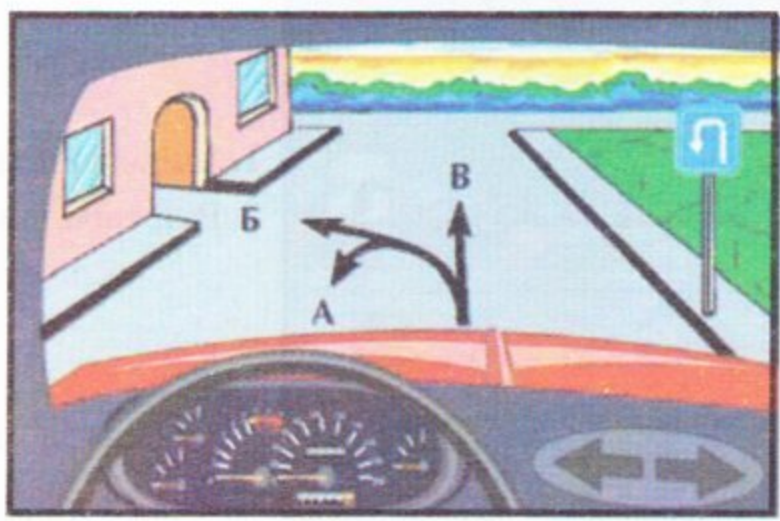
Прил. 1: 2.2

4 Какой дорожный знак требует уступить дорогу встречным транспортным средствам?



Прил. 1: 2.5

5 Данный дорожный знак запрещает Вам движение в направлении:



1. А и В.
2. Б и В.
3. В.
4. Б.

Прил. 1: 5.26

6 Разрешается ли пересекать прерывистую двойную линию дорожной разметки при выключении реверсивных светофоров?



1. Разрешается, если она расположена справа от водителя.
2. Разрешается, если она расположена слева от водителя.
3. Разрешается с любой стороны.
4. Запрещается.

Прил. 2: 1.9


7 Данный дорожный знак означает что:



1. Впереди участок дороги, на котором движение транспортных средств по всей ширине осуществляется в одном направлении.
2. Движение транспортных средств (кроме маршрутных) разрешено только прямо, а также направо во дворы и на другие прилегающие территории, расположенные справа от дороги.
3. Разрешённое направление движения по полосе — прямо.

Прил. 1: 4.1

8 На каком рисунке показано правильное направление движения?



1. На обоих.
2. На первом.
3. На втором.

8.2

9 Аварийная световая сигнализация должна быть включена:

1. Только при дорожно-транспортном происшествии.
2. Только при вынужденной остановке на дороге.
3. Только в случае ослепления водителя.
4. Во всех перечисленных случаях.

9.9 «А», «Б», «Е»; 19.4

10 Начальное обучение вождению транспортного средства должно проводиться:

1. Только на дорогах вне населённых пунктов.
2. Только на закрытых площадках, автодромах или в местах, где отсутствуют другие участники дорожного движения.
3. При условиях, перечисленных в ответах 1 и 2.


24.4

11 В каких из перечисленных случаев запрещена буксировка?

1. Мотоциклами без бокового прицепа, а также мотоциклами без бокового прицепа.
2. Автобусами.
3. В случаях, указанных в ответах 1 и 2.

23.10 «Г»


12 С какой максимальной скоростью разрешается движение на данном участке дороги при наличии на автомобиле опознавательного знака?



1. 100 км/ч.
2. 90 км/ч.
3. 70 км/ч.

12.9 «Б»

13 Каким транспортным средствам разрешена стоянка?



1. Только легковому автомобилю.
2. Только мотоциклу.
3. Легковому автомобилю и мотоциклу.
4. Только грузовому автомобилю.
5. Всем транспортным средствам.


Прил. 1: 3.35, 7.5.1

14 В каких из перечисленных случаев разрешается выполнить обгон перед пешеходным переходом в населённых пунктах?

1. Если на пешеходном переходе и рядом с ним отсутствуют пешеходы.
2. Если до пешеходного перехода осталось не менее 50 м.
3. В случаях, указанных в ответах 1 и 2.

14.6 «В»


15 Водитель какого автомобиля нарушил правила остановки у тротуара с пешеходным движением?



1. Водитель Б.
2. Водитель А.
3. Оба водителя нарушили.
4. Оба водителя не нарушили.

15.5

16 Разрешается ли движение трамваям 1 и 2 одновременно?



1. Запрещается.
2. Разрешается.

16.11; 16.14

17 Смещение центра тяжести вверх при загрузке грузового автомобиля:

1. Снижает устойчивость против опрокидывания.
2. Не изменяет её.
3. Повышает устойчивость.

ОБД

18 Должен ли водитель пропускать слепых пешеходов, подающих сигнал тростью белого цвета, направленной вперёд?

1. Должен на регулируемом пешеходном переходе.
2. Должен на нерегулируемом пешеходном переходе.
3. Должен во всех случаях, в том числе и вне пешеходных переходов.
4. Должен на любом пешеходном переходе.

18.5

19 При каких из перечисленных условий запрещается эксплуатация транспортных средств? Дайте полный ответ.

1. В рулевом управлении применены рабочие жидкости, не предусмотренные для данной модели транспортного средства.
2. В рулевом управлении установлены детали со следами остаточной деформации и другими дефектами.
3. При условиях, указанных в ответах 1 и 2.

31.4.2 «Г»

20 Разрешается ли движение через железнодорожный переезд, если включён запрещающий сигнал светофора?

1. Запрещается.
2. Разрешается, если приближающийся поезд находится на достаточно далёком расстоянии и на переезде отсутствует шлагбаум.

20.5 «В»

1 Что должен учитывать водитель при определении наибольшей ширины полосы движения для автопоезда?

1. Габариты транспортного средства по ширине, безопасные интервалы между транспортными средствами, а также влияние прицепа и смещение его к центру поворота.
2. Только габариты автопоезда по ширине.

1.10; 11.1

2 Разрешается ли установка на транспортных средствах специальных звуковых сигнальных устройств?

1. Запрещается.
2. Разрешается при наличии согласования, выданного регистрационным подразделением ГАИ МВД.
3. Разрешается при наличии разрешения, выданного ГАИ МВД.

2.1 «В»

3 Что означает вставка на синем фоне с наименованием населённого пункта на ней?

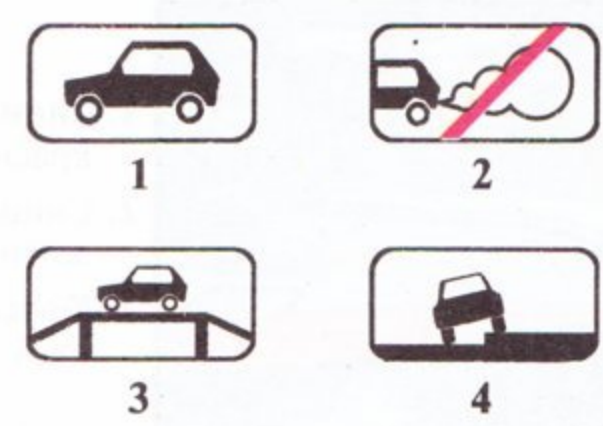


1. Указанный объект находится в данном населённом пункте.
2. К указанному населённому пункту будет осуществляться движение по дороге, на которой не действуют требования Правил, устанавливающие порядок движения в населённых пунктах.

3. К указанному населённому пункту будет осуществляться движение по автомагистрали.

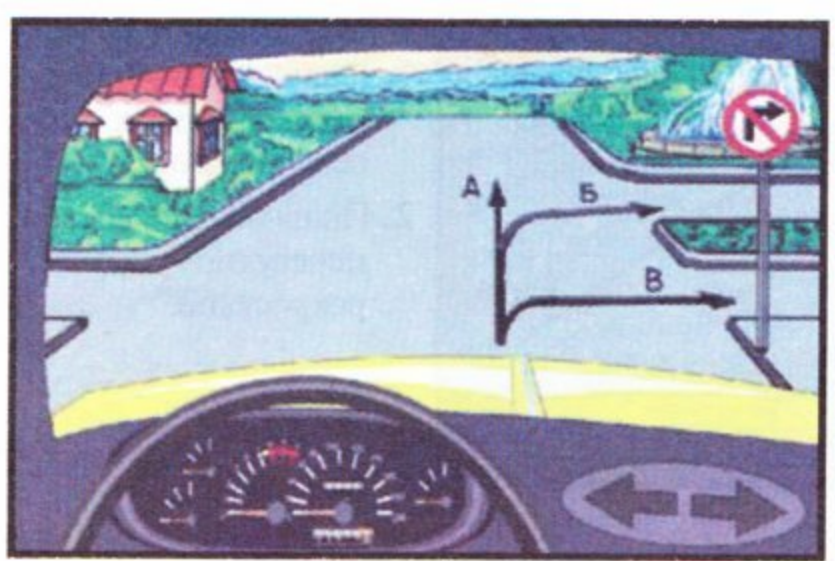
Прил. 1: 5.51

4 Какая табличка указывает способ постановки транспортного средства на стоянку?



Прил. 1: 7.6.2

5 В каком ответе правильно указаны все разрешённые направления движения?



1. А и В.
2. А и Б.
3. А.
4. Б.
5. В.

Прил. 1: 3.22

6 Сплошная жёлтая линия горизонтальной дорожной разметки в сочетании со знаком «Остановка запрещена» разрешает остановку:



1. Только автобусам и троллейбусам.
2. Только автобусам, троллейбусам и автомобилям такси.
3. Только маршрутным транспортным средствам.
4. Всем транспортным средствам, из которых высаживаются пассажиры.

Прил. 2: 1.4


7 В каком месте должен остановиться водитель при въезде на перекрёсток, если перед ним установлен данный дорожный знак, а разметка «стоп-линия» отсутствует?



1. Перед пешеходным переходом.
2. В том месте, откуда, по мнению водителя, хорошо просматривается движение по пересекаемой дороге.
3. Перед знаком.

Прил. 1: 2.2

8 В каком ответе водитель мотоцикла повернул налево в соответствии с Правилами дорожного движения?



1. Выехал на перекрёсток, пропустил грузовой автомобиль, закончил поворот.
2. Остановился перед пересекаемой проезжей частью и при разрешающем жесте регулировщика повернул налево.
3. Выехал на перекрёсток и, дождавшись разрешающего жеста регулировщика, закончил поворот.

8.8 «А»

9 Поворачивая налево на нерегулируемом равнозначном перекрестке, водитель нерегулируемого транспортного средства:

1. Должен уступить дорогу водителю автомобиля, приближающегося справа.
2. Должен уступить дорогу водителю автобуса, приближающегося слева.
3. Должен уступить дорогу водителю встречного мотоцикла и водителю автобуса, приближающегося слева.


16.12; 16.13

10 Что обязан сделать водитель перед перестроением и другим изменением направления движения?

1. Подать звуковой сигнал.
2. Убедиться, что данный манёвр будет безопасным и не создаст препятствий или опасности другим участникам движения.
3. Переключить свет фар.
4. Выполнить все указанные действия.

10.1

11 Поворачивая налево или разворачиваясь на нерегулируемом перекрёстке, водитель нерегулируемого транспортного средства должен уступить дорогу:



1. Только трамваю попутного направления.
2. Только транспортным средствам, движущимся по равнозначной дороге во встречном направлении прямо или направо.
3. Транспортным средствам, указанным в ответах 1 и 2.

16.13

12 Если на транспортном средстве установлен опознавательный знак «Ограничение максимальной скорости», то водителю этого транспортного средства:

1. Запрещается превышать указанную на знаке скорость.
2. Разрешается превышать указанную на знаке скорость только при обгоне.
3. Разрешается превышать указанную на знаке скорость только на участках дорог, где скорость движения повышена установкой соответствующего дорожного знака.

12.9 «Б»

13 Транспортные средства проедут перекрёсток в следующем порядке:



1. Синий, зелёный, красный.
2. Синий, красный, зелёный.
3. Красный, зелёный, синий.

16.12

14 Владельцы механических транспортных средств и прицепов к ним должны зарегистрировать (перерегистрировать) их в ГАИ независимо от технического состояния с момента приобретения (получения), таможенного оформления, а также переоборудования или ремонта, если необходимо внести изменения в регистрационные документы, в течение:

1	2	3	4	5
5 суток	10 суток	15 суток	20 суток	30 суток


30.1

15 Каким образом разрешается ставить транспортные средства под углом к краю проезжей части?

1. У тротуаров или иных мест с пешеходным движением разрешается ставить только передней частью, а на подъёмах — только задней частью.
2. У тротуаров или иных мест с пешеходным движением разрешается ставить передней либо задней частью, а на подъёмах — только задней частью.
3. При постановке транспортного средства под углом к краю проезжей части не имеет значения, каким образом оно будет поставлено по отношению к тротуару.

15.5

16 Какими правилами проезда перекрёстков должен руководствоваться водитель в данном случае?



1. Правилами проезда регулируемых перекрёстков.
2. Правилами проезда нерегулируемых перекрёстков.

16.1; 16.6

17 Что может вызвать интенсивное перемещение вперёд пассажиров или неукреплённого груза?

1. Резкий разгон автомобиля.
2. Резкое торможение автомобиля.
3. Резкие разгон или торможение автомобиля.

ОБД

18 Разрешается ли эксплуатация автомобиля, у которого неисправна система выпуска отработанных газов?

1. Не разрешается.
2. Разрешается только мотоциклов без бокового прицепа.
3. Запрещается только при выделении из глушителя большого количества дыма.

31.4.6 «В»

19 На участке дороги, который обозначен знаком «Крутой спуск», где встречный разъезд затруднён, необходимо уступить дорогу транспортному средству, движущемуся вверх:

1. Если его разрешённая максимальная масса более 3,5 т.
2. Во всех перечисленных случаях.
3. Если это дорожная машина с включённым оранжевым проблесковым маячком.
4. Если это автобус.

28.1

20 В каких из перечисленных случаев необходимо обязательно остановить транспортное средство перед железнодорожным переездом?

1. Перед железнодорожным переездом тогда, когда шлагбаум отсутствует, но включён запрещающий сигнал светофора.
2. Перед железнодорожным переездом без шлагбаума только при наличии перед ним дорожного знака «Многопутная железная дорога».
3. В случаях, указанных в ответе 1 или 2.

20.5 «В»

1 По определению Правил дорожного движения, к маршрутным транспортным средствам относятся:

1. Только трамваи и троллейбусы.
2. Автобусы, микроавтобусы, троллейбусы, трамваи и такси, движущиеся по установленным маршрутам и имеющие определённые места на дороге для посадки (высадки) пассажиров.
3. Только автобусы и маршрутные такси.

1.10

2 Должен ли водитель механического транспортного средства иметь при себе регистрационный документ на транспортное средство в случае отсутствия в транспортном средстве его владельца?

1. Должен.
2. Должен иметь временный регистрационный талон вместе со свидетельством о праве совместной собственности.
3. Должен иметь временный регистрационный талон вместе с доверенностью.

2.1 «Б»

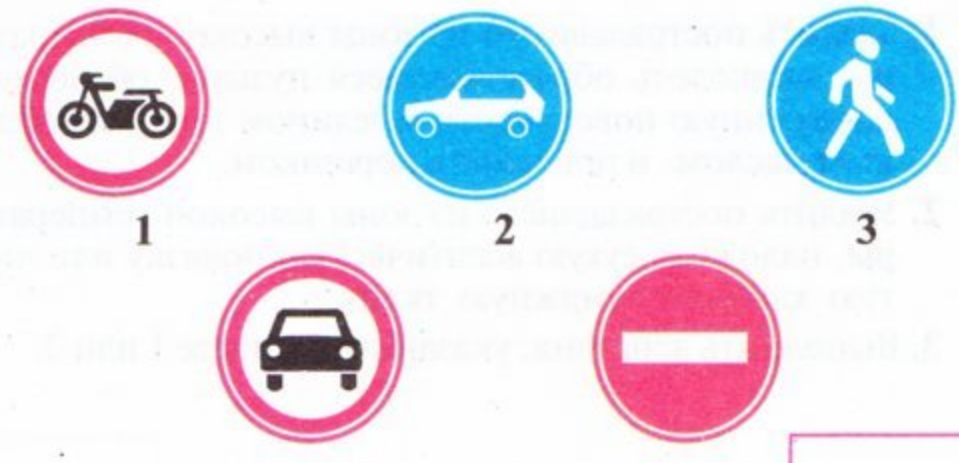
3 В каком случае водитель правильно выполнил требование данного дорожного знака?



1. Уступил дорогу транспортным средствам, движущимся по пересекаемой дороге.
2. Уступил дорогу механическим транспортным средствам, движущимся по пересекаемой дороге.

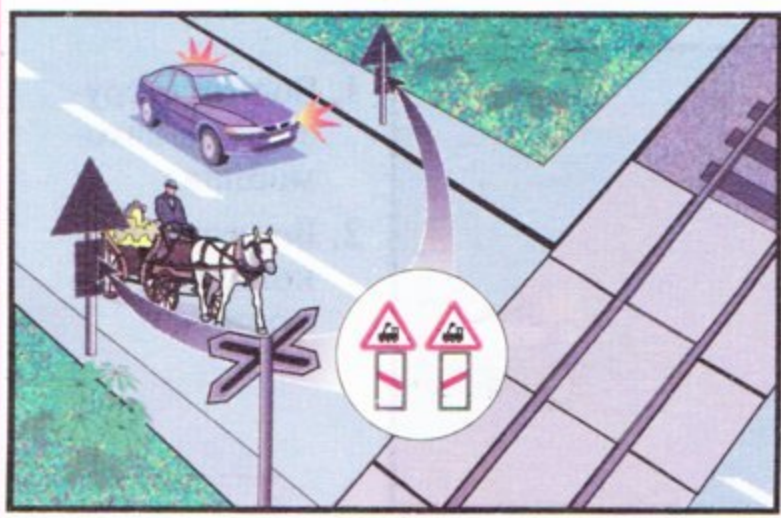
Прил. 1: 2.1

4 Какой из данных дорожных знаков разрешает транзитное движение мотоциклов?



Прил. 1: 4.11

5 Разрешён ли обгон в ситуации, показанной на рисунке?



1. Разрешён — только одиночных транспортных средств, движущихся со скоростью менее 30 км/ч.
2. Запрещён.
3. Разрешён в любом случае.

Прил. 1: 1.28, 1.31.3

6 Что обозначает сплошная жёлтая линия горизонтальной дорожной разметки?



1. Место, где запрещена только стоянка транспортных средств.
2. Место, где разрешена остановка транспортных средств для посадки (высадки) пассажиров или погрузки (разгрузки) груза.
3. Место, где запрещены остановка и стоянка транспортных средств, или границы полосы для движения маршрутных транспортных средств.

Прил. 2: 1.4

7 В каких из перечисленных случаев следует уступить дорогу транспортному средству, приближающемуся слева? Дайте полный ответ.

1. В том случае, если установлен дорожный знак, обязывающий уступить дорогу.
2. В том случае, если необходимо повернуть налево.
3. В случаях, перечисленных в ответах 1 и 2.

Прил. 1: 2.1, 2.2, 2.5

8 Имеют ли преимущество дополнительные требования регулировщика перед сигналами светофоров?

1. Не имеют преимущества.
2. Имеют преимущество только в светлое время суток.
3. Водители и пешеходы должны выполнять дополнительные требования регулировщика, даже если они противоречат сигналам светофоров.


8.3

9 В каком ответе указан правильный вариант включения световых приборов на буксируемом механическом транспортном средстве?

1. Аварийная световая сигнализация.
2. Габаритные фонари в населённых пунктах.
3. Ближний свет фар в темное время суток или в условиях тумана.
4. Любое освещение на дорогах вне населённых пунктов.

9.9 «Г»

10 Водитель какого транспортного средства не нарушил правила остановки?



1. Только водитель автомобиля.
2. Только водитель мотоцикла.
3. Оба нарушили.
4. Никто не нарушил.

15.9 «Е»; 17.2

11 В каких из перечисленных случаев разрешается выезд на полосу встречного движения на дороге с двусторонним движением, имеющей по одной полосе для движения в каждом направлении?

1. Разрешается только для объезда препятствия.
2. Разрешается для объезда препятствия и для обгона.
3. Разрешается для движения, если по правой полосе осуществляется интенсивное движение.
4. Разрешается в случаях, указанных в ответах 2 и 3.

11.3

12 С какой максимальной скоростью разрешается движение транспортных средств, управляемых водителями со стажем до двух лет, на участках дорог, обозначенных данным дорожным знаком?



- | | | | | |
|---------|---------|---------|---------|---------|
| 1 | 2 | 3 | 4 | 5 |
| 90 км/ч | 70 км/ч | 60 км/ч | 50 км/ч | 40 км/ч |


12.6 «Б»

13 Как оказать первую медицинскую помощь при термическом ожоге в пути?

1. Удалить пострадавшего из зоны высокой температуры, проколоть образовавшиеся пузыри, обработать поражённую поверхность вазелином или растительным маслом и присыпать порошком.
2. Удалить пострадавшего из зоны высокой температуры, наложить сухую асептическую повязку или чистую хлопчатобумажную ткань.
3. Выполнить действия, указанные в ответе 1 или 2.

ОПМП
стр. 53


14 На каком рисунке водитель правильно выполняет обгон?



1. На рисунках А и Б, если обгон совершается вне населённого пункта.
2. На рисунке А, если обгон совершается вне населённого пункта.
3. Только на рисунке Б, если обгон совершается вне населённого пункта.
4. Только на рисунке Б.

14.2 «Г»


15 От железнодорожных переездов стоянка транспортных средств запрещается на расстоянии ближе чем на:



1. 80 м.
2. 50 м.
3. 100 м.
4. 150 м.

15.10 «Г»

16 Водитель какого транспортного средства должен уступить дорогу?



1. Водитель грузового автомобиля.
2. Водитель легкового автомобиля.

16.12

17 Какие колёса заднеприводного легкового автомобиля наиболее склонны к торможению «юзом»?

1. Задние колёса.
2. Передние колёса.

ОБД

18 Разрешается ли обгон транспортных средств на перекрёстке на дороге, являющейся главной по отношению к пересекаемой?

1. Разрешается.
2. Запрещается.

14.6 «А»

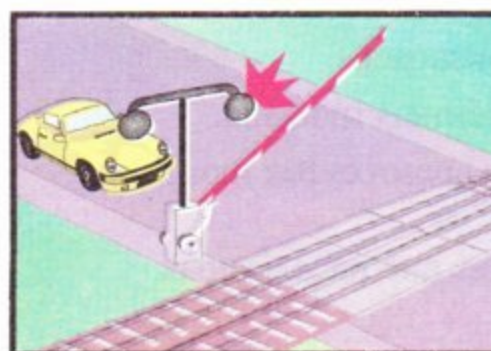
19 Какое освещение должно быть включено на автомобиле при встречном разъезде на неосвещённых участках дороги?



1. Дальний свет фар.
2. Ближний свет фар.
3. Габаритные фонари.

19.2


20 Как должен поступить водитель транспортного средства, если на железнодорожном переезде включены запрещающий сигнал светофора и звуковой сигнал, а шлагбаум ещё не опущен?



1. Остановиться перед дорожной разметкой «стоп-линия», дорожным знаком «Проезд без остановки запрещён», шлагбаумом или светофором.
2. Лично убедиться в отсутствии приближающегося поезда и проехать через переезд.
3. Проехать через переезд, руководствуясь положением шлагбаума.

20.3;
20.5 «Б», «В»

1 Каким транспортным средствам разрешено движение при данном сигнале светофора?



1. Всем транспортным средствам.
2. Трамваю, жёлтому и красному автомобилям.
3. Жёлтому и красному автомобилям.

8.7.3 «Б»

2 Должны ли пешеходы, которые не успели закончить переход проезжей части на нерегулируемом пешеходном переходе, останавливаться на линии, разделяющей транспортные потоки?

1. Должны остановиться, продолжить движение следует лишь после того, как освободится проезжая часть.
2. Не должны останавливаться, так как на нерегулируемом пешеходном переходе пешеходы всегда имеют преимущество.

4.16 «А»;
18.1


3 Дайте полный ответ. Данный дорожный знак предупреждает, что впереди обочина:



1. Только разрушенная.
2. Только заниженная.
3. Только повышенная.
4. Только на которой выполняются ремонтные работы.
5. Все указанные опасности характерны для данного знака.

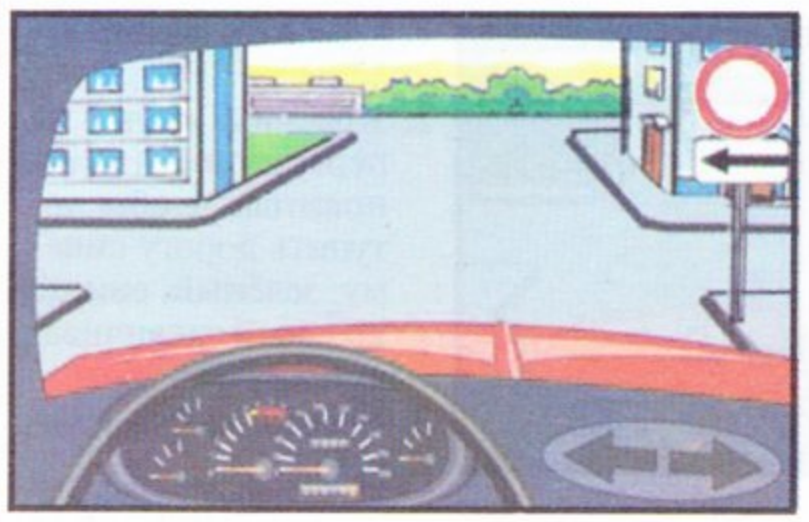
Прил. 1: 1.15

4 Какой дорожный знак называется «Объезд препятствия с левой стороны»?



Прил. 1: 4.8


5 Данный дорожный знак совместно с табличкой разрешают транзитное движение через перекрёсток:



1. Прямо, направо и в обратном направлении.
2. Только направо.
3. Только прямо.
4. Только налево.

Прил. 1: 3.1,
7.3.2

6 Разрешается ли Вам обогнать велосипедиста?



1. Запрещается.
2. Разрешается.

Прил. 2: 1.11


7 Разрешается ли проезд без остановки через карантинный пост, перед которым установлен данный дорожный знак?



1. Разрешается во время дождя и тумана.
2. Запрещается.
3. Разрешается, если открыт шлагбаум.
4. Разрешается, если возле шлагбаума отсутствует дежурный.

Прил. 1: 3.41

8 Движение разрешено:



1. Белому, синему и жёлтому автомобилям.
2. Красному и белому автомобилям.
3. Жёлтому и красному автомобилям.

8.8 «А»

9 подача звукового сигнала в населённых пунктах разрешается:

1. При совершении обгона.
2. Для предупреждения дорожно-транспортного происшествия.
3. При движении в условиях недостаточной видимости.
4. При приближении к нерегулируемому пешеходному переходу, на котором находятся пешеходы.

9.5

10 В каких местах запрещено движение задним ходом?

1. На мостах, путепроводах, эстакадах.
2. На горных дорогах.
3. Во всех перечисленных местах.

10.10

11 Разрешается ли буксировка мопедов?

1. Разрешается только в светлое время суток.
2. Разрешается только по дорогам, не имеющим покрытия.
3. Разрешается в любом случае с соблюдением мер безопасности.
4. Запрещается.

23.10 «Г»

12 Дайте полный ответ.
Данный дорожный знак разрешает остановить транспортное средство:



1. Для посадки (высадки) пассажиров.
2. Для погрузки (разгрузки) груза.
3. На время до 5 мин.
4. Для выполнения действий, указанных в ответах 1 и 2.
5. Для выполнения всех вышеуказанных действий.

Прил. 1: 3.35

13 Височную артерию прижимают при кровотечениях из раны:

1. Головы.
2. Шей.
3. Плеча.


ОПМП
стр. 49

14 Какие из указанных действий должен выполнить водитель перед началом обгона?

1. Убедиться в том, что полоса встречного движения, на которую он будет выезжать, свободна от транспортных средств на достаточном для обгона расстоянии.
2. Несколько раз переключить дальний свет фар на ближний, тем самым предупредить водителя обгоняемого транспортного средства.
3. Выполнить действия, указанные в ответах 1 и 2.

14.2 «В»

15 Остановка запрещена, если расстояние между сплошной белой линией разметки и остановившимся транспортным средством составляет:



1. 2,5 м.
2. 3,5 м.
3. 4 м.
4. 5,5 м.
5. 6 м.

15.9 «Д»

16 Автомобили проедут перекрёсток в следующем порядке:



1. Красный, синий, зелёный.
2. Красный въедет на перекрёсток и остановится, чтобы уступить дорогу синему; зелёный, синий; красный заканчивает поворот.
3. Зелёный, синий, красный.

16.12; 16.13

17 С какой стороны разрешается водителю сесть в автомобиль?

1. С той стороны автомобиля, которая ближе к тротуару.
2. С левой стороны.
3. С правой стороны.
4. Со стороны расположения руля, не создавая препятствий другим участникам дорожного движения.

ОБД

18 Противотуманные фары в условиях недостаточной видимости используются:

1. Только совместно с габаритными фонарями и освещением номерного знака.
2. Только совместно (отдельно) с ближним или дальним светом фар.
3. Во всех перечисленных случаях.

31.4.3,
прим 3;
19.5

19 При какой неисправности запрещается дальнейшее движение транспортных средств?

1. Не работают в установленном режиме стеклоочистители со стороны пассажира.
2. Не работают предусмотренные конструкцией транспортных средств стеклоомыватели.
3. При неисправностях, указанных в ответах 1 и 2.
4. Не действует стеклоочиститель со стороны расположения руля во время дождя или снегопада.


31.6

20 Где разрешается пересекать железнодорожные пути водителям транспортных средств?

1. Не ближе 1000 м от железнодорожной станции.
2. В местах, где видимость в обоих направлениях не менее 1000 м.
3. В местах, наиболее удобных с точки зрения водителя.
4. Только на железнодорожных переездах.

20.1

1 В каком положении должен остановиться водитель легкового автомобиля, чтобы выполнить требование дорожного знака «Уступить дорогу»?



1. В положении А.
2. В положении Б.
3. В любом из показанных.

1.10;
 прил. 1: 2.1

2 Для обеспечения безопасности дорожного движения какие из перечисленных действий обязан выполнить водитель?

1. Перед выездом проверить и обеспечить технически исправное состояние и комплектность транспортного средства, правильность размещения и крепления груза.
2. Перед выездом проверить и обеспечить только правильность расположения и крепления груза.

2.3 «А»

3 Данный дорожный знак предупреждает, что:



1. Впереди остановка только маршрутных транспортных средств.
2. Впереди место пересечения дороги с трамвайным путём только на перекрёстке с ограниченной обзорностью.
3. Впереди место пересечения дороги с трамвайным путём только вне перекрёстка.
4. Информация, заложенная в ответах 1 и 3.
5. Информация, заложенная в ответах 2 и 3.

Прил. 1: 1.20

4 Что означает данный дорожный знак с табличкой?



1. Движение только мотоциклов с боковым прицепом направо запрещено.
2. Движение мотоциклов направо разрешено.
3. Движение мотоциклов направо запрещено.

Прил. 1: 3.6,
 7.3.1


5 Данный дорожный знак с табличкой предупреждают водителя о том, что:



1. Через 100 м начинается участок дороги, на котором возможно появление диких животных.
2. Впереди начинается участок дороги протяжённостью в 100 м, на котором возможно появление диких животных.

Прил. 1: 1.36,
 7.2.1

6 Белая прерывистая линия разделяет транспортные потоки противоположных направлений. На данном участке дороги обгон:



1. Разрешён.
2. Запрещён.
3. Разрешён только вне населённого пункта в светлое время суток.

Прил. 2: 1.5;
 14.6 «Е»

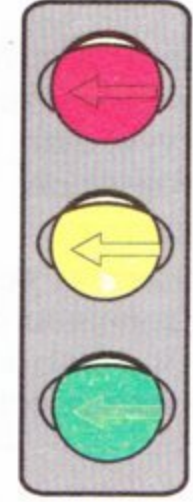
7 Перед какими участками дорог устанавливается данный дорожный знак?



1. Перед наплывами или волнистостью на проезжей части.
2. Перед искусственно создаваемыми буграми в местах, где необходимо принудительно ограничить скорость движения транспортных средств.
3. Перед выбоинами или проседаниями дорожного покрытия на проезжей части.
4. Перед участками дорог, указанными в ответах 1, 2, 3.

Прил. 1: 1.11

8 О чём информируют чёрные контурные стрелки на красном и жёлтом сигналах светофора?



1. О разрешённых направлениях движения при красном и жёлтом сигналах светофора.
2. О разрешённых направлениях движения при включении зелёного сигнала светофора.

8.7.3 «Ж»

9 Какие из перечисленных действий водителю запрещены в соответствии с требованиями Правил дорожного движения?

1. Включать аварийную световую сигнализацию в случае остановки по требованию работника милиции или вследствие ослепления светом фар.
2. Включать ближний свет фар при движении в колонне.
3. Резко тормозить, кроме случаев, когда без этого невозможно предотвратить дорожно-транспортное происшествие.
4. Все перечисленные действия водителю запрещены.

9.8 «А»; 9.9 «Б»;
 12.9 «Г»

10 В каких из перечисленных случаев разрешается разворот? Дайте полный ответ.

1. В местах, где установлен дорожный знак, не запрещающий разворот.
2. В местах, где дорожная разметка не запрещает разворот.
3. На участке дороги от железнодорожного переезда до знака «Однопутная железная дорога».
4. В местах, указанных в ответах 1, 2, 3.
5. В местах, указанных в ответах 1 и 2.

10.7 «А»


11 Разрешается ли пешеходам двигаться в жилой зоне по проезжей части?



1. Разрешается только по тротуарам.
2. Разрешается как по тротуарам, так и по проезжей части.

26.1


12 С какой максимальной скоростью допускается движение легковых автомобилей с прицепом на автомагистралях?



1. 70 км/ч.
2. 80 км/ч.
3. 90 км/ч.
4. 100 км/ч.
5. 110 км/ч.

12.6 «А»

13 Водители каких транспортных средств нарушают Правила дорожного движения?




1. Водители учебного автомобиля, трактора и легкового автомобиля.
2. Только водители учебного автомобиля и трактора.
3. Только водитель легкового автомобиля.

4. Водители всех транспортных средств.

27.2 «А», «Г», «Д»; 24.9

14 Обгон нерельсовых транспортных средств запрещается:



1. На перекрестках.
2. Ближе чем за 100 м перед перекрестками.
3. В местах, указанных в ответах 1 и 2.

14.6 «А»


15 В данном месте под эстакадой водителю запрещается:



1. Разворот, остановка, стоянка.
2. Движение со скоростью более 60 км/ч.
3. Действия, указанные в ответах 1 и 2.

15.9 «В»; 10.7 «Б»


16 Водитель какого транспортного средства имеет преимущество на пересечении с круговым движением?



1. Транспортного средства, приближающегося справа.
2. Транспортного средства, движущегося по кругу.
3. Транспортного средства, подъехавшего первым.

16.12

17 Разрешается ли на крутых спусках горных дорог двигаться с неработающим двигателем и выключенным сцеплением или передачей?



1. Разрешается, если автомобиль оборудован гидровакуумным усилителем тормозов.
2. Запрещается.
3. Разрешается, если дорога в хорошем состоянии и просматривается на большое расстояние.

28.3 «А»

18 При каких из перечисленных условий запрещается эксплуатация транспортных средств? Дайте полный ответ.

1. Не работают стеклоочистители или предусмотренные конструкцией стеклоомыватели.
2. Остаточная высота рисунка протектора шин легковых автомобилей 2 мм.
3. При условиях, указанных в ответах 1 и 2.

31.4.4 «А», «Б»

19 Какие внешние световые приборы должны быть включены на движущемся транспортном средстве независимо от степени освещения дороги в тёмное время суток?



1. Ближний свет фар или габаритные фонари.
2. Противотуманные фары и габаритные фонари.
3. Только дальний свет фар.
4. Ближний или дальний свет фар на всех механических транспортных средствах и габаритные фонари на прицепах.

19.1

20 Дайте полный ответ. Подъезжая к железнодорожному переезду, а также начиная движение после остановки перед ним, водитель обязан руководствоваться:

1. Указаниями и сигналами дежурного по переезду.
2. Положением шлагбаума, световой и звуковой сигнализацией.
3. Дорожными знаками и разметкой.
4. Водитель должен руководствоваться требованиями, изложенными в ответах 1, 2, 3.

20.2

1 Водитель мотороллера пересекает перекрёсток, выезжая с грунтовой дороги на асфальтированную. Он должен:

1. Уступить дорогу транспортным средствам, приближающимся только справа.
2. Уступить дорогу всем транспортным средствам, движущимся по асфальтированной дороге.
3. Уступить дорогу всем транспортным средствам, движущимся по асфальтированной дороге лишь в том случае, если перед перекрёстком установлен дорожный знак «Уступить дорогу».

1.10; 16.11


2 Как должен поступить водитель легкового автомобиля в ситуации, показанной на рисунке, услышав специальный звуковой сигнал и увидев транспортное средство с синим и красным проблесковыми маячками?



1. Снизить скорость.
2. Продолжить движение по своей полосе проезжей части.
3. Уступить дорогу и обеспечить его проезд.
4. Остановиться у правого края проезжей части (на правой обочине).

3.2




3 Данный дорожный знак предупреждает, что:



1. Впереди участок дороги, на обочине которого запрещены остановка и стоянка в связи с проведением ремонтных работ.
2. Впереди участок дороги, на обочине которого запрещена только стоянка в связи с проведением ремонтных работ.
3. Впереди участок дороги, на котором выполняются дорожные работы.
4. Информация, заложенная в ответах 2 и 3.

Прил. 1: 1.37

4 Есть ли среди данных дорожных знаков такие, требования которых начинаются сразу за тем местом на дороге, где они установлены? Дайте полный ответ.

1. Этот знак 
2. Этот знак 
3. Этот знак 
4. Знаки, указанные в ответах 1, 2 и 3.
5. Знаки, указанные в ответах 1 и 2.

Прил. 1: 3.20, 3.31, 3.33, 7.2.1

5 Железнодорожный переезд вне населённого пункта. Какое расстояние до него?



1. 300 м.
2. 200 м.
3. 150 м.
4. 100 м.
5. не менее 50 м.

Прил. 1: 1.31.3


6 Должен ли водитель остановиться перед стоп-линией в данном случае?



1. Должен обязательно остановиться в том случае, если на пересекаемой проезжей части появится транспортное средство, которому водитель должен уступить дорогу.
2. Должен проехать перекрёсток без остановки.
3. Должен обязательно остановиться.

Прил. 2: 1.12; прил. 1: 2.2; 16.1

7 Данный дорожный знак показывает, что:



1. Впереди участок дороги, предназначенный для движения только легковых автомобилей.
2. Впереди участок дороги, по которому движение на мотоциклах запрещено.
3. Впереди участок дороги, по которому запрещено движение всех грузовых автомобилей.
4. Информация и требования, изложенные в ответах 1, 2, 3.
5. Впереди участок дороги, по которому разрешается движение только легковых автомобилей, автобусов, мотоциклов, маршрутных транспортных средств и грузовых автомобилей, разрешенная максимальная масса которых не превышает 3,5 т.

Прил. 1: 4.11

8 Какие перечисленные требования Правил дорожного движения должны выполняться при движении транспортных средств в колоннах?

1. Водители транспортных средств должны пройти специальную подготовку и получить соответствующее разрешение в ГАИ.
2. На них устанавливается опознавательный знак «Колонна» и включается ближний свет фар.
3. Транспортные средства обязательно оборудуются средствами связи.
4. Требования, указанные в ответах 1, 2 и 3.

25.1

9 Какие предупреждающие сигналы предусмотрены в случае вынужденной остановки на данном участке дороги вне населённого пункта при обзорности дороги менее 100 м.? Дайте полный ответ.



1. Только включить аварийную световую сигнализацию.
2. Только установить знак аварийной остановки на расстоянии, обеспечивающем безопасность движения, но не ближе 40 м до транспортного средства.
3. Выполнить оба действия.

9.10 «Б»

10 Водитель какого транспортного средства должен уступить дорогу при перестроении?



1. Водитель грузового автомобиля.
2. Водитель легкового автомобиля.

10.3

11 Разрешается ли буксировка в гололедицу?

1. Запрещается.
2. Разрешается буксировка только на жесткой сцепке и способом частичной погрузки.
3. Разрешается буксировка только одной транспортной единицы с применением средств противоскольжения.

23.10 «Б»

12 С какой максимальной скоростью разрешается движение грузовых автомобилей с разрешённой максимальной массой не более 3,5 т на участках дорог, обозначенных данным дорожным знаком?



1. 130 км/ч.
2. 100 км/ч.
3. 90 км/ч.
4. 80 км/ч.
5. 70 км/ч.

12.6 «Г»

13 На каком рисунке наиболее правильно показан метод остановки кровотечения из раны?



Рис. 1



Рис. 2

1. На рисунке 1.
2. На рисунке 2.
3. На рисунках 1 и 2.



ОПМП
стр. 49

14 Какие меры должен предпринять водитель, если он перевозит грузы, которые поднимают пыль?

1. Во время движения включить аварийную световую сигнализацию.
2. Во время движения включить ближний свет фар.
3. Укрепить сзади на транспортном средстве знак аварийной остановки или мигающий красный фонарь.
4. Принять меры к тому, чтобы во время движения груз не поднимал пыли, не загрязнял проезжую часть и окружающую среду.

22.3 «Г»

15 На каком рисунке водитель неправильно остановил свой автомобиль для высадки пассажиров?



1. На левом рисунке.
2. На правом рисунке.
3. На обоих рисунках.

15.9 «Г», «Г»

16 Последним проедет перекрёсток:



1. Синий автомобиль.
2. Красный автомобиль.
3. Зелёный автомобиль.

16.12; 16.13

17 Разрешается ли движение транспортных средств по полосе, предназначенной для маршрутных транспортных средств?

1. Запрещается всем, кроме маршрутных транспортных средств.
2. Разрешается всем транспортным средствам, если данная полоса свободна.
3. Разрешается для перестроения или для выполнения обгона.
4. Разрешается в случаях, указанных в ответах 2 и 3.

17.1

18 При каких из перечисленных условий запрещается эксплуатация автомобилей и автопоездов?

1. Стояночная тормозная система обеспечивает неподвижное состояние транспортных средств с полной нагрузкой на уклоне 17%.
2. Нарушена герметичность гидравлического тормозного привода.
3. В обоих случаях.

31.4.1 «В», «Д»

19 Как следует поступить, если в тёмное время суток водитель встречного автомобиля не переключает дальний свет фар на ближний и тем самым ослепляет Вас?

1. Притормозить, переключить свои фары на ближний свет.
2. Остановиться, не меняя полосы движения, и включить аварийную световую сигнализацию.
3. Включить свой дальний свет, чтобы напомнить водителю встречного автомобиля о необходимости переключения им дальнего света фар на ближний.

19.3

20 Если к железнодорожному переезду в пределах видимости приближается поезд, то водитель нереельсового транспортного средства обязан:

1. Увеличить скорость движения, так как, по мнению водителя, поезд находится достаточно далеко.
2. В зависимости от дорожной обстановки водитель самостоятельно принимает решение — или с особой осторожностью двигаться через переезд, или остановиться.
3. Остановиться. Движение через переезд запрещается.

20.5 «Г»

1 Дайте полный ответ. По определению Правил дорожного движения «Водитель» - это:

1. Лицо, управляющее транспортным средством и имеющее соответствующее удостоверение водителя.
2. Лицо, управляющее транспортным средством на закрытой территории без удостоверения водителя.
3. Лицо, обучающее вождению, и находящееся непосредственно в транспортном средстве.
4. Лица, указанные в ответах 1,2,3.
5. Лица, указанные в ответах 1 и 3.


1.10

2 В каком из ответов по Правилам дорожного движения указаны наиболее характерные признаки термина «дорожные работы»?

1. «Дорожные работы» — работы, связанные только с ремонтом или содержанием автомобильной дороги или улицы.
2. «Дорожные работы» — работы, связанные только со строительством или реконструкцией автомобильной дороги или улицы.
3. «Дорожные работы» — работы, указанные в ответах 1 и (или) 2.

1.10


3 Данный дорожный знак предупреждает, что впереди:



1. Оборудованный шлагбаумом переезд через железную дорогу с одним путём.
2. Не оборудованный шлагбаумом переезд через железную дорогу с двумя путями.
3. Не оборудованный шлагбаумом переезд через железную дорогу с одним путём.

Прил. 1: 1.29

4 Данный дорожный знак показывает направление движения транспортных средств с опознавательным знаком «Знак опасности»:



1. Разрешённое
2. Не разрешённое.
3. Не разрешённое в праздничные дни, и в светлое время суток.

Прил.1: 4.18.3.

5 Светофор работает в режиме мигания сигнала жёлтого цвета. Разрешается ли Вам проезд перекрёстка без остановки перед знаком «Проезд без остановки запрещён»?



1. Запрещается.
2. Разрешается при отсутствии на пересекаемой дороге транспортных средств.

Прил. 1: 2.2; 16.1


6 Разрешается ли пересекать узкую сплошную линию дорожной разметки?



1. Запрещается в любом случае.
2. Разрешается в любом случае.
3. Разрешается, если она белого цвета и обозначает место стоянки транспортных средств, площадок для парковки или край проезжей части, смежный с обочиной, или при обгоне одиночных транспортных средств, движущихся со скоростью менее 30 км/ч.
4. Разрешается, если она жёлтого цвета и обозначает границы полосы для движения маршрутных транспортных средств.

Прил. 2: 1.1

7 Данный дорожный знак:



1. Запрещает движение со скоростью, превышающей указанную на знаке.
2. Указывает скорость, с которой рекомендуется движение на данном участке дороги.
3. Разрешает движение только с указанной или большей скоростью.

Прил. 1: 4.16

8 Дайте полный ответ: в каких направлениях разрешается движение при данном сигнале светофора?



1. Движение во всех направлениях запрещено.
2. → При повороте направо предоставить преимущество в движении другим его участникам.

8.7.3 «Е»

9 На буксируемом механическом транспортном средстве:

1. Включаются габаритные или стояночные фонари.
2. Включаются габаритные фонари или аварийная световая сигнализация.
3. Включается ближний свет фар или противотуманные фары.
4. Включается аварийная световая сигнализация.


9.9 «Г»

10 Каким транспортным средствам запрещается движение по дорогам для автомобилей? Дайте полный ответ.

1. Велосипедам.
2. Транспортным средствам, на которых обучают вождению.
3. Тракторам, самоходным машинам и механизмам.
4. Транспортным средствам, указанным в ответах 1, 2, 3.

27.2 «А»; 24.9; 6.6 «Б»


11 Разрешён ли водителю легкового автомобиля выезд на крайнюю левую полосу на дороге с односторонним движением? Мотоциклист движется по второй полосе.



1. Запрещён.
2. Разрешён.
3. Разрешён только в том случае, если скорость мотоцикла менее 30 км/ч.

11.5

12 Кто из водителей нарушает требования Правил дорожного движения, если все транспортные средства движутся со скоростью 80 км/ч?



1. Никто не нарушает.
2. Водитель мотоцикла.
3. Водители мотоцикла и грузового автомобиля.
4. Водители мотоцикла и легкового автомобиля.
5. Все водители нарушают.

12.8

13 Данная дорога:



1. С односторонним движением, имеющая 2 полосы для движения.
2. С двусторонним движением, имеющая по одной полосе для движения в каждом направлении.
3. Только для автомобилей.


Прил. 1:5.5

14 Вы решили выполнить обгон. Посмотрев в зеркало заднего вида, Вы поняли, что следующий за Вами водитель начал Вас обгонять. Ваши дальнейшие действия?

1. Дать возможность себя обогнать, включить указатель поворота налево и затем приступить к маневру.
2. Включить указатель поворота налево и, пользуясь благоприятным расположением на проезжей части, приступить к маневру.

14.2


15 Единственная полоса для нерельсовых транспортных средств занята стоящим транспортным средством. Разрешается ли водителю автомобиля остановиться рядом на трамвайном пути попутного направления для высадки пассажиров?



1. Разрешается.
2. Запрещается.
3. Разрешается на хорошо освещённых дорогах.

15.9 «Б»

16 Должен ли водитель красного автомобиля уступить дорогу трамваю 2?



1. Должен во всех случаях.
2. Должен, т.к. трамвай 2 выезжает на главную дорогу.
3. Не должен.

16.11; 16.14

17 Резкое торможение транспортного средства при интенсивном движении:

1. Сказывается только на техническом состоянии автомобиля.
2. Является обычным приемом управления при интенсивном движении.
3. Может способствовать наезду сзади.

ОБД

18 Разрешается ли эксплуатация транспортного средства, которое переоборудовано на другой вид топлива?

1. Разрешается, если уровень дымности в отработанных газах не превышает установленной нормы.
2. Запрещается, если такое переоборудование не согласовано с ГАИ.
3. Разрешается, за исключением транспортных средств, принадлежащих индивидуальным владельцам.

31.3 «А»;
32.1 «Е»

19 Какие внешние световые приборы должны быть включены на движущемся механическом транспортном средстве в условиях тумана или сильного дождя?



1. Только фары дальнего света.
2. Фары ближнего или дальнего света. Разрешается включить противотуманные фары.
3. Только фары ближнего света вместе с противотуманными фарами.

19.1

20 Какая информация заложена в данном дорожном знаке?



1. Впереди участок дороги с разветвлением прямо и налево.
2. Впереди расположена полоса, специально подготовленная для аварийной остановки транспортных средств в случае отказа тормозной системы.
3. Впереди дорога, не имеющая сквозного проезда.
4. Впереди окончание автомагистрали.
5. Информация, заложенная в ответах 1 и 3.

Прил. 1: 5.25

1 По определению Правил дорожного движения, термин «тёмное время суток» — это:

- 1. Часть суток от полной темноты до восхода солнца.
- 2. Часть суток от захода до восхода солнца.
- 3. Часть суток с 20.00 до 5.00 летом и с 18.00 до 7.00 зимой.

1.10

2 В каком ответе наиболее полно указаны места, где пешеходы должны ожидать транспортное средство при отсутствии посадочной площадки?

- 1. На тротуаре.
- 2. На проезжей части или тротуаре.
- 3. На тротуаре или обочине.
- 4. На обочине или проезжей части.

4.11


3 Данный дорожный знак означает, что:



- 1. Впереди участок дороги, на который въезд запрещен только транспортным средствам индивидуального пользования.
- 2. Впереди участок дороги, по которому нет сквозного проезда.
- 3. Впереди участок дороги, на который въезд маршрутных транспортных средств запрещен.
- 4. Запрещается въезд всех транспортных средств, кроме тех, которые движутся по установленным маршрутам.
- 5. Информация и требования, изложенные в ответах 1 и 3.

Прил. 1: 3.21

4 Какой дорожный знак предупреждает о приближении к железнодорожному переезду со шлагбаумом?



Прил. 1: 1.27

5 Какая информация заложена в данном дорожном знаке?



- 1. Впереди участок дороги, на котором стоянка разрешена только на обочине.
- 2. Впереди участок дороги, на котором опережение с левой стороны запрещено, а с правой стороны разрешается.
- 3. Впереди узкий участок дороги, на котором водитель должен уступить дорогу встречным транспортным средствам.
- 4. Впереди узкий участок дороги, во время движения по которому водитель имеет преимущество относительно встречных транспортных средств.
- 5. Информация, заложенная в ответах 1 и 2.

Прил. 1: 2.6

6 Дайте полный ответ. Сплошную линию дорожной разметки, разделяющую транспортные потоки противоположных направлений:



- 1. Разрешается пересекать только для объезда неподвижного препятствия.
- 2. Разрешается пересекать только для обгона одиночных транспортных средств, движущихся со скоростью менее 30 км/ч.
- 3. Пересекать запрещается. Разрешается, как исключение, пересекать её в случаях, указанных в ответах 1 и 2.

Прил. 2: 1.1


7 Данный дорожный знак предупреждает, что впереди:



- 1. Участок дороги с водной преградой, на котором имеется разводной мост.
- 2. Место, где дорога выходит на набережную или берег какого-либо водоёма.
- 3. Участок дороги с водной преградой, не имеющий моста или паромной переправы.

Прил. 1: 1.8

8 Движение запрещено:



- 1. Трамваю.
- 2. Автомобилю.
- 3. Нерельсовым транспортным средствам.
- 4. Трамваю и автомобилю.

8.8 «А»

9 Как должен поступить водитель при неисправности габаритных или стояночных фонарей на транспортном средстве на неосвещённых участках дороги в тёмное время суток и в условиях недостаточной видимости?

- 1. Убрать транспортное средство за пределы дороги.
- 2. Поставить транспортное средство как можно правее на обочине дороги.

19.4

10 Дайте полный ответ. Лица, обучающиеся вождению, обязаны иметь при себе:

- 1. Соответствующую медицинскую справку.
- 2. Документ, удостоверяющий их возраст.
- 3. Разрешение, выданное родителями лицам до 18 лет.
- 4. Справку и документ, указанные в ответах 1 и 2.
- 5. Справку, документ и разрешение, указанные в ответах 1, 2 и 3.

24.1; 24.2

11 Должны ли водители при выезде из жилой и пешеходной зоны уступать дорогу другим участникам дорожного движения?

1. Не должны, так как выезд из жилой зоны дает преимущество в движении.
2. Должны, если перед пересечением проезжих частей установлены соответствующие дорожные знаки.
3. Должны во всех случаях.

26.4

12 Различаются ли между собой требования данных дорожных знаков?

А Б

1. Оба знака называются «Начало населённого пункта» и поэтому ничем не различаются.
2. Различаются тем, что при знаке А действуют требования Правил, определяющие порядок движения в населённых пунктах, а на дороге, на которой установлен знак Б, не действуют требования Правил, определяющие порядок движения в населённых пунктах.
3. Различаются тем, что знак А устанавливается перед областными и районными центрами, а знак Б — перед населёнными пунктами, не относящимися к областным и районным центрам.

Прил. 1: 5.45, 5.47

13 К участку дороги, обозначенному дорожным знаком «Крутой спуск» и имеющему препятствие, приближаются навстречу друг другу два транспортных средства. Кто должен уступить дорогу?

1. Водитель легкового автомобиля — водителю транспортного средства, перевозящего тяжеловесные грузы.
2. Водитель микроавтобуса — водителю транспортного средства, перевозящего опасные грузы.
3. Водитель транспортного средства, движущегося на спуск.
4. Водители транспортных средств, указанных в ответах 1, 2, 3.

13.4

14 Перед началом обгона водитель должен убедиться в том, что:

1. Водитель транспортного средства, движущегося впереди по той же полосе, не подал сигнала о намерении поворота (перестроения) налево.
2. Он движется гораздо быстрее водителя обгоняемого транспортного средства.
3. Участок дороги, на который он намерен выехать, свободен на расстоянии 1000 м.


14.2 «Б»

15 Какие меры безопасности должен предпринять водитель, прежде чем он откроет дверь и выйдет из транспортного средства?

1. Убедиться в том, что нет угрозы безопасности и своими действиями он не создаёт препятствия другим участникам дорожного движения.
2. Включить аварийную световую сигнализацию.
3. Подать звуковой сигнал.

15.13


16 При каком сигнале светофора водителю автомобиля можно закончить разворот?



1. При любом.
2. При красном.
3. При зелёном.

16.8

17 Из какой полосы водителю мотоцикла следует поворачивать направо на данном перекрёстке?



1. Только из крайней правой полосы, обозначенной дорожной разметкой «А».
2. Только из второй полосы.

17.2

18 Как должен поступить водитель транспортного средства, если включился разрешающий сигнал светофора, а на проезжей части в направлении его движения находятся пешеходы, не успевшие ее перейти?

1. Проехать пешеходный переход, соблюдая меры предосторожности.
2. Уступить дорогу пешеходам, которые заканчивают переход проезжей части соответствующего направления движения и для которых может быть создано препятствие или опасность.
3. Подать звуковой сигнал и проехать пешеходный переход не снижая скорости.
4. Снизить скорость, подать звуковой сигнал и проехать пешеходный переход с минимальной скоростью.


18.2

19 Противотуманные фары в условиях недостаточной видимости используются:

1. Только совместно (отдельно) с ближним или дальним светом фар.
2. Только совместно с габаритными фонарями и освещением номерного знака.
3. Во всех перечисленных случаях.

19.5;
31.4.3,
прим. 3

20 Водитель какого транспортного средства должен уступить дорогу?



1. Водитель автомобиля — водителю велосипеда.
2. Водитель велосипеда.

16.13

1 Какая из перечисленных дорог считается автомагистралью?

- 1. Дорога, обозначенная дорожными знаками
- 2. Дорога, обозначенная дорожными знаками
- 3. Дорога, обозначенная дорожными знаками



1.10

2 В каком из перечисленных случаев водитель обязан пристёгиваться ремнями безопасности?

- 1. Только на дорогах вне населённых пунктов с 20.00 до 06.00.
- 2. Только на автомагистралях в любое время суток.
- 3. На любой дороге в любое время суток.

2.3 «В»

3 Какая информация заложена в данном дорожном знаке?



- 1. Впереди участок дороги, на котором возможно появление диких животных.
- 2. Впереди участок дороги, на котором возможен прогон скота.
- 3. Информация, заложена в ответах 1 и 2.

Прил. 1: 1.35


4 Водитель приближается к участку дороги, перед которым стоит данный дорожный знак. Какой дорожный знак установлен с противоположной стороны данного участка?



- 5. Установка знака не обязательна, если на данном участке дороги не движутся маршрутные транспортные средства.

Прил. 1: 2.5; ГОСТ 4100-2002


5 На каком рисунке показаны разрешённые направления движения?



- 1. На рисунках Б и В.
- 2. На рисунке А.
- 3. На рисунке Б.
- 4. На рисунке В.

Прил. 1: 3.24

6 На дороге с белой прерывистой линией дорожной разметки, разделяющей транспортные потоки противоположных направлений:



- 1. Обгон транспортных средств запрещён.
- 2. Обгон транспортных средств разрешён.
- 3. Обгон запрещён только грузовым автомобилям, перевозящим крупногабаритные, тяжеловесные и опасные грузы.

Прил. 2: 1.5

7 Данный дорожный знак:



- 1. Информировать о приближении к трёхстороннему перекрёстку, на котором в одном из направлений организовано одностороннее движение.
- 2. Разрешает движение транспортных средств на ближайшем пересечении проезжих частей только направо или налево, или в обратном направлении.
- 3. Означает, что объезд препятствия разрешается с правой или с левой стороны.

Прил. 1: 4.6

8 Что означает зелёный мигающий сигнал светофора?

- 1. Мигание зелёного сигнала предупреждает о неисправности светофора, и поэтому следует руководствоваться требованиями знаков приоритета.
- 2. Разрешается движение, но вскоре будет включён сигнал, запрещающий движение.
- 3. Зелёный мигающий сигнал предупреждает о том, что скоро будет включён зелёный постоянный сигнал светофора.

8.7.3 «В»

9 Даёт ли водителю преимущественное право проезда подача предупреждающего сигнала?

- 1. Даёт во всех случаях.
- 2. Не даёт и не освобождает его от принятия мер предосторожности.
- 3. Даёт при начале манёвра.
- 4. Даёт при завершении манёвра.


9.4

10 Что должен выполнить водитель при движении транспортного средства задним ходом?

- 1. Включить габаритные фонари.
- 2. Включить габаритные фонари и подать звуковой сигнал.
- 3. Включить задние противотуманные фонари, если они имеются на транспортном средстве.
- 4. Не создавать опасности или препятствий другим участникам движения. Для обеспечения безопасности движения он, при необходимости, должен обратиться за помощью к другим лицам.

10.9

11 В каком ответе указаны все водители, нарушившие правила остановки на дороге с односторонним движением вне населённого пункта?



1. Водители всех транспортных средств.
2. Только водители красного автомобиля и мотоцикла.
3. Только водитель синего автомобиля, остановившийся под разгрузку.
4. Только водитель мотоцикла.

11.6; 15.3;
прил. 1:
3.34, 7.2.4

12 Двигаясь по дороге с максимально разрешенной скоростью, водитель увидел впереди препятствие. Дорожные знаки или разметка, регламентирующие порядок движения, отсутствуют. По требованию Правил дорожного движения он должен:



1. Обязательно перед препятствием остановиться.
2. Немедленно принять меры к снижению скорости, вплоть до остановки транспортного средства.

3. Не снижая скорости, объехать препятствие, соблюдая особую осторожность.
4. Выполнить действия, указанные в ответе 1 или 2.

12.3

13 Какая информация заложена в данном дорожном знаке?



1. Запрещается въезд на полосу встречного движения.
2. Запрещается въезд на узкий участок дороги, если это может затруднить встречное движение. Водитель обязан уступить дорогу встречным транспортным средствам, находящимся на узком участке.
3. Предоставляется преимущество в движении на узком участке дороги по отношению к встречным транспортным средствам.

Прил. 1: 2.5

14 Всегда ли водитель, выполнивший обгон, должен вернуться на ранее занимаемую полосу для движения?

1. Всегда должен вернуться по завершении обгона.
2. Может остаться на полосе встречного движения, если она свободна от других транспортных средств.
3. Может остаться на полосе встречного движения, если после возвращения на ранее занимаемую полосу ему придётся снова начать обгон, — но при условии выполнения мер безопасности, обусловленных Правилами дорожного движения.


14.5

15 Ставить транспортные средства под углом к краю проезжей части:

1. Разрешается, но только легковые автомобили и мотоциклы.
2. Разрешается, но только автомобили без прицепов.
3. Разрешается, но только в местах, где это не будет препятствовать движению других транспортных средств.
4. Разрешается при условиях, указанных в ответах 2 и 3.

15.5

16 Автомобили проедут перекрёсток в следующем порядке:



1. Синий, красный, зелёный, жёлтый.
2. Зелёный, синий, жёлтый, красный.
3. Жёлтый въедет на перекрёсток и остановится, чтобы уступить дорогу синему; зелёный, синий и красный, жёлтый.

16.12; 16.13

17 При движении на косогорах водитель должен:

1. Вести автомобиль с ускорением, поворачивая рулевое колесо в сторону, противоположную уклону, а при сползании автомобиля — в сторону уклона.
2. Вести автомобиль медленно, избегая резких поворотов рулевым колесом.

ОБД

18 Разрешается ли обогнать транспортное средство, которое перед перекрёстком начало снижать скорость?

1. Запрещается.
2. Разрешается, если отсутствуют пешеходы, которые переходят проезжую часть.
3. Разрешается, если позволяет обзорность перекрёстка.

18.4; 14.6 «А»

19 Какие световые приборы должны быть включены на механическом транспортном средстве при движении в туннеле независимо от степени освещения дороги?

1. Световые приборы не включаются.
2. Габаритные фонари или ближний свет фар.
3. Ближний или дальний свет фар.
4. Аварийная световая сигнализация.

19.1

20 Синий автомобиль проедет перекрёсток:



1. Первым.
2. После зелёного, красного.
3. После красного, зелёного.

16.12; 16.13

1 Какую дорогу, по определению Правил дорожного движения, следует считать главной?

1. Дорогу с многополосной проезжей частью по отношению к дороге с одной полосой для движения в каждом направлении.
2. Дорогу с покрытием по отношению к грунтовой или обозначаемую соответствующими знаками.
3. Дорогу с продолжением в обе стороны по отношению к примыкающей на трехстороннем перекрестке.

1.10

2 Разрешается ли посадка (высадка) пассажиров со стороны проезжей части?

1. Разрешается в случае отсутствия посадочной площадки, тротуара или обочины — с крайней полосы проезжей части (но не со стороны смежной полосы для движения), при условии, что это будет безопасно.
2. Запрещается.
3. Разрешается в любом случае со стороны заднего борта или с крайней полосы проезжей части, смежной для движения.

5.1

3 Данная табличка «Гололедица» с дорожным знаком:



1. Указывает, что действие знака распространяется на весь период суток.
2. Указывает, что действие знака распространяется на зимний период времени, когда проезжая часть может быть скользкой.
3. Указывает, что со знаком «Прочие опасности» устанавливаются в аварийно опасных местах. Запрещают временно въезд на данный участок дороги.

Прил. 1: 1.39, 7.12

4 Разрешается ли водителю-инвалиду, управляющему автомобилем, обозначенным опознавательным знаком «Инвалид», остановиться в зоне действия данного дорожного знака с табличкой?



1. Разрешается.
2. Запрещается.

Прил. 1: 3.34, 7.18; 2.8


5 Какая информация заложена в данном дорожном знаке?



1. Запрещается движение транспортных средств, габаритная высота которых (с грузом или без него) больше указанной на знаке.
2. Запрещается движение транспортных средств с дистанцией между ними, меньше указанной на знаке.
3. Запрещается движение транспортных средств, габаритная длина которых больше указанной на знаке.

Прил. 1: 3.18

6 Данная дорожная разметка означает, что:



1. Границу между проезжей частью и обочиной.
2. Границу между полосой разгона и основной полосой проезжей части, а также в зоне автобусных остановок.
3. Границы площадок, предназначенных для ночлега транспортных средств.

Прил. 2: 1.8

7 На какие транспортные средства из перечисленных не распространяется действие данного дорожного знака?



1. Только на транспортные средства, движущиеся по установленным маршрутам.
2. Только на транспортные средства, обслуживающие предприятия, которые расположены в обозначенной зоне.
3. На транспортные средства, перечисленные в ответах 1 и 2.

Прил. 1: 3.2

8 Всегда ли опознавательный знак «Колонна» устанавливается на транспортных средствах, движущихся в колонне?

1. Может не устанавливаться, если колонну сопровождают оперативные транспортные средства с включенными специальными световыми и (или) звуковыми сигналами.
2. Может не устанавливаться, если колонна разделена на группы.
3. Устанавливается всегда.

25.1

9 В каких случаях разрешается подача предупреждающего сигнала рукой?

1. В случае отсутствия или неисправности световых указателей поворота.
2. подача предупреждающего сигнала рукой или световыми указателями поворотов возможна по усмотрению водителя в зависимости от дорожной обстановки.
3. В случаях, предусмотренных в ответах 1 и 2.

9.3

10 Учебная езда на дорогах разрешается:

1. С момента первоначального обучения при наличии на автомобиле зеркала заднего вида для обучающего.
2. С момента первоначального обучения при наличии на автомобиле двойного управления.
3. Только в присутствии специалиста по подготовке водителей и при достаточных начальных навыках вождения у обучаемого.


24.5

11 Впереди образовалась медленно продвигающаяся группа автомобилей. Разрешается ли при интенсивном движении обогнать данную группу?

1. Разрешается при выполнении неотложного служебного задания.
2. Запрещается. При интенсивном движении менять полосу разрешается только для объезда препятствия, поворота, разворота или остановки.
3. Запрещается только в условиях недостаточной видимости.

11.11


12 Движение запрещено:



1. Жёлтому и красному автомобилям.
2. Зелёному, красному и белому автомобилям.
3. Белому и зелёному автомобилям, микроавтобусу.

8.8 «А»

13 Автомобили проедут перекрёсток в следующем порядке:



1. Синий, красный, зелёный.
2. Красный, зелёный, синий.
3. Красный, синий, зелёный.


16.12

14 На дорогах, имеющих две и более полос для движения в одном направлении, нерельсовые транспортные средства должны двигаться:

1. По любой полосе, если имеются не более трёх полос для движения.
2. Только по правой полосе, если имеются не более трёх полос для движения. Выезд на левую полосу разрешается только для поворота налево или разворота.
3. Как можно ближе к правому краю проезжей части, кроме случаев, когда выполняется опережение, объезд или перестроение перед поворотом налево или разворотом.

11.2

15 Разрешается ли стоянка легкового автомобиля в данной ситуации?



1. Запрещается.
2. Разрешается.

15.10 «Д»

16 На перекрёстке равнозначных дорог водитель транспортного средства, приближающегося слева, не снижает скорости движения. Вы должны:

1. Продолжить своё движение, так как преимущество в движении принадлежит Вам.
2. Постараться въехать на перекрёсток раньше, увеличив скорость движения.
3. Подать звуковой сигнал для предотвращения дорожно-транспортного происшествия и при необходимости остановиться.

16.12; 9.5

17 Как остановить автомобиль в случае внезапного отказа рабочего тормоза?



1. Выключить сцепление и резко тормозить стояночным тормозом.
2. Перейти на низшую передачу, затормозить стояночным тормозом. При необходимости воспользоваться каким-либо препятствием.

ОБД

18 Какое из перечисленного оборудования применяется для регулирования дорожного движения? Дайте полный ответ.

1. Выпуклые зеркала для расширения обзора водителям.
2. Устройства принудительного снижения скорости транспортных средств.
3. Шумовые полосы для повышения внимания.
4. Оборудование, перечисленное в ответах 1 и 2.
5. Оборудование, перечисленное в ответах 1, 2 и 3.

8.6 «Г», «Е», «Ж»

19 Разрешается ли подключать задние противотуманные фонари к сигналам торможения транспортного средства?

1. Запрещается.
2. Разрешается только на грузовых автомобилях.
3. Разрешается только на легковых автомобилях.
4. Разрешается только на транспортных средствах, осуществляющих междугородные перевозки.
5. Разрешается на всех вышеперечисленных транспортных средствах.

19.7

20 Водителю запрещается управлять транспортным средством:

1. Не зарегистрированным в Госавтоинспекции.
2. Не прошедших ведомственную регистрацию в случае, если законом установлена обязательность её проведения.
3. Прошедших ведомственную регистрацию в случае, если законом установлена обязательность её проведения, но не зарегистрированным в Госавтоинспекции.
4. В случаях, указанных в ответах 1,2,3.


2.9. «В»

1 Кто, по определению Правил дорожного движения, является «участником дорожного движения»?

1. Любое лицо, находящееся на дороге и выполняющее на ней ремонтные работы.
2. Лицо, принимающее непосредственное участие в процессе движения на дороге в качестве пешехода, водителя, пассажира, погонщика животных.
3. Оба ответа верны.

1.10

2 Синий автомобиль проедет перекрёсток:



1. Последним.
2. Третьим.
3. Вторым.
4. Первым.

3.2;
16.11; 16.14

3 Что означает данный дорожный знак?



1. Показывает окончание участка дороги с односторонним движением.
2. Предоставляет преимущество перед встречными транспортными средствами.
3. Обязывает водителя уступить дорогу встречным транспортным средствам.

Прил. 1: 2.5

4 Действие какого из дорожных знаков не распространяется на маршрутные транспортные средства?



1



2



3




4



5

Прил. 1: 3.23


5 Разрешается ли обогнать автобус на данном участке дороги?



1. Разрешается в любом случае.
2. Запрещается.
3. Разрешается только в том случае, если автобус движется со скоростью менее 30 км/ч.

Прил. 1: 1.27,
1.31.4; 14.6 «Б»

6 Разрешается ли водителю автомобиля пересекать сплошную линию данной дорожной разметки?



1. Разрешается.
2. Разрешается только для разворота.
3. Запрещается.

Прил. 2: 1.11

7 В каких местах Правила дорожного движения запрещают подачу звукового сигнала?

1. На дороге, проходящей через населённый пункт, обозначенной знаком «Начало населённого пункта» на синем фоне.
2. В населённом пункте, обозначенном знаком «Начало населённого пункта» на белом фоне.
3. На дорогах вне населённых пунктов.

Прил. 1: 5.45

8 Сигналы регулировщика:

1. Не имеют преимущества перед требованиями постоянно установленных дорожных знаков.
2. Не имеют преимущества перед сигналами светофоров.
3. Имеют преимущество перед сигналами светофоров и требованиями дорожных знаков.
4. Не имеют преимущества перед требованиями дорожной разметки жёлтого цвета.

8.3

9 В каком из указанных случаев следует включить световой указатель поворота перед поворотом на пересекаемую дорогу?

1. Только на нерегулируемых перекрёстках.
2. Только на дорогах с двусторонним движением.
3. Только на дорогах вне населённых пунктов.
4. В случаях, указанных в ответах 1, 2, 3.

9.2

10 В каких из перечисленных мест запрещается движение задним ходом?

1. На мостах, путепроводах, эстакадах.
2. Под мостами, путепроводами, эстакадами.
3. На горных дорогах.
4. В местах, перечисленных в ответах 1, 2, 3.

10.10

11 Разрешается ли буксировка двух транспортных средств одновременно?

1. Разрешается только в равнинной местности.
2. Запрещается.
3. Разрешается только по согласованию с ГАИ.

23.10 «Г»;
32.1 «Б»

12 При выборе скорости движения водителю запрещается:

1. Только резко тормозить, кроме случаев, когда без этого невозможно предотвратить дорожно-транспортное происшествие.
2. Только превышать скорость, указанную на опознавательном знаке, установленном на транспортном средстве в соответствии с Правилами дорожного движения.
3. Запрещаются оба перечисленных действия.

12.9


13 Какая информация заложена в данном дорожном знаке?



1. Запрещается движение всех механических транспортных средств.
2. Запрещается движение только легковых автомобилей.
3. Запрещается только въезд всех транспортных средств.

Прил. 1: 3.2


14 Разрешён ли обгон в данном месте вне населённого пункта?



1. Разрешён, если завершится до железнодорожного переезда.
2. Разрешён при скорости обгоняемого менее 30 км/ч.
3. Запрещён.

14.6 «Б»

15 Разрешается ли водителю автобуса остановиться в данном месте для высадки пассажиров?



1. Разрешается.
2. Запрещается.

15.9 «Д»

16 Какой автомобиль последним проедет перекрёсток?



1. Зелёный.
2. Синий.
3. Красный.

16.11; 16.14

17 Какой из перечисленных приёмов торможения на скользком участке дороги наиболее эффективен и безопасен?

1. Выключить сцепление и нажать на педаль тормоза.
2. Периодически нажимать на педаль тормоза, не выключая сцепления.
3. Нажать на педаль тормоза и не выключать сцепление.

ОБД

18 При каких из перечисленных условий запрещается эксплуатация транспортных средств? Дайте полный ответ.

1. Не горят противотуманные фары.
2. Размещение и режим работы внешних световых приборов не отвечают требованиям конструкции транспортного средства.
3. Не горит лампа подсветки щитка приборов.

31.4.3 «А»

19 Вы приближаетесь к нерегулируемому перекрёстку равнозначных дорог. Слева приближается другое нерегулируемое транспортное средство. Вы должны:

1. Выполнить требование Правил дорожного движения «уступить дорогу».
2. Проехать перекрёсток первым, так как Вы движетесь по дороге, где имеются три полосы для движения в одном направлении.
3. Проехать перекрёсток первым, так как имеете преимущество.
4. Выполнить требования Правил дорожного движения согласно ответу 2 или 3.


16.12

20 Обязан ли водитель уступать кому-либо дорогу, если он въезжает на перекрёсток на зелёный сигнал светофора?

1. Обязан уступить дорогу транспортным средствам, приближающимся справа.
2. Имеет преимущество, так как движется на зелёный сигнал светофора.
3. Обязан уступить дорогу транспортным средствам, завершающим движение через перекрёсток, а так же пешеходам, заканчивающим переход.

16.5

1 На автомобильной дороге вне населённого пункта максимальная скорость движения будет более высокая:



1.



2.

1. На рисунке 1.
2. На рисунке 2.
3. Максимальная скорость движения одинакова.


12.6 «Г»

2 Как должен поступить водитель автомобиля, если он услышал специальный звуковой сигнал и увидел, что его догоняет автомобиль с включённым проблесковым маячком красного цвета?

1. Увеличить скорость, чтобы не столкнуться с догоняющим автомобилем.
2. Подать звуковой сигнал, чтобы привлечь внимание других участников дорожного движения.
3. Остановиться у правого края проезжей части (на правой обочине).
4. Выполнить требования, указанные в ответах 2 и 3.

3.2

3 Данный дорожный знак:



1. Обозначает конец главной дороги.
2. Обозначает конец зоны запрещения остановки и стоянки.
3. Обозначает конец всех ограничений и запретов на данном участке дороги.

Прил. 1: 2.4

4 Данный дорожный знак с табличкой обозначает:



1. Место для стоянки транспортных средств, у которых содержание вредных веществ в отработанных газах или их дымность не превышают установленные стандартами нормы.
2. Место для стоянки транспортных средств с неработающим двигателем.
3. Место для платной стоянки только легковых автомобилей.

Прил. 1: 5.38, 7.7

5 С какой скоростью разрешается движение легкового автомобиля в населённом пункте, обозначенном данным дорожным знаком?



1. В населённом пункте на дороге, на которой установлен данный знак, — не более 90 км/ч, а на всех остальных дорогах этого же населённого пункта — не более 60 км/ч.
2. На всех дорогах данного населённого пункта — не более 90 км/ч.
3. На всех дорогах данного населённого пункта — не более 80 км/ч.
4. На всех дорогах данного населённого пункта — не более 60 км/ч.

Прил. 1: 5.47; 12.6 «Г»

6 Разрешается ли водителю пересекать сплошную линию дорожной разметки, обозначающую место стоянки транспортных средств?



1. Разрешается в любом случае.
2. Разрешается только для остановки.
3. Запрещается.

Прил. 2: 1.1

7 Данный дорожный знак:



1. Информировать о приближении к перекрёстку, на котором имеются опасности, не предусмотренные другими дорожными знаками.
2. Обозначает место пересечения равных по значению дорог.
3. Обязывает уступить дорогу транспортным средствам, подъезжающим к нерегулируемому перекрёстку по главной дороге.

Прил. 1: 2.1

8 Движение разрешено:



1. Мотоциклу.
2. Автомобилю и мотоциклу.
3. Всем транспортным средствам.

8.8 «А»

9 В каких случаях водитель должен подавать предупреждающий сигнал перед остановкой световыми указателями поворота соответствующего направления?

1. В том случае, если сзади движется другое транспортное средство.
2. В населённых пунктах.
3. В любых случаях.

9.2 «А»

10 На дороге с односторонним движением имеется зона стоянки. Разрешается ли водителю движение задним ходом к месту въезда на стоянку?

1. Разрешается, если нет возможности подъехать к стоянке иным способом.
2. Запрещается, так как дорога с односторонним движением.
3. Разрешается, если перед зоной стоянки установлен дорожный знак «Зона стоянки».

10.10

11 Вы поворачиваете на дорогу с реверсивным движением. По какой полосе после поворота Вы имеете право двигаться?

1. Вне населённых пунктов по возможности ближе к правому краю проезжей части.
2. В населённых пунктах движение разрешается по любой полосе.
3. По крайней правой полосе. Перестраиваться на полосу реверсивного движения разрешается только после проезда реверсивного светофора с сигналом, разрешающим движение.

11.12

12 В каких местах разрешена остановка транспортных средств на автомагистралях?

1. На полосе разгона.
2. На первой полосе, если число полос движения более четырех.
3. У края проезжей части.
4. На специальных площадках для стоянки, обозначенных дорожными знаками «Место для стоянки» или «Место отдыха».
5. Во всех перечисленных местах.

27.2 «В»


13 На какие транспортные средства действие данного дорожного знака не распространяется? Дайте полный ответ.



1. Маршрутные транспортные средства.
2. Автомобиль, управляемый инвалидом, который обозначен опознавательным знаком «Инвалид».
3. Такси с включённым таксометром.
4. Транспортные средства, указанные в ответах 2 и 3.
5. Маршрутное такси.

Прил. 1: 3.35;
2.8

14 Разрешается ли водителю автомобиля выполнить обгон?



1. Разрешается.
2. Разрешается только потому, что он обгоняет гужевую повозку.
3. Запрещается.


14.6 «А»

15 Дайте полный ответ. В тёмное время суток и в условиях недостаточной видимости стоянка вне населённых пунктов разрешается:

1. На площадках для стоянки.
2. За пределами дороги.
3. В местах, указанных в ответах 1 и 2.
4. Как можно правее на обочине.
5. У края проезжей части.

15.11

16 Транспортные средства проедут перекрёсток в следующем порядке:



1. Трамвай, белый, синий, зелёный автомобили.
2. Трамвай, белый, зелёный, синий автомобили.
3. Белый автомобиль, трамвай, зелёный, синий автомобили.

16.11; 16.14

17 Какую передачу рекомендуется включить при стоянке на спусках, чтобы не допустить самопроизвольного движения транспортного средства?

1. Передачу для движения назад вместе со стояночным тормозом.
2. Первую передачу вместе со стояночным тормозом.
3. Нейтральную передачу вместе со стояночным тормозом.

ОБД

18 При каких из перечисленных условий запрещается эксплуатация транспортных средств? Дайте полный ответ.

1. Не работает привод управления дверьми.
2. На одну ось транспортного средства установлены шины различных конструкций.
3. При условиях, указанных в ответах 1 и 2.

31.4.5 «Г»;
31.4.7 «Г»

19 При ослеплении водитель должен:



1. Остановиться, не меняя полосы движения, и включить аварийную световую сигнализацию.
2. Принять как можно правее к краю проезжей части и остановиться.


19.3

20 В каком из перечисленных случаев следует остановиться перед железнодорожным переездом?

1. При наличии стоп-линии.
2. Если за переездом образовался затор, который вынудит водителя остановиться на переезде.
3. В случаях, указанных в ответах 1 и 2.

20.5 «Г»

1 Водитель какого транспортного средства имеет преимущество?



1. Велосипеда.
2. Легкового автомобиля.

16.11

2 Разрешается ли водителю-инвалиду, управляющему автомобилем, обозначенным опознавательным знаком «Инвалид», остановиться в зоне действия данного дорожного знака с табличкой?



1. Запрещается.
2. Разрешается.

2.8;
 прил. 1: 3.34,
 7.18

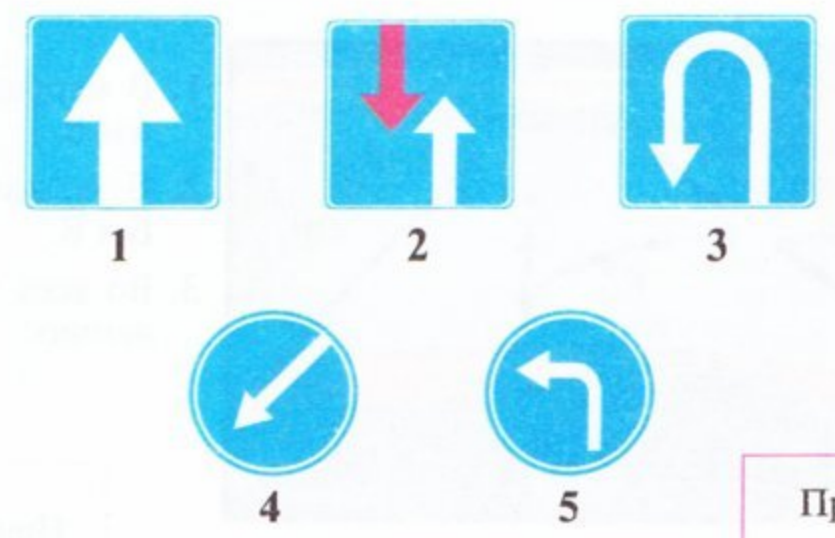
3 Разрешается ли буксировка мотоцикла с боковым прицепом по дороге, на которой установлен данный дорожный знак?



1. Разрешается буксировка не более одной единицы.
2. Разрешается буксировка только на жёсткой сцепке.
3. Запрещается буксировка только во время гололедицы.
4. Запрещается буксировка при любых условиях.

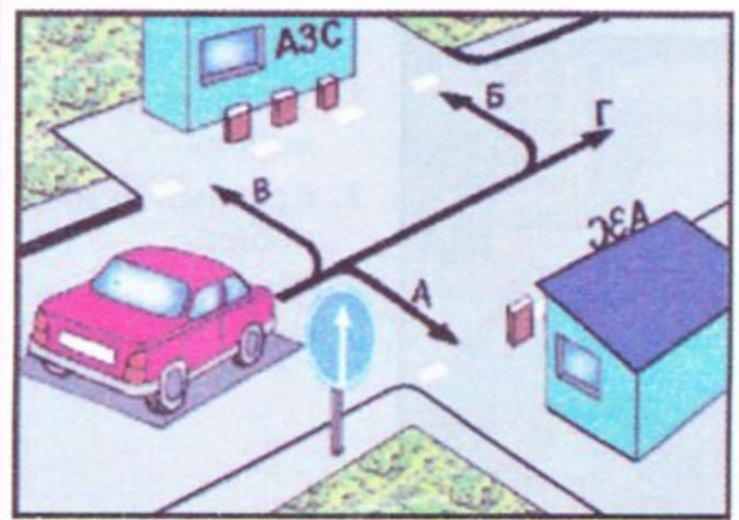
Прил. 1: 3.4

4 Какой дорожный знак указывает обязательное направление движения на перекрёстке?



Прил. 1: 4.3

5 По каким направлениям из числа обозначенных стрелками разрешается движение?



1. Только по направлению А.
2. Только по направлению Б.
3. Только по направлению В.
4. Только по направлению Г.
5. Только по направлениям А и Г.

Прил. 1: 4.1

6 Разрешается ли велосипедисту ездить по тротуарам?

1. Запрещается, кроме детей до 7 лет на детских велосипедах под присмотром взрослых.
2. Разрешается.
3. Разрешается при отсутствии пешеходов.

6.6 «В»

7 Данный дорожный знак означает, что:



1. Движение пешеходов и велосипедистов запрещено.
2. Впереди участок дороги, на котором идут соревнования по велосипедному спорту.
3. Знак разрешает движение всем участникам дорожного движения.
4. Знак обозначает дорожку, предназначенную для движения пешеходов и велосипедистов.


Прил. 1: 4.14

8 Дорожные знаки должны:

1. Располагаться не выше 6 м над уровнем проезжей части.
2. Быть видимыми на расстоянии не менее 100 м в направлении движения.
3. Быть видимыми на расстоянии не более 50 м в направлении движения, если они частично закрыты какими-либо помехами.
4. Располагаться, как указано в ответах 1 и 2.

8.2¹

9 В каком ответе названы транспортные средства, которым запрещено движение?



1. Легковому и грузовому автомобилям.
2. Автобусу, мотоциклу и грузовому автомобилю.
3. Только мотоциклу.
4. Только грузовому автомобилю.
5. Легковому автомобилю.

8.8 «А»

10 Разворот запрещается:

1. Только при видимости дороги менее 100 м хотя бы в одном направлении.
2. Только на автомагистралях, а также на дорогах для автомобилей, за исключением перекрёстков и мест, обозначенных дорожными знаками «Место для разворота» или «Зона для разворота».
3. В местах, перечисленных в ответах 1 и 2.


10.7 «Г», «Д»

11 Разрешается ли перевозить пассажиров в буксируемом автомобиле при буксировке на гибкой или жёсткой сцепке?

1. Разрешается в легковом автомобиле.
2. Разрешается в кузове грузового автомобиля при буксировке на жёсткой сцепке.
3. Разрешается в автобусе.

23.9

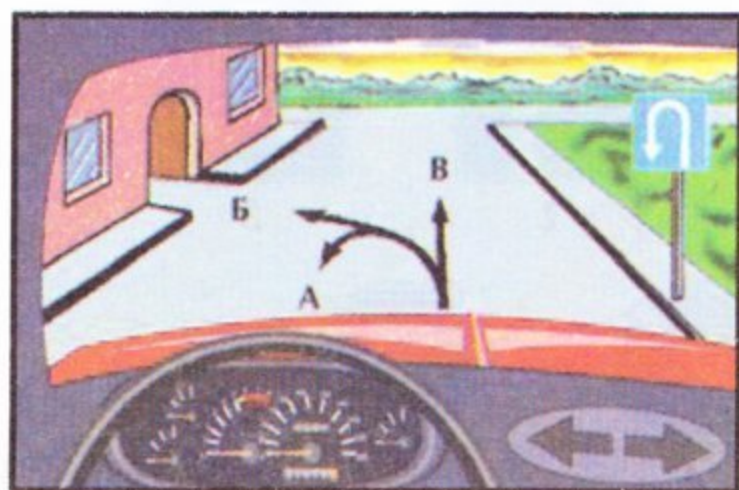
12 С какой максимальной скоростью разрешается движение мотоциклов на участке дороги, обозначенном данным дорожным знаком?



1. 60 км/ч.
2. 70 км/ч.
3. 80 км/ч.
4. 90 км/ч.
5. 100 км/ч.

12.6 «А»


5 Данный дорожный знак разрешает движение автомобиля:



1. В направлениях А и В.
2. В направлениях Б и В.
3. Во всех направлениях.

Прил. 1: 5.26


14 На дорогах, имеющих две и более полос для движения в одном направлении, выезд с правых полос:



1. Разрешается для выполнения обгона.
2. Разрешается в любом случае.
3. Разрешается, если они заняты.

14.6 «Е»;
11.2
11.5


15 Кто из водителей правильно поставил своё транспортное средство на стоянку на дороге с односторонним движением?



1. Водитель легкового автомобиля.
2. Водитель грузового автомобиля.
3. Оба неправильно.
4. Оба правильно.

15.3, 15.9 «Г»;
прил. 1: 5.5

16 Первым проедет перекрёсток:



1. Зелёный автомобиль.
2. Красный автомобиль.
3. Синий автомобиль.

16.12; 16.13


17 Водитель какого транспортного средства не нарушил правила остановки?



1. Только водитель мотоцикла.
2. Никто не нарушил.
3. Только водитель автомобиля.
4. Оба нарушили.

17.2; 15.9 «Е»

18 Разрешается ли в данной обстановке водителю красного автомобиля продолжать движение через пешеходный переход?



1. Запрещается.
2. Разрешается.

18.4

19 Фарой-прожектором могут пользоваться только водители оперативных транспортных средств:

1. На неосвещённых участках дорог.
2. Если во время движения отказал дальний свет фар.
3. Во время выполнения служебных заданий, приняв меры к тому, чтобы не ослеплять других участников дорожного движения.
4. В случаях, указанных в ответах 1, 2, 3.

19.6

20 Сигналом общей тревоги на железнодорожном переезде служат серии из:

1. Двух длинных и двух коротких звуковых сигналов.
2. Трёх длинных и трёх коротких звуковых сигналов.
3. Трёх длинных и одного короткого звукового сигнала.
4. Одного длинного и трёх коротких звуковых сигналов.

20.9

1 Считается ли перекрёстком выезд на дорогу с автозаправочной станции?

1. Считается.
2. Не считается.


1.10

2 В случае приближения транспортного средства с включённым проблесковым маячком синего цвета водители прочих транспортных средств обязаны:

1. Уступить ему дорогу и обеспечить беспрепятственный проезд.
2. Уступить ему дорогу лишь в том случае, если оно движется по той же полосе проезжей части.
3. Немедленно остановиться.

3.2

3 На участке дороги, где установлен данный дорожный знак:



1. Разрешается разворот и поворот налево всем транспортным средствам.
2. Разрешается поворот налево всем транспортным средствам.
3. Разрешается разворот всем транспортным средствам, поворот налево запрещается.
4. Разрешается разворот и поворот налево только легковым автомобилям.

Прил. 1: 5.26

4 Как определить дорогу с односторонним движением?



1. Дорога, имеющая одну полосу для движения.
2. Дорога, на которой посередине проезжей части нанесена разметка в виде двух сплошных белых линий.
3. Дорога, обозначенная в ответах 1, 2.
4. Дорога в населённом пункте, обозначенная знаком Б.
5. Дорога или отделённая проезжая часть, по которой движение транспортных средств по всей ширине осуществляется в одном направлении. Обозначена знаком А.

Прил. 1: 5.5;
прил. 2: 1.3

5 Водителям каких транспортных средств разрешено движение?



1. Водителям автомобиля и мотоцикла.
2. Только водителю автомобиля.
3. Только водителю мотоцикла.

Прил. 1: 4.11,
7.3.2

6 Разрешается ли пересекать узкую сплошную линию дорожной разметки?



1. Запрещается в любом случае.
2. Разрешается в любом случае.
3. Разрешается, если она белого цвета и обозначает место стоянки транспортных средств, площадок для парковки или край проезжей части, смежный с обочиной, или при обгоне одиночных транспортных средств, движущихся со скоростью менее 30 км/ч.
4. Разрешается, если она жёлтого цвета и обозначает границы полосы для движения маршрутных транспортных средств.

Прил. 2: 1.1

7 Данный дорожный знак означает, что:



1. Впереди начинается дополнительная полоса на подъёме или на спуске.
2. Впереди препятствие, объехать которое разрешается только с правой стороны.
3. Впереди участок дороги с поперечным уклоном проезжей части.
4. Информация, заложенная в ответах 2 и 3.

Прил. 1: 4.7

8 Что означает зелёный мигающий сигнал светофора?

1. Въезд на перекрёсток запрещён.
2. Скорость движения должна быть увеличена.
3. К перекрёстку приближается специальное транспортное средство.
4. Разрешает движение, но информирует о том, что вскоре будет включён сигнал, запрещающий движение.


8.7.3 «В»

9 На любом нерегулируемом перекрёстке трамвай, независимо от направления его дальнейшего движения:

1. Не имеет преимущества перед автобусами, выполняющими международные пассажирские перевозки.
2. Имеет преимущество перед водителем мотоцикла, приближающегося к нему по главной дороге.
3. Имеет преимущество перед нерельсовыми транспортными средствами, приближающимися к нему по равнозначной дороге.
4. Имеет преимущество перед нерельсовыми транспортными средствами в любом случае.

16.12

10 Водитель какого транспортного средства нарушает правила поворота с дороги, на которой есть полоса торможения?



1. Оба водителя.
2. Оба водителя поворачивают правильно.
3. Водитель жёлтого автомобиля.

10.8

11 В каком из перечисленных случаев транспортное средство должно двигаться только как можно ближе к правому краю проезжей части, кроме случаев, предусмотренных Правилами дорожного движения?

1. Только тогда, когда скорость движения его не должна превышать 40 км/ч.
2. Только тогда, когда по техническим причинам оно не может развивать скорость более 40 км/ч.
3. Только тогда, когда по техническим причинам оно не может развивать скорость более 50 км/ч.
4. В случаях, указанных в ответах 1 и 2.

11.7

12 Остановка транспортных средств запрещается:

1. На железнодорожных переездах.
2. На пешеходных переходах и ближе 15 м перед ними.
3. Ближе 40 м от посадочных площадок для остановки маршрутных транспортных средств.
4. Остановка запрещается в местах, указанных в ответах 1, 2, 3.

15.9 «А», «Г», «Е»

13 Транспортные средства проедут перекрёсток в следующем порядке:



1. Автобус, автомобиль, трамвай.
2. Автобус, трамвай, автомобиль.
3. Трамвай, автомобиль и автобус.

16.11


14 Разрешается ли обгон в данном месте?



1. Разрешается на дорогах вне населённых пунктов.
2. Разрешается.
3. Запрещается только на дорогах вне населённых пунктов.
4. Запрещается.

14.6 «Г»

15 В условиях недостаточной видимости стоянка вне населённого пункта разрешается:



1. Только на площадках для стоянки или за пределами дороги.
2. Как можно правее на обочине.
3. В местах, указанных в ответах 1 и 2.

15.11

16 В каком порядке проедут перекрёсток транспортные средства?



1. Трамвай 2, синий автомобиль, трамвай 1, красный автомобиль.
2. Трамвай 2, трамвай 1, синий автомобиль, красный автомобиль.

16.11; 16.14

17 Как влияет алкоголь на время реакции водителя?

1. Не влияет на реакцию водителя.
2. Время реакции увеличивается.
3. Время реакции уменьшается.


ОБД

18 Где положено хранить медицинскую аптечку в автомобиле? Дайте полный ответ.

1. В обоих ниже перечисленных местах.
2. В багажнике легкового автомобиля.
3. В закреплённом состоянии в местах, определённых предприятием-изготовителем.

31.4.7 «Е», прим. 2

19 В каких из перечисленных случаев должен быть включён дальний свет фар в тёмное время суток? Дайте полный ответ.



1. На дороге с двусторонним движением, на которой проезжие части разделены разделительной полосой.
2. На автомагистрали.
3. В населённых пунктах на обычной дороге.

4. В случаях, указанных в ответах 1, 2, 3.

19.1 «А»

20 Данный дорожный знак:



1. Запрещает движение транспортных средств с дистанцией между ними, меньше указанной на знаке.
2. Запрещает движение транспортных средств с дистанцией между ними, больше указанной на знаке.
3. Запрещает стоянку транспортных средств с дистанцией между ними, меньше указанной на знаке.

Прил. 1: 3.20

1 Разрешается ли выполнить опережение с правой стороны?

1. Разрешается только в том случае, если впереди движущееся транспортное средство выполняет опережение с левой стороны.
2. Запрещается в любом случае.
3. Разрешается в любом случае с соблюдением мер безопасности.

1.10
«опережение»

2 Водители каких транспортных средств всегда имеют преимущество в движении? Дайте полный ответ.

1. Водители транспортных средств с включёнными проблесковыми маячками красного цвета.
2. Водители транспортных средств с включёнными проблесковыми маячками синего, зелёного и красного цвета.
3. Водители транспортных средств с включёнными проблесковыми маячками оранжевого цвета.
4. Водители транспортных средств, указанные в ответах 2 и 3.

3.1—3.6

3 Какая информация заложена в данном дорожном знаке?



1. Знак применяется для обозначения скорости, с которой рекомендуется движение на данном участке дороги.
2. Знак применяется для обозначения скорости движения, с которой движение запрещено в тёмное время суток.
3. Знак применяется для обозначения конца зоны, в которой ограничивалась максимальная скорость движения в населённых пунктах.

Прил. 1: 5.30

4 Какой из данных дорожных знаков предупреждает о приближении к сужению дороги?



1



2



3

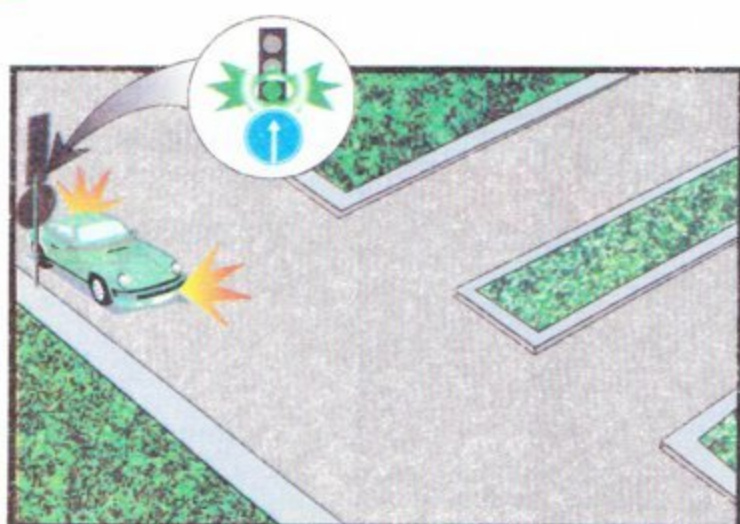


4

5. Знаки, показанные в ответах 1 и 4.

Прил. 1: 1.5.1

5 Разрешается ли на данном перекрестке повернуть налево?



1. Запрещается.
2. Разрешается во второй проезд.

Прил. 1: 4.1

6 Что обозначает данная дорожная разметка?



1. Участок дороги, предназначенный для кратковременной остановки.
2. Направляющий островок в месте разделения транспортных потоков.
3. Через 300 м будет пересечение с автомагистралью.


Прил. 2: 1.16.2

7 Какие предупреждающие дорожные знаки из перечисленных имеют иную форму, чем знаки этой группы?

1. «Направление поворота» и «Несколько поворотов».
2. «Однопутная железная дорога» и «Многопутная железная дорога».
3. «Приближение к железнодорожному переезду», «Железнодорожный переезд без шлагбаума».
4. Все вышеперечисленные знаки в ответах 1, 2, 3.
5. Все вышеперечисленные знаки в ответах 1 и 3.

Прил. 1: 1.29,
1.30

8 На данный сигнал регулировщика водителю легкового автомобиля разрешается движение:



1. Прямо, налево, на разворот.
2. Во всех направлениях.
3. Только прямо.
4. Только направо.

8.8 «Б»;
прил. 1: 3.22

9 Во время остановки на дороге на всех механических транспортных средствах колонны включается:

1. Ближний свет фар.
2. Аварийная световая сигнализация.
3. Ближний свет фар или аварийная световая сигнализация.

9.9 «Д»

10 В каком из перечисленных случаев запрещается выполнить разворот?

1. На участках дорог, обозначенных дорожным знаком «Крутой подъём».
2. На участках дорог, на которых отсутствует дорожный знак «Место для разворота».
3. В туннелях.
4. В случаях, указанных в ответах 1, 2, 3.

10.7 «В»

11 В каких случаях при буксировке механических транспортных средств водитель может или должен не находиться за рулём буксируемого транспортного средства? Дайте полный ответ.

1. При буксировке на жёсткой сцепке, когда её конструкция обеспечивает буксируемому транспортному средству повторение траектории движения буксирующего транспортного средства независимо от величины поворотов.
2. При буксировке с частичной погрузкой буксируемого транспортного средства на платформу или специальное опорное приспособление.
3. В случаях, указанных в ответах 1 и 2.
4. Во всех случаях при буксировке на жёсткой сцепке.

23.5

12 Разрешается ли буксировка на автомагистрали?

1. Разрешается только на гибкой сцепке со скоростью от 40 км/ч до 50 км/ч.
2. Разрешается только на жёсткой сцепке со скоростью от 40 км/ч. до 50 км/ч.
3. Разрешается любая буксировка со скоростью от 40 км/ч до 50 км/ч.

12.7; 27.3

13 Автомобили проедут перекрёсток в следующем порядке:



1. Жёлтый, зелёный, синий.
2. Синий, зелёный, жёлтый.
3. Синий, жёлтый, зелёный.

16.12

14 Белая прерывистая линия разделяет транспортные потоки противоположных направлений. На данном участке дороги обгон:

1. Запрещён.
2. Разрешён только вне населённого пункта.
3. Разрешён.

14.6 «Е»; прил.2: 1.5

15 Разрешается ли водителю красного автомобиля открыть дверь в показанной ситуации?



1. Разрешается, если это не угрожает безопасности и не создает препятствия другим участникам движения.
2. Запрещается, так как данная дорога с очень интенсивным движением.

15.13

16 Водитель какого транспортного средства должен уступить дорогу?



1. Водитель легкового автомобиля.
2. Водитель автобуса.

16.12

17 Что называется «остановочным путём»?

1. Расстояние, пройденное автомобилем с момента обнаружения водителем опасности до остановки.
2. Расстояние, пройденное автомобилем с момента обнаружения водителем опасности до начала торможения.

ОБД

18 При каких из перечисленных условий запрещается эксплуатация транспортных средств? Дайте полный ответ.

1. Не работают предусмотренные конструкцией замки дверей кузова или кабины.
2. Подтекает жидкость из системы охлаждения двигателя.
3. При условиях, указанных в ответах 1 и 2.

31.4.7 «Г»


19 Какая информация заложена в данном дорожном знаке?



1. Впереди дорога, на которой движение транспортных средств осуществляется по установленному маршруту и по специально отведённой полосе навстречу общему потоку транспортных средств.
2. Впереди дорога, на которой действуют требования Правил дорожного движения, устанавливающие порядок движения по автомагистралям.
3. Впереди дорога для движения всех транспортных средств, кроме автобусов.

Прил. 1: 5.8

20 В каком ответе правильно указана очерёдность проезда?



1. Автобус, грузовой автомобиль, МОТОЦИКЛ.
2. Автобус, мотоцикл, грузовой автомобиль.
3. Мотоцикл, автобус, грузовой автомобиль.

16.12

1 С Госавтоинспекцией согласовываются:

1. Условия и порядок движения колонн в составе более 5 механических транспортных средств.
2. Условия и порядок движения колонн в составе более 4 грузовых автомобилей.
3. Условия и порядок движения колонн, в составе которых грузовые и легковые автомобили.

32.1 «В»

2 С какого возраста предоставляется право на управление мототранспортными средствами и мотоциклами категории «А1,А»?

1. С 14-летнего возраста.
2. С 16-летнего возраста.
3. С 18-летнего возраста.

2.13

3 Разрешается ли остановиться водителям обычных транспортных средств для посадки или высадки пассажиров на полосе движения, обозначенной данным дорожным знаком?



1. Запрещается.
2. Разрешается.
3. Разрешается, если полоса расположена у правого края проезжей части и отделена от неё прерывистой жёлтой линией дорожной разметки.

Прил. 1: 5.11; 17.2

4 Какие из перечисленных дорожных знаков обязывают водителей обязательно остановиться перед железнодорожным переездом?



Прил. 1: 2.2


5 С какой скоростью разрешает двигаться данный дорожный знак?



1. Со скоростью не более 50 км/ч.
2. Со скоростью более 50 км/ч.
3. С любой разрешённой Правилами дорожного движения скоростью в зависимости от условий движения.

Прил. 1: 4.17

6 В каких случаях разрешается пересечь сплошную белую линию дорожной разметки, разделяющую транспортные потоки противоположных направлений?



1. Только в том случае, если надо обогнать одиночное транспортное средство, движущееся со скоростью менее 30 км/ч.
2. Только в том случае, если с правой стороны от неё нанесена прерывистая линия.
3. В любой случае, если дорога свободна от других транспортных средств.
4. В случаях, указанных в ответах 1, 2.
5. В случаях, указанных в ответах 1, 2, 3.

Прил. 2: 1.1, 1.11


7 Данный дорожный знак:



1. Обозначает конец зоны действия знака «Обгон запрещён».
2. Обозначает конец зоны запрещения обгона только для легковых автомобилей.
3. Обозначает начало участка дороги, на котором обгон грузовым автомобилям будет разрешён.

Прил. 1: 3.26


8 На каком рисунке водитель поворачивает правильно?



1. На правом рисунке.
2. На левом рисунке.

8.8 «Б»

9 С какого возраста разрешается перевозить детей на переднем сиденье легкового автомобиля, не оборудованного специальным средством, дающим возможность пристегнуть ребенка с помощью ремней безопасности?



1. С шести лет.
2. С восьми лет.
3. С десяти лет.
4. С двенадцати лет.

21.11 «Б»

10 Как оборудовать автомобили при обучении вождению, которые систематически используются?

1. Зеркалом заднего вида для специалиста по подготовке водителей.
2. Дополнительной педалью сцепления, в случае если конструкция транспортного средства допускает эту педаль.
3. Дополнительной педалью тормоза.
4. Оповестительными знаками «Учебное транспортное средство» в соответствии с требованиями Правил дорожного движения.
5. Всем перечисленным оборудованием.

24.8

11 Дайте полный ответ.
В пешеходную зону въезд разрешается:

1. Транспортным средствам, которые принадлежат гражданам, проживающим или работающим в этой зоне.
2. Транспортным средствам, которые движутся транзитом через пешеходную зону.
3. Транспортным средствам, которые обслуживают граждан и предприятия, расположенные в обозначенной зоне.
4. Транспортным средствам, перечисленным в ответах 1 и 3.
5. Транспортным средствам дорожно-коммунальной службы для выполнения работ на дороге в соседней зоне.

26.3

12 Разрешается ли въезд в технологические разрывы разделительной полосы на участках дорог, обозначенных данным дорожным знаком?



1. Разрешается в любом случае.
2. Разрешается при выполнении неотложного служебного задания.
3. Запрещается.


27.2 «Г»

13 С какой максимальной скоростью разрешается осуществить обгон?

1. Со скоростью, превышающей скорость обгоняемого транспортного средства.
2. С любой скоростью, обеспечивающей безопасность дорожного движения.
3. Со скоростью, которая не превышает максимальную, установленную для данного участка дороги Правилами дорожного движения.

12.1


14 Разрешается ли обгонять автопоезд в данной ситуации, если он движется со скоростью менее 30 км/ч?



1. Разрешается.
2. Запрещается.

14.6 «А»

15 Если дорога имеет бульвар или разделительную полосу, разрешаются ли остановка и стоянка транспортных средств возле них?



1. Запрещаются.
2. Разрешаются.
3. Разрешаются только легковым автомобилям и мотоциклам.

15.3

16 Автомобили проедут перекресток в следующем порядке:



1. Красный, зелёный, синий.
2. Синий, красный, зелёный.

16.12
16.13

17 Для экстренной остановки на сухой дороге необходимо:

1. Выключить сцепление, после чего незамедлительно нажать на педаль тормоза.
2. Нажать на педаль тормоза без выключения сцепления.
3. Выключить передачу и резко нажать на педаль тормоза.

ОБД

18 Шины мотоцикла должны иметь остаточную высоту рисунка протектора не менее:

1	2	3	4	5
0,5 мм	0,8 мм	1,0 мм	1,6 мм	2,0 мм

31.4.5 «А»

19 Разрешается ли повернуть направо на данном перекрёстке?



1. Запрещается. Разрешается только водителям легковых автомобилей, выполняющим неотложное служебное задание.
2. Запрещается. Разрешается только водителям маршрутных транспортных средств.
3. Запрещается в любом случае.

Прил. 1: 4.5


20 Вторым проедет перекрёсток:



1. Зелёный автомобиль.
2. Красный автомобиль.
3. Синий автомобиль.

16.12

1 В каком порядке проедут перекрёсток транспортные средства?



- 1. Жёлтый, зелёный, красный, синий.
- 2. Красный, зелёный, синий, жёлтый.
- 3. Красный, синий, жёлтый, зелёный.

16.11; 16.13

2 Должен ли водитель предоставлять транспортное средство работникам здравоохранения?

- 1. Должен, но только врачам для оказания первой медицинской помощи.
- 2. Должен, но только при движении в попутном направлении.
- 3. Должен, но только для доставки в ближайшее лечебное учреждение лиц, нуждающихся в неотложной медицинской помощи.
- 4. Должен в случаях, указанных в ответах 1, 2, 3.

2.7 «А»

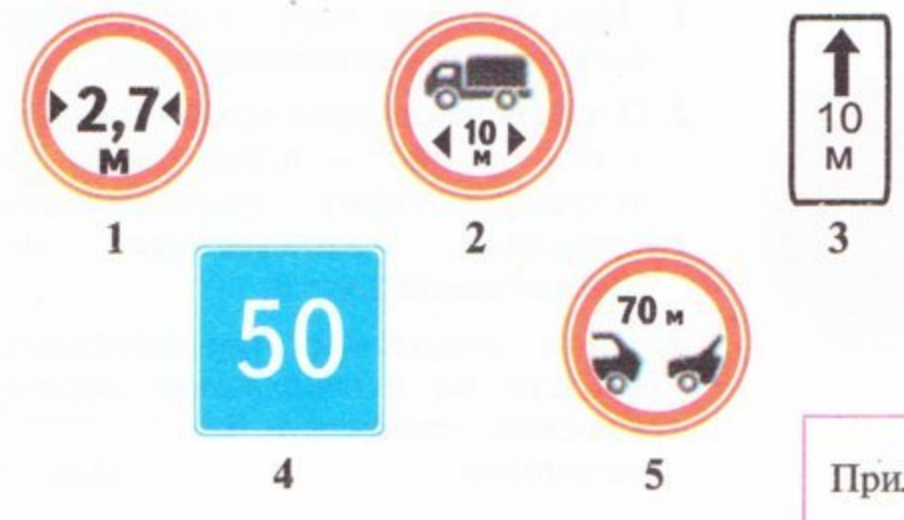
3 Если установлен данный дорожный знак, то кто из водителей имеет преимущество в движении?



- 1. Водитель, перед которым данный дорожный знак установлен.
- 2. Водитель встречного транспортного средства.
- 3. Водитель транспортного средства, приближающегося справа.
- 4. Водитель транспортного средства, движущегося быстрее.

Прил. 1: 2.6

4 Какой дорожный знак запрещает движение транспортных средств с дистанцией между ними меньше указанной на знаке?



Прил. 1: 3.20

5 Разрешается ли водителю мотоцикла повернуть направо на перекрёстке, перед которым установлены данный дорожный знак и табличка?



- 1. Разрешается в период суток с 20.00 до 06.00.
- 2. Запрещается.
- 3. Разрешается.
- 4. Разрешается только водителям мотоциклов без бокового прицепа.

Прил. 1: 4.2, 7.5.1

6 Как должен поступить водитель, приближаясь к перекрёстку, перед которым имеется разметка «стоп-линия», а надпись «STOP» отсутствует?

- 1. В любом случае остановиться перед стоп-линией.
- 2. Остановиться перед стоп-линией только в том случае, если сигнал светофора или регулировщика запрещает дальнейшее движение.
- 3. В связи с отсутствием надписи «STOP», остановка перед стоп-линией необязательна. Водителю следует повисить внимание.

Прил. 2: 1.12, 1.21

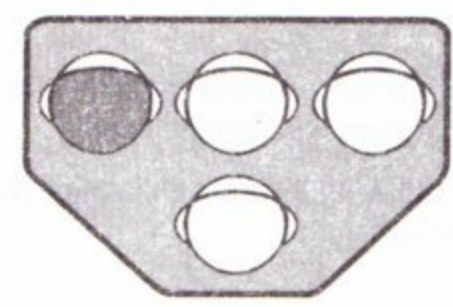
7 Данный дорожный знак предупреждает, что:



- 1. Впереди участок дороги, имеющий неровности проезжей части.
- 2. Впереди участок дороги с двумя и более расположенными один за другим опасными поворотами, с первым поворотом налево.
- 3. Впереди участок дороги, на котором опережение транспортных средств с правой стороны запрещено.
- 4. Впереди участок дороги, который ведёт в тупик.
- 5. Информация, заложенная в ответах 1 и 3.

Прил. 1: 1.3.2

8 Данный сигнал светофора запрещает движение трамвая:



- 1. Прямо и налево.
- 2. Прямо и направо.
- 3. Только налево.
- 4. Только направо.

8.7.5

9 подача сигнала указателями поворота или рукой прекращается:

- 1. Во время выполнения манёвра.
- 2. По усмотрению водителя в зависимости от дорожной обстановки.
- 3. Световыми указателями поворота — немедленно после завершения манёвра, а рукой — непосредственно перед началом выполнения манёвра.

9.4

10 Выезжая из двора, должны ли Вы уступить дорогу пешеходам, движущимся по тротуару?



- 1. Не должен, так как пешеход меня видит и поэтому должен уступить дорогу мне.
- 2. Должен.

10.2

11 Не более какого расстояния между транспортными средствами должна обеспечивать жёсткая сцепка при буксировке механического транспортного средства?

- | 1 | 2 | 3 | 4 |
|-------|-------|-------|-------|
| 2,0 м | 2,5 м | 3,0 м | 4,0 м |

23.3

12 Разрешена ли буксировка механических транспортных средств грузовыми автомобилями на автомагистралях?

1. Разрешена только способом частичной погрузки или на жесткой сцепке.
2. Разрешена на гибкой сцепке.
3. Запрещена.
4. Разрешена со скоростью 60 км/ч.
5. Разрешена любым способом со скоростью от 40 до 50 км/ч.

27.3; 12.7


13 Как должен поступить водитель, если перед нерегулируемым перекрёстком установлен данный дорожный знак?



1. При проезде через перекресток быть особенно внимательным.
2. Остановиться перед «стоп-линией», а если ее нет — перед знаком и уступить дорогу транспортным средствам, движущимся по пересекаемой дороге.
3. При отсутствии транспортных средств на пересекаемой дороге проехать перекресток без остановки.

Прил. 1: 2.2

14 Разрешается ли обгон в данной ситуации?



1. Запрещается.
2. Разрешается.
3. Разрешается, только если скорость обгоняемого транспортного средства менее 30 км/ч.

4. Разрешается, если водитель транспортного средства, движущегося впереди по той же полосе, не увеличит скорость движения.


14.6 «Б»

15 На каком расстоянии от перекрёстков запрещаются остановка и стоянка транспортных средств?

1. Остановка и стоянка запрещены на самих перекрёстках и ближе 10 м от края пересекаемой проезжей части при отсутствии на них пешеходного перехода.
2. Остановка и стоянка запрещены на самих перекрёстках и ближе 15 м от края пересекаемой проезжей части при отсутствии на них пешеходного перехода.
3. Остановка и стоянка запрещены на самих перекрёстках и ближе 20 м от края пересекаемой проезжей части при отсутствии на них пешеходного перехода.

15.9 «Г»

16 Транспортные средства проедут перекрёсток в следующем порядке:



1. Зелёный, жёлтый автомобили, трамвай.
2. Трамвай, жёлтый, зелёный автомобили.
3. Трамвай, зелёный автомобиль, жёлтый автомобиль.

16.12

17 Что понимается под временем реакции?

1. Время с момента, когда водитель начал тормозить, до полной остановки транспортного средства.
2. Время с момента, когда водитель увидел опасность, до начала конкретных действий.

ОБД

18 В каких из перечисленных случаев запрещается эксплуатация транспортных средств согласно законодательству?

1. В случае их изготовления или переоборудования с нарушением требований стандартов, правил и нормативов, касающихся безопасности дорожного движения.
2. Если номерные знаки не отвечают требованиям соответствующих стандартов.
3. В случаях, указанных в ответах 1 и 2.

31.3 «А», «В»

19 Разрешается ли эксплуатация транспортного средства без подголовников, если их установка предусмотрена конструкцией?

1. Разрешается, если подголовники находятся в ремонте.
2. Разрешается в любом случае.
3. Запрещается.

31.4.7 «Ж»

20 Автомобили проедут перекрёсток в следующем порядке:



1. Синий, зелёный, красный автомобили.
2. Синий автомобиль уступит дорогу красному, а затем закончит поворот; зелёный автомобиль.
3. Красный, синий, зелёный автомобили.
4. Зелёный, красный, синий автомобили.

16.11; 16.14


1 Может ли водитель красного автомобиля выполнить обгон на данном участке дороги?



- 1. Не может.
- 2. Может, если белый автомобиль сместится к правому краю проезжей части.
- 3. Может в любом случае.

1.10

2 Синий автомобиль проедет перекрёсток:



- 1. Первым.
- 2. Третьим.
- 3. Вторым.

3.2; 16.12; 16.13

3 На дороге установлен данный дорожный знак. Водитель какого транспортного средства имеет преимущество в движении?



- 1. Водитель, перед которым установлен данный знак.
- 2. Водитель, который приближается по дороге справа от знака.
- 3. Водитель, который подъехал к месту пересечения дорог первым.

Прил. 1: 1.23.1


4 Непосредственно на каком участке дороги начинается действие данного дорожного знака с табличкой?



- 1. За знаком непосредственно в месте его установки.
- 2. За знаком, но через 300 м от места его установки.
- 3. За знаком непосредственно в месте его установки на протяжении 300 м.

Прил. 1: 3.29, 7.1.1


5 Разрешён ли обгон в данном месте?



- 1. Запрещён.
- 2. Разрешён, только при условии, что скорость обгоняемого менее 30 км/ч.
- 3. Разрешён.

Прил. 1: 3.25, 7.1.1


6 Разрешается ли заезжать на островок, размеченный широкими белыми линиями?



- 1. Разрешается только для остановки.
- 2. Запрещается.
- 3. Разрешается при движении задним ходом.

Прил. 2: 1.1


7 Разрешаются ли обычным транспортным средствам остановка и стоянка на посадочных площадках, предназначенных для маршрутных транспортных средств?



- 1. Разрешаются для посадки или высадки пассажиров.
- 2. Запрещаются.
- 3. Запрещаются только в часы пик или в светлое время суток.

15.9 «Е»

8 Движение разрешено:



- 1. Прямо.
- 2. Направо в первый проезд.
- 3. Направо во второй проезд.
- 4. Направо в первый и второй проезды.

8.8 «Б»

9 Дайте полный ответ. Предупреждающими сигналами являются:

- 1. Включение ближнего света фар в светлое время суток, включение аварийной сигнализации.
- 2. Включение сигналов торможения, фонаря заднего хода, опознавательного знака автопоезда, проблескового маячка оранжевого цвета.
- 3. Сигналы, подаваемые световыми указателями поворота или рукой, звуковой сигнал, переключение света фар.
- 4. Все перечисленные сигналы.
- 5. Все сигналы, перечисленные в ответах 1 и 3.

9.1

10 Как оборудуются автомобили учебных заведений при обучении вождению? Дайте полный ответ.

- 1. Дополнительными педалями сцепления, торможения и акселератора (в случае если конструкция транспортного средства допускает эти педали).
- 2. Зеркалом заднего вида для специалиста по подготовке водителей.
- 3. Опознавательными знаками «Учебное транспортное средство» в соответствии с требованиями Правил дорожного движения.
- 4. Всем перечисленным оборудованием и обозначениями.

24.8

11 Если ширина проезжей части недостаточна, разрешается ли движение нерельсовых транспортных средств по трамвайным путям при опережении?

1. Разрешается только тогда, когда движение осуществляется по трамвайным путям попутного направления, и при условии, что не создаются препятствия для движения трамваев.
2. Запрещается.

11.8

12 Если в светофоре одновременно включены два сигнала — красный и жёлтый, то водитель нерельсового транспортного средства должен:

1. Руководствоваться требованиями дорожных знаков приоритета, так как светофор неисправен.
2. Снизить скорость и быть готовым к остановке, так как вскоре включится красный сигнал светофора.
3. Приготовиться к движению, так как вскоре будет включён зелёный сигнал светофора.

8.7.3 «Е»

13 Данные дорожные знаки предупреждают, что:



1. Впереди через 100 м железнодорожный переезд со шлагбаумом.
2. Впереди железнодорожный переезд без шлагбаума через железную дорогу с тремя путями.
3. Впереди через 150—300 м железнодорожный переезд без шлагбаума.

Прил. 1: 1.28, 1.31.4

14 В каких из перечисленных случаев запрещается обгон?

1. Только в туннелях.
2. Запрещается обгонять только колонну транспортных средств, позади которой движется транспортное средство с включённым проблесковым маячком зеленого цвета.
3. В случаях, указанных в ответах 1 и 2.
4. На дорогах вне населённых пунктов перед въездом в населённый пункт.
5. В случаях, указанных в ответах 1, 2, 4.

14.6 «Д», «Е»

15 Водители каких транспортных средств неправильно остановились для высадки пассажира? Дайте полный ответ.



1. Водитель легкового автомобиля.
2. Водитель мотоцикла.
3. Водитель микроавтобуса.
4. Водители всех транспортных средств нарушили Правила дорожного движения.

15.9 «Г»

16 Автомобили проедут перекрёсток в следующем порядке:



1. Зелёный, синий, красный.
2. Зелёный, красный, синий.
3. Красный, синий, зелёный.


16.12; 16.13

17 Для прекращения начавшегося заноса автомобиля при торможении водитель должен:

1. Выключить сцепление.
2. Нажать на педаль тормоза до упора.
3. Выключить сцепление и тормозить стояночным тормозом.
4. Прекратить начатое торможение.

ОБД

18 Как Вы должны поступить, поворачивая направо в показанной ситуации?



1. Используя преимущественное право, подать звуковой сигнал и продолжать движение в намеченном направлении.
2. Уступить дорогу пешеходам, переходящим проезжую часть.

3. Снизить скорость движения и следовать с особой осторожностью.


18.2

19 Противотуманные фары можно использовать в условиях недостаточной видимости:

1. С ближним или дальним светом фар.
2. Как отдельно, так и с ближним или дальним светом фар.
3. Отдельно от ближнего или дальнего света фар.

19.5

20 Вторым проедет перекрёсток:



1. Красный автомобиль.
2. Синий автомобиль.
3. Зелёный автомобиль.


16.12

1 Разрешается ли движение пешеходов по разделительной полосе?

1. Разрешается при наличии тротуара на разделительной полосе.
2. Разрешается при любых условиях.
3. Запрещается при любых условиях.

1.10

2 Обязан ли водитель сообщить дорожно-эксплуатационным организациям или Госавтоинспекции о выявленных фактах создания препятствий для дорожного движения:



1. Не обязан. Сообщить может по собственному желанию.
2. Обязан сообщить.

2.3 «Е»

3 Если перед железнодорожным переездом установлен данный дорожный знак, то водитель должен:



1. Остановиться перед разметкой «стоп-линия», а если она отсутствует — перед знаком, убедиться в том, что не приближается поезд, и лишь после этого продолжить движение.
2. Остановиться перед переездом и заглушить двигатель.
3. Притормозить, осмотреться и, убедившись в отсутствии приближающегося поезда, продолжить движение без остановки.

Прил. 1: 2.2; 20.2; 20.3;

4 Какой дорожный знак обозначает промышленную зону?



1



2




3



4

Прил.1: 5.69

5 В каком направлении разрешается движение? Дайте полный ответ.



1. Прямо.
2. Направо или налево.
3. Прямо, налево и разворот.
4. Налево.

Прил. 1: 5.10.

6 Обязаны ли быть в застёгнутых мотошлемах во время движения по дороге водитель мопеда и его пассажир?

1. В застёгнутом мотошлеме должен быть только водитель.
2. В застёгнутом мотошлеме должны быть водитель и пассажир только при движении вне населённого пункта.
3. При движении на мопеде водитель и его пассажир могут быть без мотошлема.
4. В застёгнутом мотошлеме должны быть водитель и пассажир в любом случае при движении.

2.3«Г»

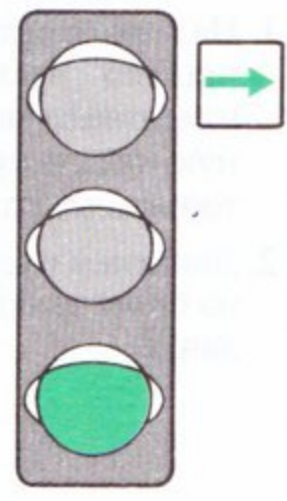
7 Данный дорожный знак предупреждает, что:



1. Впереди участок дороги со встречным движением, которому предшествовал участок дороги с односторонним движением.
2. Впереди участок, на котором дорога сужается.
3. Впереди скользкий участок дороги.

Прил. 1: 1.5.1

8 Дайте полный ответ: в каких направлениях разрешается движение при данном сигнале светофора?



- 1.
- 2.

8.7.3 «А», «Б»

9 На механическом транспортном средстве, движущемся с техническими неисправностями к месту ремонта, включается:

1. Только габаритные фонари.
2. Только аварийная световая сигнализация.
3. Ближний свет фар или аварийная световая сигнализация.
4. Ближний свет фар или противотуманные фары.

9.9 «В»

10 Разрешается ли водителю выполнить разворот на данном участке дороги, если, посмотрев в зеркало заднего вида, он увидел, что сзади него другие транспортные средства отсутствуют?



1. Разрешается, если он сможет выполнить разворот только с одного манёвра.
2. Разрешается, если он сможет выполнить разворот, совершив только не более 2-х манёвров.
3. Разрешается.

10.4

11 Разрешается ли выезжать на полосу встречного движения на дороге с двусторонним движением, которая имеет по две полосы для движения в каждом направлении?

1. Запрещается.
2. Разрешается на проезжей части там, где отсутствует дорожная разметка.
3. Разрешается в любом случае для выполнения обгона.

11.4

12 Разрешаются ли остановка и стоянка на дорогах, обозначенных данным дорожным знаком?



1. Разрешаются на время до 30 мин.
2. Разрешаются только в местах, обозначенных дорожными знаками «Место для стоянки» или «Место отдыха».
3. Разрешаются только на правой стороне у края проезжей части.
4. Разрешаются в местах, указанных в ответах 2 и 3.


27.2 «В»

13 С какой максимальной скоростью разрешается движение легкового автомобиля вне населённых пунктов на автомобильной дороге с отдельными проезжими частями, разделёнными одна от другой разделительной полосой?

1. 130 км/ч
2. 120 км/ч
3. 110 км/ч
4. 100 км/ч
5. 90 км/ч

12.6 «Г»

14 Разрешается ли обогнать автобус на данном участке дороги?



1. Разрешается только в том случае, если автобус движется со скоростью менее 30 км/ч.
2. Разрешается в любом случае.
3. Запрещается.


14.6 «Б»;
прил. 1:
1.27, 1.31.4

15 Остановка транспортного средства запрещается:

1. Только на железнодорожных переездах и ближе 50 м от них.
2. Только на железнодорожных переездах и ближе 50 м перед ними.
3. Только на железнодорожных переездах и ближе 50 м за ними.
4. Только на железнодорожных переездах.

15.9 «А»

16 Велосипедист проедет перекрёсток:



1. После автобуса, автомобиля.
2. После автомобиля, автобуса.
3. Первым.

16.12; 16.13

17 Для обеспечения безопасности движения после преодоления глубоких луж водителю рекомендуется:



1. На короткой дистанции пробега несколькими нажатиями на тормозную педаль просушить тормозные накладочки.
2. Двигаться с ускорением на более высоких передачах.

ОБД

18 Первым проедет перекрёсток:



1. Зелёный автомобиль.
2. Синий автомобиль.
3. Красный автомобиль.

16.11; 16.14

19 При каких из перечисленных условий запрещается эксплуатация транспортных средств? Дайте полный ответ.

1. Резьбовые соединения рулевого управления не затянуты или надёжно не зафиксированы.
2. Негерметична топливная система.
3. При условиях, указанных в ответах 1 и 2.

31.4.2 «Б»;
31.4.6 «Б»

20 Транспортные средства проедут перекрёсток в следующем порядке:



1. Автобус, велосипед, легковой автомобиль.
2. Велосипед, автобус, легковой автомобиль.
3. Легковой автомобиль, автобус, велосипед.
4. Автобус, легковой автомобиль, велосипед.

16.11; 16.13

1 Дайте полный ответ. По определению Правил дорожного движения «маневрирование» (манёвр) это:

1. Начало движения, съезд с проезжей части, движение задним ходом.
2. Перестроение транспортного средства в движении с одной полосы на другую.
3. Поворот направо или налево, разворот.
4. Все действия, указанные в ответах 1, 2, 3.
5. Действия, указанные в ответах 2 и 3.

1.10

2 Кому могут принадлежать автомобили, которыми управляют водители категории «В»? Дайте полный ответ.

1. Принадлежат юридическим лицам.
2. Принадлежат физическим лицам.
3. Принадлежат юридическим или физическим лицам.

2.13

3 Данный дорожный знак предупреждает, что:



1. Впереди участок дороги, на котором возможны обвалы или оползни.
2. Впереди участок дороги с повышенной скользкостью проезжей части.
3. Впереди участок дороги, на котором выполняются работы.
4. Информация, заложенная в ответах 1 и 2.

Прил. 1: 1.37

4 Какой дорожный знак запрещает движение со скоростью менее 50 км/ч?



1



2



3




4



5

Прил. 1: 4.16

5 В каком ответе указаны все водители, нарушившие правила остановки на дороге с односторонним движением вне населённого пункта? Дайте полный ответ.



1. Водители красного автомобиля и мотоцикла.
2. Водитель синего автомобиля, остановившийся под разгрузку.
3. Водители всех транспортных средств.
4. Водитель мотоцикла.

Прил. 1: 3.34, 7.2.4; 11.6; 15.3

6 Какая из данных линий обозначает остановку маршрутных транспортных средств?



А

Б

В

1. А и Б.
2. Б и В.
3. А
4. Б.
5. В.

Прил. 2: 1.17


7 Как должен поступить водитель, который приближается к перекрёстку, на котором светофор не включён, а на дороге перед перекрёстком установлен данный дорожный знак?



1. Остановиться только лишь в том случае, если он будет поворачивать на перекрёстке.
2. Остановиться в любом случае и уступить дорогу транспортным средствам, движущимся по пересекаемой дороге.
3. Не останавливаться, если перекрёсток свободен от других транспортных средств.

Прил. 1: 2.2

8 Движение разрешено:



1. Синему автомобилю.
2. Мотоциклу.
3. Трамваю.
4. Трамваю и красному автомобилю.
5. Красному автомобилю.

8.8 «Б»

9 Дайте наиболее полный ответ: всегда ли должен водитель подавать световой сигнал указателями поворота?

1. Обязан всегда перед началом движения, остановкой, перестроением, поворотом или разворотом.
2. Сигнал запрещается подавать, если он может ввести в заблуждение других участников движения.
3. Ответы 1 и 2 верны.

9.2; 9.4

10 Должен ли водитель уступить дорогу другим транспортным средствам при перестроении?

1. Должен во всех случаях при взаимном перестроении.
2. Должен — транспортному средству, движущемуся попутно по той полосе, на которую он намерен перестроиться.
3. Не должен.

10.3

11 Разрешается ли буксировать мотоциклы?

1. Разрешается мотоциклы без бокового прицепа.
2. Разрешается в равнинной местности.
3. Разрешается мотоциклы с боковым прицепом.
4. Запрещается.

23.10 «Г»

12 С какой скоростью разрешается движение легкового автомобиля в населённом пункте, обозначенном данным дорожным знаком?

РУДНЯ

1. На всех дорогах данного населённого пункта не более 80 км/ч.
2. На всех дорогах данного населённого пункта не более 60 км/ч.
3. В населённом пункте, на дороге, на которой установлен данный знак, — не более 90 км/ч, а на всех остальных дорогах этого же населённого пункта — не более 60 км/ч.
4. На всех дорогах данного населённого пункта не более 90 км/ч.

12.6 «Г»;
прил. 1: 5.47

13 Данная разметка обозначает место, где:



1. Запрещена остановка и стоянка легковых автомобилей.
2. Запрещена стоянка легковых автомобилей с 20-00 до 08-00.
3. Запрещена стоянка.
4. Разрешена стоянка с 20-00 до 08-00.

Прил.2:1.10.2

14 Каким образом регламентируется максимальная масса перевозимого груза и распределение нагрузки на оси транспортного средства?

1. Разрешением, выданным ГАИ.
2. Технической характеристикой данного транспортного средства.
3. Приказом администрации предприятия.
4. Документами, указанными в ответах 1, 2, 3.

22.1


15 Разрешается ли остановка в данном месте?



1. Запрещается.
2. Разрешается.

15.9 «Г»

16 Красный автомобиль:



1. Должен уступить дорогу синему, приближившемуся к перекрёстку справа.
2. Имеет преимущество перед синим, так как едет по дороге с круговым движением.
3. Имеет преимущество перед синим, так как едет по главной дороге.

16.11

17 Какие опасные последствия может вызвать резкое трогание с места?

1. Боковой занос автомобиля.
2. Прекращение работы двигателя.

ОБД

18 Разрешается ли дальнейшее движение автомобиля, у которого имеется неисправность тормозной системы, но позволяющая водителю остановить его?

1. Разрешается со скоростью не более 10 км/ч при наличии исправной стояночной тормозной системы.
2. Запрещается.
3. Разрешается движение как можно более коротким путём к месту стоянки или ремонта, соблюдая меры предосторожности.

31.5; 31.6 «А»

19 При каких из перечисленных условий запрещается эксплуатация транспортных средств? Дайте полный ответ.

1. На транспортном средстве отсутствуют световозвращающие элементы.
2. На транспортном средстве отсутствуют опознавательные знаки, предусмотренные Правилами дорожного движения.
3. При условиях, указанных в ответах 1 и 2.


31.4.7 «І»

20 Водитель, выезжающий с дороги без покрытия на асфальтированную дорогу:

1. Должен уступить дорогу только при наличии знака «Уступить дорогу».
2. Должен дать преимущество всем транспортным средствам, движущимся по асфальтированной дороге.
3. Должен уступить дорогу только транспортным средствам, приближающимся справа.

16.11; 1.10


1 Должен ли водитель остановиться перед стоп-линией в данном случае?



1. Должен обязательно остановиться.
2. Должен проехать перекрёсток без остановки.
3. Должен обязательно остановиться в том случае, если на пересекаемой проезжей части появится транспортное средство, которому водитель должен уступить дорогу.

16.1;
прил. 1: 2.2;
прил. 2: 1.12.

2 Синий автомобиль проедет перекрёсток:



1. Первым.
2. Вторым.
3. Третьим.
4. Четвёртым.
5. Последним.

3.2;
16.11; 16.13


3 Каковы требования данного дорожного знака, если он установлен перед нерегулируемым перекрёстком?



1. Остановиться только в том случае, если справа приближается другое транспортное средство.
2. Остановиться в любом случае и уступить дорогу транспортным средствам, движущимся по пересекаемой дороге.
3. Остановиться только в том случае, если нужно проехать перекрёсток в прямом направлении.
4. Остановиться в случаях, указанных в ответах 1 и 3.

Прил. 1: 2.2


4 Как определить дорогу с односторонним движением?



1. Дорога, обозначенная в ответах 1, 2 и 3.
2. Дорога, имеющая одну полосу для движения.
3. Дорога в населённом пункте, обозначенная знаком Б.
4. Дорога, на которой посередине проезжей части нанесена разметка в виде двух сплошных белых линий.
5. Дорога или отделённая проезжая часть, по которой движение транспортных средств по всей ширине осуществляется в одном направлении. Обозначенная знаком А.

Прил. 2: 1.3;
прил. 1: 5.5


5 По какому пути из числа обозначенных стрелками разрешено движение?



1. А и В.
2. Б и В.
3. А и Б.

Прил. 1: 3.23

6 Разрешена ли остановка в данном месте?



1. Запрещена.
2. Разрешена.

Прил. 2: 1.4


7 Данный дорожный знак предупреждает, что впереди:



1. Закругление дороги с повышенной скользкостью проезжей части.
2. Участок дороги с двумя и более расположенными один за другим опасными поворотами, с первым поворотом направо.
3. Участок дороги, на котором ширина проезжей части уменьшается на одну полосу.

Прил. 1: 1.3.1

8 При красном сигнале данного светофора движение запрещается:



1. На полосе для маршрутных транспортных средств.
2. По всей ширине проезжей части.
3. По полосе проезжей части, направление движения на которой может изменяться на противоположное.

8.7.4

9 Какие из перечисленных действий запрещаются водителю при выборе скорости движения? Дайте полный ответ.

1. Превышать максимальную скорость движения, указанную на опознавательном знаке «Ограничение максимальной скорости».
2. Резко тормозить, кроме случаев, когда без этого невозможно предотвратить дорожно-транспортное происшествие.
3. Действия, перечисленные в ответах 1 и 2, запрещены.

12.9 «Б», «Г»

10 В каком из перечисленных случаев разрешается движение задним ходом?

1. На автомагистралях.
2. На дорогах для автомобилей.
3. На обычных дорогах.
4. На дорогах, указанных в ответах 1, 2, 3.

10.10

11 Как определяется на дороге количество полос для движения нерельсовых транспортных средств? Дайте полный ответ.

1. Дорожными знаками «Направление движения по полосам» или «Направление движения по полосе».
2. Дорожной разметкой.
3. При отсутствии знаков и разметки — самим водителем с учётом ширины проезжей части, габаритов транспортных средств и безопасных интервалов между ними.
4. Всеми перечисленными способами.

11.1

12 С какой максимальной скоростью разрешается движение мотоциклов на участках дорог, обозначенных данным дорожным знаком?



1. 60 км/ч.
2. 70 км/ч.
3. 80 км/ч.
4. 90 км/ч.
5. 100 км/ч.


12.6 «А»

13 Как оказать первую медицинскую помощь пострадавшему при повреждении кожных покровов и мышечной ткани?

1. Рану промыть, извлечь инородные тела, наложить повязку.
2. Обработать кожу вокруг раны раствором йода, покрыть рану стерильным материалом, наложить повязку.
3. Залить рану раствором йода и наложить повязку.

ОПМП
стр. 53

14 Последним проедет перекрёсток:



1. Зелёный автомобиль.
2. Красный автомобиль.
3. Синий автомобиль.

16.11; 16.13

15 На участках дорог, обозначенных дорожными знаками «Крутой подъём» или «Крутой спуск», если способ постановки не регламентируется средствами регулирования движения, водитель автобуса обязан:

1. Только пользоваться противооткатными упорами.
2. Только поставить транспортное средство под углом к краю проезжей части так, чтобы не создавать препятствий другим участникам дорожного движения и исключить возможность самопроизвольного движения этого средства.
3. Выполнить вышеуказанные действия.

15.7;
28.2 «Б»

16 В каком из перечисленных случаев, приближаясь к нерегулируемому перекрёстку, водитель имеет преимущественное право движения? Дайте полный ответ.

1. Если на пересекаемой дороге установлен знак «Уступить дорогу».
2. Если перекрёсток равнозначный и с правой стороны на пересекаемой дороге отсутствуют транспортные средства.
3. В любом случае, если водитель подъехал к перекрёстку первым.
4. В случаях, указанных в ответах 1, 2.
5. В случаях, указанных в ответах 1, 2, 3.

16.12;
прил. 1: 2.1

17 Чем может быть вызвано боковое скольжение автомобиля на скользкой дороге?

1. Резким разгоном и резким торможением.
2. Только резким разгоном.
3. Только резким торможением.

ОБД

18 В каких случаях не запрещается эксплуатация транспортных средств?

1. Отсутствуют предусмотренные конструкцией грязезащитные фартуки и брызговики.
2. На легковом автомобиле установлены дополнительно два немигающих сигнала торможения красного цвета.
3. Не работает предусмотренное конструкцией устройство для обогрева и обдува стекла.

31.4.3, прим. 4;
31.4.7 «Г», «Е»


19 Данный дорожный знак:



1. Запрещает движение всех механических транспортных средств, за исключением мотоциклов без бокового прицепа.
2. Запрещает движение всех транспортных средств.
3. Обозначает дорогу, ведущую в тупик.

Прил. 1: 3.1

20 В каком месте у железнодорожного переезда должен остановить водитель своё транспортное средство, если он увидел приближающийся поезд?



1. Не менее 10 м до ближайшего рельса.
2. Не менее 20 м до ближайшего рельса.
3. Как можно ближе к железнодорожным путям.

20.3

1 Разрешается ли движение или стоянка транспортных средств на разделительной полосе?

- 1. Разрешается при интенсивном движении на проезжей части дороги.
- 2. Запрещается.
- 3. Движение транспортных средств запрещено, стоянка с 18.00 до 06.00 разрешается.

1.10

2 Дайте полный ответ. Данные дорожный знак и табличка запрещают остановку:



- 1. Транспортных средств, кроме такси, которые осуществляют посадку или высадку пассажиров (выгрузку или погрузку груза).
- 2. Транспортных средств, кроме мотоциклов и автомобилей, на которых установлен опознавательный знак «Инвалид».
- 3. Транспортных средств, кроме тех, что указаны в ответах 1 и 2.
- 4. Всех транспортных средств, в том числе и водителям - инвалидам.

2.8; прил. 1: 3.34, 7.18

3 Данный дорожный знак:



- 1. Разрешает объезд препятствия со стороны, указанной стрелкой.
- 2. Разрешает движение только в направлении, указанном стрелкой, а также разворот.
- 3. Обозначает въезд на дорогу с односторонним движением.

Прил. 1: 4.3

4 Различаются ли между собой требования по установке данных дорожных знаков?



- 1. Различаются тем, что зелёный знак устанавливается на дорогах вне населённых пунктах, а синий устанавливается в населённых пунктах.

- 2. При максимальной скорости движения до 90 км/ч устанавливается зелёный знак, а при максимальной скорости движения до 60 км/ч устанавливается синий знак.

- 3. Различаются тем, что зелёный знак устанавливается на автомагистралях, а синий знак устанавливается на обычных дорогах вне населённых пунктов.


Прил. 1: инф.-указ. знаки

5 В каком из перечисленных случаев запрещается обгон на подъёме?

- 1. В конце подъёма. Не запрещается обгон на протяжении всего подъёма.
- 2. В условиях недостаточной видимости.
- 3. Если в начале подъёма установлен дорожный знак «Обгон запрещён».
- 4. В местах и при условиях, указанных в ответах 2 и 3.
- 5. В местах и при условиях, указанных в ответах 1, 2 и 3.

Прил. 1: 3.25; 14.6 «Г»

6 Водитель приближается к участку дороги, на проезжей части которого нанесены буквы с цифрами. Что они обозначают?



- 1. Расстояние до ближайшего населённого пункта.
- 2. Номер дороги (маршрута).
- 3. Расстояние до ближайшего областного центра.


Прил. 2: 1.23

7 Перед перекрёстком включён зелёный сигнал светофора и установлен знак «Место остановки». Водитель должен:

- 1. Уступить дорогу транспортным средствам, движущимся с других направлений.
- 2. Обязательно остановиться перед знаком, а затем продолжить движение.
- 3. Продолжить движение без остановки.

Прил. 1: 5.62

8 Каким транспортным средствам запрещено движение?



- 1. Всем транспортным средствам.
- 2. Трамваю и мотоциклу.
- 3. Легковому автомобилю и мотоциклу.
- 4. Трамваю, грузовому автомобилю и мотоциклу.

8.7.3 «Б»

9 Каким образом должно быть обозначено буксируемое механическое транспортное средство при неисправности аварийной световой сигнализации?

- 1. Впереди — фонарями белого цвета, а сзади — красного цвета.
- 2. Знаком аварийной остановки, укрепленным на нём сзади.
- 3. Сигнальными флажками.

19.4; 9.11«А»

10 Разворот запрещается:

- 1. Только на железнодорожных переездах.
- 2. Только на пешеходных переходах и в туннелях.
- 3. Только на мостах, путепроводах, эстакадах и под ними.
- 4. Только при видимости дороги менее 100 м хотя бы в одном направлении.
- 5. Во всех перечисленных случаях.


10.7

11 На дорогах, имеющих две и более полос для движения в одном направлении, нерельсовые транспортные средства должны двигаться:

1. По любой полосе, если имеются не более трёх полос для движения.
2. Только по правой полосе, если имеются не более трех полос для движения. Выезд на левую полосу разрешается только для поворота налево или разворота.
3. Как можно ближе к правому краю проезжей части, кроме случаев, когда выполняется опережение, объезд или перестроение перед поворотом налево или разворотом.

11.2

12 Разрешается ли выполнить обгон в зоне действия знака, если буксируемый автомобиль движется со скоростью менее 30 км/ч?



1. Разрешается.
2. Запрещается.

Прил. 2: 1.11; прил. 1: 3.25

13 На участках дорог, обозначенных знаками «Крутой подъём» и «Крутой спуск», при наличии препятствия, уступить дорогу должен водитель:

1. Крупногабаритного транспортного средства.
2. Транспортного средства, движущегося на спуск.
3. Транспортного средства, движущегося на подъём.

13.4

14 На каких транспортных средствах устанавливается опознавательный знак «Ограничение максимальной скорости»?

1. Только на грузовых автомобилях при перевозке пассажиров, либо на тяжеловесных или крупногабаритных транспортных средств.
2. Только на автомобилях, управляемых водителями, имеющими водительский стаж до 2 лет.
3. На всех перечисленных транспортных средствах.

30.3 «И»


15 Разрешается ли буксировать легковой автомобиль на участке дороги, перед которым установлен данный дорожный знак?



1. Разрешается.
2. Запрещается.

Прил. 1:3.4


16 Синий автомобиль проедет перекрёсток:



1. Первым.
2. Вторым.

16.6; 8.3

17 Вы выехали для обгона и неожиданно увидели встречный автомобиль. Если Вы не уверены в том, что сумеете завершить обгон, Вы должны:



1. Снизить скорость и вернуться на ранее занимаемую полосу.
2. Слегка увеличить скорость и быстрее завершить обгон, подавая звуковой сигнал и включив фары.

ОБД

18 Какое из перечисленного оборудования применяется для регулирования дорожного движения? Дайте полный ответ.

1. Шумовые полосы для повышения внимания участников дорожного движения на опасных участках дорог.
2. Световое сигнальное оборудование в местах реконструкции дорог.
3. Оборудование, перечисленное в ответах 1 и 2.


8.6 «А», «Ж»

19 При каких из перечисленных условий запрещается эксплуатация транспортных средств? Дайте полный ответ.

1. Ремни безопасности не в рабочем состоянии или имеют видимые надрывы на лямках.
2. На седле мопедов нет предусмотренных конструкцией поперечных рукояток для пассажиров.
3. При условиях, указанных в ответах 1 и 2.

31.4.7 «3», «I»

20 Разрешается ли пересекать широкую сплошную линию горизонтальной дорожной разметки?



1. Запрещается в любом случае.
2. Разрешается в любом случае, с любой стороны при вынужденной остановке.
3. Разрешается пересекать в случае вынужденной остановки на автомагистрали, если этой линией обозначен край проезжей части, смежный с обочиной.

Прил. 2: 1.2

1 Должен ли водитель обязательно остановить транспортное средство, если, согласно Правилам дорожного движения, он должен выполнить требование «уступить дорогу»?

1. Остановка обязательна.
2. Остановка необязательна. Достаточно снизить скорость и тем самым не вынуждать других участников дорожного движения, имеющих преимущество, изменить своё направление движения или скорость.

1.10


2 Синий автомобиль проедет перекрёсток:



1. Вторым.
2. Третьим.
3. Последним.
4. Первым.

3.2;
16.11; 16.14

3 Данный дорожный знак обозначает:



1. Конец дополнительной полосы на подъеме или полосы разгона.
2. Дорогу, не имеющую сквозного проезда.
3. Направление движения к объекту в населенном пункте.

Прил. 1: 5.29.1


4 Действие какого дорожного знака не распространяется на маршрутные транспортные средства?



- 1
- 2
- 3
- 4
- 5

Прил. 1: 3.34

5 Водитель легкового автомобиля приближается к участку дороги, на котором установлен данный дорожный знак. Впереди движется транспортное средство с более низкой скоростью. Разрешается ли водителю легкового автомобиля выполнить обгон?



1. Разрешается в любом случае.
2. Разрешается, если транспортное средство впереди движется со скоростью до 30 км/ч.
3. Обгон запрещён в любом случае.
4. Разрешается, если обгон будет завершён не менее, чем за 50 м до места установки знака.
5. Разрешается при выполнении условий, изложенных в ответах 1 или 2.

Прил. 1: 1.31.3;
14.6 «Б»

6 В каком из перечисленных случаев разрешается пересекать сплошную линию дорожной разметки, разделяющую транспортные потоки противоположных направлений?



1. Если с левой стороны от неё имеется прерывистая линия.
2. Если с правой стороны от неё имеется прерывистая линия.

Прил. 2: 1.11

7 Разрешаются ли остановка и стоянка в местах, где расстояние между остановившимся транспортным средством и противоположным краем проезжей части менее трёх метров?

1. Разрешаются на дорогах с неинтенсивным движением.
2. Разрешаются только в светлое время суток, если водитель не покидает своё место в автомобиле.
3. Запрещаются.

15.9 «Д»

8 Дорожные знаки должны:

1. Располагаться не выше 6 м над уровнем проезжей части.
2. Быть видимыми на расстоянии не менее 100 м в направлении движения.
3. Быть видимыми на расстоянии не более 50 м в направлении движения, если они частично закрыты какими-либо помехами.
4. Располагаться, как указано в ответах 1 и 2.

8.2¹

9 Допускается ли переключение света фар и применение звукового сигнала для привлечения внимания обгоняемого водителя на дороге вне населённого пункта?

1. Допускается в условиях, когда это не может привести к ослеплению других водителей, в том числе через зеркало заднего вида.
2. Не допускается.

9.6; 9.7

10 Водители каких транспортных средств нарушают правила въезда на дорогу при наличии на ней полосы разгона?



1. Оба водителя.
2. Водитель грузового автомобиля.
3. Водитель легкового автомобиля.
4. Оба водителя выезжают правильно.

10.8

11 По каким полосам разрешено движение легковых автомобилей и мотоциклов в населённых пунктах при интенсивном движении на четырёхполосной проезжей части в данном направлении?

1. Только по крайней правой полосе.
2. По любым полосам.
3. По любой полосе, кроме крайней левой полосы.

11.6

12 С какой максимальной скоростью разрешается движение легкового автомобиля на данном участке дороги? Дайте полный ответ.



1. 110 км/ч.
2. 130 км/ч – если эта дорога обозначена дорожным знаком «Дорога для автомобилей».
3. 90 км/ч.

4. Со скоростью, обозначенной в ответах 1 и 2.

12.6 «г»

13 Водитель какого транспортного средства должен уступить дорогу при встречном разезде на участках дорог, обозначенных знаком «Крутой спуск»?

1. Водитель легкового автомобиля — водителю автобуса.
2. Водитель транспортного средства, движущегося на подъём.
3. Водитель транспортного средства, движущегося на спуск.


13.4

14 Дайте полный ответ. В соответствии с Правилами дорожного движения опознавательный знак «Автопоезд» устанавливается:

1. На грузовых автомобилях с прицепами.
2. На колёсных тракторах класса 1,4 т и выше с прицепами.
3. На сочленённых автобусах и троллейбусах.
4. На транспортных средствах, указанных в ответах 1 и 2.
5. На транспортных средствах, указанных в ответах 1, 2, 3.

30.3 «А»


15 Водитель какого автомобиля не нарушил правил стоянки?



1. Оба нарушили.
2. Никто не нарушил.
3. Красного.
4. Жёлтого.

15.3;
15.9 «Г»


16 Должен ли водитель остановиться перед стоп-линией в данном случае?



1. Должен обязательно остановиться.
2. Должен проехать перекрёсток без остановки.
3. Должен обязательно остановиться в том случае, если на пересекаемой проезжей части появится транспортное средство, которому водитель должен уступить дорогу.

16.1;
прил. 1: 2.2;
прил. 2: 1.12.

17 Разрешается ли водителю легкового автомобиля остановиться для высадки пассажиров на полосе, обозначенной данным дорожным знаком?



1. Запрещается.
2. Разрешается.

17.2

18 Должны ли пешеходы, которые не успели закончить переход проезжей части на нерегулируемом пешеходном переходе, останавливаться на линии, разделяющей транспортные потоки?

1. Не должны останавливаться, так как на нерегулируемом пешеходном переходе пешеходы всегда имеют преимущество.
2. Должны остановиться, продолжить движение следует лишь после того, как освободится проезжая часть.

18.1;
4.16 «А»

19 Если эффективность торможения рабочей тормозной системы транспортных средств не отвечает требованиям Правил дорожного движения, то Вы должны:

1. Продолжить намеченную поездку, при этом в светлое время суток включить ближний свет.
2. Устранить неисправность на месте, а если это невозможно, — двигаться как можно более коротким путём к месту стоянки или ремонта, соблюдая меры предосторожности.
3. Прекратить дальнейшее движение.

31.5

20 Вы поворачиваете налево на нерегулируемом перекрёстке. Каким транспортным средствам следует уступить дорогу?

1. На любом перекрёстке — транспортным средствам, приближающимся справа, а также движущимся во встречном направлении прямо и направо.
2. Только на равнозначном перекрёстке — движущимся со встречного направления прямо или поворачивающим направо, а также приближающимся справа.
3. Транспортным средствам, указанным в ответах 1 и 2.

16.13

1 По определению Правил дорожного движения, какая из этих дорог может считаться главной?



1. Дорога на рисунке 1.
2. Дороги на рисунке 2 и 3.
3. Дорога на рисунке 2.
4. Дороги, изображённые на всех рисунках, не могут считаться главными.

1.10

2 Как должен поступить водитель транспортного средства, если работник милиции требует от него остановиться?

1. Остановиться с соблюдением требований настоящих Правил, а также предъявить для проверки документы, указанные в п.2.1 Правил дорожного движения.
2. Остановиться с соблюдением требований настоящих Правил, а также передать для проверки документы, указанные в п.2.1 Правил дорожного движения.
3. Остановиться необязательно, на усмотрение водителя, в зависимости от конкретных обстоятельств.

2.4 «а»

3 Данный дорожный знак с табличкой предупреждают водителя о том, что:



1. Через 100 м начинается участок дороги, на котором возможно появление диких животных.
2. Впереди начинается участок дороги протяжённостью в 100 м, на котором возможно появление диких животных.

Прил. 1: 1.36, 7.2.1

4 Что означает табличка под дорожным знаком?



1. Расстояние от первого поворота до начала второго поворота.
2. Протяжённость участка дороги с опасными поворотами.
3. Расстояние от знака до начала первого поворота.

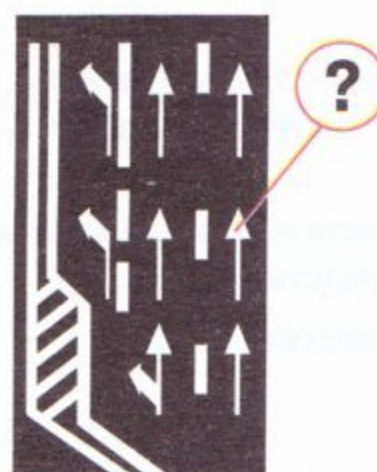
Прил. 1: 7.2.1

5 Есть ли среди данных дорожных знаков такой, который бы не распространял своё действие на маршрутные транспортные средства?

1. Только знак
2. Только знак
3. Только знак
4. Только знак
5. Своё действие не распространяют на маршрутные транспортные средства все перечисленные знаки.

Прил. 1: 3.1, 3.2, 3.34, 4.1

6 Указательные стрелы, нанесённые на проезжую часть перед перекрёстком:



1. Запрещают движение в направлениях, указанных стрелами.
2. Помогают водителю своевременно найти соответствующую полосу и информируют об обязательных направлениях движения.
3. Информировать о необходимости немедленно перестроиться на другую полосу движения.


Прил. 2: 1.18

7 С какой максимальной скоростью разрешается движение грузового автомобиля с разрешённой максимальной массой не более 3,5 т вне населённых пунктов на автомобильной дороге с отдельными проезжими частями, разделёнными одна от другой разделительной полосой?

1. 130 км/ч
2. 120 км/ч
3. 110 км/ч
4. 100 км/ч
5. 90 км/ч

12.6 «Г»

8 Движение запрещено:



1. Легковому и грузовому автомобилям, мотоциклу.
2. Трамваю и легковому автомобилю.
3. Грузовому автомобилю и мотоциклу.
4. Всем транспортным средствам.

8.8 «А»

9 Учебная езда на автомагистралях и на дорогах для автомобилей:

1. Разрешена в любом случае.
2. Разрешена со скоростью не более 60 км/ч при достаточных навыках управления у обучаемого в присутствии специалиста по подготовке водителей.
3. Разрешена со скоростью не более 70 км/ч.
4. Разрешена, если механическое транспортное средство, на котором проводится обучение, обозначено опознавательными знаками.
5. Запрещена.

24.9

10 Преимущество в движении имеет:



1. Синий автомобиль, так как красный изменяет направление движения влево.
2. Синий автомобиль, так как при взаимном перестроении он находится слева.
3. Красный автомобиль, так как при взаимном перестроении он находится справа.


10.3

11 Разрешается ли перевозить пассажиров в буксируемом автомобиле при буксировке на гибкой или жёсткой сцепке?

1. Разрешается в легковом автомобиле.
2. Разрешается в кузове грузового автомобиля при буксировке на жёсткой сцепке.
3. Разрешается в автобусе.

23.9

12 С какой максимальной скоростью разрешается движение мотоциклов на участке дороги, обозначенном данным дорожным знаком?



1. 60 км/ч.
2. 70 км/ч.
3. 80 км/ч.
4. 90 км/ч.
5. 100 км/ч.

12.6 «А»

13 Какую дистанцию на дорогах вне населённых пунктов должны соблюдать водители транспортных средств, скорость движения которых не превышает 40 км/ч?

1. Дистанция должна быть такая, чтобы транспортные средства, осуществляющие обгон, имели возможность беспрепятственно вернуться на ранее занимаемую полосу движения. Это требование не действует, если водитель тихоходного транспортного средства готовится к выполнению обгона или объезда и подаёт предупреждающий сигнал.
2. Дистанция должна быть не менее 50 м.
3. Дистанция должна быть не менее 100 м.

13.2

14 В каком из перечисленных случаев запрещается обгон на подъёме? Дайте полный ответ.

1. Если в начале подъёма установлен знак «Обгон запрещён».
2. В конце подъёма. Не запрещается обгон на протяжении всего подъёма.
3. В условиях недостаточной видимости.
4. В случаях, указанных в ответах 1 и 3.
5. В случаях, указанных в ответах 1, 2 и 3.


14.6 «Г»;
прил. 1: 3.25

15 Дайте полный ответ. В соответствии с Правилами дорожного движения запрещается эксплуатация транспортных средств, при отсутствии:

1. Сигнального жилета оранжевого цвета, соответствующего госстандарту, на котором отсутствуют какие либо надписи и опознавательные знаки.
2. Проблесковых маячков оранжевого цвета на тяжеловесных и крупногабаритных транспортных средствах.
3. Отсутствуют элементы, указанные в ответах 1 и 2.

31.4.7 «Є»

16 Транспортные средства проедут перекрёсток в следующем порядке:



1. Автобус, автомобиль, трамвай.
2. Автобус, трамвай, автомобиль.
3. Трамвай, автомобиль и автобус.

16.11

17 Как пользоваться тормозами на скользкой дороге?

1. Тормозить резкими, прерывистыми нажатиями на педаль тормоза.
2. Выключить сцепление и плавно тормозить.
3. Плавно тормозить, не выключая сцепления, и резко не поворачивать рулевое колесо.

ОБД

18 Как должен поступить водитель транспортного средства, приближающегося к пешеходам, которые вынужденно находятся на проезжей части?

1. объехать пешеходов с левой стороны.
2. Соблюдать безопасный интервал, проезжая мимо пешеходов, которые не успели закончить переход проезжей части.
3. Остановиться перед пешеходами.

18.3

19 Данный дорожный знак запрещает движение:



1. Всех механических транспортных средств, за исключением маршрутных транспортных средств, обслуживающих предприятия, находящиеся в обозначенной зоне, а также обслуживающих граждан или принадлежащих гражданам, проживающим или работающим в обозначенной зоне.
2. Легковых автомобилей.
3. Всех механических транспортных средств, за исключением мотоциклов без бокового прицепа.

Прил. 1: 3.2

20 Транспортные средства проедут перекрёсток в следующем порядке:



1. Синий, зелёный, красный.
2. Синий, красный, зелёный.
3. Красный, зелёный, синий.

16.12

1 Разрешается ли обучаемому не пристёгиваться ремнями безопасности во время учебной езды?

1. Разрешается, если это затрудняет управление автомобилем.
2. Разрешается, если разрешит обучающий.
3. Разрешается.
4. Запрещается.

2.3 «В»

2 Транспортное средство должно быть временно зарегистрировано в ГАИ, если оно находится в международном движении на территории Украины более:

1. Двух месяцев.
2. Одного месяца.
3. В обоих случаях.

29.2

3 Какая информация заложена в данном дорожном знаке?



1. Только обозначает дорогу или отделённую проезжую часть, по которой движение транспортных средств по всей ширине осуществляется только в одном направлении.
2. Только обозначает дорогу, по которой движение задним ходом запрещено, но если к объекту невозможно подъехать иным способом и будут соблюдены правила безопасности, то движение задним ходом разрешается.
3. Указывает разрешённое направление движения по полосе.
4. Информация заложена в ответах 1 и 2.

4 Какой дорожный знак обязывает уступить дорогу транспортным средствам, движущимся по пересекаемой дороге?



1



2



3



4



5

Прил. 1: 2.1


5 Данная табличка с дорожным знаком:



1. Запрещает движение всех транспортных средств в условиях недостаточной видимости.
2. Запрещает движение всех транспортных средств, кроме субботних, воскресных и праздничных дней.
3. Запрещает движение всех транспортных средств в субботние, воскресные и праздничные дни.

Прил. 1: 3.1, 7.4.1

6 Если велосипедная дорожка пересекает дорогу вне перекрёстка велосипедисты:



1. Обязаны уступить дорогу транспортным средствам, движущимся по дороге.
2. Обязаны уступить дорогу транспортным средствам, приближающимся справа.

3. Имеют преимущество в движении.

6.5


7 На какие транспортные средства действие данного дорожного знака не распространяется?



1. Маршрутные транспортные средства.
2. Автомобиль, управляемый инвалидом, который обозначен опознавательным знаком «Инвалид».
3. Такси с включённым таксометром.
4. Транспортные средства, указанные в ответах 2 и 3.
5. Маршрутное такси.

Прил. 1: 3.35; 2.8

8 Что означает зелёный мигающий сигнал светофора?



1. Разрешает движение, но информирует о том, что вскоре будет включён сигнал, запрещающий движение.
2. Светофор неисправен, следует выполнять требования дорожных знаков приоритета.
3. Запрещает движение, так как через три секунды будет включён красный сигнал.

8.7.3 «В»

9 Когда и где должны быть включены дневные ходовые огни на всех механических транспортных средствах? Дайте полный ответ.

1. С 1 октября по 1 мая на всех транспортных средствах.
2. С 1 декабря по 1 мая на всех механических транспортных средствах вне населённых пунктов.
3. С 1 октября по 1 мая на всех механических транспортных средствах вне населённых пунктов, а в случае отсутствия дневных ходовых огней в конструкции транспортного средства – ближний свет фар.

9.8

10 Из какой полосы разрешается движение в прямом направлении на ближайшем перекрёстке?



1. Только из 2,3 и 4, т.к. из 1 и 5 разрешается поворот только направо и налево.
2. Из всех пяти полос.

10.4

11 Разрешается ли водителю транспортного средства выехать на трамвайный путь встречного направления?

1. Разрешается только водителю легкового автомобиля.
2. Разрешается водителям всех транспортных средств, если впереди по ходу движения образовался затор.
3. Запрещается во всех случаях.

11.9

12 Как должен поступить водитель красного автомобиля в ситуации, показанной на рисунке?



1. Включить указатель левого поворота и освободить правый ряд.
2. Дождаться разрешающего сигнала светофора и проехать прямо.
3. Включить указатель правого поворота и повернуть направо.

16.10

13 Дайте полный ответ. Чтобы не создавать опасности для дорожного движения, безопасный интервал необходимо выбирать:

1. Во время стоянки на площадке, обозначенной табличкой «Способ постановки транспортного средства на стоянку».
2. При обгоне, опережении, объезде препятствия.
3. При встречном разъезде.
4. В случаях, перечисленных в ответах 2 и 3.

13.3

14 Автомобили проедут перекрёсток в следующем порядке:



1. Красный, синий, зелёный.
2. Синий, зелёный, красный.
3. Красный въедет на перекрёсток и остановится, чтобы уступить дорогу синему; зелёный, синий; красный закончит разворот.

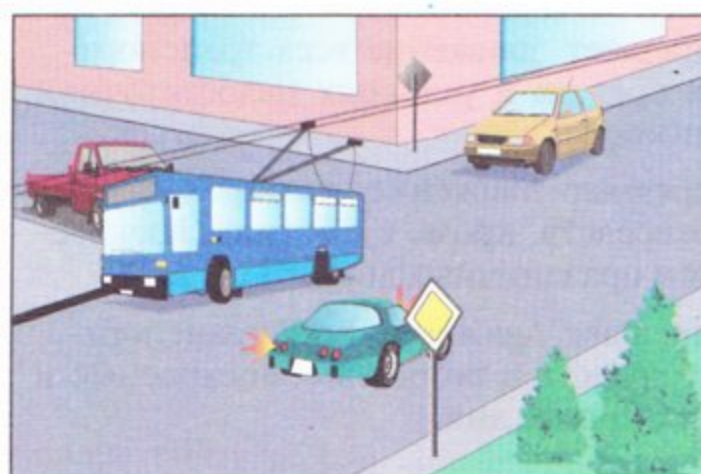
16.12; 16.13

15 В каких из перечисленных местах запрещается остановка транспортных средств?

1. Ближе 15 м от края пересекаемой проезжей части.
2. Под эстакадами, мостами и путепроводами.
3. Возле универсамов и других крупных магазинов.
4. Возле железнодорожных вокзалов.
5. Во всех указанных местах.

15.9 «В»

16 Как должен поступить водитель, если на перекрёстке, на котором он имеет преимущество в движении, образовался затор?



1. Въехать на перекрёсток, соблюдая меры безопасности.
2. Запрещается въезжать на перекрёсток.
3. Въехать на перекрёсток, подавая прерывистый звуковой сигнал.


16.4

17 Во сколько раз увеличивается тормозной путь на асфальтированном покрытии при увеличении скорости в два раза?

1. Величина тормозного пути не зависит от скорости движения.
2. В два раза.
3. В три раза.
4. В четыре раза.

ОБД

18 В каком случае водитель мотоцикла повернул налево правильно?



1. При данном жесте регулировщика повернул налево безостановочно.
2. Выехал на перекрёсток, пропустил грузовой автомобиль, закончил поворот.

8.8 «Б»

19 Какие внешние световые приборы должны быть включены на транспортном средстве при вынужденной остановке на неосвещённых участках дорог в тёмное время суток и в условиях недостаточной видимости?

1. Задние габаритные фонари.
2. Ближний свет фар и освещение номерного знака.
3. Габаритные или стояночные фонари и аварийная световая сигнализация (разрешается включить ближний свет фар или противотуманные фары и задние противотуманные фонари).

19.4

20 На железнодорожном переезде сигналом общей тревоги являются серии звуковых сигналов транспортного средства, состоящие из:

1. Трёх длинных и одного короткого звуковых сигналов.
2. Одного длинного и двух коротких звуковых сигналов.
3. Одного длинного и трёх коротких звуковых сигналов.

20.9

1 Разрешается ли установка на транспортных средствах специальных звуковых сигналов?

1. Разрешается, если звук не резкий.
2. Разрешается по согласованию с ГАИ МВД.
3. Разрешается, если они используются только при выполнении неотложного служебного задания.

32.1 «Е»

2 По определению Правил дорожного движения «Автопоезд» (транспортный состав) это:

1. Транспортное средство, предназначенное для перевозки грузов.
2. Механическое транспортное средство, соединенное с одним или несколькими прицепами с помощью сцепного устройства.
3. Механическое транспортное средство, предназначенное для перевозки исключительно тяжеловесных и крупногабаритных грузов.

1.10

3 Каким знаком обозначаются только газовые заправочные станции?



1



2



3

Прил. 1:6.7.2

4 Какой дорожный знак предупреждает о приближении к опасному повороту дороги?



1



2



3



4



5

Прил. 1: 1.2

5 С каким дорожным знаком устанавливается данная табличка?



1



2



3



4



5



Прил. 1:1.39

6 Какая из данных линий дорожной разметки используется для обозначения границ полос движения, на которых осуществляется реверсивное регулирование?

1



2



3



4



1. Линии 2 и 3.

2. Линии 3 и 4.


3. Линия 1.

4. Линия 2.

5. Линия 3.

Прил. 2: 1.9

7 Разрешается ли буксировка механических транспортных средств, если на дороге установлен данный дорожный знак?



1. Разрешается на любой сцепке.
2. Разрешается только легковым автомобилям.
3. Разрешается на жёсткой сцепке.
4. Запрещается.

Прил. 1: 3.4

8 Водителю рекомендуется:

1. Во время вынужденной остановки на дороге в тёмное время суток и в условиях с недостаточной видимости находиться на проезжей части в сигнальном жилете.
2. В случае постоянной эксплуатации транспортного средства на дорогах, на которых проезжая часть скользкая, использовать шины, которые соответствуют состоянию проезжей части.
3. Выполнить рекомендации, указанные в ответах 1 или 2.

31.4.5 «прим.»

9 Аварийная световая сигнализация на буксируемом механическом транспортном средстве должна быть включена:

1. В любое время суток.
2. Только в тёмное время суток.
3. Только в условиях недостаточной видимости.

9.9 «Г»

10 Из какой полосы разрешается движение в прямом направлении на ближайшем перекрёстке?



1. Только из 2,3 и 4, т.к. из 1 и 5 разрешается поворот только направо и налево.
2. Из всех пяти полос.

10.4

11 С каким автомобилем разрешается эксплуатация прицепа?

1. С любым автомобилем, имеющим сцепное устройство.
2. При условии соответствия прицепа автомобилю и выполнения требования по их эксплуатации.
3. С автомобилем, грузоподъёмность которого соответствует грузоподъёмности прицепа.

23.11

12 Разрешается ли разворот в технологических разрывах разделительной полосы на участках дорог, обозначенных данным дорожным знаком?



1. Разрешается всем транспортным средствам.
2. Запрещается.
3. Разрешается только транспортным средствам с разрешённой максимальной массой до 3,5 т.

27.2 «Г»


13 Водитель какого транспортного средства должен уступить дорогу?



1. Водитель зеленого автомобиля, если он выполняет служебное задание
2. Водитель встречного автомобиля.
3. Водитель зеленого автомобиля.

13.4

14 Разрешается ли обгон в данном месте?



1. Разрешается.
2. Разрешается на дорогах вне населённых пунктов.
3. Запрещается.
4. Запрещается только на дорогах вне населённых пунктов.

14.6 «Г»

15 С какой максимальной скоростью разрешается движение легкового автомобиля вне населённых пунктов на автомобильной дороге с отдельными проезжими частями, разделёнными одна от другой разделительной полосой?

1. 130 км/ч
2. 120 км/ч
3. 110 км/ч
4. 100 км/ч
5. 90 км/ч

12.6 «Г»

16 Автомобили проедут перекрёсток в следующем порядке:



1. Красный, синий, зелёный.
2. Красный и зелёный, синий.
3. Зелёный, синий с красным.

16.11

17 Скорость движения на таком повороте оказалась большой. Как должен поступить водитель в целях безопасности дорожного движения?



1. Снизить скорость движения и при необходимости притормозить.
2. Не снижая скорости, выехать на полосу встречного движения, если она свободна от других транспортных средств.
3. Выполняя неотложное служебное задание, разрешается выехать на полосу встречного движения, не снижая скорость.

ОБД

18 Каким транспортным средствам запрещено движение?



1. Мотоциклу, легковому автомобилю и грузовому автомобилю.
2. Легковому автомобилю и мотоциклу.
3. Грузовому автомобилю.


8.8 «Б»

19 По определению Правил дорожного движения термин «Газон» это:

1. Определённый участок однородной территории с искусственным дерновым покрытием.
2. Элемент дороги, предназначенный для кратковременной стоянки автомобилей.
3. Элемент дороги, на котором разрешается стоянка автомобилей с 20-00 до 6-00 час.
4. Элемент дороги, предназначенный для зелёных насаждений, на котором разрешается стоянка автомобилей с 20-00 до 6-00 час.

1.10

20 Автомобили проедут перекрёсток в следующем порядке:



1. Жёлтый, зелёный, синий.
2. Синий, зелёный, жёлтый.
3. Синий, жёлтый, зелёный.

16.12

1 «Безопасная скорость», по определению Правил дорожного движения, это:

1. Скорость, при которой водитель имеет возможность безопасно управлять транспортным средством и контролировать его движение в конкретных дорожных условиях.
2. Только максимальная скорость, установленная Правилами дорожного движения для конкретного транспортного средства на определенном участке дороги.
3. Скорость, указанная в ответах 1 и 2.


1.10

2 Может ли владелец транспортного средства, передавать транспортное средство в пользование другому лицу? Дайте полный ответ.

1. Может, если это лицо имеет удостоверение водителя на право управления транспортным средством соответствующей категории.
2. Может, если владелец передал этому лицу регистрационный документ на данное транспортное средство.
3. Может, если владелец выдал этому лицу доверенность, заверенную нотариусом.
4. Может при выполнении требований 1 и 2.
5. Может при выполнении требований 1, 2 или 3

2.2


3 Какая информация заложена в данном дорожном знаке?



1. Указывает направление движения к указанным на знаке объектам.
2. Указывает направление движения транспортных средств, движущихся по установленным маршрутам.
3. Указывает направление движения по полосам.

Прил. 1: 5.51

4 Какой из указанных знаков используется для обозначения мест и площадок для стоянки транспортных средств?



1 2 3

Прил. 1: 5.38

5 Данный дорожный знак разрешает движение автомобиля:



1. В направлениях А и В.
2. В направлениях Б и В.
3. Во всех направлениях.

Прил. 1: 5.26

6 Разрешается ли повернуть во двор на данном участке дороги?



1. Запрещается.
2. Разрешается.

Прил. 2: 1.2

7 Для чего применяется данный дорожный знак?



1. Знак применяется для указания на то, что дорожка, в начале которой он установлен, предназначена для всадников.
2. При наличии данного знака всадник имеет право двигаться не только по дорожке для всадников, но и по всей ширине проезжей части.
3. При наличии данного знака всадник имеет право двигаться только по дорожке для всадников или по обочине, имея преимущество перед пешеходами.

Прил. 1: 4.15

8 Водитель, приближаясь к перекрёстку двух асфальтированных дорог, перед которым не установлены знаки приоритета:

1. Имеет преимущество, так как приближается к перекрёстку быстрее других транспортных средств.
2. Имеет преимущество, так как водитель транспортного средства, приближающегося слева, должен уступить ему дорогу.
3. Имеет преимущество в любом случае перед всеми механическими транспортными средствами, движущимися на пересекаемой дороге.

16.12

9 Подача звукового сигнала в населённых пунктах разрешается:

1. Для предотвращения дорожно-транспортных происшествий.
2. При движении в условиях недостаточной видимости.
3. При совершении обгона.
4. Во всех перечисленных случаях.

9.5

10 Дайте полный ответ. Запрещается обучение вождению транспортных средств:

1. На дорогах для автомобилей.
2. В жилой зоне и на автомагистралях.
3. Дорогах, указанных в ответах 1 и 2.
4. На дорогах с трамвайными путями.
5. На всех вышеперечисленных дорогах.

24.9

11 На транспортном средстве с опознавательным знаком «Дети» во время посадки (высадки) в (из) него пассажиров должны быть включены:

1. Проблесковые маячки оранжевого цвета.
2. Аварийная световая сигнализация.
3. Противотуманные фары и задние противотуманные фонари.
4. Приборы, указанные в ответах 1 или 2.

21.3

12 Дайте полный ответ. На автомагистралях запрещается:

1. Только учебная езда.
2. Только движение задним ходом.
3. Только опережение с правой стороны.
4. Действия, указанные в ответах 1 и 2.
5. Действия, указанные в ответах 1, 2, 3.

27.2 «Г», «Д»


13 Движение запрещено:



1. Мотоциклу.
2. Автомобилю и трамваю.
3. Всем транспортным средствам.

8.8 «А»

14 На каком наименьшем расстоянии перед железнодорожным переездом запрещается обгон?



1. 200 м.
2. 150 м.
3. 100 м.
4. 50 м.


14.6 «Б»

15 Дайте полный ответ. На проезжей части запрещается установка предметов, которые препятствуют проезду или парковке транспортных средств, за исключением случаев:

1. Ограничения или запрета движения транспортных средств и пешеходов в случаях, предусмотренных законодательством.
2. Выполнение дорожных работ или работ, связанных с занятием проезжей части.
3. Оформление дорожно-транспортного происшествия.
4. В случаях, указанных в ответах 2 и 3.
5. В случаях, указанных в ответах 1, 2 и 3.

15.15

16 Автомобили проедут перекрёсток в следующем порядке:



1. Синий, красный, зелёный.
2. Красный, зелёный, синий.
3. Красный, синий, зелёный.

16.12

17 Какие опасные последствия могут возникнуть при торможении автомобиля с различным износом шин правых и левых колес?

1. Отслоение протектора.
2. Занос с возможным опрокидыванием автомобиля.
3. Перегрев тормозных механизмов.

ОБД

18 Разрешается ли эксплуатация автомобиля, у которого неисправна система выпуска отработанных газов?

1. Не разрешается.
2. Разрешается только мотоциклов без бокового прицепа.
3. Запрещается только при выделении из глушителя большого количества дыма.

31.4.6 «В»


19 Какая информация заложена в данном дорожном знаке?



1. Движение легковых автомобилей не рекомендуется.
2. Движение легковых автомобилей и мотоциклов запрещено.
3. Конец автомагистрали.
4. Конец дороги для автомобилей.

Прил. 1: 5.4


20 В каком порядке проедут перекрёсток транспортные средства?



1. Жёлтый, зелёный, красный, синий.
2. Красный, зелёный, синий, жёлтый.
3. Красный, синий, жёлтый, зелёный.

16.11; 16.13

1 Каким транспортным средствам разрешено движение?



1. Мотоциклу, легковому и грузовому автомобилям.
2. Легковому автомобилю и мотоциклу.
3. Легковому и грузовому автомобилям.

8.8 «Б»

2 Кто из перечисленных лиц, согласно термина «регулировщик», приравнивается к лицам, выполняющим регулирование дорожного движения? Дайте полный ответ.

1. Работник милиции, выполняющий регулирование дорожного движения.
2. Дежурные на железнодорожном переезде и паромной переправе.
3. Работники дорожно-эксплуатационной службы.
4. Лица, указанные в ответах 1, 2, 3.
5. Лица, указанные в ответах 1 и 3.


1.10

3 Какой из указанных знаков информирует водителей о переходе дороги с усовершенствованным покрытием в гравийную или грунтовую дорогу?




Прил. 1:1.40

4 Какой дорожный знак предупреждает о приближении к перекрестку равнозначных дорог?



Прил. 1: 1.21

5 Третьим проедет перекресток:



1. Красный автомобиль.
2. Зелёный автомобиль.
3. Синий автомобиль.
4. Жёлтый автомобиль.

16.11; 16.13

6 Разрешается ли пересекать прерывистую двойную линию дорожной разметки при включении сигналов зелёного цвета в реверсивных светофорах?



1. Разрешается, если она находится справа от водителя.
2. Разрешается пересекать с любой стороны, если она разделяет полосы, по которым движение разрешено в одном направлении.
3. Разрешается, если она находится слева от водителя.

Прил. 2: 1.9

7 С какой скоростью разрешается движение легкового автомобиля в населённом пункте, обозначенном данным дорожным знаком?



1. На всех дорогах данного населённого пункта — не более 60 км/ч.
2. На всех дорогах данного населённого пункта — не более 80 км/ч.
3. В населённом пункте, на дороге, на которой установлен данный знак, — не более 90 км/ч, а на всех остальных дорогах этого же населённого пункта — не более 60 км/ч.
4. На всех дорогах данного населённого пункта — не более 90 км/ч.

Прил. 1: 5.47; 12.6 «Г»

8 Дайте полный ответ. Дорожная разметка должна быть видна участникам дорожного движения:

1. Как в светлое, так и в тёмное время суток на расстоянии, которое обеспечивает безопасность движения.
2. На снежных или грязных участках дорог, на которых есть трудности для видимости, на расстоянии не менее 100 м.
3. На расстояниях, указанных в ответах 1 и 2.

8.5¹

9 Каким образом должно быть обозначено буксируемое механическое транспортное средство при неисправности аварийной световой сигнализации?

1. Сигнальными флажками.
2. Знаком аварийной остановки, укреплённым на нём сзади или мигающий красный фонарь.
3. Впереди — фонарями белого цвета, а сзади — красного цвета.


9.11 «А»; 19.4

10 При каких перечисленных условиях разрешается учебная езда на автомобиле? Дайте полный ответ.

1. Разрешается только в присутствии специалиста по подготовке водителей при наличии опознавательного знака «Учебное транспортное средство».
2. Разрешается только в присутствии специалиста по подготовке водителей при достаточных начальных навыках у обучаемого.
3. Разрешается без присутствия специалиста по подготовке водителей, но при наличии опознавательного знака «Учебное транспортное средство».
4. При условиях, перечисленных в ответах 1, 2, 3.
5. При условиях, перечисленных в ответах 1, 2.

24.5; 24.8

11 На дорогах, имеющих две и более полос для движения в одном направлении, выезд с правых полос:



1. Разрешается в любом случае.
2. Разрешается, если они заняты.
3. Разрешается для выполнения обгона.

11.5; 14.6 «Е»

12 С какой максимальной скоростью разрешается осуществить обгон?

1. Со скоростью, превышающей скорость обгоняемого транспортного средства.
2. С любой скоростью, обеспечивающей безопасность дорожного движения.
3. Со скоростью, которая не превышает максимальную, установленную для данного участка дороги Правилами дорожного движения.

12.1

13 Данная разметка обозначает:



1. Островки безопасности движения.
2. Островки в местах слияния транспортных потоков.
3. Островки в местах разделения транспортных потоков.
4. Островки в местах разделения или слияния транспортных потоков.

Прил.2:1.16.4


14 Данным опознавательным знаком обозначаются транспортные средства:



1. Управляемые инвалидами.
2. Управляемые лицами, которые обучаются вождению.
3. Управляемые глухими или глухонемыми водителями.

30.3 «Г»


15 Разрешаются ли остановка и стоянка на мостах или в туннелях?



1. Запрещаются в любом случае.
2. Запрещаются, только если остановившееся транспортное средство делает невозможным движение других транспортных средств.
3. Разрешаются.

15.9 «В»

16 Водитель какого транспортного средства имеет преимущество?



1. Велосипеда.
2. Легкового автомобиля.

16.11

17 Как влияет изношенный протектор шин на коэффициент сцепления колеса с дорогой?

1. Коэффициент сцепления повышается.
2. Коэффициент сцепления не изменяется.
3. Коэффициент сцепления понижается.

ОБД

18 Какие транспортные средства обязательно должны иметь зеркала заднего вида?

1. Только маршрутные транспортные средства.
2. Только механические транспортные средства.
3. Все транспортные средства, конструкция которых предусматривает наличие зеркал заднего вида.
4. Все механические транспортные средства, конструкция которых предусматривает наличие зеркал заднего вида.

31.4.7 «А»

19 Данная табличка под дорожным знаком «Место для стоянки» информирует:

300 м

1. О расстоянии от знака до места стоянки.
2. О протяжённости площадки, отведённой для стоянки.

Прил. 1: 7.1.1

20 При движении в освещённом тоннеле должны ли быть включены на транспортном средстве световые устройства?



1. Не должны, так как включено освещение тоннеля.
2. Должны в любом случае.
3. Световые устройства включаются на усмотрение водителя.

19.1

1 Что означает, по Правилам дорожного движения, термин «остановка»?

1. Только прекращение движения транспортного средства для посадки (высадки) пассажиров либо погрузки (разгрузки) груза, а также для выполнения требований Правил.
2. Прекращение движения транспортного средства на время до 5 минут или более, если это необходимо для посадки (высадки) пассажиров либо погрузки (разгрузки) груза, выполнения требований Правил.
3. Оба ответа дополняют друг друга и поэтому верны.

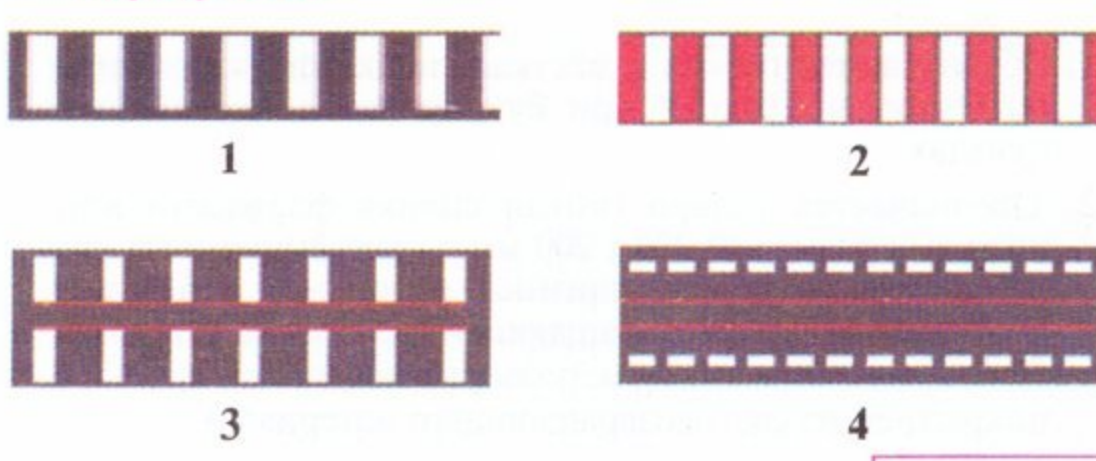
1.10

2 Может ли владелец транспортного средства, а также лицо, использующее такое транспортное средство на законных основаниях, передавать управление транспортным средством другому лицу?

1. Не может.
2. Может, если это лицо имеет при себе удостоверение водителя на право управления транспортным средством соответствующей категории, а также регистрационный документ на это транспортное средство.
3. Может в любом случае.

2.2

3 Какая из перечисленных разметок обозначает место перехода слепых пешеходов на нерегулируемом перекрёстке?



Прил.2:1.14.4

4 Какой из данных дорожных знаков устанавливается непосредственно перед опасным участком дороги?



Прил. 1: 1.29


5 Разрешается ли повернуть направо на данном перекрёстке?



1. Запрещается. Разрешается только водителям легковых автомобилей, выполняющим неотложное служебное задание.
2. Запрещается. Разрешается только водителям маршрутных транспортных средств.
3. Запрещается в любом случае.

Прил. 1: 4.5

6 Где должен водитель остановить транспортное средство при наличии данной дорожной разметки?



1. Не ближе 10 м перед данной разметкой.
2. Не ближе 5 м перед данной разметкой.
3. Перед данной разметкой.

Прил. 2: 1.13

7 Дайте полный ответ. В соответствии с Правилами дорожного движения «Регулировщик» это:

1. Работник милиции, выполняющий регулирование дорожного движения в форменной одежде повышенной видимости с элементами из световозвращающего материала с помощью жезла, свистка.
2. Работник военной инспекции безопасности дорожного движения.
3. Работник дорожно-эксплуатационной службы.
4. Дежурный на железнодорожном переезде, паромной переправе.
5. Все вышеперечисленные работники.

1.10

8 Как должен поступить водитель, если регулировщик на перекрестке поднял руку вверх, а остановить транспортное средство в месте, предусмотренном Правилами дорожного движения, без экстренного торможения невозможно?

1. Применить экстренное торможение и остановиться обязательно в любом месте.
2. Продолжить движение через перекресток при условии обеспечения безопасности дорожного движения.

8.11

9 Автомобили проедут перекрёсток в следующем порядке:



1. Синий, красный, зелёный, жёлтый.
2. Зелёный, синий и красный, жёлтый.
3. Жёлтый въедет на перекрёсток и остановится, чтобы уступить дорогу зелёному; зелёный, синий, красный, жёлтый.

16.12

10 Разворот запрещается:

1. На проезжей части с трамвайными путями.
2. На проезжей части с однополосным движением.
3. На пешеходных переходах.
4. Во всех перечисленных местах.

10.7 «Г»

11 Разрешается ли находиться пассажирам в буксируемом автомобиле во время буксировки?

1. Запрещается во всех грузовых и легковых автомобилях.
2. Разрешается только в легковых автомобилях.
3. Разрешается в легковых автомобилях, которые буксируются только на жёсткой сцепке.


23.9

12 В случае возникновения опасности для движения или препятствия, которое водитель объективно способен обнаружить, он должен:

1. Немедленно принять меры к снижению скорости вплоть до остановки транспортного средства.
2. Более внимательно отнестись к дорожной обстановке, и только в случае крайней необходимости снизить скорость на 20 км/ч.
3. Снизить скорость до 20 км/ч.

12.3

13 Движение разрешено:



1. Всем транспортным средствам.
2. Трамваю, легковому автомобилю.
3. Легковому и грузовому автомобилям, мотоциклу.
4. Грузовому автомобилю и мотоциклу.

8.8 «А»

14 Обозначается ли при буксировке транспортных средств соединительное звено?

1. Обозначаются гибкая и жёсткая сцепки флажками или щитками, но только при буксировке в населённых пунктах.
2. Обозначается только гибкая сцепка флажками или щитками размером 200 x 200 мм с нанесёнными на них по диагонали чередующимися красными и белыми полосами из световозвращающего материала шириной 50 мм (за исключением использования гибкой сцепки с покрытием из световозвращающего материала)


30.5

15 Разрешается ли стоянка транспортных средств на тротуаре?

1. Разрешается всем транспортным средствам на краю тротуара, примыкающего непосредственно к проезжей части, с полным или частичным заездом на него.
2. Разрешается легковым автомобилям и мотоциклам на краю тротуара, где для движения пешеходов остаётся по меньшей мере 2 м.
3. Запрещается.
4. Разрешается грузовым автомобилям с разрешённой максимальной массой до 3,5 т при оформлении документов на доставленный груз.

15.10 «В»

16 Красный автомобиль проедет перекрёсток:



1. Последним.
2. Третьим.
3. Вторым.
4. Первым.


16.6; 16.7

17 Как следует выезжать из глубокой колеи в зимнее время на заднеприводном автомобиле?

1. Начать выезжать из колеи как можно быстрее, сначала повернуть рулевое колесо в сторону выезда, а затем — в противоположную.
2. Выезжать на небольшой скорости, сначала энергично повернуть рулевое колесо в сторону, противоположную выезду, а затем — в сторону выезда.

ОБД

18 Разрешается ли в данной обстановке водителю красного автомобиля продолжать движение через пешеходный переход?



1. Запрещается.
2. Разрешается.


18.4

19 Разрешается ли движение механического транспортного средства в тёмное время суток только с габаритными фонарями?

1. Запрещается.
2. Разрешается.

19.1 «А»

20 Транспортные средства проедут перекрёсток в следующем порядке:



1. Трамвай, автомобиль, мотоцикл.
2. Трамвай, мотоцикл, автомобиль.
3. Мотоцикл, автомобиль, трамвай.

16.11; 16.14

1 Данный дорожный знак используется исключительно:



1. В пределах населённых пунктов, начало которых обозначено знаком 5.47 («Начало населенного пункта» на синем фоне). Означает ограничение максимально разрешённой скорости до 60 км/час.

2. В пределах населённых пунктов, начало которых обозначено знаком 5.45 («Начало населенного пункта» на белом фоне). Означает ограничение максимально разрешённой скорости до 60 км/час.

Прил. 1: 5.63.1

2 С какого возраста предоставляется право на управление автомобилями с прицепами или полуприцепами, а также теми, что предназначены для перевозки крупногабаритных, тяжеловесных и опасных грузов?

1. С 21-летнего возраста.
2. С 19-летнего возраста.
3. С 18-летнего возраста.

2.13

3 Приближаясь к регулируемому железнодорожному переезду, перед которым установлен данный дорожный знак, водитель нерельсового транспортного средства должен:



1. Остановиться в любом случае.
2. Снизить скорость и в случае отсутствия поезда продолжить движение через переезд.
3. Продолжить движение без снижения скорости и остановки, если водитель сумел убедиться в том, что поезд не приближается.


Прил. 1: 2.2; 20.2

4 Какой из указанных дорожных знаков означает, что водитель движется по дороге, на которой он имеет преимущество в движении?



Прил. 1: 1.22


5 В каких направлениях разрешено движение? (Направления А и В — въезды во дворы).



1. Только Б.
2. Только А.
3. А, Б и В.
4. А и Б.
5. А, Б, В и Г.

Прил. 1: 4.1

6 Разрешается ли выполнить обгон в данной обстановке?



1. Разрешается, если обгоняемое транспортное средство движется со скоростью менее 10 км/ч.
2. Разрешается.
3. Разрешается, если обгоняемое транспортное средство движется со скоростью менее 30 км/ч.
4. Запрещается.

Прил. 2: 1.3; 14.6 «Е»

7 Данный дорожный знак:



1. Обозначает конец зоны ограничения максимальной скорости движения.
2. Обозначает конец зоны с предписанной минимальной скоростью движения.
3. Обозначает конец зоны с рекомендуемой скоростью движения.

Прил. 1: 3.32

8 По каким направлениям разрешено движение транспортных средств? Дайте полный ответ.



1. Трамваю налево.
2. Автомобилю налево.
3. Трамваю налево или прямо.
4. Трамваю налево, автомобилю налево или в обратном направлении.
5. Трамваю налево или прямо, автомобилю после трамвая.

8.8 «Б»

9 Транспортные средства проедут перекрёсток в следующем порядке:



1. Легковой автомобиль, трамвай, автобус.
2. Трамвай, автобус, легковой автомобиль.
3. Трамвай, легковой автомобиль, автобус.

16.9

10 Водитель зелёного автомобиля при перестроении:




1. Имеет преимущество перед синим автомобилем, так как движется по полосе, предназначенной для обгона.
2. Обязан уступить дорогу синему автомобилю, движущемуся попутно в прямом направлении.

3. Имеет преимущество, так как включил сигналповорота.

10.3

- 11** На дорогах, проезжая часть которых поделена на полосы движения линиями дорожной разметки, двигаться, занимая одновременно две полосы:



1. Разрешается в любом случае.
2. Запрещается.
3. Разрешается только в светлое время суток.

11.10

- 12** С какой максимальной скоростью разрешается движение легковых автомобилей с прицепом на участках дорог, обозначенных данным дорожным знаком?



1	2	3	4	5
110 км/ч	100 км/ч	90 км/ч	80 км/ч	60 км/ч

12.6 «А»

- 13** Как правильно надеть на пострадавшего рубашку или пиджак при ранении руки?

1. Одежду надевают на обе руки одновременно.
2. Одежду надевают сначала на больную руку, а затем на здоровую.
3. Одежду надевают сначала на здоровую руку, а затем на больную.


ОПМП

- 14** Рекомендуется использовать шины, которые соответствуют состоянию проезжей части:

1. В случае постоянной эксплуатации транспортного средства на дорогах, на которых проезжая часть скользкая.
2. В случае постоянной эксплуатации транспортного средства на горных дорогах.
3. В случае постоянной эксплуатации транспортного средства на дорогах, на которых проводятся спортивные соревнования.
4. В случаях, указанных в ответах 1,2,3.

31.4.5, прим.


- 15** Разрешена ли остановка в данном месте на проезжей части с односторонним движением?



1. Запрещена.
2. Разрешена.

15.3

- 16** Красный автомобиль:



1. Должен уступить дорогу синему автомобилю, движущемуся по дороге с круговым движением.
2. Имеет преимущество в движении, так как приблизился к перекрестку равнозначных дорог справа от синего автомобиля.

16.12

- 17** Какую передачу рекомендуется включить при стоянке на подъёмах, чтобы не допустить самопроизвольного движения транспортного средства?

1. Передачу для движения назад вместе со стояночным тормозом.
2. Первую передачу вместе со стояночным тормозом.
3. Нейтральную передачу вместе со стояночным тормозом.

ОБД

- 18** Разрешается ли эксплуатация автомобиля, если не работает звуковой сигнал?

1. Запрещается.
2. Разрешается в населенных пунктах.
3. Разрешается в светлое время суток.

31.4.7 «Б»

- 19** В каких из перечисленных случаев могут быть включены противотуманные фары?

1. Только при движении в колонне в условиях недостаточной видимости дополнительно к ближнему свету фар.
2. Только в условиях недостаточной видимости.
3. В случаях, указанных в ответах 1 и 2.

19.5; 9.8

- 20** Если главная дорога на перекрестке изменяет направление, водители движущихся по ней транспортных средств должны:

1. Руководствоваться правилами проезда перекрестков равнозначных дорог.
2. Иметь преимущество в движении перед всеми транспортными средствами, кроме тех, которые перевозят пассажиров.
3. Уступать дорогу водителям тех транспортных средств, которые продолжают движение по главной дороге.

16.14

1 По определению Правил дорожного движения «Автопоезд» (транспортный состав) это :

1. Соединение автомобиля (тягача) с одним прицепом на жёсткой или гибкой сцепке.
2. Соединение автомобиля только с одним прицепом на жёсткой сцепке.
3. Механическое транспортное средство, соединённое с одним или несколькими прицепами с помощью сцепного устройства.
4. Транспортные средства, указанные в ответах 2 и 3.

1.10

2 По требованию работника милиции водитель должен остановиться с соблюдением требований настоящих Правил дорожного движения, а также дать возможность проверить:

1. Только техническое состояние транспортного средства.
2. Только номера агрегатов и комплектность транспортного средства, либо осмотреть его в соответствии с законодательством при наличии на то законных оснований.
3. Выполнить действия, указанные в ответах 1 и (или) 2.

2.4 «Б»

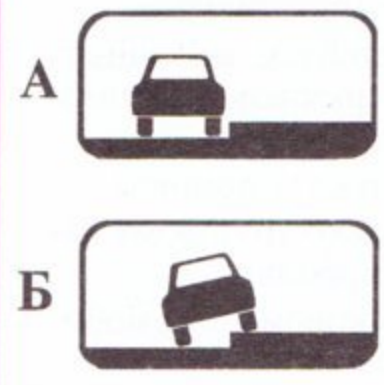
3 Данный дорожный знак информирует, что:



1. За знаком начинается пешеходная зона, на всей территории которой проезд транспортных средств запрещён.
2. В пешеходной зоне движение транспортных средств разрешается со скоростью до 5 км/ч.
3. В пешеходной зоне разрешается только движение пешеходов и проезд на велосипедах.

Прил. 1: 5.33


4 Различается ли между собой требования данных табличек?



1. Различаются только тем, что указывают различный способ постановки любого транспортного средства на стоянку.
2. Различаются тем, что действие таблички А распространяется на все транспортные средства, а таблички Б — только на легковые автомобили и мотоциклы.
3. Ничем не различаются, так как обе называются «Способ постановки транспортного средства на стоянку».

Прил. 1: 7.6.1, 7.6.2

5 Водители каких транспортных средств нарушили правила стоянки?



1. Б, В и Г.
2. А и Б.
3. Б и Г.
4. Только Г.

Прил. 1: 7.6.2

6 В каких из перечисленных случаев разрешается пересекать сплошную линию дорожной разметки, разделяющую транспортные потоки противоположных направлений?



1. Для выполнения обгона на дорогах с двусторонним движением, имеющих по одной полосе для движения в каждом направлении.
2. Для объезда неподвижного препятствия, размеры которого не позволяют осуществить его безопасный объезд, не пересекая эту линию.
3. В случаях, указанных в ответах 1 и 2.

Прил. 2: 1.1

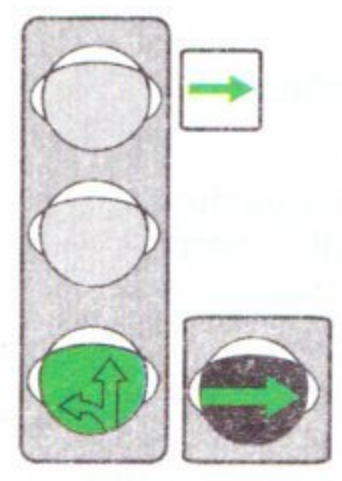
7 Данный дорожный знак предупреждает, что:






1. Поворот направо запрещён всем транспортным средствам.
2. Знак предупреждает о закруглении дороги с ограниченной обзорностью направо.
3. Знак не рекомендует поворачивать направо.
4. Направо разрешается движение только маршрутных транспортных средств.
5. Информация, заложенная в ответах 1 и 4.

Прил. 1: 1.1

8 Дайте полный ответ: в каких направлениях разрешается движение при данном сигнале светофора?



1. 
2. 
3. 

При повороте направо предоставить преимущество в движении другим его участникам.

8.7.3 «А», «Б»

9 Обязан ли водитель подавать предупреждающий сигнал перед перестроением?



1. Во всех случаях необходимо заблаговременно до начала маневра, но не менее чем за 50—100 м в населенных пунктах и за 150—200 м вне их.
2. Только в населенном пункте, если сзади него движется другое транспортное средство.


9.2 «Б»; 9.4

10 Какие из перечисленных действий водителю запрещены в соответствии с требованиями Правил дорожного движения?

1. Включать аварийную световую сигнализацию в случае остановки по требованию работника милиции или вследствие ослепления светом фар.
2. Включать ближний свет фар при движении в колонне.
3. Резко тормозить, кроме случаев, когда без этого невозможно предотвратить дорожно-транспортное происшествие.
4. Все перечисленные действия водителю запрещены.

9.8 «А»; 9.9 «Б»; 12.9 «Г»

11 На какой сцепке должна осуществляться буксировка немеханического транспортного средства?



1. Только на жёсткой сцепке при выполнении соответствующих требований Правил дорожного движения.
2. Только способом частичной погрузки на специальное опорное приспособление.


3. Способы, указанными в ответах 1 и 2. 23.6

12 Разрешена ли остановка на автомагистралях и дорогах для автомобилей?

1. Разрешена, если имеются три полосы для движения в одном направлении.
2. Разрешена на специальных площадках для стоянки, обозначенных дорожными знаками «Место для стоянки» или «Место отдыха».
3. Разрешена в местах, где автомагистраль или дорога для автомобилей хорошо просматривается.
4. Запрещена.

27.2 «В»

13 В каком ответе названы транспортные средства, которым запрещено движение?



1. Легковому и грузовому автомобилям.
2. Автобусу, мотоциклу и грузовому автомобилю.
3. Только мотоциклу.
4. Только грузовому автомобилю.
5. Легковому автомобилю.

8.8 «А»


14 В чём, по Правилам дорожного движения, должен убедиться водитель, прежде чем начать обгон автопоезда?



1. В том, что участок дороги, на который он намерен выехать, свободен на расстоянии 200 м.
2. В том, что водитель транспортного средства, движущегося впереди по той же полосе, не подал сигнал о намерении поворота (перестроения) налево.

14.2 «Б»

15 Разрешается ли стоянка автомобиля в данном месте?



1. Запрещается.
2. Разрешается.

15.3

16 Укажите очередность проезда перекрёстка:



1. Автобус и гужевая повозка, грузовой автомобиль.
2. Автобус, грузовой автомобиль, гужевая повозка.

16.12

17 По дороге движется автомобиль, водитель которого включил указатель поворота налево и длительное время его не выключает. Как должен поступить водитель, движущийся за ним?

1. Обогнать движущийся впереди автомобиль.
2. Не изменять режим своего движения.
3. Не обгонять движущийся впереди автомобиль. При наличии безопасной возможности — опередить его с правой стороны.

ОБД

18 В каком из перечисленных случаев водитель обязан снизить скорость или остановиться перед пешеходным переходом?

1. Только в населённых пунктах.
2. Только перед регулируруемыми пешеходными переходами.
3. Перед любыми пешеходными переходами, чтобы уступить дорогу пешеходам, для которых может быть создано препятствие или опасность.


18.1; 18.2

19 При каких из перечисленных условий запрещается эксплуатация транспортных средств? Дайте полный ответ.

1. Шины по размеру или допустимой нагрузке не соответствуют модели транспортного средства.
2. Не горит задний противотуманный фонарь.
3. При условиях, указанных в ответах 1 и 2.

31.4.5 «В»

20 Вы на зелёном автомобиле:



1. Должны уступить дорогу.
2. Имеете преимущество в движении.

16.12

1 «Безопасный интервал» — это расстояние:

1. Между боковыми частями движущихся транспортных средств либо между ними и другими объектами, при котором обеспечена безопасность дорожного движения.
2. До транспортного средства, движущегося впереди, при котором гарантирована безопасность дорожного движения.


1.10

2 Разрешается ли движение пешеходов по дороге, обозначенной знаком «Автомагистраль»?
 Дайте полный ответ.

1. Разрешается идти только вне населённых пунктов навстречу движению транспортных средств.
2. Запрещается, за исключением пешеходных дорожек, мест для стоянки и отдыха.
3. Разрешается идти вне населённых пунктов по ходу движения транспортных средств.

4.14 «Д»;
27.4

3 Данный дорожный знак:



1. Обозначает зону по длине для разворота транспортных средств. Поворот налево запрещается.
2. Разрешает движение транспортных средств только в указанном стрелками направлении.
3. Обозначает закругление дороги с ограниченной видимостью.

Прил. 1: 5.27

4 Какой дорожный знак называется «Выезд велосипедистов»?



Прил. 1: 1.34

5 При перестроении на полосу торможения Вы должны снижать скорость:

1. На автомагистрали и на полосе торможения.
2. На автомагистрали перед перестроением на полосу торможения.
3. Только на полосе торможения.

10.8


6 Данная дорожная разметка имеет следующее назначение:



1. Обозначение мест, где запрещена остановка механических транспортных средств.
2. Обозначение остановок маршрутных транспортных средств и такси.
3. Обозначение стояночных мест, где указаны способы постановки механических транспортных средств на околотротуарную стоянку.

Прил. 2: 1.17

7 Данный дорожный знак означает, что:



1. Впереди участок дороги, по которому разрешается движение только пешеходов.
2. Впереди участок дороги, по которому запрещается вести велосипед или мопед.
3. Впереди участок дороги, по которому запрещается движение пешеходов.
4. Информация, заложенная в ответах 1 и 2.

Прил. 1: 4.13

8 Временные дорожные знаки:

1. Имеют преимущество только перед постоянными дорожными знаками.
2. Имеют преимущество только перед дорожной разметкой.
3. Имеют преимущество только на три часа с момента их установки.
4. Не имеют преимущества.
5. Имеют преимущество перед постоянными дорожными знаками и дорожной разметкой.

8.2

9 Что должен предпринять водитель при вынужденной остановке вне населённого пункта с ограниченной обзорностью дороги менее 100 м?

1. Включить только ближний свет фар или противотуманные фары.
2. Включить только аварийную световую сигнализацию.
3. Установить только знак аварийной остановки либо мигающий красный фонарь на расстоянии не ближе 40 м.
4. Выполнить действия, указанные в ответах 2 и 3.

9.9 «А»;
9.10 «Б»

10 Разворот запрещается:

1. На эстакадах.
2. На проезжей части с трамвайными путями.
3. Во всех перечисленных местах.

10.7 «Б»

11 Имеют ли пешеходы преимущество в движении перед транспортными средствами в жилой и пешеходной зоне?

1. Имеют преимущество во всех случаях.
2. Не имеют.
3. Имеют преимущество только в темное время суток.
4. Имеют преимущество только в условиях недостаточной видимости.
5. Имеют преимущество только в случаях, указанных в ответах 3 и 4.

26.1

12 С какой скоростью разрешается движение на легковом автомобиле по заснеженной дороге при условии, что на нём установлены «зимние» шины?

1. 30 км/ч в населённом пункте.
2. Со скоростью, обеспечивающей безопасность движения.
3. 80 км/ч вне населённого пункта.
4. Со скоростью, указанной в ответах 1 и 2.

12.1; ОБД


13 Движение разрешено:



1. Мотоциклу.
2. Автомобилю и мотоциклу.
3. Всем транспортным средствам.

8.8 «А»

14 Разрешается ли водителю красного автомобиля выполнять обгон в данной ситуации?



1. Разрешается при условии, что скорость обгоняемого менее 30 км/ч.
2. Разрешается.
3. Запрещается.


14.6 «А»

15 Во всех ли перечисленных местах запрещена стоянка?

1. На дорогах с трамвайными путями.
2. На площадях.
3. Ближе 15 м от края пересекаемой проезжей части.
4. На железнодорожных переездах.
5. Во всех перечисленных местах.

15.10 «А»

16 Водитель какого транспортного средства имеет преимущество в движении?



1. Водитель трамвая.
2. Водитель автомобиля.

16.7

17 Как влияет утомление на внимание и реакцию водителя?

1. Внимание и реакция водителя снижаются.
2. Внимание и реакция водителя повышаются.
3. Не влияет на внимание и реакцию водителя.

ОБД

18 При каких условиях, по Правилам дорожного движения, запрещается эксплуатация транспортных средств?

1. Увеличен шум распределительных шестерен.
2. Установлены на стекло дополнительные предметы или нанесены покрытия, ограничивающие обзорность с места водителя и ухудшающие его прозрачность.
3. Стучит амортизатор подвески.

31.4.7 «В»

19 Фарой-прожектором разрешается пользоваться:

1. В тёмное время суток на всех участках дорог.
2. В любых местах, если в этом есть необходимость.
3. Только в условиях недостаточной видимости.
4. Только водителям оперативных транспортных средств во время выполнения служебных заданий, приняв меры к тому, чтобы не ослеплять других участников дорожного движения.
5. Во всех перечисленных случаях.

19.6

20 Какая из перечисленных разметок обозначает пешеходный переход с повышенной вероятностью возникновения дорожно-транспортных происшествий?



1



2



3



4

Прил. 2:1.14.3

1 «Безопасная дистанция» — это расстояние:

1. Между боковыми частями движущихся транспортных средств, при котором гарантирована безопасность дорожного движения.
2. До транспортного средства, движущегося впереди по той же полосе, которое, в случае его внезапного торможения или остановки, позволит водителю транспортного средства, движущегося сзади, избежать столкновения без выполнения какого-либо манёвра.
3. До транспортного средства, движущегося впереди, равное 30—50 м.


1.10

2 Должен ли пассажир, причастный к происшествию транспортного средства, находиться на месте происшествия до прибытия работников милиции?

1. Должен.
2. По усмотрению пассажира, в зависимости от конкретных обстоятельств.
3. Не должен, если он оказал помощь пострадавшим.
4. Не должен, если он сообщил о происшествии в органы милиции.

5.4

3 Какая информация заложена в данном дорожном знаке?



1. Конец автомагистрали.
2. На участке дороги за знаком движение автопоездов запрещено.
3. На участке дороги за знаком разрешается движение всех транспортных средств.

Прил. 1: 5.2

4 Разрешается ли водителю легкового такси доставить гражданина, работающего в зоне действия данного дорожного знака с табличкой?



1. Разрешается во все дни недели круглосуточно.
2. Разрешается только в субботние, воскресные и праздничные дни.
3. Разрешается только в нерабочие дни недели.
4. Запрещается в нерабочие дни недели с 8.00 до 20.00.

Прил. 1: 3.2, 7.4.1

5 Водитель мопеда приближается к участку дороги, перед которым установлен данный дорожный знак. Разрешается ли ему движение на данном участке?




1. Запрещается в любом случае.
2. Разрешается, если водитель обслуживает предприятие, расположенное в обозначенной зоне.
3. Разрешается, если водителю от 16 до 18 лет.
4. Разрешается, если водитель имеет удостоверение на право управления транспортным средством.

5. Разрешается, если выполнены требования, изложенные в ответах 3 и 4.

Прил. 1: 3.7

6 Разрешается ли высадка пассажиров в месте, где по верху бордюра тротуара нанесена сплошная жёлтая линия в сочетании со знаком «Остановка запрещена»?



1. Разрешается только маршрутным транспортным средствам.
2. Разрешается в отсутствии маршрутных транспортных средств.
3. Разрешается.
4. Запрещается.

Прил. 2: 1.4

7 Где начинается и где заканчивается в населённом пункте зона действия дорожного знака «Обгон запрещён»? Дайте полный ответ.

1. От места установки до ближайшего перекрёстка за ним.
2. От места установки до знака «Конец запрещения обгона».
3. Зона действия знака начинается и заканчивается в местах, указанных в ответах 1, 2.

Прил. 1: 3.25, 3.26

8 В каких направлениях разрешено движение при данном сигнале светофора?



1. Прямо и направо.
2. Во всех направлениях.
3. Только налево.
4. Налево и на разворот.

8.7.3 «Б»

9 Разрешается ли перевозить детей, не достигших 12-летнего возраста, на переднем сиденье легкового автомобиля?

1. Запрещается.
2. Разрешается.
3. Разрешается только в специальном детском сиденье.

21.11 «Б»

10 На дорогах для автомобилей обучение вождению транспортных средств:

1. Разрешается при неинтенсивном движении.
2. Разрешается при неинтенсивном движении с 8.00 до 17.00.
3. Разрешается с 8.00 до 17.00.
4. Запрещается.

24.9

11 Сколько легковых автомобилей одновременно можно буксировать легковым автомобилем?

1. Только один автомобиль.
2. Один автомобиль или один автомобиль с прицепом.
3. Буксировка легковым автомобилем запрещена.


23.1;
23.10 «Г»

12 Дайте полный ответ. В случае вынужденной остановки на проезжей части автомагистрали водитель должен:

1. Включить аварийную световую сигнализацию.
2. Установить знак аварийной остановки либо мигающий красный фонарь.
3. Выполнить действия, указанные в ответах 1 или 2.

27.5


13 В каком ответе названы транспортные средства, которым разрешено движение?



1. Легковой автомобиль.
2. Грузовой автомобиль.
3. Мотоцикл.
4. Легковой и грузовой автомобили.
5. Автобус.

8.8 «А»

14 Как должен поступить водитель, если регулировщик направляет его в сторону дороги, поворот на которую запрещён дорожным знаком?



1. Только развернуться в обратном направлении.
2. Остановить автомобиль и уточнить у регулировщика его требование.
3. Только выполнить требование регулировщика.

4. Выполнить действия, указанные в ответах 1 или 3.


8.3

15 Дайте полный ответ. Стоянка запрещается:

1. На газонах.
2. Ближе 5 метров от контейнерных площадок и (или) контейнеров для бытовых отходов, месторасположения или установки которых соответствует требованиям законодательства.
3. В местах, указанных в ответах 1 и 2.

15.10 «Е»;
15.10 «Є»

16 Последним проедет перекрёсток:



1. Красный автомобиль.
2. Зелёный автомобиль.
3. Синий автомобиль.

16.12

17 Какой автомобиль более устойчив к опрокидыванию?

1. Грузёный грузовой автомобиль.
2. Незагруженный грузовой автомобиль.

ОБД

18 При какой неисправности запрещается дальнейшее движение транспортных средств?

1. Не работают в установленном режиме или загрязнены внешние световые приборы и световозвращатели.
2. Не работает стеклоочиститель со стороны расположения руля во время дождя или снегопада.
3. Не работают предусмотренные конструкцией транспортных средств стеклоомыватели.


31.6

19 Какие транспортные средства запрещается эксплуатировать, если в них отсутствует медицинская аптечка? Дайте полный ответ.

1. Автобусы.
2. Грузовые автомобили и колёсные тракторы.
3. Легковые автомобили.
4. Все перечисленные транспортные средства.

31.4.7 «Є»

20 Поворачивая налево или разворачиваясь на нерегулируемом перекрёстке, водитель нерегулируемого транспортного средства должен уступить дорогу:



1. Только трамваю попутного направления.
2. Только транспортным средствам, движущимся по равнозначной дороге во встречном направлении прямо или направо.
3. Транспортным средствам, указанным в ответах 1 и 2.

16.13

1 Разрешается ли эксплуатация транспортного средства, которое переоборудовано на другой вид топлива?

1. Разрешается, за исключением транспортных средств, принадлежащих индивидуальным владельцам.
2. Запрещается, если такое переоборудование не согласовано с ГАИ.
3. Разрешается, если уровень дымности в отработанных газах не превышает установленной нормы.

32.1 «Е»;
31.3 «А»

2 Разрешается ли водителю легкового автомобиля двигаться по смежной полосе с колонной, которую сопровождают транспортные средства с включёнными проблесковыми маячками?

1. Запрещается движение со скоростью колонны только тогда, когда включены проблесковые маячки синего и красного цвета.
2. Запрещается движение со скоростью колонны только тогда, когда включены проблесковые маячки красного цвета.
3. Запрещается движение со скоростью колонны только тогда, когда включены проблесковые маячки оранжевого цвета.
4. Разрешается движение со скоростью, не превышающей скорость колонны.
5. Запрещается в случаях, указанных в ответах 1 и 2.

3.4

3 Водитель приближается вне населённого пункта к участку дороги, перед которым установлен данный дорожный знак. Какая информация заложена в данном дорожном знаке?



1. Через 150—300 м железнодорожный переезд.
2. Через 150—300 м разводной мост.
3. Впереди перекрёсток, пешеходный переход или участок дороги, движение на которых регулируется светофором.
4. Информация, заложенная в ответах 1 и 2.
5. Информация, заложенная в ответах 1, 2 и 3.

Прил. 1: 1.24

4 Какой из данных дорожных знаков устанавливается в начале дороги с реверсивным движением?



1



2



3




4



5

Прил. 1: 5.13

5 Водитель какого транспортного средства имеет преимущество в движении?



1. Водитель легкового автомобиля
2. Водитель дорожной машины

3.6

6 Разрешается ли пересекать для остановки жёлтую сплошную линию дорожной разметки, нанесённую у края проезжей части за знаком «Остановка запрещена»?

1. Разрешается только водителям маршрутных транспортных средств.
2. Разрешается только водителям такси, осуществляющим посадку или высадку пассажиров (погрузку или разгрузку груза).
3. Разрешается всем водителям для посадки или высадки пассажиров.
4. Разрешается водителям в случаях, указанных в ответах 1 и 2.
5. Разрешается водителям в случаях, указанных в ответах 1, 2, 3.

Прил. 2: 1.4

7 Данный дорожный знак:



1. Разрешает движение только легковых автомобилей и маршрутных транспортных средств.
2. Разрешает движение только легковых автомобилей.
3. Разрешает движение только легковых автомобилей, автобусов, мотоциклов, маршрутных транспортных средств и грузовых автомобилей, разрешённая максимальная масса которых не превышает 3,5 т.

Прил. 1: 4.11

8 С какой максимальной скоростью разрешено движение колонны транспортных средств?

1. Вне населённых пунктов — 60 км/ч.
2. В населённых пунктах — 40 км/ч.
3. Скорость движения устанавливается только по режиму движения головной машины, но не более 40 км/ч в населённых пунктах и 60 км/ч вне их.
4. Скорость движения и дистанция между транспортными средствами устанавливаются старшим колонны или по режиму движения головной машины в соответствии с требованиями Правил.

25.3

9 Имеют ли преимущество сигналы регулировщика перед сигналами светофоров?

1. Регулировщик не имеет право подавать сигналы, противоречащие сигналам светофора, и поэтому его сигналы не имеют преимущества.
2. Сигналы регулировщика не имеют преимущества в тёмное время суток.
3. Сигналы регулировщика имеют преимущество перед сигналами светофоров и являются обязательными для выполнения.

8.3

10 На дороге с двусторонним движением имеются три полосы для движения в каждом направлении. С какой полосы следует выполнить поворот налево?

1. Только с третьей полосы.
2. С любой полосы, если проезжая часть свободна от транспортных средств.
3. Только со второй или третьей полосы, если это разрешено дорожными знаками или дорожной разметкой.
4. Поворот следует выполнить с полос, указанных в ответах 1 и 3.

10.4

11 Когда транспортное средство должно двигаться по крайней правой полосе?

1. Когда транспортное средство по техническим причинам не может превышать скорость 40 км/ч.
2. При перевозке тяжеловесных и крупногабаритных грузов.
3. Если во время движения ослабло крепление груза.
4. Если водитель почувствовал болезненное состояние.

11.7

12 В случае вынужденной остановки на проезжей части автомагистрали или дороги для автомобилей водитель должен обозначить транспортное средство следующим образом:

1. Включить только аварийную световую сигнализацию.
2. Включить фары дальнего света и фару-прожектор.
3. Только принять меры к тому, чтобы убрать транспортное средство за пределы проезжей части вправо.
4. Выполнить все действия, указанные в ответах 1 и 3.


27.5

13 Как должен поступить водитель, если на узком участке дороги навстречу ему движется другое транспортное средство?

1. Водитель, подъехавший к узкому участку первым, должен принять правее и уступить дорогу встречному.
2. Водитель, подъехавший к узкому участку первым, должен проехать первым.
3. Водитель, на полосе движения которого имеется препятствие, должен уступить дорогу.

13.4

14 Транспортные средства проедут перекрёсток в следующем порядке:



1. Автобус, легковой автомобиль, трамвай.
2. Легковой автомобиль, трамвай, автобус.
3. Трамвай, автобус, легковой автомобиль.


16.12; 16.13

15 Разрешаются ли остановка и стоянка напротив остановки маршрутных транспортных средств?

1. Запрещаются, если будет невозможен встречный разъезд или объезд остановившегося транспортного средства.
2. Разрешаются только легковым автомобилям.
3. Разрешаются только в светлое время суток.

15.9 «Ж»

16 Поворачивая направо, должен ли водитель автомобиля уступить дорогу велосипедисту?



1. Не должен, так как за ним может образоваться затор.
2. Не должен, так как механическое транспортное средство имеет преимущество.
3. Должен.

16.2

17 В дождливую погоду следует соблюдать дистанцию:

1. Больше обычной.
2. Меньше обычной.
3. Обычную, но вести транспортное средство следует с повышенным вниманием.

ОБД

18 Приближаясь к автобусу с опознавательным знаком «Дети», остановившемуся с включённой аварийной световой сигнализацией, водитель легкового автомобиля должен:



1. Снизить скорость, а при необходимости остановиться, чтобы избежать наезда на детей.
2. Подать звуковой сигнал и объехать автобус.
3. Быстро проехать данный участок, повысив внимание.

18.9

19 Остаточная высота рисунка протектора шин легкового автомобиля должна быть не менее:

1	2	3	4	5
0,8 мм	1,0 мм	1,6 мм	2,0 мм	2,5 мм

31.4.5 «А»

20 Разрешается ли объезжать стоящие перед закрытым шлагбаумом транспортные средства?

1. Разрешается только мотоциклам без бокового прицепа.
2. Разрешается, если нет встречных транспортных средств.
3. Запрещается.
4. Запрещается, если скорость объезжающего транспортного средства менее 8 км/ч.

20.7

1 Разрешается ли без предварительного согласования с Госавтоинспекцией вносить изменения в номерные таблички кузова или шасси (рамы) и двигателя транспортного средства?

1. Разрешается в условиях специализированных предприятий, которые занимаются ремонтом и техническим обслуживанием транспортных средств.
2. Запрещается.
3. Разрешается только на транспортных средствах, поврежденных в дорожно-транспортных происшествиях.


32.2

2 С какой стороны должен выйти пассажир из автомобиля, если автомобиль остановлен у левого края дороги?

1. С правой стороны.
2. С левой или с правой стороны.
3. Со стороны посадочной площадки, а в случае её отсутствия, — со стороны тротуара или обочины.

5.1

3 Данный дорожный знак предупреждает, что:



1. Впереди место пересечения равнозначных дорог.
2. Впереди перекрёсток, на котором дорога имеет продолжение налево и направо.
3. Впереди перекрёсток, на котором движение разрешается только прямо.
4. Впереди перекрёсток, на котором водитель имеет преимущество перед водителями транспортных средств, приближающихся по пересекаемой дороге.

Прил. 1: 1.22

4 Какой дорожный знак запрещает проезд без обязательной остановки?







Прил. 1: 3.40

5 Согласно Правилам дорожного движения, водитель синего автомобиля должен:



1. Не дожидаясь разрешающего сигнала светофора, продолжить движение, выполняя требования знака «Уступить дорогу».
2. Дождаться разрешающего сигнала светофора и после этого продолжить движение.

Прил. 1: 2.1


6 Что обозначает данная дорожная разметка?



1. Место, где велосипедная дорожка пересекает проезжую часть.
2. Место перегона скота.
3. Пешеходный переход.

Прил. 2: 1.15

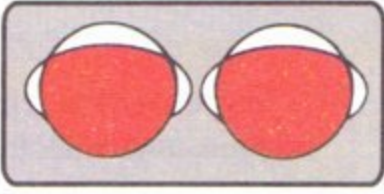
7 Данный дорожный знак означает, что:



1. Действие знака распространяется на пересечение проезжих частей, перед которым он установлен.
2. Действие знака не распространяется на транспортные средства, движущиеся по установленным маршрутам.
3. Знак применяется для разрешения движения транспортных средств только направо на ближайшем пересечении проезжих частей.
4. Действие знака не распространяется на мотоциклы, мопеды, велосипеды.
5. Информация, заложенная в ответах 1, 2 и 3.

Прил. 1: 4.2

8 Данный светофор применяется для регулирования движения:



1. Через железнодорожные переезды.
2. Трамваев и троллейбусов.
3. Пешеходов.
4. Во всех случаях, перечисленных в ответах 1, 2 и 3.

8.7.6

9 Запрещается ли подача звукового сигнала?

1. Запрещается на всех дорогах без всякой нужды.
2. Запрещается подавать звуковые сигналы в населённых пунктах, кроме случаев, когда без этого невозможно предотвратить дорожно-транспортное происшествие.
3. Запрещается на дороге, которая проходит в населённом пункте, обозначенной знаком «Начало населённого пункта» на синем фоне.

9.5

10 На каком рисунке водитель поворачивает правильно?



1. На правом рисунке.
2. На левом рисунке.

8.8 «Б»

11 Разрешается ли перевозить пассажиров при буксировке на гибкой или жёсткой сцепке в буксируемом механическом транспортном средстве?

1. Запрещается.
2. Разрешается в легковом и грузовом автомобилях.
3. Разрешается только в легковом автомобиле.
4. Разрешается в автобусе и троллейбусе.
5. Разрешается в кабине грузового автомобиля и в легковом автомобиле.

23.9

12 В каких местах разрешена преднамеренная остановка транспортных средств на автомагистралях?

1. На специальных площадках для стоянки, обозначенных дорожными знаками «Место для стоянки» или «Место отдыха».
2. На крайней правой полосе проезжей части дороги.
3. В местах, где видимость более 300 м и число полос движения более четырех.

27.2 «В»

13 Чтобы предотвратить наезд на транспортное средство, движущееся впереди, водитель должен:

1. Держать ногу на педали тормоза и быть готовым к немедленной остановке.
2. Обогнать транспортное средство, движущееся впереди.
3. Соблюдать безопасную дистанцию.
4. Выполнить действия, указанные в ответах 1, 2, 3.

13.1

14 Разрешается ли обгон транспортных средств на перекрёстке на дороге, являющейся главной по отношению к пересекаемой?

1. Разрешается.
2. Запрещается.

14.6 «А»

15 Останавливать транспортное средство разрешается от тротуара (края проезжей части) на расстоянии:

1. Не более 0,3 м.
2. Не более 0,5 м.
3. Расстояние не имеет значения.
4. У правого края проезжей части.

15.2

16 Вторым проедет перекрёсток:



1. Красный автомобиль.
2. Зелёный автомобиль.
3. Синий автомобиль.

16.12


17 В зоне отдыха, обозначенной данным дорожным знаком:



1. Запрещается транзитное движение транспортных средств.
2. Запрещается стоянка транспортных средств более 50 мин.
3. Разрешается движение транспортных средств со скоростью, не превышающей 50 км/ч.

Прил. 1: 3.31

18 Движение запрещено:



1. Синему, зелёному и белому автомобилям.
2. Красному и белому автомобилям.
3. Белому, синему и жёлтому автомобилям.


8.8 «А»

19 При движении в туннелях Правила дорожного движения обязывают водителя механического транспортного средства:

1. Двигаться со скоростью не более 40 км/ч.
2. Подавать звуковой сигнал.
3. Включить ближний (дальний) свет фар.
4. Включить аварийную световую сигнализацию.

19.1


20 Имеет ли водитель мотоцикла преимущество в движении перед водителем трамвая?



1. Не имеет.
2. Имеет.

16.11; 16.14


1 На каком расстоянии от оперативных транспортных средств должны двигаться водители обычных транспортных средств?



1. На обычном расстоянии, соблюдая безопасные дистанцию и интервал.
2. Дистанция должна быть не менее 30 м, а интервал не менее 5 м.
3. Дистанция должна быть не менее 40 м, а интервал не менее 1 м.

1.10

2 Жёлтый автомобиль проедет перекрёсток:



1. Первым.
2. Вторым.
3. Третьим.
4. Последним.

3.2; 16.11

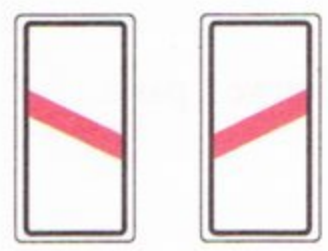
3 Какая информация заложена в данном дорожном знаке с табличкой?



1. Впереди участок дороги, на котором имеется крутой спуск.
2. Впереди перекрёсток, перед которым установлен дорожный знак «Проезд без остановки запрещён».
3. Впереди узкий участок дороги, на котором встречное движение затруднено.
4. Впереди участок дороги, опасный для движения.
5. Информация, заложенная в ответах 3 и 4.

Прил. 1: 2.2

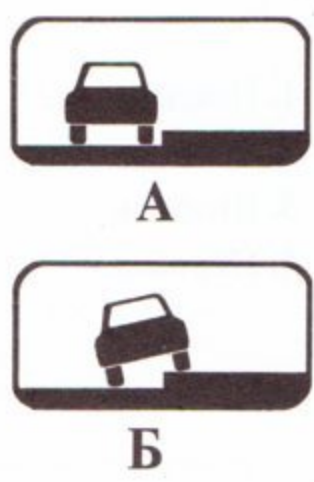
4 За сколько метров до железнодорожного переезда устанавливаются данные дорожные знаки?



1. Не менее чем за 100 метров.
2. Не менее чем за 50 метров.
3. Не менее чем за 25 метров.
4. Знаки устанавливаются непосредственно у первого рельса.

Прил.1: 1.31.3, 1.31.6

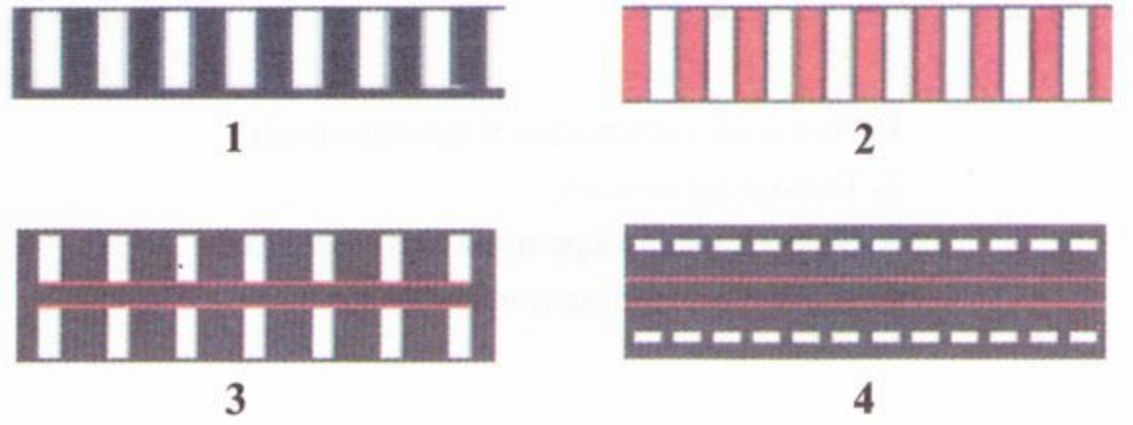
5 Различаются ли между собой требования данных табличек?



1. Различаются только тем, что указывают различный способ постановки любого транспортного средства на стоянку.
2. Различаются тем, что действие таблички А распространяется на все транспортные средства, а таблички Б — только на легковые автомобили и мотоциклы.
3. Ничем не различаются, так как обе называются «Способ постановки транспортного средства на стоянку».

Прил. 1: 7.6.1, 7.6.2

6 Дайте полный ответ. Какая из перечисленных разметок обозначает нерегулируемый пешеходный переход?



1. Дорожная разметка, указанная в ответах 1, 2 и 3.

Прил.2:1.14.1


7 Разрешается ли стоянка транспортных средств на участке дороги за данным дорожным знаком?



1. Разрешается на время до пяти минут.
2. Разрешается.
3. Разрешается только для погрузки или разгрузки груза.
4. Запрещается.

Прил. 1: 3.39

8 Разрешено ли движение трамвая?



1. Разрешено.
2. Запрещено.


8.8 «Б»

9 В каком случае Правила дорожного движения не требуют подачи предупреждающего сигнала?

1. Перед закруглением дороги, обозначенным знаком «Опасный поворот направо».
2. Перед остановкой у края проезжей части.
3. Перед перестроением на соседнюю полосу движения.

9.2

10 Движение в прямом направлении разрешается:



1. Водителям всех транспортных средств.
2. Только водителю грузового автомобиля.
3. Только водителям грузового автомобиля и мотоцикла.


10.4

11 Разрешается ли буксировка транспортным средством с прицепом?

1. Запрещается.
2. Разрешается только на жёсткой сцепке.

23.10 «Г»

12 На каком рисунке водитель правильно поворачивает направо?



1

2

8.7.3 «3»

13 Как правильно выбрать место наложения кровоостанавливающего жгута на конечности?

1. Выше места кровотечения, ближе к ране.
2. Непосредственно на рану.
3. Ниже раны на 10—15 см.

ОПМП
стр. 49

14 На дороге с двусторонним движением по крайней левой полосе движется впереди Вас транспортное средство с длительно включённым указателем левого поворота. Каковы Ваши действия?

1. Разрешается обгон, так как, очевидно, водитель забыл выключить указатель поворота.
2. опережение запрещено.
3. Разрешается выполнить безопасное опережение с правой стороны.


14.2 «Б»

15 Остановка запрещается:

1. Только на эстакадах и путепроводах.
2. Только на мостах.
3. Во всех вышеперечисленных местах.
4. Только на мостах и эстакадах.

15.9 «В»

16 Жёлтый автомобиль проедет перекрёсток:



1. Последним.
2. Третьим.
3. Вторым.
4. Первым.

16.11; 16.14

17 Если, начиная движение, резко нажать на педаль «газа», то к каким последствиям это может привести?

1. Ведущие колёса будут пробуксовывать, в результате чего автомобиль занесёт в сторону.
2. Увеличится износ сцепления и деталей ходовой части.
3. Двигатель прекратит работу.

ОБД

18 Разрешается ли движение без остановки через пешеходный переход, перед которым остановилось транспортное средство?

1. Движение запрещается, остановка перед пешеходным переходом обязательна.
2. Разрешается только на дороге, имеющей не менее двух полос для движения в каждом направлении.
3. Разрешается, если перед пешеходным переходом не установлен знак «Проезд без остановки запрещён».
4. Разрешается, если водитель убедился, что на пешеходном переходе нет пешеходов, для которых может быть создано препятствие либо опасность.


18.4

19 В каких из перечисленных случаев разрешается пользоваться противотуманными фарами?

1. При интенсивном движении в населённых пунктах.
2. При неисправности ближнего света фар.
3. В условиях тумана, дождя, снегопада.
4. В случаях, указанных в ответах 2 и 3.

19.5


20 Автомобили проедут перекрёсток в следующем порядке:



1. Синий, красный, зелёный, жёлтый.
2. Зелёный, синий и красный, жёлтый.
3. Жёлтый въедет на перекрёсток и остановится, чтобы уступить дорогу зелёному; синий, красный.

16.12

1 Движение разрешено:



1. Белому, синему и желтому автомобилям.
2. Красному и белому автомобилям.
3. Жёлтому и красному автомобилям.

8.8 «А»

2 Что дополнительно должны предпринять пешеходы при движении по дорогам в тёмное время суток и в условиях недостаточной видимости?

1. Принять меры для того, чтобы выделить себя на проезжей части или обочине, а по возможности иметь на внешней одежде световозвращающие элементы.
2. Идти, по возможности придерживаясь правой стороны, по ходу движения транспортных средств.
3. Выполнить оба действия.

4.4


3 Данный дорожный знак предупреждает, что:



1. Впереди участок дороги, на котором возможно разбрызгивание воды и грязи.
2. Впереди участок дороги, на котором возможен выброс гравия, щебня и т.п. из-под колес транспортных средств.
3. Впереди участок дороги с грунтовым покрытием.

Прил. 1: 1.14

4 Какой дорожный знак обязывает уступить дорогу транспортным средствам, движущимся по пересекаемой дороге?



Прил. 1: 2.1

5 Различаются ли между собой требования данного дорожного знака и данной таблички?



1. Требования знака не отличаются от требований таблички.
2. Различаются, так как знак разрешает движение только легковых автомобилей, автобусов, мотоциклов, маршрутных транспортных средств и грузовых автомобилей, разрешённая максимальная масса которых не превышает 3,5 т, а табличка действует только на легковые автомобили и грузовые автомобили с разрешённой максимальной массой до 3,5 т.

Прил. 1: 4.11, 7.5.3

6 Разрешается ли при обгоне пересекать сплошную разделительную линию дорожной разметки?



1. Разрешается на дороге, свободной от других транспортных средств.
2. Разрешается, только если рядом со сплошной линией нанесена прерывистая и только со стороны прерывистой.
3. Разрешается только как исключение, если скорость обгоняемого одиночного транспортного средства менее 30 км/ч, при условии обеспечения безопасности дорожного движения.
4. Разрешается в случаях, указанных в ответах 2 и 3.
5. Разрешается в любом случае при соблюдении мер безопасности.

Прил. 2: 1.1, 1.11

7 Данный дорожный знак означает, что:



1. Впереди дорога, не имеющая сквозного проезда, и перед местом установки знака следует повернуть налево или направо.
2. Впереди дорога сужается, и перед местом установки знака следует повернуть налево или направо.
3. На дороге имеется препятствие, и объехать его следует с правой или с левой стороны.
4. Ответы 1, 2 и 3 верны.


Прил. 1: 4.9

8 В случае остановки колонны на дороге:

1. Водители всех транспортных средств должны выйти из кабин.
2. Водители всех транспортных средств должны включить аварийную световую сигнализацию.
3. Водители всех транспортных средств должны выполнить оба действия.

25.5

9 При вынужденной остановке в местах с ограниченной обзорностью дороги, при неисправности аварийной световой сигнализации знак аварийной остановки или мигающий красный фонарь следует установить:



1. Сзади на транспортном средстве.
2. Со стороны худшей видимости для других участников дорожного движения.

9.11 «Б»

10 С какого минимального возраста разрешается обучаться вождению автомобиля?

1	2	3	4
с 18 лет	с 16 лет	с 15 лет	с 14 лет

24.2

11 Как должны двигаться транспортные средства на дорогах, проезжая часть которых разделена на полосы движения линиями дорожной разметки?

1. Не строго по полосам, если габариты транспортных средств по ширине невелики.
2. Не строго по полосам, если на проезжей части отсутствуют автомобили с прицепами и при этом интервал движения можно соблюдать гораздо меньший.
3. Не строго по полосам, если проезжая часть свободна от транспортных средств.
4. Строго по полосам. Наезжать на прерывистые линии разметки разрешается лишь при перестроении.

11.10

12 На автомагистралях запрещено:

1. Движение велосипедов, тракторов, самоходных машин и механизмов.
2. Опережение транспортных средств, движущихся со скоростью 90 км/ч.
3. Все перечисленные действия.

27.2 «А»;
 6.6 «Б»

13 Водитель какого транспортного средства должен уступить дорогу?



1. Водитель зеленого автомобиля, если он выполняет служебное задание
2. Водитель встречного автомобиля.
3. Водитель зеленого автомобиля.

13.4

14 Разрешается ли выполнить обгон в данном месте населённого пункта?



1. Разрешается при скорости обгоняемого менее 30 км/ч.
2. Запрещается.
3. Разрешается, если обгон завершится до железнодорожного переезда.


14.6 «Б»;
 прил. 1: 1.28

15 Дайте полный ответ. Стоянка транспортных средств запрещается:

1. Только вне населённых пунктов в зоне опасных поворотов и выпуклых переломов продольного профиля дороги с видимостью или обзорностью менее 100 м хотя бы в одном направлении движения.
2. Только на тротуарах, кроме мест, обозначенных соответствующими дорожными знаками, установленными с табличками.
3. Стоянка запрещается в местах, перечисленных в ответах 1 и 2.

15.10 «Б», «Г»


16 Вторым проедет перекрёсток:



1. Красный автомобиль.
2. Зелёный автомобиль.
3. Жёлтый автомобиль.
4. Синий автомобиль.

16.11; 16.14

17 Что должен сделать водитель, если он увидел животное, внезапно появившееся на проезжей части?



1. Включить звуковой сигнал.
2. Постараться побыстрее объехать животное, подавая короткие прерывистые звуковые сигналы.
3. Снизить скорость, а в случае необходимости — остановиться.

ОБД

18 При каких из перечисленных условий запрещается эксплуатация транспортных средств? Дайте полный ответ.

1. На заднюю ось микроавтобуса установлены радиальные шины.
2. Изменена конструкция тормозных систем.
3. При условиях, указанных в ответах 1 и 2.


31.4.1 «А»

19 Дайте полный ответ: что из перечисленного должно обязательно находиться в автомобиле?

1. Медицинская аптечка и работоспособный огнетушитель.
2. Запасные щётки стеклоочистителя и ремень привода генератора.
3. Всё перечисленное в ответах 1 и 2.

31.4.7 «Е»

20 Первым проедет перекрёсток:



1. Зелёный автомобиль.
2. Синий автомобиль.
3. Красный автомобиль.

16.12

1 Что, по Правилам дорожного движения, обозначает термин «обгон»?

1. Опережение одного или нескольких транспортных средств, движущихся по соседней полосе с меньшей скоростью.
2. Опережение одного или нескольких транспортных средств, связанное с выездом на полосу встречного движения.
3. Опережение одного или нескольких транспортных средств, связанное с выездом из занимаемой полосы движения и последующим возвращением на ранее занимаемую полосу. Обгон может быть как с выездом на полосу встречного движения, так и без выезда.


1.10

2 Разрешается ли пешеходам задерживаться и останавливаться на проезжей части?

1. Разрешается, так как дорога предназначена для всех участников дорожного движения.
2. Разрешается, если дорога не имеет тротуара или обочины.
3. Разрешается только на дорогах в населённых пунктах.
4. Запрещается, если это не связано с обеспечением безопасности дорожного движения.

4.14 «Г»

3 Данный дорожный знак предупреждает, что:



1. Впереди участок дороги, на котором расположен аэропорт.
2. Впереди расположена гидрометеорологическая станция.
3. Впереди участок дороги, на котором возможен сильный боковой ветер или его внезапные порывы.

Прил. 1: 1.17

4 Какой дорожный знак указывает участок дороги с односторонним движением?








- 1
- 2
- 3
- 4
- 5

Прил. 1: 5.5

5 Данный дорожный знак:



1. Запрещает движение на мотоциклах.
2. Запрещает движение на велосипедах.
3. Запрещает движение только на велосипедах с подвесным двигателем.
4. Запрещает движение на мопедах и на велосипедах с подвесным двигателем.
5. Запрещает движение на транспортных средствах, указанных в ответах 1, 2 и 3.

Прил. 1: 3.7


6 Данная разметка обозначает место, где:



1. Запрещена остановка и стоянка легковых автомобилей.
2. Запрещена стоянка легковых автомобилей с 20-00 до 08-00.
3. Запрещена стоянка.
4. Разрешена стоянка с 20-00 до 08-00.

Прил.2:1.10.2

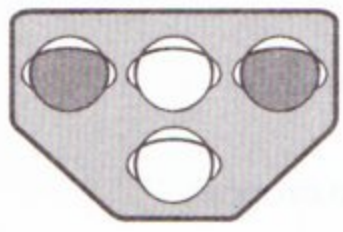
7 Данный дорожный знак:



1. Предупреждает о дальнейшем направлении вправо главной дороги.
2. Предупреждает об участке дороги, на котором проезжая часть сужается справа.
3. Предупреждает о закруглении дороги с ограниченной обзорностью вправо.
4. Информация, заложенная в ответах 1 и 3.

Прил. 1: 1.1

8 Данный светофор применяется для регулирования движения:



1. Трамваев и троллейбусов.
2. Трамваев, а также маршрутных микроавтобусов, автобусов и троллейбусов, движущихся по специально выделенной полосе.
3. Только трамваев.

8.7.5

9 На каком минимальном расстоянии от транспортного средства должен быть выставлен знак аварийной остановки или красный мигающий фонарь в населённом пункте?

1	2	3	4
40 м	25—30 м	20 м	10—15 м

9.10

10 В незнакомом городе, пересекая перекрёсток в прямом направлении по второй полосе, водитель вдруг понял, что здесь ему надо было повернуть направо. Как он должен поступить?

1. Снизить скорость движения, уступить дорогу транспортному средству, движущемуся справа, затем повернуть направо.
2. Изменить полосу для движения в нужном ему направлении и, включив указатель поворота, повернуть направо.
3. Проехать перекрёсток в прямом направлении и только после этого изменить направление движения, соблюдая правила маневрирования.

10.3, 10.4

11 Из какой полосы выполняется поворот налево на дороге с двусторонним движением, имеющей три полосы для движения в каждом направлении?

1. Только из крайней левой полосы для движения.
2. Разрешается выполнить поворот из средней полосы, если крайняя левая полоса свободна от других транспортных средств.
3. Легковым автомобилям и мотоциклам разрешается выполнить поворот из любой полосы, если левые полосы для движения свободны от других транспортных средств.

11.4

12 Разрешается ли въезд в технологические разрывы разделительной полосы на автомагистралях?

1. Разрешается.
2. Разрешается маршрутным транспортным средствам.
3. Разрешается только для разворота, кроме грузовых автомобилей с разрешённой максимальной массой более 3,5 т.
4. Запрещается.

27.2 «Г»

13 По требованию Правил дорожного движения, какую дистанцию должен соблюдать водитель в дождливую погоду?

1. Соблюдать обычную дистанцию, но повысить внимание.
2. Соблюдать безопасную дистанцию в зависимости от скорости движения, дорожной обстановки, особенностей перевозимого груза и состояния транспортного средства.
3. Соблюдать дистанцию больше обычной.

13.1

14 Дайте полный ответ. Выполнить обгон нерельсовых транспортных средств разрешается:

1. Слева или справа
2. Справа только в том случае, если левая полоса, предназначенная для встречного движения, занята.
3. Только слева по полосе встречного движения.
4. В случаях, указанных в ответах 1 и 2.


14; 1.10

15 В каких местах из перечисленных запрещается остановка транспортных средств? Дайте полный ответ.

1. На путепроводах.
2. На мостах.
3. Под эстакадами, мостами и путепроводами.
4. На перекрёстках и ближе 10 м от края пересекаемой проезжей части при отсутствии на них пешеходного перехода.
5. Во всех указанных местах.

15.9 «В», «Г»

16 Водитель какого транспортного средства должен уступить дорогу?



1. Водитель трамвая.
2. Водитель автомобиля.

16.9

17 Для прекращения начавшегося заноса автомобиля нужно повернуть рулевое колесо в сторону заноса. Сразу же после прекращения заноса необходимо:

1. Выключить сцепление и двигаться накатом.
2. Начать экстренное торможение.
3. Повернуть рулевое колесо в обратную сторону.

ОБД

18 При каких из перечисленных условий запрещается эксплуатация транспортных средств? Дайте полный ответ.

1. Свободный ход педали сцепления меньше установленной нормы.
2. Шины имеют местные повреждения (порезы, разрывы и т. п.), оголяющие корд.
3. При условиях, указанных в ответах 1 и 2.

31.4.5 «Б»


19 Какая информация заложена в данном дорожном знаке?



1. Участок автомагистрали, перед которым установлен данный дорожный знак, временно закрыт на ремонт.
2. Конец дороги для автомобилей.
3. Конец автомагистрали. Начинается дорога для автомобилей.
4. Конец автомагистрали.

Прил. 1: 5.2

20 Транспортные средства проедут перекрёсток в следующем порядке:



1. Трамвай 1 и 2; зелёный, синий, жёлтый, красный автомобили.
2. Зелёный автомобиль; трамвай 2; трамвай 1; синий, жёлтый, красный автомобили.

16.11; 16.13

1 Осуществить опережение нерельсового транспортного средства разрешается:

1. Только слева.
2. Слева или справа, соблюдая правила безопасности.
3. Только справа, если опережаемое транспортное средство движется со скоростью менее 30 км/ч.

1.10

2 Как должен поступить водитель автомобиля, если он, приближаясь к перекрёстку, услышал специальный звуковой сигнал и увидел, что его догоняет автомобиль с включённым проблесковым маячком красного цвета?

1. Въехать на тротуар и остановиться.
2. Быстро проехать перекрёсток и затем остановиться.
3. Остановиться у правого края проезжей части перед перекрёстком.
4. Выполнить требования, указанные в ответах 1 или 3.

3.2

3 В каких случаях и с каким дорожным знаком устанавливается данная табличка?



1. В населённых пунктах — со знаком «Проезд без остановки запрещён» перед карантинным постом.
2. Перед железнодорожным переездом — со знаком «Проезд без остановки запрещён».
3. Вне населённых пунктов — со знаком «Уступить дорогу», если перед перекрёстком установлен знак «Проезд без остановки запрещён».
4. В случаях, указанных в ответах 1 и 2.

Прил. 1: 7.1.2


4 Чем различаются между собой дорожные знаки «Уступить дорогу» и «Проезд без остановки запрещён»?



1. Знак А требует обязательной остановки перед выездом на главную дорогу с прилегающих к ней территорий.
2. При знаке А водитель должен уступить дорогу транспортным средствам, движущимся по главной дороге, а при знаке Б запрещается проезд без остановки.
3. Ничем не различаются, так как оба требуют обязательной остановки перед перекрёстком.

Прил. 1: 2.1, 2.2

5 Разрешён ли обгон в данном месте?



1. Разрешён, так как осуществляется обгон трактора.
2. Разрешён.
3. Запрещён.

Прил. 1: 3.25, 7.1.1

6 О чём предупреждает данная дорожная разметка?



1. Указывает место, где транспортное средство должно уступить дорогу пешеходу.
2. О приближении к месту остановки маршрутных транспортных средств.
3. О приближении транспортных средств к стоп-линии, когда она применяется в сочетании со знаком «Проезд без остановки запрещён».

Прил. 2: 1.21

7 Дайте полный ответ. Какая из указанных табличек информирует о возможном виде дорожно-транспортного происшествия?



5. Все указанные таблички.

Прил. 1: 7.21.1 – 7.21.4

8 Движение запрещено:



1. Мотоциклу.
2. Автомобилю и трамваю.
3. Всем транспортным средствам.

8.8 «А»

9 На перекрёстке равнозначных дорог водитель транспортного средства, приближающегося слева, не снижает скорости движения. Вы должны:

1. Продолжить своё движение, так как преимущество в движении принадлежит Вам.
2. Постараться въехать на перекрёсток раньше, увеличив скорость движения.
3. Подать звуковой сигнал для предотвращения дорожно-транспортного происшествия и при необходимости остановиться.

9.5; 16.12

10 Водителю запрещается:

1. Управлять транспортным средством находясь под воздействием лекарственных препаратов, снижающих быстроту реакции и внимание.
2. В случае вынужденной остановки находиться на проезжей части дороги без сигнального жилета в тёмное время суток и в условиях с недостаточной видимости.
3. Действия, указанные в ответах 1 и 2.

2.9 «Б»

11 Разрешается ли движение транспортных средств по тротуарам и пешеходным дорожкам, если нет других подъездов?

1. Запрещается, так как это поставит под угрозу безопасность пешеходов.
2. Разрешается, если это не затруднит движение пешеходов.
3. Разрешается для объезда стоящего у тротуара другого транспортного средства.
4. Разрешается при обслуживании торговых и других предприятий, расположенных непосредственно у этих тротуаров или пешеходных дорожек.

11.13

12 На каких дорогах в населённых пунктах допускается скорость движения более 60 км/ч?

1. На дорогах, обозначенных соответствующими знаками.
2. На дорогах, свободных от транспортных средств.
3. На дорогах с односторонним движением.
4. На всех вышеперечисленных дорогах.

12.8


13 Какие транспортные средства запрещает обгонять данный дорожный знак? Дайте полный ответ.



1. Легковые автомобили, мотоциклы и грузовые автомобили с разрешенной максимальной массой менее 3,5 т.
2. Грузовые автомобили с разрешенной максимальной массой более 3,5 т.
3. Все, кроме одиночных, движущихся со скоростью менее 30 км/ч.
4. Все.

Прил. 1: 3.25


14 Разрешается ли водителю зелёного автомобиля выполнить обгон? Красный автомобиль выполняет объезд.



1. Разрешается, только если красный автомобиль движется со скоростью менее 30 км/ч.
2. Запрещается.
3. Разрешается.

14.6 «Г»


15 В каком ответе указаны все водители, нарушившие правила остановки на дороге с односторонним движением вне населённого пункта?



1. Только водитель синего автомобиля, остановившийся под разгрузку.
2. Водители всех транспортных средств.
3. Только водители красного автомобиля и мотоцикла.
4. Только водитель мотоцикла.

15.3; 11.6;
прил. 1: 3.34,
7.2.4

16 Водитель какого транспортного средства должен уступить дорогу?



1. Водитель автомобиля.
2. Водитель мотоцикла.

16.11; 16.14

17 Что необходимо сделать водителю в случае внезапного разрыва шины при движении автомобиля?

1. Удерживая рулевое колесо, сохранить прямолинейное движение, снизить скорость и остановиться.
2. Резко затормозить рабочим тормозом до полной остановки.
3. Остановить автомобиль при помощи стояночного тормоза.

ОБД

18 Разрешается ли следовать к месту стоянки или ремонта в тёмное время суток по дорогам без искусственного освещения или в условиях недостаточной видимости с негорящими задними габаритными фонарями?

1. Запрещается.
2. Разрешается с особой осторожностью.

31.6


19 Какие внешние световые приборы должны быть включены на движущемся транспортном средстве независимо от степени освещения дороги в тёмное время суток?



1. Ближний свет фар или габаритные фонари.
2. Противотуманные фары и габаритные фонари.
3. Только дальний свет фар.
4. Ближний или дальний свет фар на всех механических транспортных средствах и габаритные фонари на прицепах.

19.1

20 Красный автомобиль проедет перекрёсток:



1. Первым.
2. Вторым.

16.6; 8.3

1 Разрешается ли водителю коричневого автомобиля опередить белый автомобиль так, как это показано на рисунке?



1. Не разрешается, т.к. он осуществляет его с правой стороны.
2. Разрешается, обязательно включив фары ближнего света.
3. Разрешается.

1.10

2 Дает ли преимущество в движении включённый проблесковый маячок оранжевого цвета?

1. Не дает.
2. Дает.

3.6

3 Какой дорожный знак устанавливается непосредственно перед пересечением проезжих частей?



Прил. 1: 3.22


4 Различаются ли между собой требования данных дорожных знаков?



1. Различаются тем, что синий знак устанавливается на дорогах вне населённых пунктов, а другой знак устанавливается только в населённых пунктах.
2. Различаются тем, что синий знак разрешает движение только велосипедов, а другой знак запрещает их движение.
3. Различаются тем, что синий знак разрешает движение на велосипедах и мопедах, а другой знак запрещает движение на велосипедах.

Прил. 1: 3.8, 4.12

5 Каким транспортным средствам разрешена стоянка?



1. Только легковому автомобилю.
2. Только мотоциклу.
3. Легковому автомобилю и мотоциклу.
4. Только грузовому автомобилю.
5. Всем транспортным средствам.

Прил. 1: 3.35, 7.5.1

6 В каких из перечисленных случаев разрешается пересекать сплошную линию дорожной разметки, разделяющую транспортные потоки противоположных направлений?



1. Для выполнения обгона на дорогах с двусторонним движением, имеющих по одной полосе для движения в каждом направлении.
2. Для объезда неподвижного препятствия, размеры которого не позволяют осуществить его безопасный объезд, не пересекая эту линию.

3. В случаях, указанных в ответах 1 и 2.


Прил. 2: 1.1

7 Что из перечисленных действий обязан выполнить водитель перед выездом с места постоянной стоянки и началом движения? Дайте полный ответ.

1. Подать сигнал световыми указателями поворота соответствующего направления.
2. Проверить и обеспечить технически исправное состояние и комплектность транспортного средства, правильность размещения и крепления груза.
3. Убедиться, что начало движения будет безопасным и он не создаст препятствий или опасности другим участникам движения.
4. Выполнить все перечисленные действия.

10.1; 9.2; 2.3 «А»


8 Каким транспортным средствам разрешается повернуть направо?



1. Красному и зелёному автомобилям.
2. Только красному автомобилю.
3. Всем транспортным средствам.

8.8 «Б»

9 Поворачивая налево или разворачиваясь при зелёном сигнале основного светофора, водитель нерельсового транспортного средства обязан уступить дорогу:



1. Только трамваю попутного направления.
2. Только транспортным средствам, движущимся во встречном направлении прямо или поворачивающим направо.
3. Транспортным средствам, указанным в ответах 1 и 2.

16.6

10 В каком из перечисленных случаев разрешается разворот от правого края проезжей части?

1. Только на регулируемом перекрёстке.
2. На нерегулируемом перекрёстке, если транспортное средство, совершающее разворот, находится на главной дороге.
3. Если ширина перекрёстка, габариты транспортного средства не позволяют выполнить этот манёвр из соответствующего крайнего положения на проезжей части и при обеспечении безопасности движения.

10.6


- 11** Механическое транспортное средство с неисправной рабочей тормозной системой разрешается буксировать: Дайте полный ответ.
1. На жёсткой сцепке.
 2. Способом его частичной погрузки.
 3. На жёсткой сцепке, если фактическая масса буксирующего транспортного средства будет как минимум вдвое превышать фактическую массу буксируемого, или способом его частичной погрузки.
 4. Любым способом, если за рулем буксируемого транспортного средства находится водитель.

23.4;
23.10 «А»

- 12** Разрешается ли движение пешеходов по дороге, обозначенной дорожным знаком «Автомостраль»?
1. Запрещается, за исключением пешеходных дорожек, мест стоянки и отдыха.
 2. Разрешается идти только вне населенных пунктов навстречу движению транспортных средств.
 3. Разрешается идти вне населенных пунктов по направлению движения транспортных средств.

27.4;
4.14 «Д»


- 13** На участке дороги, где установлен данный дорожный знак:



1. Разрешается разворот и поворот налево всем транспортным средствам.
2. Разрешается поворот налево всем транспортным средствам.
3. Разрешается разворот всем транспортным средствам, поворот налево запрещается.
4. Разрешается разворот и поворот налево только легковым автомобилям.

Прил. 1: 5.26

- 14** Вторым проедет перекрёсток:



1. Синий автомобиль.
2. Зелёный автомобиль.
3. Красный автомобиль.

16.11; 16.13

- 15** Ставить транспортные средства под углом к краю проезжей части:

1. Разрешается, но только легковые автомобили и мотоциклы.
2. Разрешается только в местах, обозначенных соответствующей дорожной разметкой.
3. Разрешается только в местах, где это не будет препятствовать движению других транспортных средств.
4. Разрешается в местах, указанных в ответах 2 и 3.

15.5

- 16** Имеют ли нерельсовые транспортные средства преимущество в движении перед трамваем, если сигнал регулировщика разрешает им движение одновременно?

1. Имеют, только если транспортное средство обозначено опознавательным знаком «Глухой водитель».
2. Имеют, только если транспортное средство обозначено опознавательным знаком «Дети».
3. Не имеют.
4. Имеют в случаях, указанных в ответах 1 и 2.

16.7

- 17** Дайте полный ответ: какая безопасная дистанция между транспортными средствами рекомендуется при движении в городских условиях?

1. При сухом состоянии покрытия проезжей части — из расчёта 0,5 м дистанции на 1 км/ч скорости движения.
2. При мокром или скользком состоянии покрытия проезжей части — из расчёта 1 м дистанции на 1 км/ч скорости движения.
3. Безопасная дистанция, указанная в ответах 1 и 2.

ОБД

- 18** Разрешается ли эксплуатировать автомобиль, если отсутствуют предусмотренные конструкцией транспортного средства зеркала заднего вида?

1. Разрешается, если имеется хотя бы одно зеркало.
2. Разрешается, если заднее стекло не закрыто шторками.
3. Запрещается.


31.4.7 «А»

- 19** При вынужденной остановке в тёмное время суток на неосвещённых участках дорог в случае неисправности габаритных или стояночных фонарей необходимо:

1. Убрать транспортное средство за пределы дороги, а если это невозможно, его необходимо обозначить в соответствии с требованиями Правил.
2. Включить ближний свет фар.
3. Принять правее и включить ближний свет фар.

19.4

- 20** Водитель какого транспортного средства должен уступить дорогу?



1. Водитель грузового автомобиля.
2. Водитель мотоцикла.

16.12

1 Если водитель движущегося впереди транспортного средства включил указатель поворота с левой стороны, то его:

1. Обгонять и опережать запрещено.
2. Можно обогнать, подав кратковременный звуковой сигнал.
3. Можно опередить с правой стороны, если это безопасно.


ОБД; 1.10

2 При движении на мотоцикле или мопеде должен ли водитель и его пассажиры быть в застёгнутом мотошлеме? Дайте полный ответ.

1. Должен быть в застёгнутом мотошлеме водитель мотоцикла и его пассажиры.
2. Должен быть в застёгнутом мотошлеме водитель мотоцикла.
3. Должен быть в застёгнутом мотошлеме водитель мопеда и его пассажиры.
4. Должны быть в застёгнутом мотошлеме водители мотоцикла, мопеда и их пассажиры.

2.3 «Г»


3 Данный дорожный знак предупреждает, что:



1. Впереди пересечение с круговым движением, на котором водителю предоставляется преимущество в движении.
2. Впереди участок дороги, на котором водитель имеет право на движение только в обратном направлении.
3. Впереди пересечение с круговым движением, на котором установлены знаки «Круговое движение».

Прил. 1: 1.19

4 Какая информация заложена в данной табличке с дорожным знаком?



1. Указывает дату (день, месяц и год), с которой начинает действовать дорожный знак.
2. Указывает дату, с которой заканчивает своё действие дорожный знак.
3. Указывает дату, с которой временно прекращает своё действие дорожный знак.

Прил. 1: 7.20

5 Как должен поступить водитель нерельсового транспортного средства, если перед перекрёстком, к которому он приближается, установлен данный дорожный знак?



1. Остановиться только в том случае, если по пересекаемой дороге движутся транспортные средства.
2. Остановиться, если он будет поворачивать налево.
3. Остановиться в любом случае и уступить дорогу транспортным средствам, движущимся по пересекаемой дороге.

Прил. 1: 2.2


6 Белая прерывистая линия разделяет транспортные потоки противоположных направлений. На данном участке дороги обгон:



1. Запрещён.
2. Разрешён.
3. Разрешён только вне населённого пункта.

Прил. 2: 1.5; 14.6 «Е»

7 Данный дорожный знак означает, что:



1. Впереди имеется перекрёсток, на котором движение прямо и направо запрещено.
2. Впереди участок дороги с односторонним движением. На ближайшем пересечении разрешается поворот налево.
3. Впереди на ближайшем пересечении только механическим транспортным средствам следует двигаться прямо или направо.
4. Впереди на ближайшем пересечении всем транспортным средствам, кроме маршрутных, разрешается движение только прямо или направо.

Прил. 1: 4.4

8 Следует ли остановить автомобиль перед пешеходным переходом, на котором находятся пешеходы?

1. Следует остановить, только если переходят дорогу два и более человек.
2. Следует остановить, только если пешеходный переход регулируемый, и для водителя включён запрещающий сигнал.
3. Следует остановить, только если пешеходный переход находится в населённом пункте.
4. Следует остановить во всех перечисленных случаях.

8.7.3 «Е»; 4.9

9 Какое количество пассажиров разрешается перевозить на транспортном средстве, оборудованном местами для сидения?

1. До 2 человек.
2. На усмотрение водителя.
3. Количество перевозимых пассажиров должно соответствовать технической характеристике транспортного средства.


21.1

10 На территории двора траектории движения транспортных средств пересекаются. Кто должен уступить дорогу?

1. Водитель, к которому транспортное средство приближается по более узкой полосе движения.
2. Водитель легкового автомобиля — водителю грузового автомобиля, перевозящего молоко.
3. Водитель мотоцикла — водителю легкового автомобиля.
4. Водитель, к которому транспортное средство приближается справа.

10.11

11 Разрешается ли водителю красного автомобиля двигаться по трамвайным путям?



1. Запрещается.
2. Разрешается.

11.8

12 Разрешается ли остановить транспортное средство на обочине автомагистрали?

1. Разрешается, если движение на автомагистрали в настоящий момент не интенсивное.
2. Разрешается в случае вынужденной остановки.
3. Разрешается в случаях, указанных в ответах 1 и 2.


27.5

13 Движущийся впереди Вас автомобиль начал увеличивать скорость. Какую дистанцию Вы должны соблюдать?

1. Дистанция должна быть безопасной.
2. Дистанция должна быть увеличена в два раза.
3. Дистанция должна остаться неизменной.

13.1

14 Разрешается ли водителю жёлтого автомобиля выполнить обгон?



1. Запрещается.
2. Разрешается.
3. Разрешается в светлое время суток.


14.6 «А»

15 Какие транспортные средства допускается ставить на стоянку в два ряда на проезжей части?

1. Легковые автомобили, обозначенные опознавательным знаком «Инвалид».
2. Грузовые автомобили с разрешённой максимальной массой менее 3,5 т, обслуживающие торговые и другие предприятия, расположенные непосредственно у тротуаров.
3. Мотоциклы с боковым прицепом.
4. Мотоциклы без бокового прицепа, мопеды и велосипеды.

15.4

16 Первым проедет перекрёсток:



1. Зелёный автомобиль.
2. Синий автомобиль.
3. Красный автомобиль.
4. Жёлтый автомобиль.

16.12; 16.13

17 Какие правила торможения автопоезда должен соблюдать водитель?

1. Заблаговременно снизить скорость, тормозить плавно, не выключая сцепление.
2. Тормозить резким прерывистым нажатием на педаль тормоза, выключив при этом сцепление.

ОБД

18 При каких из перечисленных условий запрещается эксплуатация транспортных средств? Дайте полный ответ.

1. Не работает устройство для обдува и обогрева стекла.
2. На одну ось транспортного средства установлены шины различных моделей с разными рисунками протектора для легковых автомобилей.
3. При условиях, указанных в ответах 1 и 2.


31.4.5 «Г»;
31.4.7 «Г»

19 Водители каких транспортных средств могут пользоваться фарой-прожектором?

1. Водители всех транспортных средств при выполнении служебных заданий, приняв меры к тому, чтобы не ослеплять других водителей.
2. Водители оперативных транспортных средств во время выполнения служебных заданий, приняв меры к тому, чтобы не ослеплять других участников дорожного движения.

19.6


20 Водитель какого транспортного средства должен уступить дорогу?



1. Водитель мотоцикла.
2. Водитель автобуса.

16.12

1 Водитель какого транспортного средства выполняет обгон? На рисунке слева дорога с односторонним движением.



1. Водители зелёного и синего автомобилей выполняют опережение, а не обгон.
2. Водитель зеленого автомобиля.
3. Водитель синего автомобиля.
4. Оба водителя выполняют обгон.

1.10

2 Разрешается ли пешеходам переходить проезжую часть вне пешеходного перехода при наличии разделительной полосы на дороге?

1. Запрещается.
2. Разрешается в местах, где дорога просматривается в обе стороны.
3. Разрешается только вне населённых пунктов.
4. Разрешается только в населённых пунктах.

4.14 «Г»

3 Данный дорожный знак означает, что:



1. Впереди участок дороги, на котором находится пешеходная дорожка.
2. Впереди имеется путепровод с пешеходной дорожкой.
3. Впереди участок дороги, на проезжей части которого в опасной близости от движущихся транспортных средств находятся люди.
4. Впереди участок дороги, на котором запрещено движение пешеходов.
5. Информация, заложенная в ответах 2 и 4.

Прил. 1: 3.9


4 Данные дорожный знак и табличка, по Правилам дорожного движения, запрещают остановку транспортных средств:



1. Только кроме водителей-инвалидов, управляющих мотоциклом или автомобилем, обозначенным опознавательным знаком «Инвалид».
2. Только кроме водителей такси, осуществляющих посадку или высадку пассажиров (выгрузку или погрузку груза).
3. Запрещаются остановка и стоянка водителям всех транспортных средств, в том числе и водителям-инвалидам.
4. Запрещается остановка транспортных средств, кроме тех, что указаны в ответах 1 и 2.

Прил. 1: 3.34, 7.18; 2.8

5 В каком направлении из числа обозначенных на рисунке разрешено движение?



1. Прямо и направо.
2. Только прямо.
3. Только направо.
4. Только налево.

Прил. 1: 3.21

6 Что означает данная дорожная разметка?



1. Указывает расстояние до ближайшего населенного пункта.
2. Указывает расстояние до ближайшего поста ГАИ.
3. Дублирует «Километровый знак».
4. Указывает номер дороги (маршрута).

Прил. 2: 1.23

7 Данный дорожный знак:



1. Разрешает движение только в направлении, указанном стрелками.
2. Если он установлен перед въездом на площадь, даёт право на первоочередное движение транспортным средствам, движущимся по ней.
3. Соответствует требованиям, указанным в обоих ответах.

Прил. 1: 4.10

8 Разрешено ли движение красному автомобилю?



1. Разрешено вместе с микроавтобусом.
2. Запрещено.
3. Разрешено.

8.8 «А»

9 Запрещается ли перевозка детей на переднем сиденье легкового автомобиля?

1. Запрещается перевозить детей ростом менее 145 см или не достигших 12-летнего возраста при отсутствии специального средства, дающего возможность пристегнуть ребёнка с помощью ремней безопасности.
2. Разрешается независимо от возраста при наличии взрослого пассажира.
3. Разрешается перевозка детей в возрасте не моложе 10 лет.

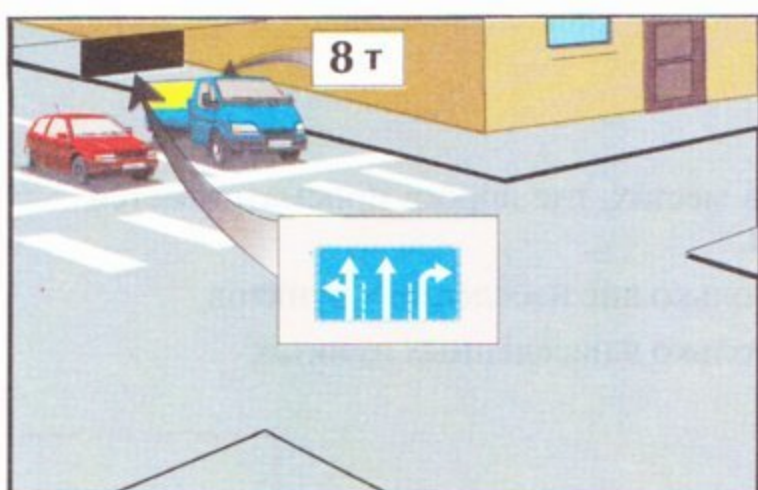
21.11 «Б»

10 Дайте полный ответ, где запрещается разворот:

1. В туннелях.
2. На железнодорожных переездах.
3. На мостах, путепроводах, эстакадах и под ними.
4. На пешеходных переходах и ближе 10 м от них с обеих сторон, кроме случая разрешенного разворота на перекрестке.
5. Во всех перечисленных местах.

10.7

11 Кто из водителей правильно занял полосу для движения прямо?



1. Оба водителя.
2. Водитель синего автомобиля.
3. Водитель красного автомобиля.

11.6


12 Автомобили проедут перекрёсток в следующем порядке:



1. Красный автомобиль выедет на перекрёсток и остановится, чтобы уступить дорогу синему; зелёный; синий; красный заканчивает разворот.
2. Красный, синий, зелёный.
3. Синий, зелёный, красный.

16.12; 16.13

13 Данная дорожная разметка:



1. Обозначает начало пункта остановки маршрутных транспортных средств.
2. Предупреждает о неровностях на дороге.
3. Предупреждает о приближении к месту, где установлено устройство принудительного снижения скорости движения.


Прил.2: 1.22

14 Разрешается ли обогнать колонну транспортных средств, позади которой движется транспортное средство с включённым проблесковым маячком синего и зелёного цвета?

1. Запрещается.
2. Разрешается.
3. Разрешается только в светлое время суток.
4. Запрещается только в условиях недостаточной видимости.

14.6 «Е»

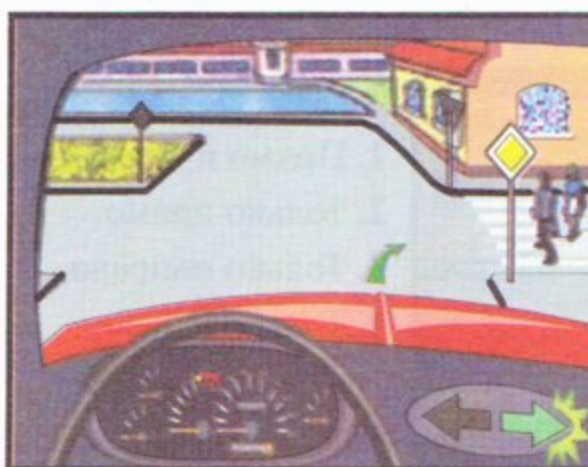
15 Водители каких транспортных средств не нарушили правила стоянки в населённом пункте?



1. Водитель грузового автомобиля.
2. Водитель легкового автомобиля.
3. Оба водителя нарушили.

15.3

16 Как Вы должны поступить в данной ситуации?



1. Подать звуковой сигнал для предотвращения дорожно-транспортного происшествия и, не уступая дорогу пешеходам, проехать переход, так как Вы находитесь на главной дороге.
2. Уступить дорогу пешеходам, заканчивающим переход проезжей части соответствующего направления движения.

16.2

17 Чем угрожает безопасности движения резкое открытие дроссельной заслонки карбюратора при движении на скользкой дороге?

1. Может возникнуть боковой занос автомобиля.
2. Двигатель заглохнет.
3. Двигатель превысит максимальную частоту вращения коленчатого вала.
4. Значительно возрастет расход топлива.

ОБД

18 Если группа детей в сопровождении взрослых лиц переходит проезжую часть дороги, то водители транспортных средств должны:

1. Уступить дорогу детям.
2. Уступить дорогу детям лишь в том случае, если для них включён разрешающий сигнал светофора.
3. Уступить дорогу детям лишь в том случае, если регулировщик поднял руку вверх.
4. Выполнить действия, указанные в ответах 1 и 3.


18.7

19 Как должен поступить водитель, если в тёмное время суток на неосвещённых участках дорог на автомобиле не включается ближний свет левой фары?

1. Продолжить движение, включив противотуманные фары.
2. Продолжить движение, включив габаритные фонари.
3. Принять меры к устранению неисправности, а если это сделать невозможно, — двигаться как можно более коротким путём к месту стоянки или ремонта, соблюдая меры предосторожности.

19.5; 31.5

20 Жёлтый автомобиль проедет перекрёсток:



1. Последним.
2. Третьим.
3. Вторым.
4. Первым.

16.11; 3.2

	1	2	3	4	5	6	7	8	9	10	11	12	13	14	15	16	17	18	19	20	
1	2	3	2	3	2	1	4	1	3	1	5	2	3	2	3	1	4	1	1	2	1
2	2	2	2	4	2	1	3	1	1	2	2	3	1	2	1	2	3	2	3	2	2
3	3	3	4	2	3	2	3	1	4	4	3	2	4	1	3	2	2	4	4	2	3
4	1	4	2	1	3	2	1	1	3	2	3	1	4	1	1	4	2	3	4	3	4
5	3	2	2	3	2	4	4	4	2	2	1	1	2	1	3	2	1	4	3	2	5
6	2	2	2	2	1	4	1	2	3	4	2	1	2	2	1	2	2	1	1	3	6
7	2	3	2	4	1	3	1	3	1	4	1	2	1	4	1	2	2	1	1	1	7
8	2	1	3	4	1	2	1	1	2	1	1	2	3	5	2	2	3	2	3	2	8
9	3	3	2	4	4	1	3	1	1	2	2	3	2	1	2	4	1	2	4	3	9
10	3	1	1	2	2	1	3	2	1	3	1	3	3	3	4	3	3	2	3	2	10
11	3	2	2	3	3	4	3	4	3	1	2	4	3	2	5	3	4	2	1	1	11
12	2	3	3	2	1	3	2	4	4	2	1	3	4	3	2	1	3	3	3	3	12
13	2	3	1	3	2	2	5	1	4	3	4	3	2	5	3	3	1	2	1	4	13
14	4	3	5	5	2	2	2	3	2	1	4	3	1	2	1	1	1	3	2	5	14
15	2	1	2	3	3	4	2	2	2	1	3	3	3	5	4	1	3	1	1	1	15
16	3	3	2	4	2	2	3	3	1	1	1	4	2	3	4	3	1	3	2	1	16
17	2	3	3	2	1	5	1	1	2	2	2	3	4	1	1	2	2	1	3	3	17
18	1	3	1	5	2	1	5	3	3	3	3	1	1	4	2	2	2	3	2	2	18
19	1	1	3	1	2	2	1	2	1	3	1	3	5	1	3	2	2	1	1	1	19
20	4	4	1	4	4	1	2	2	2	2	2	2	2	5	4	1	3	1	1	2	20
21	1	3	1	1	3	3	1	2	3	1	1	3	3	3	2	4	2	1	2	1	21
22	3	4	1	1	2	1	1	2	4	3	3	2	2	2	4	3	1	1	2	1	22
23	1	2	2	3	2	3	1	3	3	3	2	1	2	4	3	1	2	1	3	3	23
24	4	4	1	4	5	1	1	2	2	1	3	1	3	4	1	3	1	3	2	3	24
25	3	2	4	1	4	3	2	1	2	2	4	3	3	4	2	1	1	2	3	4	25
26	3	5	2	5	1	2	3	3	5	1	5	2	1	3	1	1	2	2	1	4	26
27	3	3	2	2	2	1	3	2	3	3	1	1	2	5	2	2	4	2	4	3	27
28	2	1	1	5	2	1	3	1	4	3	4	2	2	1	3	1	2	3	3	2	28
29	4	2	1	4	5	1	2	1	2	2	2	3	4	4	4	1	3	4	4	3	29
30	1	3	1	5	3	3	4	2	3	1	1	2	4	1	1	1	2	4	3	2	30
31	2	4	2	5	5	3	3	1	2	1	2	2	3	2	4	1	3	3	3	2	31
	1	2	3	4	5	6	7	8	9	10	11	12	13	14	15	16	17	18	19	20	

АВ

№ ЗАДАНИЯ

АВ

№ БИЛЕТА

	1	2	3	4	5	6	7	8	9	10	11	12	13	14	15	16	17	18	19	20	
32	5	1	2	1	2	3	4	1	2	1	3	1	2	4	3	1	2	1	2	3	32
33	2	4	1	4	1	1	3	1	2	1	2	2	4	1	3	2	1	2	4	3	33
34	2	1	4	3	3	1	2	1	5	2	2	1	3	2	3	1	2	1	2	4	34
35	2	2	1	3	4	1	4	5	3	4	1	3	2	1	2	2	1	1	3	2	35
36	2	3	3	1	2	3	2	4	3	1	3	1	1	1	1	2	1	2	1	2	36
37	2	4	1	1	1	3	5	3	4	4	1	1	2	3	3	2	2	4	2	1	37
38	3	2	3	2	2	1	1	3	2	1	1	4	2	2	3	2	4	1	3	2	38
39	2	2	1	3	4	1	2	3	4	2	3	3	3	2	1	1	1	3	3	1	39
40	1	3	2	4	2	3	3	2	1	2	3	1	2	2	1	1	2	1	2	1	40
41	2	1	1	2	2	3	1	3	1	3	2	2	2	4	2	1	1	2	2	1	41
42	3	2	5	5	1	2	2	3	2	1	4	5	1	1	1	2	4	3	4	4	42
43	1	1	5	3	2	1	2	2	3	5	2	2	1	1	1	1	2	1	4	4	43
44	2	4	3	4	5	2	5	2	3	2	2	1	3	4	3	2	1	2	2	3	44
45	5	3	3	1	1	3	3	2	4	4	2	1	2	1	2	3	3	2	2	2	45
46	2	3	4	5	4	3	2	4	1	4	3	2	3	1	1	3	1	2	3	1	46
47	1	3	2	4	4	2	2	2	2	4	1	2	2	3	3	3	2	1	3	2	47
48	2	1	2	1	1	2	3	1	1	3	2	3	2	3	1	3	2	5	1	4	48
49	2	1	3	3	1	1	2	3	4	1	3	3	1	3	2	3	2	2	3	3	49
50	2	3	1	2	1	1	3	1	3	1	3	4	4	3	3	2	1	3	1	2	50
51	1	2	4	5	5	1	4	4	2	3	1	3	1	3	4	3	4	1	3	4	51
52	2	1	3	5	1	3	2	4	3	3	4	1	3	4	1	1	2	1	4	1	52
53	3	2	1	1	2	2	2	1	2	3	3	3	3	3	1	2	1	1	1	3	53
54	1	2	3	2	3	4	1	2	4	5	4	3	3	2	1	1	2	2	2	3	54
55	3	3	1	5	3	2	2	3	3	2	4	5	2	2	1	3	2	3	3	1	55
56	1	2	1	2	3	2	2	2	4	4	1	3	3	3	4	1	4	2	2	1	56
57	1	2	1	3	3	4	2	2	2	3	1	2	3	2	4	3	1	2	3	2	57
58	4	3	3	2	3	4	2	5	3	2	3	3	3	2	2	3	1	3	3	2	58
59	2	4	2	5	1	1	2	3	3	3	4	3	2	1	3	4	1	2	2	1	59
60	2	3	2	3	5	2	3	2	2	5	3	1	2	3	2	1	1	3	3	3	60
61	2	2	2	5	4	2	3	4	1	2	2	3	3	5	3	2	2	1	2	2	61
62	4	1	2	2	5	2	3	2	5	3	1	3	1	5	2	3	3	2	1	2	62
	1	2	3	4	5	6	7	8	9	10	11	12	13	14	15	16	17	18	19	20	

№ БИЛЕТА

	1	2	3	4	5	6	7	8	9	10	11	12	13	14	15	16	17	18	19	20	
63	4	1	4	5	3	1	4	1	3	2	3	3	4	3	2	2	4	1	3	3	63
64	2	2	2	5	5	4	4	2	1	2	2	2	3	3	3	2	1	3	1	3	64
65	1	4	1	1	1	2	1	2	1	3	4	4	2	3	5	2	2	1	4	3	65
66	2	4	4	4	4	2	3	1	2	5	2	3	1	1	1	1	3	3	1	2	66
67	2	2	3	1	2	3	5	2	2	3	2	1	4	2	2	1	2	1	1	3	67
68	1	2	1	2	4	4	1	4	1	2	2	4	2	1	1	2	2	1	3	1	68
69	3	2	1	2	1	2	2	3	1	3	1	2	2	2	2	1	3	3	1	2	69
70	1	2	1	1	3	2	1	5	4	1	1	2	1	3	4	1	1	2	4	2	70
71	2	1	1	1	2	1	3	4	3	4	2	3	1	3	3	1	2	2	4	3	71
72	2	5	3	5	1	4	3	4	3	4	1	4	3	3	1	3	1	1	3	3	72
73	2	3	4	5	1	1	5	1	2	2	3	1	3	2	4	2	3	1	3	2	73
74	1	4	2	2	2	5	2	2	1	1	1	1	1	3	3	1	1	4	3	2	74
75	3	1	2	4	2	4	3	2	2	2	4	1	3	2	3	1	3	2	1	2	75
76	2	4	3	1	4	3	3	3	3	3	1	4	2	3	5	1	3	2	4	1	76
77	2	3	3	2	2	3	5	2	3	1	4	1	3	2	2	1	1	1	4	1	77
78	3	1	4	3	3	2	4	1	3	3	3	1	3	3	4	3	3	3	1	1	78
79	3	4	3	1	3	2	4	4	3	4	2	2	1	1	4	1	1	3	2	2	79
80	3	1	4	4	4	4	1	3	1	5	3	1	3	1	1	2	1	1	3	1	80
	1	2	3	4	5	6	7	8	9	10	11	12	13	14	15	16	17	18	19	20	

Навчальне видання

ПБДР — Екзаменаційні білети
14-те видання
(окремий розділ НМП «Я — водій»)

АВ

Автори:

**Гусаров Сергій Миколайович,
Астапкович Володимир Іванович,
Будник Сергій Іванович,
Демянко Олександр Миколайович,
Берізко Микола Михайлович,
Колчинський Юрій Йосипович**

Шеф-редактор: Ю.Й. Колчинський
Редактор, перекладач: Є.В. Ходун
Дизайн, комп'ютерна верстка: К.С. Нілов, В.Ю. Колчинський

Підписано до друку 20.05.2013р. Формат 60x84/8. Папір офсетний.
Ум. друк. арк.23. Друк офсетний. Тираж 6000 пр. Зам. № 32

НВП «Світлофор»,
вул. Лермонтовська, 12, м. Харків, 61024, Україна
Телефон/факс: (057) 758-58-52, 758-58-53, 754-35-55
www.svetofor.net.ua
E-mail: svetofor@3g.ua

Свідоцтво суб'єкта видавничої справи
ДК № 1257 від 06.03.2003 р.

Напечатано в типографії
ФОП Наумов О.В.

НАУЧНО-ПРОИЗВОДСТВЕННОЕ ПРЕДПРИЯТИЕ

«СВЕТОФОР»

ПРЕДЛАГАЕТ НОВЫЕ ИЗДАНИЯ
на украинском и русском языках:

«ЗНАЕТЕ ЛИ ВЫ ПРАВИЛА ДОРОЖНОГО ДВИЖЕНИЯ?»

Тематические задания для изучения «Правил дорожного движения Украины». Иллюстрированное учебно-методическое пособие в виде тестов.

«ПБДД – ЭКЗАМЕНАЦИОННЫЕ БИЛЕТЫ»

Полиграфическая и электронная версии. Официальное издание. Билеты предназначены для сдачи теоретического экзамена на право управления транспортными средствами.

«Я – ВОДИТЕЛЬ»

Учебно-методическое пособие содержит «Правила дорожного движения Украины», «ПБДД – Экзаменационные билеты» и много другой информации.

«ПРАВИЛА ДОРОЖНОГО ДВИЖЕНИЯ УКРАИНЫ»

Официальное издание. Правилами регламентирован порядок дорожного движения на территории Украины с учетом государственных стандартов и других нормативных актов.

«КОММЕНТАРИИ К ПРАВИЛАМ ДОРОЖНОГО ДВИЖЕНИЯ УКРАИНЫ»

В книге приводятся разъяснения требований «Правил дорожного движения Украины».

«ПРАВИЛА ДОРОЖНОГО ДВИЖЕНИЯ УКРАИНЫ»

Комплект из 29 цветных плакатов формата 61x81 см на картоне.

«ОКАЗАНИЕ ПЕРВОЙ МЕДИЦИНСКОЙ ПОМОЩИ УЧАСТНИКАМ ДОРОЖНОГО ДВИЖЕНИЯ»

Комплект из 28 цветных плакатов формата 61x81 см на картоне и методическое пособие.

«КУЛЬТУРНЫЙ ВОДИТЕЛЬ? ФАНТАСТИКА!»

Литературно-художественное издание о культуре управления транспортным средством и взаимоотношениях участников дорожного движения.



Колчянский
Юрий Иосифович,
директор
НПП «Светофор»,
преподаватель-методист
высшей категории

УВАЖАЕМЫЕ УЧАСТНИКИ ДОРОЖНОГО ДВИЖЕНИЯ!

Литература по Правилам и безопасности дорожного движения, разработанная и изданная в НПП «Светофор», полностью соответствует нормативной базе Украины и поэтому является официальной. В ней применены методики, позволяющие быстро разобраться по существу вопроса.

В НПП «Светофор» Вы можете получить ответы на самые сложные вопросы по данной теме.

Наши учебные пособия помогут Вам стать грамотным участником дорожного движения.

Публикации на нашем интернет-сайте всегда посвящены наиболее актуальным проблемам безопасности дорожного движения.

**ЖЕЛАЕМ ВАМ БЕЗАВАРИЙНОГО И ПРИЯТНОГО
ДВИЖЕНИЯ!**

НАШ АДРЕС:

ул. Лермонтовская, 12,
г. Харьков, 61024, Украина
тел.: (057) 758-58-52, 758-58-53, 754-35-55
e-mail: svetofor@3g.ua
www.svetofor.net.ua



Образец голограммы НПП «Светофор»

АВ

ВНИМАНИЕ!

НПП «Светофор» несёт ответственность за качество и правильность только тех книг, на обложках которых имеется голограмма НПП «Светофор». Книга без такой голограммы считается контрафактной, а её реализатор несёт ответственность за нарушение Закона Украины «Об авторском праве и смежных правах».

Воспроизведение либо тиражирование настоящего пособия в целом или его частей категорически запрещено. Нарушение авторских прав преследуется Законом Украины

ISBN 978-966-7877-53-8



НПП «Светофор»
г. Харьков

НПП «Светофор»
ул. Лермонтовская, 12
г. Харьков, 61024, Украина
тел./факс: (057) 758-58-52
тел./факс: (057) 758-58-53
тел./факс: (057) 754-35-55
www.svetofor.net.ua
e-mail: svetofor@3g.ua